

الرياضيات

كتاب الطالب

تطرح سلسلة الرياضيات مواقف حياتية يومية، وتؤمن فرص تعلم كثيرة. فهي تعزز المهارات الأساسية، والحس العددي، وحل المسائل، والجهوية لدراسة الجبر، والهندسة، وتنمي مهارتي التعبير الشفهي والكتابي ومهارات التفكير في الرياضيات. وهي تتكامل مع المواد الدراسية الأخرى فتكون جزءاً من ثقافة شاملة متماسكة تحفز الطلاب على اختلاف قدراتهم وتشجعهم على حب المعرفة.

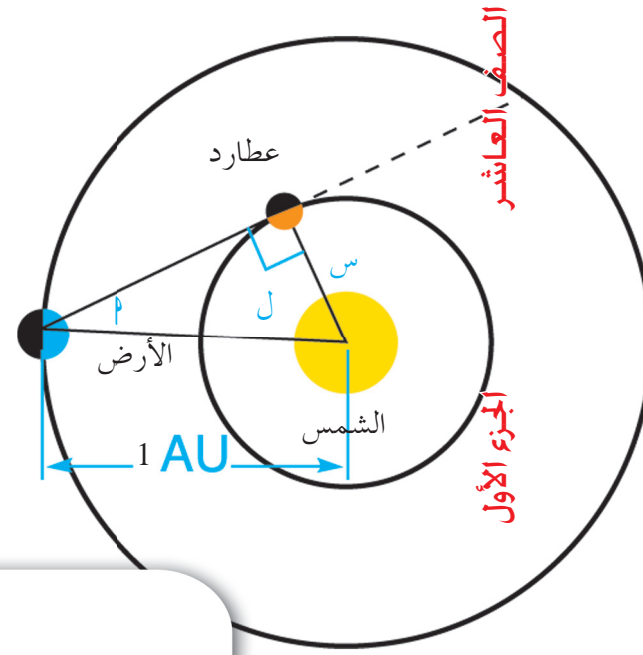
تتكون السلسلة من:

- كتاب الطالب
- كتاب المعلم
- كراسة التمارين
- كراسة التمارين مع الإجابات

كتاب الطالب

الصف العاشر  
الفصل الدراسي الأول

# الرياضيات



الطبعة الأولى

PEARSON  
Scott  
Foresman

مركز  
البحوث  
التربوية

# الرياضيات

الصفّ العاشر  
الفصل الدراسي الأول

## كتاب الطالب

اللجنة الإشرافية لدراسة ومواءمة سلسلة كتب الرياضيات

الطبعة الأولى

١٤٣٣ - ١٤٣٢ هـ

٢٠١٢ - ٢٠١١ م

## فريق عمل دراسة ومواءمة كتب الرياضيات للصف العاشر

دار التربيّون House of Education ش.م.م.م. وبيرسون إديوكيشن ٢٠١١

© جميع الحقوق محفوظة : لا يجوز نشر أيّ جزء من هذا الكتاب أو تصويره أو تخزينه أو تسجيله بأيّ وسيلة دون مُوافقة خطّيّة من الناشر.

الطبعة الأولى ٢٠١١



صاحب السمو الشيخ صباح الأحمد الجابر الصباح  
أمير دولة الكويت





سُيُومُ الشَّيْخِ نَوَافِ بْنِ أَحْمَدَ بْنِ جَابِرِ بْنِ الصَّبَّاحِ

وَلِيِّ عَهْدِ دَوْلَةِ الْكُوَيْتِ



# مقدمة

في ضوء ما شهدته السنوات الأخيرة من طفرة هائلة في المستحدثات التكنولوجية المرتبطة بمجال التعليم، كان على منظومة التعليم بمستوياتها وعناصرها المختلفة بدولة الكويت أن تتأثر بهذا التطور، فحرصت وزارة التربية على تطوير مناهج العلوم والرياضيات لتصبح قادرة على استيعاب المتغيرات التربوية والعلمية الحديثة.

ولما كان من الضروري أن يعايش المتعلم المعلومات المتدفقة من مصادر تعز عن الحصر، وأن يستعد لأداء دور فاعل في أي موقع من مواقع العمل الوطني، ويصنع مع أقرانه حياة الأمن والعزة والنماء، فيتحقق للوطن المكانة التي يريها بين دول العالم.

وكان على النظم التعليمية أن تعيد النظر في المناهج لإعداد الأبناء بالكفايات اللازمة والمهارات المتنوعة المستجيبة لكل تغيير في هذه الحياة.

عندئذ كفل المنهج الجديد تغيير دور المتعلم نتيجة لهذه المستحدثات، ليخرج من حيز المتلقي إلى دائرة المتفاعل الناشط، والمشارك في المواقف التعليمية، عندما يبحث ويقارن ويستنبط ويتعامل بنفسه مع المواد التعليمية، حتى يسهم في تحقيق الاكتفاء الذاتي لوطنه اقتصادياً واجتماعياً وثقافياً، وسد حاجاته من العمالة الوطنية في مختلف المجالات.

لقد أتاح المنهج الجديد للعلوم والرياضيات للمتعلم الارتباط بالبيئة من خلال طبيعة الأنشطة التعليمية، واكتساب الطلاب مهارات التعلم الذاتي وغرس حب المعرفة وخصيلها استجابة لأهداف المنهج الرئيسية.

ولقد انتظم التغيير أهداف المنهج ومحتواه وأنشطته، وطرائق عرضها وتقديمها وأساليب تقويمها، ضمن مشروع التطوير.



وكان اختيار هذه السلسلة من المناهج بصورة تتماشى مع الاتجاهات التربوية الحديثة في التعليم والتعلم، وتراعي المعايير الدولية في تعليم العلوم والرياضيات. وإذا كانت هذه السلسلة لم تغفل دور ولي الأمر في عملية التعليم، فإنها ركزت على دور المعلم، حيث يسهّل عملية التعليم، لطلابه ويصمم بيئة التعليم، ويشخص مستويات طلابه، ويسرّ لهم صعوبات المادة العلمية، فتزداد معايير الجودة التعليمية. والآن نطرح بين أيديكم هذه المجموعة من كتب العلوم والرياضيات الجديدة التي تتضمن كتاباً للمتعلم وآخر للمعلم، وكراسة للأنشطة، من إعداد ذوي الكفايات العالمية والخبرات المتطورة، أملاً في الوصول إلى الغايات المرجوة من أقرب طريق إن شاء الله.

الوكيل المساعد لقطاع البحوث التربوية والمناهج

**أ. مريم محمد الوتيد**

# المحتويات

## الوحدة الأولى: الأعداد والعمليات عليها

|    |  |
|----|--|
| ١٠ |  |
| ١٢ | ١ - ١ خواص نظام الأعداد الحقيقية .....                 |
| ١٨ | ٢ - ١ استخدام الآلة الحاسبة .....                      |
| ٢١ | ٣ - ١ تقدير الجذر التربيعي .....                       |
| ٢٥ | ٤ - ١ حل المتباينات .....                              |
| ٣١ | ٥ - ١ القيمة المطلقة .....                             |
| ٣٨ | ٦ - ١ دالة القيمة المطلقة .....                        |
| ٤٤ | ٧ - ١ المستقيمات المتوازية والمتعامدة .....            |
| ٤٩ | ٨ - ١ حل نظام معادلتين خطيتين .....                    |
| ٥٤ | ٩ - ١ حل معادلات من الدرجة الثانية في متغير واحد ..... |

## الوحدة الثانية: وحدة حساب المثلثات

|     |   |
|-----|---|
| ٧٠  |   |
| ٧٢  | ١ - ٢ الزوايا وقياساتها .....                             |
| ٨٠  | ٢ - ٢ النسبة المثلثية: الجيب وجيب التمام ومقلوباهما ..... |
| ٨٦  | ٣ - ٢ ظل الزاوية ومقلوبه .....                            |
| ٩١  | ٤ - ٢ النسبة المثلثية لبعض الزوايا الخاصة .....           |
| ٩٥  | ٥ - ٢ حل المثلث قائم الزاوية .....                        |
| ٩٨  | ٦ - ٢ زوايا الارتفاع والانخفاض .....                      |
| ١٠١ | ٧ - ٢ القطاع الدائري والقطعة الدائرية .....               |

## الوحدة الثالثة: الهندسة المستوية

|     |  |
|-----|--|
| ١١٠ |  |
| ١١٢ | ١ - ٣ طرائق البرهان الهندسي .....                                  |
| ١١٨ | ٢ - ٣ المضلعات المتشابهة .....                                     |
| ١٢٤ | ٣ - ٣ تشابه المثلثات .....   |
| ١٣٢ | ٤ - ٣ التشابه في المثلثات قائمة الزاوية .....                      |
| ١٣٦ | ٥ - ٣ التناسب والمثلثات المتشابهة .....                            |
| ١٤٢ | ٦ - ٣ العلاقة بين محيطي شكلين متشابهين والعلاقة بين مساحتهما ..... |

## الوحدة الرابعة: الجبر

|     |                             |
|-----|-----------------------------|
| ١٤٨ |                             |
| ١٥٠ | ١ - ٤ النسبة والتناسب ..... |
| ١٦٠ | ٢ - ٤ التغير الطردي .....   |
| ١٦٨ | ٣ - ٤ التغير العكسي .....   |

## الوحدة الخامسة: المتاليات

|     |                                 |
|-----|---------------------------------|
| ١٧٦ |                                 |
| ١٧٨ | ١ - ٥ المتاليات .....           |
| ١٨٤ | ٢ - ٥ المتاليّة الحسابيّة ..... |
| ١٩٢ | ٣ - ٥ المتاليّة الهندسيّة ..... |

## الأعداد والعمليات عليها Numbers and Operations

### مشروع الوحدة: شراء الأسهم

- ١ **مقدمة المشروع:** أثناء العمل على هذا المشروع سوف تجمع بيانات عن إحدى الشركات. وتستخدم الصيغ لتحليل البيانات. ثم عليك أن تقرر كيفية تنظيم النتائج وعرضها باستخدام الرسوم البيانية وجداول البرمجة.
- ٢ **الهدف:** فهم كيف يدرس المحللون الاقتصاديون حركة الأسهم المالية لتحديد أي أسهم يشترون.
- ٣ **اللوازم:** آلة حاسبة - صحيفة محلية - أوراق رسم بياني.

### ٤ أسئلة حول التطبيق:

- أ اختر شركة للبحث. اجمع المعلومات حول المنتجات التي تبيعها الشركة أو الاستشارات التي تقدمها، وتاريخ الشركة والممارسات الإدارية.
- ب اطلع على صفحة الأوراق المالية في الصحيفة. اختر أحد الأسهم المتداولة في الأسواق المالية.

ما كان سعر الإغلاق لهذا السهم؟

ما كان أعلى سعر لهذا السهم خلال العام الماضي؟

أنشئ جدولاً يعرض أعلى سعر وأدنى سعر للسهم الواحد لعدة أيام.

- ج افترض أن لديك ٥٠٠٠ دينار استثمرتها في الأسهم المالية التي اخترتها. يشمل سعر الشراء ثمن السهم زائد ٩٥, ٩٥ دنانير كرسوم في ختام هذا المشروع، بعت الأسهم الخاصة بك. هل حققت ربحاً أم تكبدت خسارة؟ اشرح.

- ٥ **التقرير:** ضع تقريراً مفصلاً تبين فيه كيف استفدت من خواص نظام الأعداد الحقيقية لتنفيذ المشروع وللإجابة عن الأسئلة.

### دروس الوحدة


| القيمة المطلقة                             | حل المتباينات           | تقدير الجذر التربيعي    | استخدام الآلة الحاسبة           | خواص نظام الأعداد الحقيقية |
|--|-------------------------|-------------------------|---------------------------------|----------------------------|
| ٥-١  | ٤-١                     | ٣-١                     | ٢-١                             | ١-١                        |
| حل معادلات من الدرجة الثانية في متغير واحد | حل نظام معادلتين خطيتين | حل نظام معادلتين خطيتين | المستقيمات المتوازية والمتعامدة | دالة القيمة المطلقة        |
| ٩-١  | ٨-١                     | ٧-١                     | ٦-١                             | ٥-١                        |

# الوحدة الأولى

## أين أنت الآن (المعارف السابقة المكتسبة)

### أضف إلى معلوماتك

يعتمد الغرب الأرقام 0، 1، 2، 3، 4، 5، 6، 7، 8، 9، في كتابة الأعداد وهي تدعى «الأرقام العربية». يرتبط كل رقم منها بعدد من الزوايا. يبين الرسم أدناه هذه العلاقة.



- تعرفت الأعداد النسبية والأعداد غير النسبية.
- قارنت الأعداد الحقيقية ورتبتها.
- تعرفت القيمة المطلقة.
- استخدمت الأسس للتعبير عن الأعداد الكبيرة والصغيرة.
- تعرفت الجذور التربيعية.
- مثلت الفترات على خط الأعداد.

## ماذا سوف تتعلم؟

- سوف تتعرف خاصية الكثافة والترتيب والفترات.
- سوف تحل متباينات مستخدمًا الجمع والطرح والضرب والقسمة.
- سوف تحل معادلات ومتباينات تتضمن قيمًا مطلقة.
- سوف ترسم بيانًا دوال القيمة المطلقة.
- سوف تتعرف على خصائص المستقيمت المتوازية والمتعامدة.
- سوف تحل أنظمة معادلات خطية.
- سوف تحل معادلات من الدرجة الثانية في متغير واحد.

## المصطلحات الأساسية

الأعداد النسبية - الأعداد غير النسبية - الخاصية الإبدالية - خاصية التجميع - خاصية التوزيع - المحايد - المعكوس - الفترات - المتباينات - القيمة المطلقة - الانسحاب - الحذف - التعويض - المميز.

## خواص نظام الأعداد الحقيقية Real Numbers System Properties

### سوف تتعلم

- خاصية الكثافة
- الترتيب
- القيمة المطلقة
- الفترات



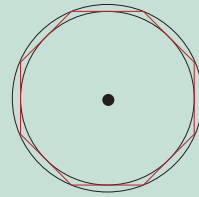
يعد أرخميدس (القرن السادس قبل الميلاد) من أعظم علماء الرياضيات وأبو الهندسة، ومن أشهر اكتشافاته طرق حساب المساحات والأحجام.

حدّد قيمة  $\pi$  بدقة عالية ( $\frac{22}{7} = \pi$ )

### دعنا نفكر ونتناقش

شغل العدد  $\pi$  (النسبة بين طول الدائرة وطول قطرها) الباحثين في الرياضيات لآلاف السنين.

اعتمد أرخميدس على الدائرة المحوطة (الداخلية) والدائرة المحيطة (الخارجية) بمضلع منتظم من ٩٦ ضلعًا للوصول إلى  $\frac{223}{71} > \pi > \frac{22}{7}$  وتسمى متباينة أرخميدس.



واستخدم الصينيون الكسر  $\frac{355}{113}$  كقيمة تقريبية لـ  $\pi$ . في بداية القرن الثامن عشر اعتمد الرمز اليوناني  $\pi$ .

استخدم ألك الحاسبة:

١ أو جد ٣ قيم لـ  $\pi$  مستخدمًا متباينة أرخميدس.

٢ استخدم  $\pi = \frac{1}{1} - \frac{1}{3} + \frac{1}{5} - \frac{1}{7} + \frac{1}{9} - \frac{1}{11} + \dots$  لإيجاد ٣ قيم لـ  $\pi$ .

٣  $\pi$  هو عدد غير نسبي. تنحصر قيمته بين ١٤، ٣، ١٥، ٣.

إعطاء مثال لإحدى القيم: مثلاً:  $\pi \approx 3.1415926$ .

هل يمكن تحديد عدد القيم التقريبية لـ  $\pi$ ؟

## Real Numbers

### القراءة في الرياضيات:

$\sqrt[2]{\phantom{x}}$  هو الجذر التربيعي الموجب للعدد ٢.

$-\sqrt[2]{\phantom{x}}$  هو الجذر التربيعي السالب للعدد ٢.

تعلم أن الأعداد النسبية (ن) يمكن كتابتها في صورة أعداد عشرية أو (كسور عشرية) منتهية مثل ٢٥، ٣، ٤٨٧، ٠، أو بصورة أعداد عشرية دورية (أو كسور عشرية دورية) مثل ١٦، ٢، ٣، ٠، ...) وهناك مجموعة أخرى من الأعداد تسمى أعدادًا غير نسبية لا يمكن كتابتها على

الصورة  $\frac{p}{q}$  حيث  $q \neq 0$ ،  $b \in \mathbb{R}$ ،  $b \neq 0$  مثل  $\sqrt{2}$ ،  $\sqrt[5]{2}$ ،  $\frac{1}{\sqrt{2}}$ ، ...

وكما الأعداد العشرية التي أرقامها العشرية لا تنتهي ولا تتكرر مثل

$\pi \approx 3.14159265359\dots$  فالأرقام العشرية في  $\pi$  لا تنتهي ولا تتكرر.

والأعداد غير النسبية (ن) من الممكن أن تتضمن كسورًا عشرية ذات نمط في كتابة أرقامها مثل  $0.30330333\dots$

اتحاد مجموعتي الأعداد النسبية وغير النسبية يشكل مجموعة تسمى مجموعة الأعداد الحقيقية أي أن  $\bar{N} \cup \bar{N} = \mathbb{R}$ .

يوضح المخطط التالي العلاقات بين مجموعات الأعداد.

| الأعداد الحقيقية      |  |
|-----------------------|--|
| الأعداد النسبية       | أمثلة: $\frac{1}{3}$ ، ١٤، ٠، $2\frac{1}{3}$   |
| الأعداد غير النسبية   | أمثلة:   |
| $\sqrt[3]{3}$         | <div style="border: 1px solid black; padding: 10px; margin: 5px;"> <p>الأعداد الصحيحة</p> <p>..... -٢، -١، ٠، ١، ٢، ...</p> <div style="border: 1px solid black; padding: 5px; margin: 5px;"> <p>الأعداد الطبيعية (الكلية):</p> <p>٠، ١، ٢، ٣، ...</p> </div> </div> |
| $\pi$                 |  |
| $\sqrt[2]{5}$         |  |
| ١، ٣، ٤، ٣، ٣، ٤، ... |  |

تمثل مجموعة الأعداد الحقيقية بخط الأعداد.  
كل عدد حقيقي يمثل بنقطة على هذا الخط.



### مثال (١)

سمّ المجموعات التي ينتمي إليها كل من الأعداد:

- أ -  $\frac{18}{5}$       ب -  $\sqrt[2]{41}$   
 ج -  $٠, ٣, ٣, ٣, \dots$       د -  $١, ٠, ١, ٠, ١, ٠, ٠, ١, ٠, ٠, ١, \dots$

الحل:

- أ -  $\frac{18}{5}$  هو عدد نسبي - عدد حقيقي.  
 ب -  $\sqrt[2]{41}$  هو عدد غير نسبي - عدد حقيقي.  
 ج -  $٠, ٣, ٣, ٣, \dots$  هو عدد نسبي - عدد حقيقي.  
 د -  $١, ٠, ١, ٠, ١, ٠, ٠, ١, ٠, ٠, ١, \dots$  هو عدد غير نسبي - عدد حقيقي.

### حاول أن تحل

- ١ سمّ مجموعات الأعداد التي ينتمي إليها كل من:  $\frac{4}{3}$ ،  $\sqrt[2]{4}$ ،  $\pi \times ٥$ .

## ٢ - خواص عمليتي الجمع والضرب على الأعداد الحقيقية

### Properties of Addition and Multiplication of Real Numbers

لكل  $a, b, c$ ، ج  $\exists$  ح فإن:

| الخاصية          | الجمع                       | الضرب   |
|------------------|-----------------------------|---|
| الإبدالية        | $a + b = b + a$             | $a \times b = b \times a$   |
| التجميع          | $(a + b) + c = a + (b + c)$ | $(a \times b) \times c = a \times (b \times c)$   |
| المحايد          | $a = a + 0 = 0 + a$         | $a = a \times 1 = 1 \times a$   |
| المعكوس (النظير) | $0 = a + (a^-) = (a^-) + a$ | $1 = a \times \frac{1}{a} = \frac{1}{a} \times a$ ( $a \neq 0$ )                                |
| التوزيعية        |                             | $a \times (b + c) = a \times b + a \times c$<br>$a \times (b \times c) = (a \times b) \times c$ |

## Order of Real Numbers

### ٣ - ترتيب الأعداد الحقيقية

مجموعة الأعداد الحقيقية هي **مجموعة مرتبة**، هذا يعني أننا نستطيع مقارنة أي عددين حقيقيين باستخدام رموز علاقات الترتيب ( $<$  أو  $>$  أو  $=$ ). والقول أن عددًا ما هو «أصغر من» أو «أكبر من» أو «يساوي» الآخر.

## Properties of Order

### الترتيب وخواصه

ترتيب الأعداد الحقيقية

ليكن  $a, b$  عددين حقيقيين

الكتابة بالرموز

التعريف

القراءة

$a < b$

$a - b$  موجب

$a$  أكبر من  $b$

$a > b$

$a - b$  سالب

$a$  أصغر من  $b$

$a \leq b$

$a - b$  موجب أو صفر

$a$  أكبر من أو يساوي  $b$

$a \geq b$

$a - b$  سالب أو صفر

$a$  أصغر من أو يساوي  $b$

### حقيقة هامة

لأي عددين حقيقيين  $a, b$ .  
تعبير واحد فقط مما يلي هو  
صحيح:

$a < b$  أو  $a = b$  أو  $a > b$

ليكن  $a, b, c$ ، ج أعداد حقيقية.

| ملاحظة   | القاعدة   | الخاصية |
|--|---|---------|
|  | إذا كان $a \geq b$ ، $b \geq c$ فإن $a \geq c$                    | التعدي  |
|  | إذا كان $a \geq b$ ، فإن $a + c \geq b + c$                       | الجمع   |
|  | إذا كان $a \geq b$ ، فإن $a - c \geq b - c$                       | الطرح   |
| لاحظ أن علاقة الترتيب تنعكس عندما يكون العدد $c$ سالبًا. | إذا كان $a \geq b$ ، $c < 0$ ، فإن $ac \leq bc$                   | الضرب   |
|  | إذا كان $a \geq b$ ، $c > 0$ ، فإن $ac \geq bc$                   |         |
| لاحظ أن علاقة الترتيب تنعكس عندما يكون العدد $c$ سالبًا. | إذا كان $a \geq b$ ، $c < 0$ ، فإن $\frac{a}{c} \leq \frac{b}{c}$ | القسمة  |
|  | إذا كان $a \geq b$ ، $c > 0$ ، فإن $\frac{a}{c} \geq \frac{b}{c}$ |         |

## Density Property

## ٤ - خاصية الكثافة

يتسع وعاء لعدد محدد من الحجارة (تبقى فراغات كبيرة). كما أنه يتسع لعدد أكبر من الحصى الصغيرة (تقل الفراغات) ويمكن ملؤه كذلك بعدد أكبر بكثير من الرمل (تصبح الفراغات نادرة).  
وماذا إذا مُلئ الوعاء بأجسام أصغر حجمًا من الرمل؟  
كلما صغر الحجم زادت الكثافة.  
يمكن تشبيه سعة الوعاء بطول فترة على خط الأعداد.

يوجد بين أي نقطتين مختلفتين على خط الأعداد عدد لانهائي من النقاط، وبالتالي بين أي عددين حقيقيين مختلفين يوجد عدد لانهائي من الأعداد الحقيقية.

### مثال (٢)

أعط خمسة أعداد حقيقية بين ٣، ١٤، ٣، ١٥، ٣.

الحل: تعلم أن  $3, 14 = 3, 15, 3, 140 = 3, 14$

∴ الأعداد الحقيقية مثل:  $3, 141, 3, 142, 3, 1456, 3, 14448, \pi$ .

### حاول أن تحل

٢ أعط ستة أعداد حقيقية بين ١، ٤١٤، ١، ٤١٥، ١.



## Intervals

### ٥ - الفترات

الفترة هي مجموعة جزئية من مجموعة الأعداد الحقيقية.

لاحظ أن ليس كل مجموعة جزئية من مجموعة الأعداد الحقيقية تمثل فترة. لماذا؟

يمكن استخدام المتباينات للتعبير عن الفترات في مجموعة الأعداد الحقيقية، وكذلك يمكن تمثيل الفترات على خط الأعداد.

مثلاً: يعبر عن الفترة:  $(-\infty, 3)$  بالمتباينة،  $s > 3$ .

وهي مجموعة الأعداد الحقيقية الأصغر من ٣، وتمثل بيانياً كما يلي:



سوف نميز بين نوعين من الفترات: الفترات المحدودة والفترات غير المحدودة.

### أولاً: الفترات المحدودة

الجدول التالي يوضح أنواع الفترات المحدودة: لتكن  $a$ ،  $b$ ، أعداداً حقيقية.

| التمثيل البياني | رمز المتباينة     | نوع الفترة                 | رمز الفترة |
|-----------------|-------------------|----------------------------|------------|
|                 | $a \leq s \leq b$ | مغلقة                      | $[a, b]$   |
|                 | $a < s < b$       | مفتوحة                     | $(a, b)$   |
|                 | $a \leq s < b$    | نصف مفتوحة<br>أو نصف مغلقة | $[a, b)$   |
|                 | $a < s \leq b$    | نصف مفتوحة<br>أو نصف مغلقة | $(a, b]$   |

الأعداد  $a$ ،  $b$  هما نقطتا الحدود لكل فترة حيث  $a$  الحد الأدنى للفترة،  $b$  الحد الأعلى للفترة.

## ثانياً: الفترات غير المحدودة

الجدول التالي يوضح بعض الفترات غير المحدودة: ليكن  $a$ ،  $b \in \mathbb{R}$ .

| التمثيل البياني | رمز المتباينة | نوع الفترة                      | رمز الفترة     |
|-----------------|---------------|---------------------------------|----------------|
|                 | $s \leq a$    | نصف مغلقة وغير محدودة من الأعلى | $(-\infty, a]$ |
|                 | $s < a$       | مفتوحة وغير محدودة              | $(-\infty, a)$ |
|                 | $s \geq b$    | نصف مغلقة وغير محدودة من الأسفل | $[b, \infty)$  |
|                 | $s > b$       | مفتوحة وغير محدودة من الأسفل    | $(b, \infty)$  |

### مثال (٣)

اكتب نوع الفترة ورمز المتباينة والتمثيل البياني لكل من الفترات التالية:

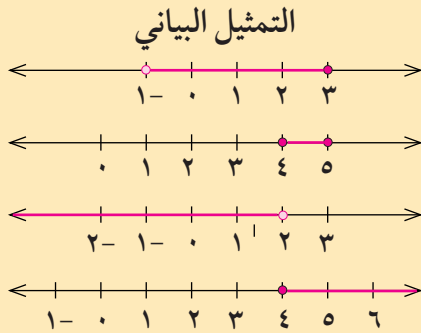
د  $(-\infty, 4]$

ج  $(2, -\infty)$

ب  $[5, 4]$

أ  $(-1, 3)$

الحل:



رمز المتباينة

$s > -1$

$s \geq 5$

$s > 2$

$s \leq 4$

نوع الفترة

أ فترة نصف مفتوحة (أو نصف مغلقة)

ب فترة مغلقة

ج فترة مفتوحة وغير محدودة من أسفل

د فترة نصف مغلقة وغير محدودة من أعلى

### حاول أن تحل

٣ حدّد نوع الفترة ورمز المتباينة والتمثيل البياني لكل من الفترات التالية:

ب  $[3, -\infty)$

أ  $(-2, 1)$

٤ مثل كلاً مما يلي على خط الأعداد:

ب  $[5, -\infty) \cup (-\infty, 1]$

أ  $(-\infty, 2) \cup (3, -\infty)$

## استخدام الآلة الحاسبة Using Calculator


سوف تتعلم

- استخدام الآلة الحاسبة

### معلومة رياضية:

البايت = ٨ بت

هناك العديد من الآلات الحاسبة، منها العادية البسيطة للاستخدامات اليومية، ومنها العلمية التي ترسم بيانيًا الدوال، ومنها الأكثر تطورًا والقابلة للبرمجة. تختلف طرائق استخدام الآلات الحاسبة بين آلة وأخرى وفق البرمجة المعتمدة. تستخدم الآلة الحاسبة الرقمين ٠، ١ (رقمي نظام العد الثنائي) ويدعى كل منهما «بت» Bit. تخصص في معظم الآلات الحاسبة شفرة من ٨ أرقام لكل رمز يستخدم وتدعى «بايت» Byte. يمكن تمثيل  $2^8 = 256$  حالة باستخدام هذا النظام.



|   |   |   |   |   |   |   |   |         |
|---|---|---|---|---|---|---|---|---------|
| ١ | ١ | ١ | ١ | ٠ | ٠ | ٠ | ١ | الرقم ١ |
| ١ | ١ | ١ | ١ | ٠ | ٠ | ١ | ٠ | الرقم ٢ |
| ١ | ١ | ١ | ١ | ٠ | ٠ | ١ | ١ | الرقم ٣ |
| ١ | ١ | ١ | ١ | ٠ | ١ | ٠ | ٠ | الرقم ٤ |
| ١ | ١ | ٠ | ٠ | ٠ | ٠ | ٠ | ١ | الحرف A |

عند إدخال رقم أو حرف أو رمز إلى الآلة الحاسبة يترجم فوراً إلى شفرة خاصة به. تجرى العمليات على الشفرات، وبعد الانتهاء تترجم الشفرة إلى الرمز الذي يعبر عن الناتج ويظهر على شاشة الآلة الحاسبة في الصورة التي نعرفها.

| رموز بعض التعليمات               |                                 |
|----------------------------------|---------------------------------|
| الرمز                            | المدلول                         |
| AC أو CL                         | إزالة كل العمليات والناتج       |
| C أو CE                          | إزالة آخر عملية                 |
| MR أو RCL                        | استدعاء العدد المخزن في الذاكرة |
| M <sup>+</sup> أو M <sup>-</sup> | إضافة/ طرح من الذاكرة           |
| MC أو CN                         | إزالة العدد المخزن في الذاكرة   |
| MODE                             | وضع التشغيل                     |
| ° ' "                            | التحويل إلى درجات ودقائق وثواني |
| S ↔ D                            | التحويل بين كسر وكسر عشري       |

## مثال (١)

أوجد الناتج:  $١٣, ٧٤٣, ٠٨ + ٩٤١, ٠٨ - ٦٤٨, ٥٥$ .

الحل:

أدخل:  $743.13 + 941.08 - 648.55 = 1035.66$  يظهر على الشاشة:أي أن الناتج =  $١٠٣٥, ٦٦$ 

## حاول أن تحل

١ أوجد ناتج:  $١٤, ٣٤٤٥, ١٤ - ٢٣٦٧, ٣٢$ .

## مثال (٢)

أوجد ناتج:  $٧ \frac{٣}{٤} + ١٣ \frac{٥}{٩} - ٢٨ \frac{٣}{٨}$ .

الحل:

أدخل:  $7 \frac{a}{b} \frac{3}{4} + 13 \frac{a}{b} \frac{5}{9} - 28 \frac{a}{b} \frac{3}{8} =$ يظهر على الشاشة  $-7 \frac{5}{72}$  أي أن الناتج =  $٧ \frac{٥}{٧٢}$ .

## حاول أن تحل

٢ أوجد ناتج:  $٢٧ \frac{٤}{٧} - ١٣ \frac{٣}{٨} + ٥ \frac{٩}{١٣}$ .

## مثال (٣)

أوجد ناتج:  $١٠ \times ٨, ٣١ + ١٠ \times ٣, ٥٤$ .

الحل:

أدخل:  $3.54 \times 10^7 + 8.31 \times 10^8 =$ يظهر على الشاشة:  $866\ 400\ 000$  اضغط **ENG** فيظهر  $866.4 \times 10^6$ أي  $١٠ \times ٨٦٦, ٤$ 

## حاول أن تحل

٣ أوجد ناتج:  $١٠ \times ٣, ٦٧ - ١٠ \times ٤, ٣٣٨$ .

### مثال (٤)

أوجد ناتج:

$$32\sqrt[5]{2}$$

الحل:

$$\frac{2 + 56,4}{0,8 \times 31,3} \quad \text{ب}$$

أضغظ:  $=$   $32$   $\sqrt[5]{\phantom{x}}$   $5$  يظهر على الشاشة  $2$  وبالتالي  $2 = \sqrt[5]{32}$

بضغظ:  $=$   $( )$   $\times$   $0.8$   $( )$   $\div$   $( )$   $+$   $56.4$   $( )$

يظهر على الشاشة  $2.332\ 268\ 371$  الإجابة:  $2, 332$  تقريبًا

### حاول أن تحل

٤ أوجد:  $\sqrt[4]{2401}$  أ

ب  $\frac{4}{1,2 \times 8,1} + 13,8$

## ٢- إيجاد قيمة تقريبية للجذر النوني باستخدام الآلة الحاسبة:

### Estimating nth Root Using Calculator

### مثال (٥)

أوجد:  $\sqrt[5]{225}$ ، مقربًا الناتج إلى أقرب عدد كلي.

الحل:

أضغظ:  $=$   $225$   $\sqrt[5]{\phantom{x}}$   $5$

يظهر على الشاشة  $2.954\ 176\ 939$  أي أن الناتج  $= 3$  تقريبًا.

### حاول أن تحل

ب  $\sqrt[4]{546,1}$

٥ أوجد الناتج مقربًا إلى أقرب عدد كلي:  $\sqrt[7]{1246}$  أ

### مثال (٦)

أوجد:  $\sqrt[3]{\frac{214}{23}}$  مقربًا الناتج إلى أقرب عدد كلي.

الحل:

أضغظ:  $=$   $( )$   $\frac{a}{c}$   $214$   $\sqrt[3]{\phantom{x}}$   $3$  يظهر على الشاشة  $2.103\ 271\ 381$  أي أن الناتج  $= 2$  تقريبًا.

### حاول أن تحل

٦ أوجد:  $\sqrt[2]{\frac{4124}{57}}$  مقربًا الناتج إلى أقرب عدد كلي.

## تقدير الجذر التربيعي

### Estimating Square Root

#### سوف تتعلم

- تقدير الجذر التربيعي
- استخدام الجذر التربيعي في حل المسائل

#### دعنا نفكر وندقق

لكل عدد حقيقي موجب جذران تربيعيان أحدهما موجب والآخر سالب.

|              |    |                            |                        |
|--------------|----|----------------------------|------------------------|
| الجذر الموجب | ٣  | الجذران التربيعيان للعدد ٩ | $9 = 3 \times 3$       |
| الجذر السالب | ٣- |                            | $9 = (3-) \times (3-)$ |

٣ هو الجذر الأساس.

العدد ٢٩، ٧ هو موجب إذاً له جذران تربيعيان. لكن نجد صعوبة في إيجاد هذين الجذرين. يعتمد الرمز  $\sqrt{\quad}$  للإشارة إلى الجذر التربيعي الموجب فنكتب  $\sqrt{29}$ ، ٧. باستخدام الآلة الحاسبة نحصل على:  $\sqrt{29} = 5.385$ ، ٧. كذلك  $-\sqrt{29} = -5.385$ ، ٧.

#### Square Root

#### الجذر التربيعي

العدد  $m$  هو جذر تربيعي للعدد  $b$  عندما  $b = m^2$

### Properties of Square Roots

#### خصائص الجذور التربيعية

خاصية الضرب: لأي عددين حقيقيين موجبين  $m$ ،  $b$ :  $\sqrt{b} \times \sqrt{m} = \sqrt{bm}$

خاصية القسمة: لأي عددين حقيقيين موجبين  $m$ ،  $b$ :  $\frac{\sqrt{b}}{\sqrt{m}} = \sqrt{\frac{b}{m}}$

#### معلومة رياضية:

$$|\sqrt{s}| = \sqrt{s^2}$$

$$(\sqrt{s})^2 = s \text{ (حيث } s \geq 0 \text{)}$$

جذر تربيعي موجب.

جذر تربيعي سالب.

الجذران التربيعيان هما  $\frac{3}{5}$ ،  $\frac{3}{5}$ .

للصفر جذر تربيعي واحد هو صفر.

غير معرّف في ح.

في مجموعة الأعداد الحقيقية الجذر التربيعي لعدد سالب هو غير معرّف.

#### مثال (١)

بسّط كل تعبير.

أ  $\sqrt{49} = 7$

ب  $-\sqrt{144} = -12$

ج  $\frac{3}{5} \pm \frac{9\sqrt{25}}{25} = \frac{3}{5} \pm \frac{9}{5}$

د  $\sqrt{0} = 0$

هـ  $-\sqrt{36} = -6$

#### حاول أن تحل

١ بسّط كل تعبير.

أ  $\sqrt{81}$

ب  $-\sqrt{169}$

ج  $\pm\sqrt{25}$

د  $\sqrt{\frac{9}{25}}$

بعض الجذور التربيعية هي أعداد نسبية، وبعضها الآخر أعداد غير نسبية.  
 فمثلاً من الجذور النسبية:  $\sqrt{121} = 11$ ،  $\sqrt{21} = 1$ ،  $\sqrt{1} = 1$ ،  $\sqrt{\frac{81}{100}} = \frac{9}{10}$   
 من الجذور غير النسبية:  $\sqrt{5} \approx 2,236$ ،  $\sqrt[3]{0,6547} \approx 0,867$

### مثال (٢)

حدّد ما إذا كان كل عدد مما يلي عدداً نسبياً أو غير نسبي.

أ  $\pm \sqrt{64} = 8 \pm$  عدد نسبي

ب باستخدام الآلة الحاسبة  $\sqrt{9} = 3$ ،  $\sqrt{2,2135943...} \approx 1,487$  عدد غير نسبي

ج باستخدام الآلة الحاسبة  $\sqrt[3]{1} = 1$ ،  $\sqrt[3]{0,377964473} \approx 0,723$  عدد غير نسبي

### حاول أن تحل

٢ حدّد ما إن كان كل عدد مما يلي عدداً نسبياً أو غير نسبي.

أ  $\sqrt{13}$

ب  $\sqrt{625} = 25$

ج  $\sqrt{1000}$

د  $\sqrt{\frac{2}{15}}$

### مصطلح رياضي:

في الصيغة العشرية:  
 العدد النسبي هو عدد  
 منته أو متكرر (دوري).  
 العدد غير النسبي هو عدد  
 غير منته دون تكرار.

## Estimating Square Roots

### ١ - تقدير الجذور التربيعية

مربعات الأعداد الطبيعية تسمى مربعات كاملة Perfect Squares.

|     |     |     |    |    |    |    |    |    |   |   |   |               |
|-----|-----|-----|----|----|----|----|----|----|---|---|---|---------------|
| ١٢  | ١١  | ١٠  | ٩  | ٨  | ٧  | ٦  | ٥  | ٤  | ٣ | ٢ | ١ | العدد الطبيعي |
| ١٤٤ | ١٢١ | ١٠٠ | ٨١ | ٦٤ | ٤٩ | ٣٦ | ٢٥ | ١٦ | ٩ | ٤ | ١ | المربع الكامل |

يمكن استخدام المربعات الكاملة لتقدير قيمة بعض الجذور التربيعية دون استخدام الآلة الحاسبة.

### مثال (٣)

### معلومة رياضية:

لأي أعداد موجبة وجذورها التربيعية الموجبة الترتيب نفسه.

حدّد بين أي عددين طبيعيين (كليين) متتاليين يوجد  $\sqrt{15, 41}$ ، ثم قدر قيمته.  
الحل:

١٥, ٤١ هو بين المربعين الكاملين المتتاليين ٩, ١٦.

$$16 > 15, 41 > 9$$

باستخراج الجذر التربيعي لكل عدد

$$\sqrt{16} > \sqrt{15, 41} > \sqrt{9}$$

تبسيط

$$4 > 15, 41 > 3$$

وحيث إن العدد ١٥, ٤١ أقرب إلى ١٦ فإن  $\sqrt{15, 41}$  يكون قريباً من ٤ وهو

إذاً  $\sqrt{15, 41}$  هو بين ٣, ٤.

يساوي تقريباً ٣, ٨ أو ٣, ٩.

### حاول أن تحل

٣ حدّد بين أي عددين صحيحين يوجد العدد  $\sqrt{30, 8}$ ، ثم قدر قيمته.

يمكن إيجاد قيمة تقريبية للجذور التربيعية باستخدام الآلة الحاسبة.

### مثال (٤)

حدّد بين أي عددين كليين متتاليين يقع  $\sqrt{28, 63}$ ، ثم أوجد قيمته لأقرب جزء من عشرة مستخدماً الآلة الحاسبة.  
الحل:

٢٨, ٦٣ هو بين المربعين الكاملين المتتاليين ٢٥, ٣٦.

$$36 > 28, 63 > 25$$

باستخراج الجذر التربيعي لكل عدد

$$\sqrt{36} > \sqrt{28, 63} > \sqrt{25}$$

تبسيط

$$6 > 28, 63 > 5$$

إذاً  $\sqrt{28, 63}$  هو بين ٥, ٦.

باستخدام الآلة الحاسبة:  $\sqrt{28, 63} = 5.350700889$

أي أن  $\sqrt{28, 63}$  يساوي تقريباً ٥, ٤.

### حاول أن تحل

٤ حدّد بين أي عددين كليين متتاليين يقع  $\sqrt{13, 7}$ ، ثم أوجد قيمته لأقرب جزء من عشرة مستخدماً الآلة الحاسبة.



### مثال (٥) تطبيقات حياتية

يساعد تقدير الجذور التربيعية على إيجاد طول وتر مثلث قائم الزاوية. أوجد طول وتر مثلث، طولاً ضلعي زاويته القائمة هما ٥ سم، ٧ سم.

الحل:

$$٧٤ = ٤٩ + ٢٥ = ٢٧ + ٢٥$$

نظرية فيثاغورث

٧٤ يقع بين المربعين الكاملين المتتاليين ٦٤، ٨١. إذاً، طول وتر المثلث هو بين ٨، ٩ سم.

باستخدام الآلة الحاسبة  $\sqrt{٢٧ + ٢٥} \approx ٦,٠٢٣$ ،

طول وتر المثلث  $\approx ٦,٠٢٣$  سم.

حاول أن تحل

٥ أوجد طول وتر مثلث قائم الزاوية، طولاً ضلعي زاويته القائمة هما ٩ سم، ١٣ سم.

#### تذكر:

في المثلث قائم الزاوية،  
مربع الوتر = مجموع  
مربعي طولَي ضلعي  
الزاوية القائمة.

### مثال (٦)

يسقط جسم من ارتفاع ٩ أمتار. تبين المعادلة  $٩ = ٤,٩ ن^٢$  العلاقة بين الارتفاع  $ع$  والزمن  $ن$  المستغرق للوصول إلى سطح الأرض. ما الوقت اللازم ليصل إلى الأرض؟

الحل:

$$٩ = ٤,٩ ن^٢$$

$$ن^٢ = \frac{٩}{٤,٩}$$

$$ن = \sqrt{\frac{٩}{٤,٩}} \text{ أو } ن = -\sqrt{\frac{٩}{٤,٩}} \text{ مرفوضة}$$

$$ن \approx ١,٣٥٥ \text{ باستخدام الآلة الحاسبة.}$$

أي يلزم حوالي ثانية ونصف ليصل الجسم إلى الأرض.

حاول أن تحل

٦ من مثال (٦)، ما الوقت اللازم للوصول جسم إلى الأرض إذا سقط عن ارتفاع ١٤ مترًا؟

## حل المتباينات

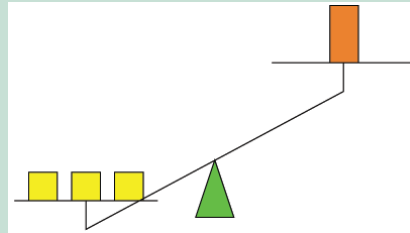
### Solving Inequalities

#### سوف تتعلم

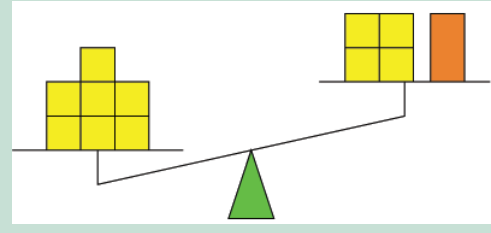
- حل المتباينات باستخدام الخواص
- نمذجة متباينات من الدرجة الأولى
- حل متباينات ذات متغيرين في أحد الطرفين أو كليهما

#### دعنا نفكر ونتناقش

المتباينات المتكافئة هي متباينات لها مجموعة الحل نفسها. استخدم الميزان لتبين أن المتباينتين  $س > ٤ + ٧$ ،  $س > ٣$  متباينتان متكافئتان.



$$س > ٣$$



$$س > ٤ + ٧$$

#### مصطلحات مساعدة:

تعني كلمة "النهائي" أن عدد الحلول غير محدد ولا يمكن حصره.

### Solving Inequalities

#### حل المتباينات

أنت تحلّ متباينة تتضمن جمعًا أو طرحًا باستخدام العمليات العكسيّة، لكي تضع المتغيّر في طرف واحد. أحيانًا يكون لمتباينة عدد لانهايتي من الحلول ممّا يستحيل معه التحقق منها جميعًا. بدلًا من ذلك، تحقق من صحّة حساباتك واتّجاه علاقة الترتيب.

#### استخدام خاصية المعكوس الجمعي في حل المتباينات

#### مثال (١)

أوجد مجموعة حل المتباينة  $س - ٧ > ٢ - ٧$  ومثل الحلول بيانيًا على خط الأعداد، ثم تحقق من صحة الحل.

الحل:  $س - ٧ > ٢ - ٧$

$س - ٧ + ٧ > ٢ - ٧ + ٧$  ضع المتغير في طرف واحد، وذلك بإضافة المعكوس الجمعي للعدد  $(٧-)$  إلى الطرفين

$$س > ٥$$

بسّط

مجموعة الحل:  $(٥, \infty-)$



تحقق:

الخطوة ١: تحقق مما إذا كانت الإجابة حلًا للمعادلة المرتبطة.

$$س - ٧ = ٢ - ٧$$

اكتب المعادلة المرتبطة

$$س - ٧ = ٢ - ٧$$

عوض بـ ٥ عن س

$$٥ - ٧ = ٢ - ٧$$

✓

الخطوة ٢: تحقق من صحة علاقة الترتيب بالتعويض في المتباينة.

$$س - ٧ > ٢ -$$

$$٤ - ٧ > ٢ -$$

$$٣ - ٢ > \checkmark$$

كل من الخطوتين ١، ٢، تتحقق، لذلك  $س > ٥$  هو حل المتباينة  $س - ٧ > ٢ -$

حاول أن تحل

١ أوجد مجموعة حل المتباينة ومثل مجموعة الحل على خط الأعداد لكل مما يلي:

ب  $١٢ \geq س - ٥$

أ  $١ \leq س - ٤$

تذكر:

الدائرة المفتوحة على تمثيل بياني، تعني أن العدد ليس متضمنًا في الحل.

الدائرة المغلقة على تمثيل بياني، تعني أن العدد متضمن في الحل.



مثال (٢)

الأمثلة (الحقائب): تشترط إحدى شركات الطيران ألا يزيد وزن الأمثلة عن ٤٥ كيلوجرامًا للراكب. إذا كان وزن إحدى حقائبك ١٧ كيلوجرامًا، فما الوزن الممكن للحقيبة الثانية؟  
الحل:

لا يزيد عن ٤٥ كجم

وزن الحقيبة الثانية

زائد

وزن الحقيبة الأولى

الألفاظ

ليكن  $ز =$  وزن الحقيبة الثانية

$$٤٥ \geq$$

ز

+

$$١٧$$

المتباينة

$$١٧ + ١٧ + ز \geq ٤٥ + ١٧ \leftarrow \text{ضع المتغير في طرف واحد وذلك بإضافة المعكوس الجمعي (-17)}$$

$$٢٨ \geq ز \leftarrow \text{بسط}$$

يمكن أن يصل وزن حقيبتك الثانية إلى ٢٨ كجم.

حاول أن تحل

٢ تتسع القاعة الرئيسية في إحدى المدارس لـ ٣٠٠ مقعد. في عرض لإحدى المسرحيات كان عدد الحضور من الفصل العاشر ٨٩ طالبًا، فكم عدد الطلاب الذين يمكن حضورهم من بقية فصول المدرسة؟

استخدام خاصية المعكوس الضربي في حل المتباينات.

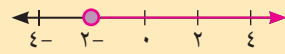
عندما تضرب طرفي متباينة في عدد سالب أو تقسم طرفي متباينة على عدد سالب، اعكس اتجاه علاقة الترتيب.

### مثال (٣)

أوجد مجموعة حل المتباينة  $\frac{س}{٢-} > ١$ ، ومثل الحلول بيانياً على خط الأعداد.  
الحل:  $\frac{س}{٢-} > ١$

اضرب كلا من الطرفين في المعكوس الضربي  $(٢-)$  واعكس اتجاه علاقة الترتيب  $(٢-)$

بسط



س < ٢-

مثل بيانياً

مجموعة الحل =  $(٢-, \infty)$

### معلومة مفيدة:

إذا كان  $٢ > ب$ ، ج < ٠، فإن

$$٢ج > ب، ج > \frac{ب}{٢}$$

إذا كان  $٢ > ب$ ، ج > ٠، فإن

$$٢ج < ب، ج < \frac{ب}{٢}$$

### حاول أن تحل

٣ أوجد مجموعة حل المتباينة  $\frac{ب}{٤} \leq ١$ ، ومثل الحلول بيانياً على خط الأعداد.

### مثال (٤)

عمل تجاري: تعلن شركة لتوصيل خدمات الإنترنت عن الفرصة التالية الموضحة. هدف الشركة هو تحقيق مبلغ إضافي على الأقل ٤ ٥٠٠ دينار شهرياً. كم مشتركاً جديداً يلزم أن تجتذبهم الشركة؟  
الحل:

الألفاظ: عدد المشتركين الجدد مضروباً بـ ٥ دنانير يكون على الأقل ٤ ٥٠٠ دينار.

ليكن ن = عدد المشتركين الجدد

$$٤٥٠٠ \leq ٥ \times ن$$

$$٤٥٠٠ \leq ٥ن$$

$$\frac{٤٥٠٠}{٥} \leq \frac{٥ن}{٥}$$

$$٩٠٠ \leq ن$$

بسط

يلزم أن تجتذب ٩٠٠ مشترك جديد على الأقل.

التحقق من معقولية الإجابة: الإجابة معقولة لأن  $٩٠٠ \times ٥$  هو ٤ ٥٠٠، وأي عدد أكبر من ٩٠٠ مضروباً بـ ٥ ينتج عدداً أكبر من ٤ ٥٠٠.

### حاول أن تحل

٤ الحد الأقصى لحمولة مصعد في فندق ١ ٠٠٠ كجم. افرض أن متوسط وزن النزيل ٨٠ كجم، فكم نزياً يمكن للمصعد أن يحملهم بأمان؟

### فرصة للمشارك الجديد

التوصيل الشهري للإنترنت من دون حدود




فقط ٥ دنانير في الشهر

<http://www.>

## ٢ - حل متباينات متعددة الخطوات:


يتطلب حل المتباينات أحياناً استخدام أكثر من خطوة. وسنستخدم بلاطات الجبر في نمذجة متباينات من الدرجة الأولى حتى نفهم حلها. اعتبر أن  تمثل المجهول س، البلاطة الحمراء تمثل -١، البلاطة الصفراء تمثل ١+

أ حل المتباينة س - ٢ > ٣.

|                                     |   |                   |
|-------------------------------------|---|-------------------|
| نمذجة المتباينة باستخدام البلاطات   |  | س - ٢ > ٣         |
| إضافة ٢+ إلى طرفي المتباينة         |  | س - ٢ + ٢ > ٣ + ٢ |
| التبسيط بحذف أزواج البلاطات الصفرية |  | س > ٥             |

كل بلاطة خضراء هي أصغر من ٥ بلاطات صفراء، إذًا س > ٥.

ب حل المتباينة ٢س + ٣ < ١.

|                                     |   |                               |
|-------------------------------------|---|-------------------------------|
| نمذجة المتباينة باستخدام البلاطات   |  | ٢س + ٣ < ١                    |
| إضافة -٣ إلى طرفي المتباينة         |   | ٢س + ٣ - ٣ < ١ - ٣            |
| التبسيط بحذف أزواج البلاطات الصفرية |  | ٢س < -٤                       |
| قسم كل طرف إلى مجموعتين متساويتين   |   | $\frac{٢س}{٢} < \frac{-٤}{٢}$ |
|                                     |  | س < -٢                        |

كل بلاطة خضراء هي أكبر من بلاطتين حمراوين. إذًا س < -٢.

### مثال (٥)

أوجد مجموعة حل المتباينة  $٢(٢ + م) - ٣م \leq ١$  ومثل مجموعة الحل على خط الأعداد.  
الحل:

$$٢(٢ + م) - ٣م \leq ١$$

$$٤ + ٢م - ٣م \leq ١$$

$$٤ - م \leq ١$$

$$٤ - ١ \leq م$$

$$٣ \leq م$$

$$٣ \leq م$$

$$٣ \leq م$$

$$\text{مجموعة الحل} = [٣, \infty)$$

خاصية التوزيع

خاصية الإبدال

تبسيط

طرح ٤ من طرفي المتباينة

تنعكس علاقة الترتيب



### حاول أن تحل

٥ أوجد مجموعة حل المتباينة  $٣(٤ + س) + ٥ \geq ٢$ .

### مثال (٦) تطبيقات حياتية

يشترى أحد المخازن أكثر من ٣٠ عبوة شامبو في الشهر. يدفع ٣ دنانير ثمن العبوة الواحدة، ٢٥ دينارًا كلفة تسليم البضاعة. عرضت شركة منافسة على صاحب المخزن عبوات بسعر ٤ دنانير للواحدة، ٥ دنانير فقط كلفة تسليم البضاعة، مدعية أن أسعارها هي الأرخص. هل هذا صحيح؟

الحل:

ليكن س عدد العبوات التي يشتريها المخزن في الشهر.

تبلغ كلفة الشراء:  $٣س + ٢٥$

تبلغ كلفة الشراء من الشركة المنافسة:  $٤س + ٥$

للتحقق، نحل المتباينة  $٤س + ٥ \geq ٣س + ٢٥$ .

$$٤س + ٥ \geq ٣س + ٢٥$$

$$٤س - ٣س \geq ٢٥ - ٥$$

$$س \geq ٢٠$$

$$س \geq ٢٠$$



طرح ٣س من طرفي المتباينة

تبسيط

طرح ٥ من طرفي المتباينة

أي أن الشركة المنافسة تكون أفضل عندما يكون عدد العبوات أقل من أو يساوي ٢٠ عبوة بينما يشتري المخزن أكثر من ٣٠ عبوة في الشهر.

إذاً، إن ما تعرضه الشركة المنافسة ليس أفضل عرض، لذا على صاحب المخزن أن يُبقي تعامله مع الشركة الأولى.

### حاول أن تحل

٦ في مثال (٦)، هل يصبح عرض الشركة المنافسة أفضل إذا لم تقبض أموالاً كلفة تسليم البضاعة؟

### مثال (٧)

أوجد مجموعة حل المتباينة  $٦س - ١٥ < ٤س + ١$  ومثل الحل على خط الأعداد.  
الحل:

$$٦س - ١٥ < ٤س + ١$$

$$٦س - ١٥ - ٤س < ٤س + ١ - ٤س$$

طرح ٤س من طرفي المتباينة

تبسيط

$$٢س - ١٥ < ١$$

$$٢س - ١٥ + ١٥ < ١ + ١٥$$

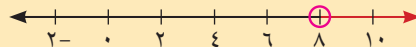
إضافة ١٥ إلى طرفي المتباينة

تبسيط

$$٢س < ١٦$$

$$س < ٨$$

$$\text{مجموعة الحل} = (-\infty, ٨)$$



### حاول أن تحل

٧ أوجد مجموعة حل المتباينات التالية، ومثلها على خط الأعداد إن أمكن.

أ  $٢(٢س - ٨) < ٤س + ٢$

ب  $٣س + ٧ < ٣(س - ٣)$

٨ هل المتباينات  $٢س < ١ - س$ ،  $٢س > ١ - س$  لهما مجموعة الحل نفسها؟ فسّر إجابتك.

## القيمة المطلقة Absolute Value

### دعنا نفكر ونتناقش

عرفت سابقاً أن القيمة المطلقة لعدد حقيقي هي بُعد هذا العدد عن الصفر على خط أعداد. ولما كان البعد عدداً موجباً، فالقيمة المطلقة لعدد حقيقي سالب هي معكوسه الجمعي. الرمز المستخدم للقيمة المطلقة للعدد س هو  $|س|$ .

### سوف تتعلم

- حل معادلات تتضمن قيمة مطلقة
- حل متباينات تتضمن قيمة مطلقة

### تعريف:

لكل عدد حقيقي س يكون:

$$\left. \begin{array}{l} \text{س} \\ \cdot \\ \text{س} \end{array} \right\} = |س|$$

إذا كان س  $< 0$   
إذا كان س  $= 0$   
إذا كان س  $> 0$

### معلومة:

(-س) ليس بالضرورة عدداً سالباً. (-س) هو المعكوس الجمعي للعدد س.

نلاحظ أن العدد إذا كان موجباً أو صفرًا فإن قيمته المطلقة تساويه، أما إذا كان العدد سالباً فإن قيمته المطلقة تساوي معكوسه الجمعي.

### بعض خواص القيمة المطلقة للأعداد الحقيقية

ليكن  $ا، ب \in \mathbb{R}$

- ١  $0 \leq |ا|$
- ٢  $|ا| = |-ا|$
- ٣  $|ا| \times |ب| = |ا \times ب|$
- ٤  $\left| \frac{ا}{ب} \right| = \frac{|ا|}{|ب|}$ ، حيث  $ب \neq 0$
- ٥  $ا \leq |ا|$
- ٦  $|ا - ب| = |ب - ا|$

### مثال (١)

أعد تعريف  $|س - ٤|$  دون استخدام رمز القيمة المطلقة.

الحل:

$$\left. \begin{array}{l} \text{س} - ٤ \\ \cdot \\ \text{س} - ٤ \end{array} \right\} = |س - ٤|$$

حيث س  $< ٤$   
حيث س  $= ٤$   
حيث س  $> ٤$

$$\left. \begin{array}{l} \text{س} - ٤ \\ \cdot \\ \text{س} - ٤ \end{array} \right\} =$$

س  $\leq ٤$   
س  $> ٤$

### حاول أن تحل

١ أعد تعريف كل مما يلي دون استخدام رمز القيمة المطلقة.

أ  $|س + ٣|$

ب  $|٤ - ٢س|$



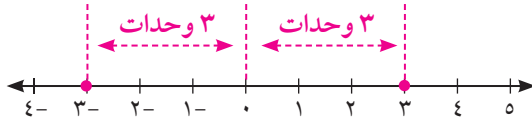
## حل معادلات تتضمن قيمة مطلقة

يمكن استخدام خط أعداد لحل معادلات تتضمن قيمة مطلقة.

يبين التمثيل البياني المقابل حلول المعادلة  $|س| = ٣$ .

حيث المسافة بين س، صفر تساوي ٣ وحدات

إذاً الحل:  $س = ٣$  أو  $س = -٣$



### نتيجة

١ إذا كان  $س$  عدداً حقيقياً موجباً فإن حل المعادلة  $|س| = س$  هو:  $س = س$  أو  $س = -س$  وتكون مجموعة الحل  $\{-س, س\}$ .

٢ إذا كان  $س$  عدداً حقيقياً سالباً فإن المعادلة  $|س| = س$  مجموعة حلها  $\emptyset$

### معلومة مفيدة:

المجموعة الخالية نعبر عنها  
بأحد الرمز  $\emptyset$  أو  $\{ \}$

### مثال (٢)

أوجد مجموعة حل المعادلة:  $|٣ - ٢ص| = ٧$ ، ثم تحقق من صحة الحل.

الحل:  $|٣ - ٢ص| = ٧$

$٧ = ٣ - ٢ص$  أو  $٧ = ٢ص - ٣$  قيمة  $٢ص - ٣$  يمكن أن تكون  $٧$  أو  $-٧$ .

إضافة  $٣$  إلى طرفي المعادلة.  $٤ = ٢ص$

قسمة كل طرف على  $٢$ .  $٢ = ص$

مجموعة الحل  $\{٢, -٢\}$

تحقق: عندما  $ص = ٥$

$٧ = |٣ - ٢ص|$

$٧ = |٣ - (٥)٢|$

$٧ = |٧|$  ✓

وعندما  $ص = -٢$

$٧ = |٣ - ٢ص|$

$٧ = |٣ - (-٢)٢|$

$٧ = |-٧|$  ✓

### حاول أن تحل

٢ أوجد مجموعة حل كل من المعادلتين، ثم تحقق من صحة الحل.

أ  $٨ = |٣ + س|$

ب  $٠ = |١ - س|$

### مثال (٣)

أوجد مجموعة حل المعادلة:  $٠ = ٣ + |١ + ٢س|$

الحل:  $٠ = ٣ + |١ + ٢س|$

$$٣- = |١ + ٢س|$$

وحيث إن  $٠ > ٣-$  (عدد سالب)

∴ مجموعة الحل =  $\emptyset$

### حاول أن تحل

٣ أوجد مجموعة حل المعادلة:  $٠ = |٤ + ٢س - ٥|$

عند حل مسائل متعددة الخطوات، ابدأ بوضع التعبير الذي يتضمن القيمة المطلقة في طرف واحد.

### مثال (٤)

أوجد مجموعة حل المعادلة  $١١ = ٥ - |٣ + ٢س + ٤|$

الحل:  $١١ = ٥ - |٣ + ٢س + ٤|$

إضافة ٥ إلى طرفي المعادلة

$$١٦ = |٣ + ٢س + ٤|$$

قسمة كل طرف على ٤

$$٤ = |٣ + ٢س|$$

$$٤- = ٣ + ٢س \quad \text{أو} \quad ٤ = ٣ + ٢س$$

إضافة ٣- إلى طرفي المعادلة

$$٧- = ٢س$$

قسمة كل طرف على ٢

$$\frac{٧-}{٢} = س$$

$$س = \frac{١}{٢}$$

$$\left\{ \frac{٧-}{٢}, \frac{١}{٢} \right\} = \text{مجموعة الحل}$$

### حاول أن تحل

٤ أوجد مجموعة حل كل من المعادلتين:

ب  $٠ = ٣ + |٤ - ٥س|$

أ  $٠ = ٦ - |٤ + ٢س + ٣|$

عند حل المعادلة  $|ص| = |س|$  نستخدم طريقة المساواة، نضع  $ص = س$  أو  $ص = -ص$ . ونحل المعادلات أو نستخدم طريقة تربيع الطرفين ثم نحل المعادلة الناتجة ونتحقق من القيم بالتعويض عن المجهول لتحديد مجموعة الحل.

### مثال (٥)

أوجد مجموعة حل المعادلة:  $|١ + م| = |٣ - ٢م|$

الحل:

أولاً: طريقة المساواة

لاحظ أن للمقدارين القيمة المطلقة نفسها إذ هما متساويان، أو كل منهما هو المعكوس الجمعي للآخر.

$$\begin{array}{l|l} \text{أو} & \\ \hline ١ - م = ٣ - ٢م & ١ + م = ٣ - ٢م \\ ٣ + ١ - م = م + ٢م & ٣ + ١ = م - ٢م \\ ٢ = م٣ & ٤ = م \\ \frac{٢}{٣} = م & \end{array}$$

$$\left\{ \frac{٢}{٣}, ٤ \right\} = \text{مجموع الحل}$$

ثانياً: طريقة تربيع الطرفين

$${}^2(|١ + م|) = {}^2(|٣ - ٢م|)$$

$${}^2(١ + م) = {}^2(٣ - ٢م)$$

$$١ + م٢ + ٢م = ٩ + م١٢ - ٢م٤$$

$$٠ = ٨ + م١٤ - ٢م٣$$

$$٠ = (٢ - م٣)(٤ - م)$$

$$٤ = م \text{ أو } \frac{٢}{٣} = م$$

$$\text{تحقق: } |١ + م| = |٣ - ٢م|$$

$$م = \frac{٢}{٣}$$

### معلومة رياضية:

إذا كان  $|ص| = |س|$  فإن

•  $ص = س$  أو  $ص = -ص$ .

•  ${}^2(|ص|) = {}^2(|س|)$

عندما  $م = \frac{٢}{٣}$

$$\left| ١ + \frac{٢}{٣} \right| = \left| ٣ - \frac{٢}{٣} \times ٢ \right|$$

$$\left| \frac{٥}{٣} \right| = \left| \frac{٥}{٣} \right| \quad \checkmark \quad \text{الحلان مقبولان}$$

عندما  $م = ٤$

$$\left| ١ + ٤ \right| = \left| ٣ - ٤ \times ٢ \right|$$

$$\left| ٥ \right| = \left| -٥ \right| \quad \checkmark$$

$$\left\{ ٤, \frac{٢}{٣} \right\} = \text{مجموعة الحل}$$

## حاول أن تحل

٥ أوجد مجموعة حل كل من المعادلتين التاليتين:

ب  $|س - ٥| = |س - ٧|$

أ  $|ص - ٥| = |٢ص + ٣|$

استخدم طريقة المساواة ثم طريقة التربيع.

يمكننا كذلك حل معادلات تتضمن قيمة مطلقة في أحد طرفيها على النحو التالي:

## مثال (٦)

حل المعادلة:  $٢ - س٣ = |٣ + س٢|$

الحل:  $٢ - س٣ = |٣ + س٢|$

نعلم أن الطرف الأيمن للمعادلة غير سالب نتيجة وجود القيمة المطلقة، إذاً يجب أن يكون الطرف الأيسر للمعادلة غير سالب. لذلك نضيف الشرط:

$$٢ - س٣ \geq ٠ \text{ أي } س \leq \frac{٢}{٣}$$

(تقبل كل قيم س أكبر من أو تساوي  $\frac{٢}{٣}$ )

أي أن مجموعة التعويض هي  $(\frac{٢}{٣}, \infty)$

$$\begin{array}{l} \text{أو} \\ ٢ - س٣ = ٣ + س٢ \\ ٣ - ٢ = س٣ + س٢ \\ ١ = س٥ \\ \frac{١}{٥} = س \end{array}$$

$$\begin{array}{l} ٢ - س٣ = ٣ + س٢ \\ ٣ - ٢ = س٣ - س٢ \\ ٥ = س- \\ ٥ = س \end{array}$$

$$\therefore \left(\frac{٢}{٣}, \infty\right) \ni ٥ \therefore \text{الحل } س = ٥ \text{ مقبول}$$

$$\text{مجموعة الحل} = \{٥\}$$

$$\therefore \left(\frac{٢}{٣}, \infty\right) \not\ni \frac{١}{٥} \therefore \text{الحل } س = \frac{١}{٥} \text{ مرفوض}$$

### أضف إلى معلوماتك:

$$\sqrt{س^2} = |س|$$

### معلومة مفيدة:

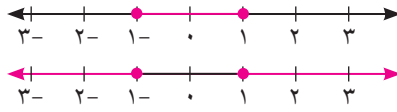
مجموعة الحل هي مجموعة جزئية من مجموعة التعويض

## حاول أن تحل

٦ حل المعادلة:  $٢ + س = |١ - س٤|$

## حل متباينات تتضمن قيمة مطلقة

يمكن أيضًا حل متباينات تتضمن قيمًا مطلقة باستخدام خط أعداد.



يبيّن التمثيل البياني الأول حلول المتباينة  $|س| ≥ ١$ .

يبيّن التمثيل البياني الثاني حلول المتباينة  $|س| ≤ ١$ .

### تذكر:

$|س| ≥ ١$  تعني أن  
بعد س عن الصفر  
هو أصغر من أو  
يساوي ١.

### تعميم

ليكن  $٢$  عددًا حقيقيًا موجبًا.

١  $|س| ≥ ٢$  تكافئ  $س ≥ ٢$  أو  $س ≤ -٢$

٢  $|س| ≤ ٢$  تكافئ  $س ≥ -٢$  أو  $س ≤ ٢$

### مثال (٧)

أوجد مجموعة حل المتباينة  $٤ |٢س + ١| + ٤ ≥ ١٢$ ، ومثل مجموعة الحل على خط أعداد.

الحل:  $٤ |٢س + ١| + ٤ ≥ ١٢$

$٤ |٢س + ١| ≥ ٨$

$|٢س + ١| ≥ ٢$

$٢- ≤ ٢س + ١ ≤ ٢$

$٣- ≤ ٢س ≤ ١$

$\frac{٣-}{٢} ≤ س ≤ \frac{١}{٢}$

مجموعة الحل =  $[\frac{١}{٢}, \frac{٣-}{٢}]$

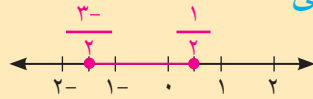
إضافة (-) ٤ إلى طرفي المعادلة

قسمة كل طرف على ٤

كتابة المتباينة المكافئة

إضافة (-) ١

القسمة على ٢



### حاول أن تحل

٧ أوجد مجموعة حل المتباينة  $١ |س - \frac{٤}{٥}| > ٦$ ، ومثل مجموعة الحل على خط أعداد.

### مثال (٨)

أوجد مجموعة حل المتباينة:  $٥ < ١ - |٤ - ٣م|٢$ ، ومثل الحل على خط أعداد.

$$\text{الحل: } ٥ < ١ - |٤ - ٣م|٢$$

إضافة ١ إلى طرفي المتباينة

$$٦ < |٤ - ٣م|٢$$

قسمة كل طرف على ٢

$$٣ < |٤ - ٣م|$$

كتابة المتباينة المكافئة

$$٣ - > ٤ - ٣م \quad \text{أو} \quad ٣ < ٤ - ٣م$$

بسّط

$$١ > ٣م \quad | \quad ٧ < ٣م$$

قسمة كل طرف على ٣

$$\frac{١}{٣} > م \quad | \quad \frac{٧}{٣} < م$$



$$\left(\frac{١}{٣}, \infty-\right) \cup \left(\infty, \frac{٧}{٣}\right) = \text{مجموعة الحل}$$

### حاول أن تحل

٨ أوجد مجموعة حل المتباينة:  $\left|س - \frac{٣}{٤}\right| \leq \frac{٧}{٨}$  ومثل الحل على خط أعداد.

### مثال (٩) تطبيقات حياتية



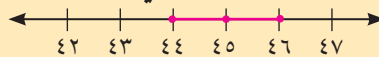
رياضة: يبلغ قطر دائرة مرمى كرة السلة ٤٥ سم مع هامش خطأ لا يزيد على ١ سم.  
 أ اكتب متباينة تتضمن قيمة مطلقة تعبر عن قطر دائرة مرمى تحقق هذا الشرط.  
 ب أوجد قيم طول القطر المقبولة ومثلها على خط أعداد.

الحل:

ليكن  $س$  قطر دائرة مرمى كرة سلة، وحيث إن  $س$  لا يزيد أو ينقص على ٤٥ سم بأكثر من ١ سم، فإن قيم  $س$  تحقق  $|س - ٤٥| \geq ١$ .

$$١ - س \geq ٤٥ \quad \text{أو} \quad س \geq ٤٤$$

مجموعة الحل =  $[٤٤, ٤٦]$  أي أن قيم طول القطر المقبولة تنتمي إلى  $[٤٤, ٤٦]$



### حاول أن تحل

٩ درجة حموضة عصير الطماطم هي ٤ مع هامش سماح ٢، ٠. اكتب متباينة تتضمن قيمة مطلقة تعبر عن درجات الحموضة المقبولة. وحلها ثم بين الحل على خط أعداد.



## مثال (١٠) تطبيقات حياتية

يبلغ وزن عبوة رقائق الذرة ٤٥٠ جرامًا. يختار مراقب الجودة بعض العبوات للتحقق من زنتها. تلغى كل عبوة يزيد الفرق بين وزنها ووزن عبوة الذرة على ٥ جم. اكتب متباينة تبين أوزان العبوات غير المقبولة ومثل الحل على خط أعداد.

الحل:

لتكن  $s$  وزن العبوة. العبوات غير المقبولة هي التي يزيد وزنها أو يقل عن الوزن المبين بأكثر من ٥ جم.

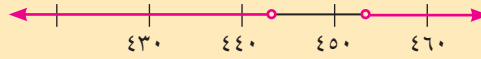
$$\text{أي } |s - 450| > 5$$

$$\text{أو } s - 450 > 5$$

$$s - 450 < -5$$

$$\text{أو } s > 455$$

$$s < 445$$



## حاول أن تحل

١٠ يعرض أحد المخازن المثلجات في عبوات تزن ٧٥٠ جرامًا. عند التحقق من الوزن تقبل العبوات التي لا يزيد أو لا يقل وزنها ٤٠ جرامًا على الوزن المعتمد. اكتب متباينة تتضمن قيمة مطلقة تبين أوزان العبوات المقبولة ومثل الحل على خط أعداد.

## دالة القيمة المطلقة

## Absolute Value Function

دعنا نفكر ونتناقش

سوف نتعلم

- الرسم البياني لدالة القيمة المطلقة
- استخدام هندسة التحويلات في رسم بعض دوال القيمة المطلقة

المعادلات على الشكل  $ص = |س + ب| + ج$  تمثل دوال قيمة مطلقة بمتغيرين. يمثل الرأس أكبر قيمة أو أصغر قيمة للدالة والتمثيل البياني لهذه الدوال يكون على شكل زاوية. لرسم الدالة  $ص = |س|$  بيانيًا يمكن استخدام جدول قيم.

|    |    |    |   |   |   |        |
|----|----|----|---|---|---|--------|
| ٣- | ٢- | ١- | ٠ | ١ | ٢ | س      |
| ٣  | ٢  | ١  | ٠ | ١ | ٢ | ص =  س |

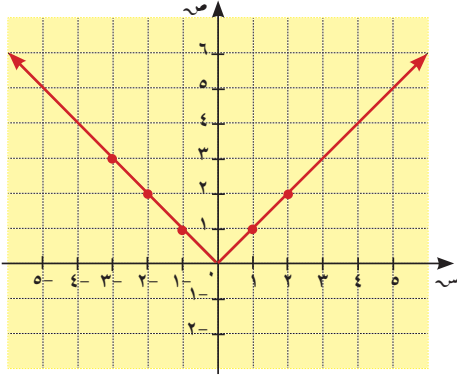
يمكن أيضًا كتابة  $ص = |س|$  دون استخدام رمز القيمة المطلقة.

$$\left. \begin{array}{l} س < ٠ \\ س = ٠ \\ س > ٠ \end{array} \right\} = ص$$

تعميم

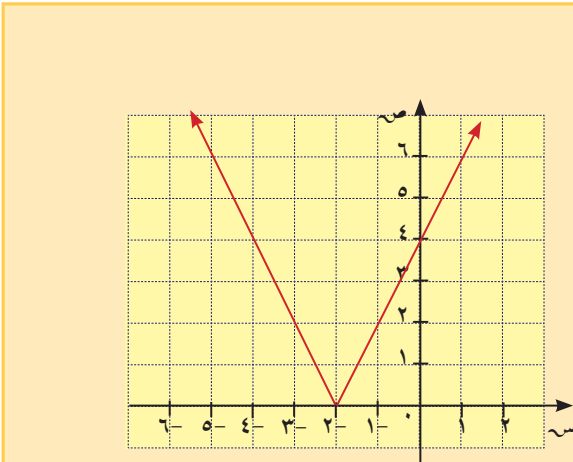
رأس منحنى الدالة  $ص = |س + ب| + ج$  هو النقطة  $(ج - \frac{ب}{م}, -)$

**ملاحظة:** رأس منحنى الدالة  $ص = |س + ب|$  هو النقطة  $(٠, -\frac{ب}{م})$



معلومة رياضية:

الرسم البياني للدالة  
ص = س مع س ≤ ٠ هو:



مثال (١)

ارسم بيانيًا الدالة:  $ص = |٢س + ٤|$ .الحل: رأس منحنى الدالة هو  $(٠, -\frac{ب}{م})$ 

$$٢- = \frac{٤-}{٢} = \frac{ب-}{م}$$

نضع جدول قيم للأزواج المرتبة (س، ص) يتضمن رأس المنحنى.

|    |    |    |    |   |   |
|----|----|----|----|---|---|
| ٤- | ٣- | ٢- | ١- | ٠ | س |
| ٤  | ٢  | ٠  | ٢  | ٤ | ص |

حاول أن تحل

١ ارسم بيانيًا الدالة:  $ص = |٣س + ٢|$ .



### مثال (٢)

ارسم بيانياً الدالة  $ص = |س - ٣| + ٢$  بعد كتابتها دون استخدام رمز القيمة المطلقة.

الحل:

نعيد الكتابة دون استخدام رمز القيمة المطلقة.

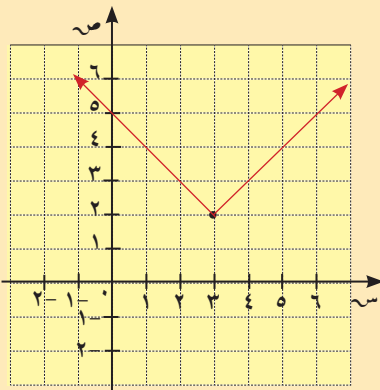
$$ص = |س - ٣| + ٢$$

$$\left. \begin{array}{l} ٠ \leq س - ٣ : \quad ٢ + س - ٣ \\ ٠ > س - ٣ : \quad ٢ + (٣ - س) - \end{array} \right\} = ص$$

$$\left. \begin{array}{l} ٣ \leq س : \quad ١ - س \\ ٣ > س : \quad ٥ + س - \end{array} \right\} = ص$$

نرسم بيانياً كلاً من الشعاعين  $ص = ١ - س$  حيث  $س \leq ٣$ ،

$ص = ٥ + س$  حيث  $س > ٣$ .



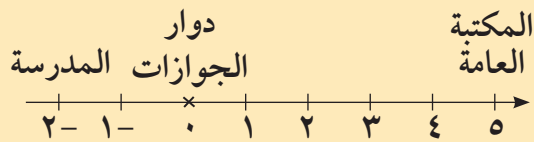
|   |   |   |   |
|---|---|---|---|
| ١ | ٢ | ٣ | س |
| ٤ | ٣ | ٢ | ص |

|   |   |   |   |
|---|---|---|---|
| ٥ | ٤ | ٣ | س |
| ٤ | ٣ | ٢ | ص |

### حاول أن تحل

٢ ارسم بيانياً الدالة:  $ص = \left| ١ + س + \frac{١}{٣} \right| - ٣$  بعد كتابتها دون استخدام رمز القيمة المطلقة.

### مثال (٣)



يقع منزل إبراهيم بين مدرسته والمكتبة العامة، وتوجد هذه المواقع الثلاثة على خط مستقيم يمر بدوار الجوازات.

تبعد المدرسة عن الدوار ٢ كم وتبعد المكتبة العامة عنه ٥ كم في الاتجاه المعاكس. كم يبعد منزل إبراهيم عن الدوار إذا كان البعد بين المنزل والمكتبة العامة مثلي البعد بين المنزل والمدرسة؟

الحل:

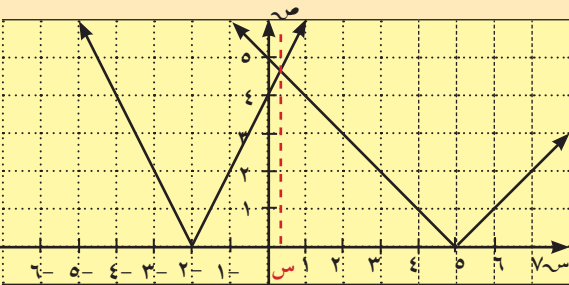
ليكن  $س$  البعد بين المنزل والدوار.

∴  $|س + ٢|$  البعد بين المنزل والمدرسة،  $|س - ٥|$  البعد بين المنزل والمكتبة.

نرسم بيانياً كلاً من الدالتين  $ص = ٢ + |س|$ ،  $ص = |س - ٥|$ .

تكون قيمة  $س$  الإحداثي السيني لنقطة التقاطع.

$$س = \frac{١}{٣}$$



تحقق

$$ص = |س - ٥|$$

$$|٥ - \frac{1}{٣}| =$$

$$\frac{1٤}{٣} =$$

$$ص = |٢ + س|$$

$$|٢ + \frac{1}{٣}| =$$

$$\frac{1٤}{٣} =$$

يبعد منزل إبراهيم  $\frac{1}{٣}$  كم عن الدوّار لجهة المكتبة العامة.

حاول أن تحل

٣ في مثال (٣)، حل المسألة إذا كانت المكتبة العامة تبعد ٤ كم عن الدوّار.

رسم بيان دوال المطلق باستخدام بعض التحويلات الهندسية

## Graph of Absolute Value Functions Using some Geometric Transformations

سوف نستخدم الإزاحة (الانسحاب) أفقيًا أو رأسيًا أو الاثنين معًا في رسم بعض دوال القيمة المطلقة.

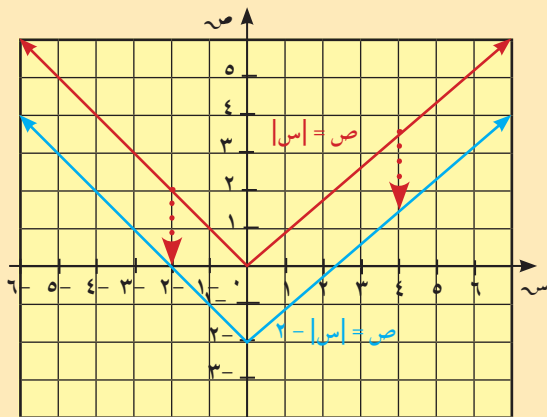
مثال (٤)

ارسم بيان كل من الدالتين:  $ص = |س|$ ،  $ص = |س - ٢|$ .

صف كيف يرتبط الرسم البياني للدالة  $ص = |س - ٢|$  بالرسم البياني للدالة  $ص = |س|$ .

الحل:

اصنع جدول قيم، ثم ارسم بيانًا.



| س  | $ص =  س $ | $ص =  س - ٢ $ |
|----|-----------|---------------|
| ٤- | ٤         | ٢             |
| ٢- | ٢         | ٠             |
| ٠  | ٠         | ٢-            |
| ٢  | ٢         | ٠             |
| ٤  | ٤         | ٢             |

لكل قيمة للمتغير س، تكون قيمة  $ص = |س - ٢|$  أصغر بـ ٢ من قيمة  $ص = |س|$ .  
الرسم البياني لـ  $ص = |س - ٢|$  هو صورة للرسم البياني لـ  $ص = |س|$  بعد إزاحته وحدتين إلى أسفل.

## حاول أن تحل

٤ لكل زوج من الدوال، قارن بين الرسمين البيانيين. صف كيف يتم الانتقال من الرسم البياني الأول إلى الثاني.

أ  $ص = |س|$ ،  $ص = |س| - ٤$

ب  $ص = |س| - ٣$ ،  $ص = |س| + ٣$

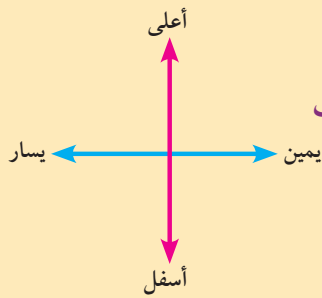
**دالة المرجع** هي دالة نستخدم بيانها للحصول على بيان دوال أخرى بإجراء بعض التحويلات الهندسية.

بعض دوال المرجع هي:  $ص = |س|$ ،  $ص = |س| + ٢$ ،  $ص = |س| - ٢$ ، ...

الرسم البياني للدالة  $ص = |س| + ك$  (ك عدد حقيقي موجب) ينتج من انسحاب الرسم البياني للدالة  $ص = |س|$  إلى الأعلى ك وحدة. كذلك ينتج الرسم البياني للدالة  $ص = |س| - ك$  من انسحاب الرسم البياني للدالة  $ص = |س|$  إلى الأسفل ك وحدة. التمثيل البياني للدالة  $ص = |س| \pm ك$  ينتج من انسحاب التمثيل البياني للدالة  $ص = |س|$  إلى الأعلى (أو إلى الأسفل) ك وحدة.

## مثال (٥)

لكل من الدالتين، حدّد دالة المرجع وارسم بيانها، ثم ارسم كل من الدالتين بياناً مستخدماً الانسحاب بعد تحديد مسافة الانسحاب واتجاهه.

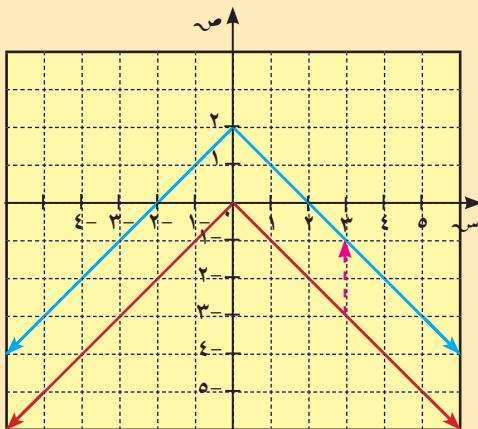


ب  $ص = |س| + ٢$

الحل:

ب دالة المرجع هي  $ص = |س|$ ،  $ك = ٢$

أزح الرسم البياني للدالة  $ص = |س|$  وحدتين إلى الأعلى.

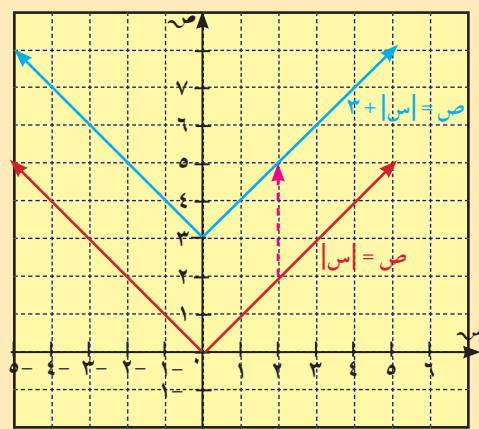


أ  $ص = |س| + ٣$

الحل:

أ دالة المرجع هي  $ص = |س|$ ،  $ك = ٣$

أزح الرسم البياني للدالة  $ص = |س|$  ٣ وحدات إلى الأعلى.



## حاول أن تحل

٥ استخدم دالة المرجع والانسحاب لرسم الدالة  $ص = |س| + ٥$ .

**ملاحظة:** يمكنك عمل جدول للقيم وتحديد بعض النقاط للتحقق من صحة الرسم.

يتشارك الانسحاب الأفقي مع الانسحاب الرأسى ببعض الخصائص.

الرسم البياني للدالة  $ص = |س| + ل$  (حيث  $ل$  عدد حقيقي موجب) هو انسحاب للرسم البياني للدالة  $ص = |س|$ ،  $ل$  وحدة إلى جهة اليسار. كذلك الرسم البياني للدالة  $ص = |س| - ل$  هو انسحاب لدالة المرجع  $ص = |س|$   $ل$  وحدة إلى جهة اليمين.

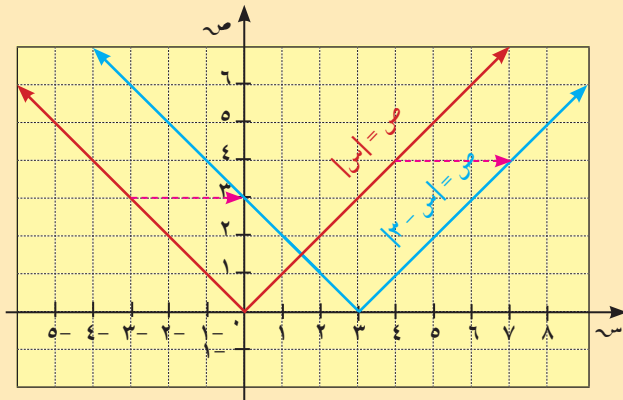
## مثال (٦)

لكل من الدالتين، حدّد دالة المرجع وقيمة مسافة الانسحاب  $ل$  ثم ارسم بيانياً كل دالة مستخدماً الإزاحة.

ب  $ص = |س - ٣|$

الحل:

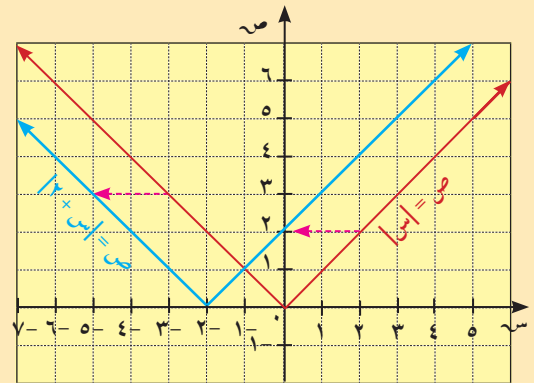
دالة المرجع هي  $ص = |س|$ ،  $ل = ٣$   
الإشارة (-) تعني الإزاحة إلى اليمين.  
أزح رسم  $ص = |س|$  ثلاث وحدات إلى اليمين.



أ  $ص = |س + ٢|$

الحل:

دالة المرجع هي  $ص = |س|$ ،  $ل = ٢$   
الإشارة (+) تعني الإزاحة إلى اليسار.  
أزح رسم  $ص = |س|$  وحدتين إلى اليسار.



## حاول أن تحل

٦ استخدم دالة المرجع والانسحاب لرسم الدالة  $ص = -|س + \frac{٥}{٢}|$ .

### مثال (٧)

الرسم البياني للدالة:  $v = -|s + 4|$  حيث  $l \ni$  هو انسحاب للرسم البياني للدالة  $v = -|s|$ ،  $l$  وحدة إلى جهة اليسار. كذلك الرسم البياني للدالة  $v = -|s - 4|$  هو انسحاب للدالة المرجع  $v = -|s|$ ،  $l$  وحدة إلى جهة اليمين.

لكل من الدالتين، حدد دالة المرجع وقيمة مسافة الانسحاب  $l$ ، ثم ارسم بيانيًا كل دالة مستخدمًا الإزاحة.

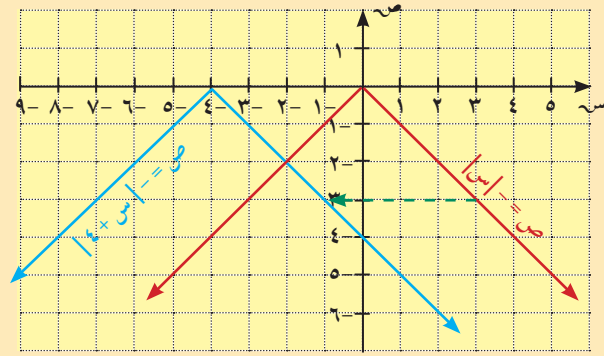
أ  $v = -|s + 4|$

الحل:

دالة المرجع  $v = -|s|$ ،  $l = 4$

( $4+$ ) تعني الانسحاب أربعة وحدات إلى جهة اليسار.

ضع الرأس ( ) ثم ارسم بيانيًا الدالة.



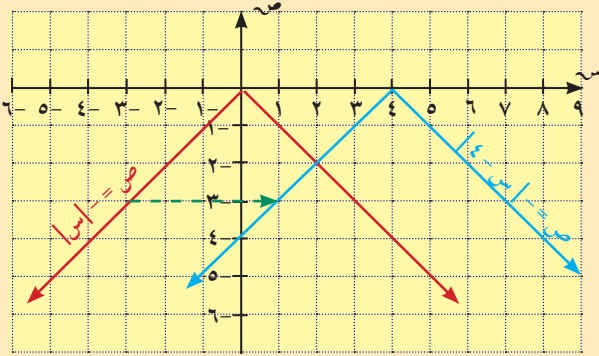
ب  $v = -|s - 4|$

الحل:

دالة المرجع  $v = -|s|$ ،  $l = 4$

( $4+$ ) تعني الانسحاب أربعة وحدات إلى جهة اليمين.

ضع الرأس ( ) ثم ارسم بيانيًا الدالة.



### حاول أن تحل

٧ لكل من الدالتين، حدد دالة المرجع وقيمة مسافة الانسحاب  $l$ ، ثم ارسم بيانيًا كل دالة مستخدمًا الانسحاب.

أ  $v = -|s - 2|$

ب  $v = -|s + 3|$

### مثال (٨)

ارسم بيانياً كلاً من الدالتين:

أ  $ص = |س - ٢| + ١$

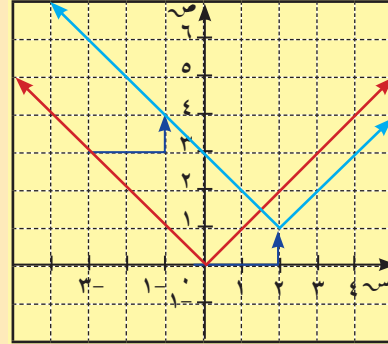
الحل:

دالة المرجع  $ص = |س|$ ،  $ل = ٢$ ،  $ك = ١$

(٢-) تعني الانسحاب وحدتين إلى جهة اليمين.

(١+) تعني الانسحاب وحدة واحدة إلى الأعلى.

ضع الرأس (١، ٢) ثم ارسم بيانياً الدالة.



### حاول أن تحل

٨ استخدم دالة المرجع والانسحاب لرسم الدالة:

أ  $ص = |س + ٤| + ٣$

ب  $ص = -|س - ٥| - ٣$

تعرفت كيفية استخدام الانسحاب الأفقي أو الرأسى لدوال المرجع للحصول على رسم بياني لبعض دوال القيمة المطلقة. يمكن أيضاً استخدام الانسحابين الأفقي والرأسى معاً للحصول على بعض الرسوم البيانية للدوال:  $ص = |س + ل| - ك$

ب  $ص = -|س + ٣| - ٢$

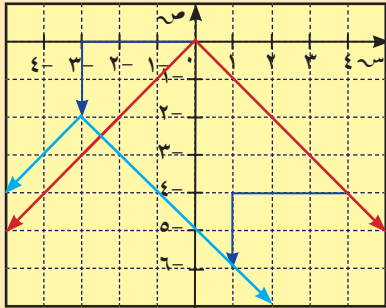
الحل:

دالة المرجع هي  $ص = -|س|$ ،  $ل = ٣$ ،  $ك = ٢$

(٣+) تعني الانسحاب ٣ وحدات إلى جهة اليسار.

(٢-) تعني الانسحاب وحدتين إلى أسفل.

ضع الرأس (-٣، -٢) ثم ارسم بيانياً الدالة.



يمكنك رسم بيان الدالتين في مثال (٨) بتحديد رأس منحنى الدالة، وتحديد بعض النقاط.

## المستقيمات المتوازية والمتعامدة

## Parallel and Perpendicular Lines

## سوف تتعلم

- معرفة ما إذا كان مستقيمان متوازيين
- معرفة ما إذا كان مستقيمان متعامدين
- استخدام الميل لمعرفة توازي أو تعامد أو تقاطع مستقيمين

## ملاحظة:

في الرسمين البيانيين: الميل يمثل السرعة لأن السرعة هي ناتج قسمة المسافة المقطوعة على الزمن المستغرق. أي كلما زادت سرعة الركض كبر ميل المستقيم.

## معلومة رياضية:

يعتبر المستقيمان المنطبقان متوازيين

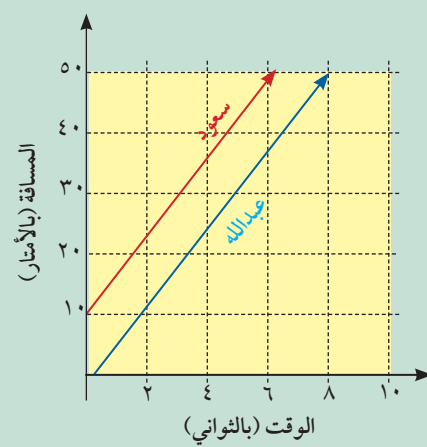
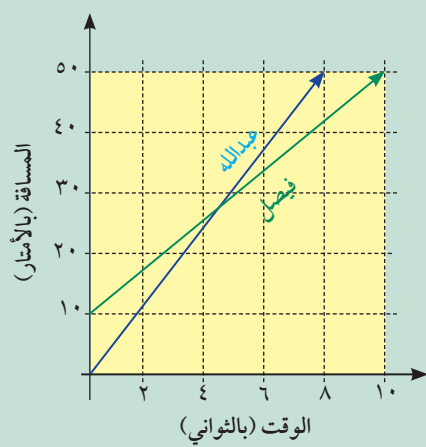
## فلنعمل معاً

١ طابق كل قصة مع رسمها البياني. علّل اختيارك.

يتسابق عبدالله مع أخويه فيصل وسعود في الركض.

أ قطع سعود بعض الأمتار قبل أن يبدأ عبدالله بالركض لكنهما ركضا بالسرعة نفسها.

ب عند انطلاق عبدالله كان فيصل قد قطع عدة أمتار لكن عبدالله ركض أسرع من أخيه.



٢ أ في الرسم أ كيف يبدو البعد بين سعود وعبدالله بعد ثانيتين؟ ٤ ثوانٍ؟ ٦ ثوانٍ؟

ب أفرض أن طول السباق هو أكبر، هل يلتقي المستقيمان في الرسم أ؟

ج ما ميل كل مستقيم في الرسم أ؟

٣ أ في الرسم ب كيف يبدو البعد بين فيصل وعبدالله بعد ثانيتين؟ ٤ ثوانٍ؟ ٦ ثوانٍ؟

ب كيف تعرف من وصل قبل الآخر إلى خط النهاية؟

## Parallele Lines

## المستقيمات المتوازية

يكون المستقيمان غير الرأسيين متوازيين إذا كان لهما الميل نفسه.

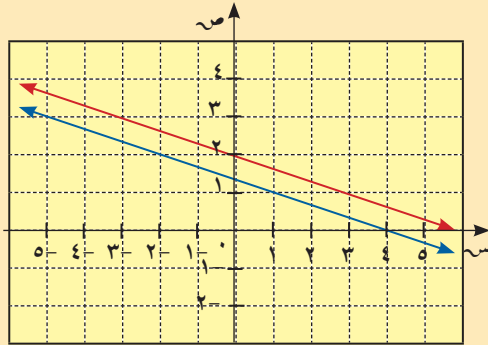
كل مستقيمان رأسيان متوازيان.

فمثلاً: ميل كل من  $ص = ٢س + ٣$ ،  $ص = ٢س - ٥$  هو ٢.

الرسمان البيانيان لهاتين المعادلتين هما مستقيمان متوازيان.

ملاحظة: يكون المستقيمان المتوازيان منطبقين إذا كان كل منهما يقطع المحور الصادي عند النقطة نفسها.

### مثال (١)



يوضح الشكل المقابل التمثيل البياني للمستقيمين:

$$\text{ص} = -\frac{1}{3}\text{س} + 2, \quad 2 + \text{س} = 6 + \text{ص} = 8$$

هل المستقيمان متوازيان؟

هل المستقيمان منطبقان؟ فسّر إجابتك.

الحل:

نكتب المعادلتين على الشكل  $\text{ص} = \text{م س} + \text{ن}$  (معادلة الميل والجزء المقطوع)

$$\text{في المعادلة ص} = -\frac{1}{3}\text{س} + 2$$

والجزء المقطوع من المحور الصادي = 2

$$\text{الميل} = -\frac{1}{3}$$

في المعادلة  $2 + \text{س} = 6 + \text{ص} = 8$

$$\text{ص} = 2 - \text{س} = 8$$

$$\text{ص} = -\frac{1}{3}\text{س} + \frac{4}{3}$$

والجزء المقطوع من المحور الصادي =  $\frac{4}{3}$

$$\text{الميل} = -\frac{1}{3}$$

∴ للمستقيمين الميل نفسه  $-\frac{1}{3}$

∴ المستقيمان متوازيان.

∴ الجزء المقطوع من المحور الصادي مختلف

∴ المستقيمان غير منطبقين (مختلفان)

### حاول أن تحل

١ هل المستقيمان  $\text{ص} = \frac{3}{4}\text{س} - 1$ ،  $6 + \text{س} = 8 + \text{ص} = 12$  متوازيان؟ فسّر إجابتك.

يمكنك استخدام حقيقة أن لمستقيمين متوازيين الميل نفسه لكتابة معادلة مستقيم موازٍ لمستقيم معطى بمعادلته ويمر بنقطة ما.

### مثال (٢)

أوجد معادلة المستقيم (ل) الذي يمر بالنقطة (١، ٠) وموازٍ للمستقيم (ل) الذي معادلته  $\text{ص} = 2 + \text{س} = 1$ .

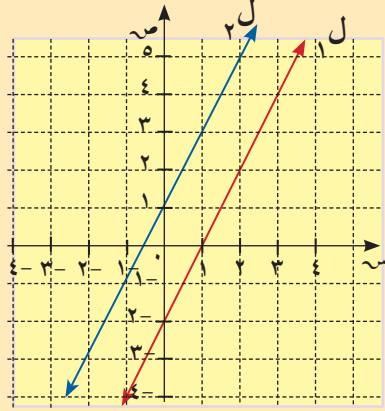
الحل:

ميل المستقيم (ل):  $\text{ص} = 2 + \text{س} = 1$  هو 2.

نكتب معادلة المستقيم (ل) على الصورة  $\text{ص} = 2 + \text{س} + \text{ب}$

لإيجاد قيمة ب عوض عن (س، ص) ب (١، ٠)





$$\text{ص} = 2\text{س} + \text{ب}$$

$$0 = 2(1) + \text{ب}$$

$$0 = 2 + \text{ب}$$

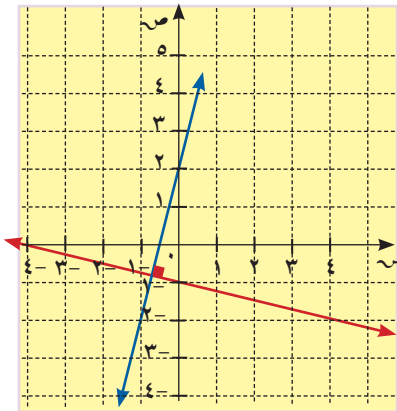
$$\text{ب} = -2$$

معادلة المستقيم (ل<sub>1</sub>):  $\text{ص} = 2\text{س} - 2$

حاول أن تحل

٢ أوجد معادلة المستقيم (ل<sub>1</sub>) الموازي للمستقيم (ل<sub>2</sub>) الذي معادلته  $\text{ص} = -\frac{3}{4}\text{س} + 1$  ويمر بالنقطة (٢، ٣).

## Perpendicular Lines



## المستقيمان المتعامدان

المستقيمان في الرسم المقابل هما متعامدان.

يكون مستقيمان متعامدين إذا كانت الزاوية المحددة بهما زاوية قائمة.

معادلة المستقيم باللون الأحمر:  $\text{ص} = -\frac{1}{4}\text{س} + 1$ .

معادلة المستقيم باللون الأزرق:  $\text{ص} = 4\text{س} + 2$ .

### خاصية:

يكون مستقيمان متعامدين إذا كان ناتج ضرب ميليهما يساوي -١.

كل مستقيم رأسي يكون عمودياً على أي مستقيم أفقي.

مثلاً: ميل المستقيم  $\text{ص} = \frac{3}{4}\text{س} + 1$  هو  $\frac{3}{4}$ . ميل المستقيم  $\text{ص} = -\frac{4}{3}\text{س} + 2$  هو  $-\frac{4}{3}$ .

لَمَّا كان  $\frac{3}{4} \times \left(-\frac{4}{3}\right) = -1$ ، إذا فالرسمان البيانيان للمعادلتين متعامدان.

إذا كان ميل مستقيم هو  $\frac{p}{b}$  فإن ميل المستقيم المتعامد معه هو  $-\frac{b}{p}$  حيث  $b \times p \neq 0$ .

يمكن استخدام هذه الخاصية لإيجاد معادلة مستقيم يمر بنقطة ما ومتعامد مع مستقيم آخر معطى بمعادلته.

### مثال (٣)

أوجد معادلة المستقيم الذي يمر بالنقطة (٤، ١) والعمودي على المستقيم الذي معادلته  $ص = ٢س + ٥$ .  
الحل:

ميل المستقيم المعطى هو ٢.

ميل المستقيم العمودي عليه هو  $(-\frac{1}{٢})$ .

معادلة هذا المستقيم هي على الصورة:

$$ص - ١ = -\frac{1}{٢}(س - ٤)$$

عوض عن (س، ص) بالزوج المرتب (٤، ١).

$$١ - ١ = -\frac{1}{٢}(٤ - ٤)$$

$$٠ = ٠$$

$$٣ = ٣$$

∴  $ص - ١ = -\frac{1}{٢}(س - ٤)$  وهي المعادلة المطلوبة.

#### إرشاد:

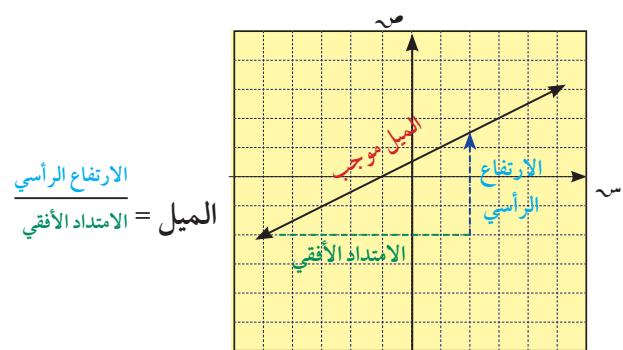
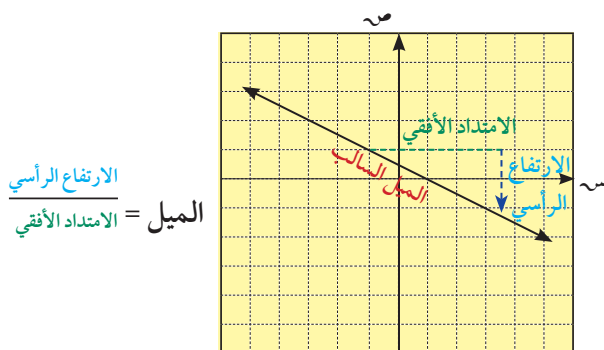
بعد إيجاد ميل المستقيم المتعامد، أوجد ناتج ضرب الميلين وتحقق أنه يساوي -١.

### حاول أن تحل

٣ أوجد معادلة المستقيم الذي يمر بالنقطة (٣، ٤) والعمودي على المستقيم الذي معادلته  $ص = \frac{٣}{٥}س + ٦$ .

درست فيما سبق أن الرياضيين يستخدمون مصطلح الميل لوصفوا انحدار الخط. هذا يربط التغير الرأسي بالتغير الأفقي. ويسميان غالبًا الارتفاع الرأسي *the rise* والامتداد الأفقي *the run*.

- المستقيم الذي يصنع زاوية حادة مع الاتجاه الموجب لمحور السينات يكون ميله موجبًا.
- المستقيم الذي يصنع زاوية منفرجة مع الاتجاه الموجب لمحور السينات يكون ميله سالبًا.
- المستقيم الرأسي ليس له ميل.
- المستقيم الأفقي ميله يساوي صفرًا.



## تطبيقات حياتية

مثال (٤)

قررت إدارة الحديقة العامة في السالمية إنشاء طريق للدراجات الهوائية يبدأ من مدخل الحديقة ويكون متعامداً مع الطريق الرئيسي للمشاة داخل الحديقة. أوجد معادلة الخط المستقيم الذي يمثل طريق الدراجات. (انظر الشكل).

الحل:

$$\text{ميل خط المشاة} = \frac{2}{1} = 2$$

$$\text{ميل خط الدراجات} = -\frac{1}{2}$$

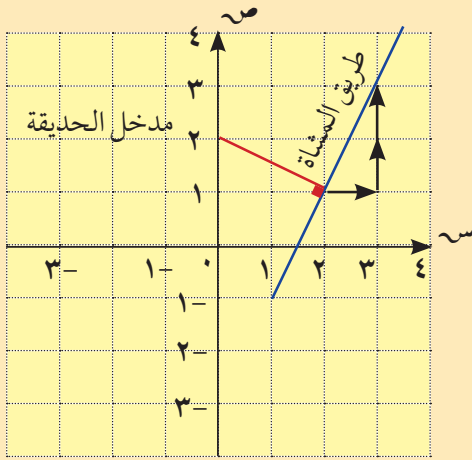
معادلة خط الدراجات هي على الصورة  $v = -\frac{1}{2}س + ب$

يمر هذا الخط بالنقطة  $(2, 0)$  إذاً

$$0 = -\frac{1}{2}(2) + ب$$

$$ب = 2$$

$$\text{معادلة خط الدراجات هي } v = -\frac{1}{2}س + 2$$



مثال (٥)

يمر جدول ماء بالقرب من حديقة جاسم. يريد جاسم مد خرطوم ماء لري الحديقة بحيث يكون طوله أقصر ما يمكن. ساعد جاسم على تحقيق ذلك.

الحل:

يبين الرسم جدول الماء (باللون الأزرق) وحديقة جاسم (باللون الأحمر).

$$\text{ميل جدول الماء} = \frac{2}{-2} = -1$$

إذاً ميل المستقيم من حديقة جاسم إلى الجدول هو:  $1 = \frac{1}{-1}$

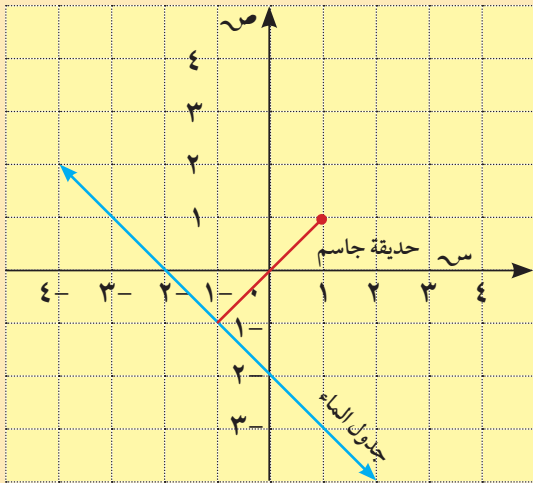
$$\text{ومعادلته: } v = 1س + ب$$

نعوّض عن (س، ص) بإحداثيات الحديقة  $(1, 1)$

$$1 = 1(1) + ب \Rightarrow ب = 0 \text{ ومنه } v = 1س$$

نرسم بياناً المستقيم الذي معادلته  $v = 1س$ .

يمثل هذا المستقيم الخط حيث يمر خرطوم المياه.



## حل نظام معادلتين خطيتين

## Solving a System of Two Linear Equations

## سوف تتعلم

- حل نظام معادلتين خطيتين بيانياً
- حل نظام معادلتين خطيتين باستخدام طريقة الحذف
- حل نظام معادلتين خطيتين بيانياً باستخدام طريقة التعويض

معلومة مفيدة (تكنولوجيا)

لإدخال البيانات في الآلة الحاسبة، نعتمد الصيغة:

$$1 \quad \text{MODE} \quad \text{EQN} \quad \begin{bmatrix} a_n & x & + & b_n & y & = & c_n \end{bmatrix}$$

أو

$$2 \quad \text{MODE} \quad \text{MODE} \quad \text{EQN} \quad 2 \text{ Unknowns}$$

يظهر على الشاشة



$$\begin{bmatrix} a & b & c \\ 1 & \cdot & \cdot \\ 2 & \cdot & \cdot \end{bmatrix}$$

ملاحظة: ١ معظم الآلات الحاسبة تعتمد الصيغة

$$ax + by = c \quad \text{أس} + \text{ب ص} = \text{ج} ،$$

٢ تختلف صيغة إدخال البيانات من آلة حاسبة إلى أخرى لذلك ينصح بمراجعة الدليل المرفق بكل آلة حاسبة.

## معلومة رياضية:

نستخدم الأقواس الكبيرة } قبل كتابة نظام المعادلات.

## استكشاف: تحليل الرسوم البيانية

$$\left. \begin{array}{l} \text{أ} \quad \left. \begin{array}{l} \text{ص} = 2\text{س} + 3 \\ \text{ص} = -\text{س} + 1 \end{array} \right\} \quad \text{ب} \quad \left. \begin{array}{l} \text{ص} = 2\text{س} + 1 \\ \text{ص} = 2\text{س} \end{array} \right\} \quad \text{ج} \quad \left. \begin{array}{l} \text{ص} = 2\text{س} + 2 \\ \text{ص} = 4 - 2\text{س} \end{array} \right\}$$

٢ لكل زوج من المعادلات أجب عن الأسئلة التالية:

أ هل للرسوم البيانية نقاط مشتركة؟ ما عددها؟

ب قارن بين ميلي كل زوج من المعادلات الخطية. ما العلاقة بين عدد النقاط المشتركة والميلين؟

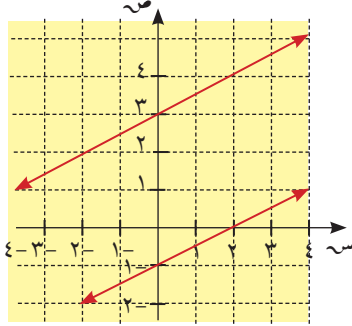
نظام معادلات هو مجموعة من معادلتين أو أكثر تستخدم المتغيرات نفسها. إذا كان الرسم البياني لكل معادلة في نظام من معادلتين هو خط مستقيم، فإن النظام يدعى نظاماً خطياً.

$$\text{فمثلاً} \quad \left. \begin{array}{l} \text{ص} = 2\text{س} + 3 \\ \text{ص} = 2\text{س} + 4 \end{array} \right\} \text{هو نظام خطي}$$

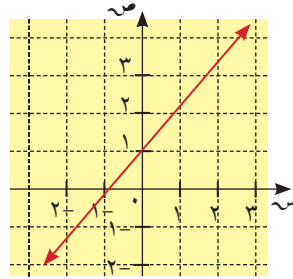
حل نظام معادلات هو إيجاد قيم المتغيرات التي تحقق كل معادلات النظام.

يمكن حل نظام معادلتين خطيتين هندسيًا بتمثيل معادلاتهما بيانياً.

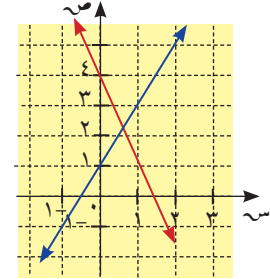
يمكن لنظام معادلتين خطيتين أن يكون له حل واحد أو لا حل، أو عدد لانهائي من الحلول.



المستقيمان متوازيان  
لا حل للنظام



المستقيمان منطبقان  
للنظام عدد لانهائي من الحلول



المستقيمان متقاطعان  
للنظام حل واحد

مثال (١)

أوجد مجموعة حل النظام  $\begin{cases} 2س - 3ص = 1 \\ 3س + 4ص = 10 \end{cases}$  بيانياً وتحقق من الحل.  
الحل:

ارسم بيانياً المستقيم الذي يمثل كل معادلة، وأوجد نقطة تقاطع المستقيمين. يبدو أن الحل هو (٢، ١).

تحقق:

تحقق ما إن كان الزوج المرتب (٢، ١) يحقق كلتا المعادلتين.

$$3س + 4ص = 10$$

$$10 \stackrel{?}{=} (1)4 + (2)3$$

$$10 \stackrel{?}{=} 4 + 6$$

$$\checkmark 10 = 10$$

$$2س - 3ص = 1$$

$$1 \stackrel{?}{=} (1)3 - (2)2$$

$$1 \stackrel{?}{=} 3 - 4$$

$$\checkmark 1 \stackrel{?}{=} 1$$

∴ مجموعة حل النظام = {(٢، ١)}

حاول أن تحل

١ أوجد مجموعة حل النظام  $\begin{cases} 2س + 3ص = 5 \\ 3س - 4ص = -1 \end{cases}$  بيانياً وتحقق من الحل.

يمكن حل نظام معادلتين خطيتين جبرياً بطريقة الحذف. نستخدم خاصية الجمع والضرب في المعادلات.

### مثال (٢)

استخدم طريقة الحذف لإيجاد مجموعة حل النظام  $\begin{cases} 2س - ص = 3 \\ 3س + ص = 7 \end{cases}$

الحل:

$$\begin{array}{r} 2س - ص = 3 \\ 3س + ص = 7 \\ \hline 5س = 10 \\ س = 2 \end{array}$$

اختر إحدى المعادلتين

عوض عن س بـ ٢ في المعادلة ٢

بسّط

$$\begin{array}{r} 2س + 3ص = 7 \\ 3(2) + 3ص = 7 \\ 7 = 6 + 3ص \\ 1 = 3ص \\ ص = 1 \end{array}$$

مجموعة الحل =  $\{(1, 2)\}$ .

### حاول أن تحل

٢ استخدم طريقة الحذف لإيجاد مجموعة حل النظام  $\begin{cases} 2س + 3ص = 11 \\ 2س - 4ص = 10 \end{cases}$

يمكن أن تحوّل صيغ معادلتين النظام بحيث يصبح معامل ص (أو س) كل منهما المعكوس الجمعي للآخر باستخدام خاصية الضرب في المعادلات.

### مثال (٣)

استخدم طريقة الحذف لإيجاد مجموعة حل النظام  $\begin{cases} 2س + 3ص = 3 \\ 3س - 5ص = 14 \end{cases}$

١ الحل:  $2س + 3ص = 3$

٢  $3س - 5ص = 14$

$$2س + 3ص = 3 \quad \dots \quad 3 \quad \text{اضرب المعادلة ١ في ٥} \quad \leftarrow \quad 10س + 15ص = 15$$

$$3س - 5ص = 14 \quad \dots \quad 14 \quad \text{اضرب المعادلة ٢ في ٣} \quad \leftarrow \quad 9س - 15ص = 42$$

اجمع

$$19س = 57$$

$$3 = س$$

اختر إحدى المعادلتين

$$2س + 3ص = 3$$

$$2(2) + 3ص = 3$$

$$3 = 3ص + 6$$

$$3 - 6 = 3ص$$

$$-3 = 3ص$$

$$-1 = ص$$

مجموعة الحل =  $\{(3, -1)\}$

حاول أن تحل

٣ استخدم طريقة الحذف لإيجاد مجموعة حل النظام

$$\begin{cases} 12 = 3ل + 2م \\ 13 = ل - 5م \end{cases}$$

يمكن أيضًا حل نظام معادلتين جبريًا بطريقة التعويض.  
حدّد قيمة أحد المتغيرين بدلالة الآخر في إحدى المعادلتين، وعوّض عنه بقيمته في المعادلة الثانية.

مثال (٤)

استخدم طريقة التعويض لإيجاد مجموعة حل النظام

$$\begin{cases} 1 = 3س - ص \\ 5 = 3س - 2ص \end{cases}$$

الحل: في المعادلة الأولى (تم اختيارها لأنها أسهل)، حدّد قيمة ص بدلالة س.

$$1 = 3س - ص$$

$$ص = 3س - 1$$

في المعادلة الثانية عوّض عن ص بقيمتها:

$$5 = 3س - 2(3س - 1)$$

$$5 = 3س - 6س + 2$$

$$3 = -3س$$

$$-1 = س$$

عوّض عن س بـ  $(-1)$  في  $ص = 3س - 1$

$$ص = 3(-1) - 1$$

$$ص = -4$$

مجموعة الحل:  $\{(-1, -4)\}$

حاول أن تحل

٤ أوجد مجموعة حل النظام

$$\begin{cases} 3 + 2ر = ت \\ 6 = 4ت - 5ر \end{cases}$$

مستخدمًا طريقة التعويض.

## مثال (٥) تطبيقات حياتية

دفع محمد ٢,٨٠٠ دينار ثمن ٦ أكواب شاي وقطعتي حلوى، ودفع سالم في المكان نفسه ٥,٢٠٠ دينار ثمن كوبين من الشاي و٦ قطع حلوى. ما سعر كوب الشاي وما سعر قطعة الحلوى؟  
الحل:

ليكن ش سعر كوب الشاي وح سعر قطعة الحلوى

|      |                         |   |                     |   |     |                        |
|------|-------------------------|---|---------------------|---|-----|------------------------|
| محمد | ٦ أكواب شاي<br>ش × ٦    | و | قطعتا حلوى<br>ح × ٢ | = | دفع | ٢,٨٠٠ دينار<br>٢,٨٠٠ = |
| سالم | كوبان من الشاي<br>ش × ٢ | و | ٦ قطع حلوى<br>ح × ٦ | = | دفع | ٥,٢٠٠ دينار<br>٥,٢٠٠ = |

لمعرفة الأسعار نحل النظام:  $\left. \begin{array}{l} ٢,٨٠٠ = ٦ش + ٢ح \\ ٥,٢٠٠ = ٢ش + ٦ح \end{array} \right\}$

باستخدام أي من الطرائق التي سبق عرضها نحصل على: ش = ٥,٢٠٠، ح = ٠,٨٠٠.  
أي أن سعر كوب الشاي = ٥,٢٠٠ دينار، وسعر قطعة الحلوى = ٠,٨٠٠ دينار.

## حاول أن تحل

- ٥ وزعت ٦ كجم من المربيات في ١٤ عبوة، بعض العبوات يحتوي على ٥٠٠ جم وبعضها الآخر على ٣٧٥ جم. ما عدد العبوات من كل نوع؟



## حل معادلات من الدرجة الثانية في متغير واحد Solving Quadratic Equations in One Variable

### سوف تتعلم

- قانون حل المعادلات من الدرجة الثانية
- استخدام المميز  $\Delta$
- المقارنة بين المعادلة والشكل البياني
- للدالة من الدرجة الثانية باستخدام  $\Delta$
- مجموع وناتج ضرب جذري المعادلة
- إيجاد معادلة من الدرجة الثانية إذا علم جذراها

### دعنا نفكر ونتناقش

سبق أن قمت بحلّ بعض معادلات الدرجة الثانية بالتحليل، كما في المثال التالي:

$$\text{حلّ المعادلة: } س^2 - 7س + 10 = 0$$

الحل:

$$س^2 - 7س + 10 = 0$$

$$0 = (س - 5)(س - 2)$$

$$\therefore س = 2 \text{ أو } س = 5$$

$$\text{أي } س = 2 \text{ أو } س = 5$$

إذا حلّ المعادلة هو  $س = 2$  أو  $س = 5$

لكن بعض المعادلات يصعب (أو لا يمكن) حلها بالتحليل.

لذلك نبحث عن طريقة أخرى هي بإكمال المربع، كما في المثال التالي:

$$\text{حلّ المعادلة: } س^2 + 6س - 5 = 0$$

$$\text{الحل: نأخذ المربع الكامل: } (س + 3)^2 = س^2 + 6س + 9$$

$$\text{وبالمقارنة مع المعادلة } س^2 + 6س = 5$$

$$\text{نحصل على } س = 3, س = 9$$

وعليه، لحل المعادلة نضيف للطرفين  $س^2 + 9 = 9$  لنحصل على مربع كامل.

$$س^2 + 6س + 9 = 5 + 9$$

$$\text{بإكمال المربع للمقدار } س^2 + 6س + 9$$

$$14 = (س + 3)^2$$

$$س + 3 = \pm\sqrt{14}$$

$$س = -3 + \sqrt{14} \text{ أو } س = -3 - \sqrt{14}$$

إن طريقة إكمال المربع تصلح لحل أي معادلة من الدرجة الثانية.

### ١- حل معادلة من الدرجة الثانية في متغير واحد بإكمال المربع:

## Solving Quadratic Equation by Completing the Square

### إرشاد:

لإكمال المربع نضيف إلى الطرفين  $(\frac{1}{4} \text{ معامل } س)^2$

### مثال (١)

أوجد مجموعة حلّ المعادلة:  $س^2 + 10س - 16 = 0$  بإكمال المربع.

الحل:

نكمل  $س^2 + 10س + 25$  لتصبح مربعًا كاملًا،

بإضافة ٢٥ إلى طرفي المعادلة نجد أن:

$$س^٢ + ١٠س + ١٦ = ٢٥ + ١٦ - ٢٥$$

$$١٦ - ٢٥ = (س + ٥)²$$

$$٩ = (س + ٥)²$$

$$س + ٥ = ±٣$$

$$س = ٨- \text{ أو } س = ٢-$$

حاول أن تحل

١ حل المعادلة:  $س^٢ - ٨س = ١٥$  بإكمال المربع.

## ٢- استخدام القانون لحل معادلات الدرجة الثانية في متغير واحد

### Solving Quadratic Equations by Using the Quadratic Formula

تستخدم طريقة إكمال المربع لاستنتاج قانون عام لحل أي معادلة من الدرجة الثانية على الصورة:  $س^٢ + بس + ج = ٠$ ، وذلك بأخذ مثال عددي: حل المعادلة:  $س^٢ + ٦س + ١ = ٠$

المثال العددي:

$$س^٢ + ٦س + ١ = ٠$$

$$س^٢ + \frac{٦}{٢}س + \frac{١}{٢} = \frac{١}{٢} \text{ بالقسمة على } ٢. \text{ لماذا؟}$$

$$س^٢ + ٣س = -\frac{١}{٢}$$

$$س^٢ + ٢\left(\frac{٣}{٢}\right)س + \left(\frac{٣}{٢}\right)^٢ = \left(\frac{٣}{٢}\right)^٢ - \frac{١}{٢}$$

$$\left(س + \frac{٣}{٢}\right)^٢ = \frac{٩}{٤} - \frac{١}{٢}$$

$$\left(س + \frac{٣}{٢}\right)^٢ = \frac{٧}{٤}$$

$$س + \frac{٣}{٢} = \pm \sqrt{\frac{٧}{٤}}$$

$$س = \frac{\sqrt{٧} \pm ٣}{٢}$$

من ذلك نستنتج أن:

الصورة العامة:

$$س^٢ + بس + ج = ٠$$

$$س^٢ + \frac{ب}{٢}س + \frac{ج}{٢} = \frac{١}{٢} \text{ بالقسمة على } ٢ \text{ حيث } ٢ \neq ٠$$

$$س^٢ + \frac{ب}{٢}س = -\frac{ج}{٢}$$

$$س^٢ + ٢\left(\frac{ب}{٢}\right)س + \left(\frac{ب}{٢}\right)^٢ = \left(\frac{ب}{٢}\right)^٢ - \frac{ج}{٢}$$

$$\left(س + \frac{ب}{٢}\right)^٢ = \frac{ب^٢}{٤} - \frac{ج}{٢}$$

$$\left(س + \frac{ب}{٢}\right)^٢ = \frac{ب^٢ - ٢ج}{٤}$$

$$س + \frac{ب}{٢} = \pm \sqrt{\frac{ب^٢ - ٢ج}{٤}}$$

$$س = \frac{-ب \pm \sqrt{ب^٢ - ٢ج}}{٢}$$

القانون العام لحل معادلات الدرجة الثانية في متغير واحد:

$$س = \frac{-ب \pm \sqrt{ب^٢ - ٢ج}}{٢} \text{ حيث } ٢ \neq ٠ \text{ هو: } س = \frac{-ب \pm \sqrt{ب^٢ - ٢ج}}{٢}$$

### ٣- حل معادلة من الدرجة الثانية في متغير واحد باستخدام القانون :

## Solving Quadratic Equation in one Variable Using Formula

### مثال (٢)

حلّ المعادلة:  $س^٢ + ١٠س - ١٦ = ٠$  باستخدام القانون.

ثم تحقق من صحة الناتج باستخدام التحليل.

الحل:

بوضع المعادلة على الصورة العامة

$$س^٢ + ١٠س + ١٦ = ٠$$

بمقارنة ذلك بالصورة العامة

$$س^٢ + بس + ج = ٠$$

$$١ = ٢, ١٠ = ب, ١٦ = ج$$

$$س = \frac{-ب \pm \sqrt{ب^٢ - ٤اج}}{٢} \quad (١)$$

$$ب^٢ - ٤اج = ١٠٠ - ٤(١٦) = ٣٦$$

$$\sqrt{ب^٢ - ٤اج} = ٦$$

بالتعويض في القانون

$$س = \frac{-ب \pm \sqrt{ب^٢ - ٤اج}}{٢} = \frac{-١٠ \pm ٦}{١ \times ٢}$$

$$س = \frac{-١٠ + ٦}{٢} \text{ أو } س = \frac{-١٠ - ٦}{٢}$$

$$س = \frac{-٤}{٢} \text{ أو } س = \frac{-١٦}{٢}$$

$$س = -٢ \text{ أو } س = -٨$$

وهو ما حصلنا عليه في المثال (١) باستخدام إكمال المربع.

وإذا استخدمنا التحليل نصل إلى النتيجة نفسها (حاول ذلك بنفسك).

### حاول أن تحل

٢ باستخدام القانون، أو جد مجموعة حل المعادلة:

ب)  $س(س - ٢) = ٧$

أ)  $س^٢ - ٦س + ٥ = ٠$

### مثال (٣)

حلّ المعادلة:  $س^٢ + ٤س - ٧ = ٠$

الحل:  $٢ = ٢, ٤ = ب, ٧ = ج$

$$72 = 56 + 16 = (7-)(2)4 - 24 = \text{حيث } b^2 - 4ac = 72 - 24 = 48$$

$$s = \frac{-b \pm \sqrt{b^2 - 4ac}}{2a} = \frac{-7 \pm \sqrt{48}}{2 \times 4} = \frac{-7 \pm 4\sqrt{3}}{8}$$

$$s = \frac{-7 + 4\sqrt{3}}{8} \approx 1,1213 \text{ أو } s = \frac{-7 - 4\sqrt{3}}{8} \approx -3,1213$$

حاول أن تحل

٣ أوجد مجموعة حلّ المعادلة:  $4s^2 = 13s - 9$

#### مثال (٤) تطبيقات حياتية

حركة الصواريخ: قامت جمعية للعلوم بصنع نموذج صاروخ، وتم إطلاقه من سطح الأرض بسرعة  $30$  مترًا/ثانية. بعد كم ثانية يصل الصاروخ إلى ارتفاع  $40$  مترًا؟ علمًا بأن العلاقة بين الارتفاع (ف) بالمتراً، والزمن (ن) بالثانية، وسرعة الإطلاق (س) بالمتراً/ثانية، والارتفاع (ف) الذي أطلق منه بالمتراً تعطى بالعلاقة:

$$f = -5n^2 + 30n \quad (1)$$

الحل:

بالتعويض في (١) عن ف، س،

حيث ف = ٤٠ (لأنه أطلق من سطح الأرض) نجد أن:

$$40 = -5n^2 + 30n \quad (2)$$

$$0 = 40 - 5n^2 + 30n$$

$$a = -5, b = 30, c = 40$$

$$n = \frac{-b \pm \sqrt{b^2 - 4ac}}{2a} \text{ حيث } b^2 - 4ac = (30)^2 - 4(-5)(40) = 900 + 800 = 1700$$

$$n = \frac{-30 \pm \sqrt{1700}}{-10}$$

$$n = \frac{-30 \pm 41.23}{-10}$$

$$n = \frac{-30 + 41.23}{-10} = 1.123 \text{ أو } n = \frac{-30 - 41.23}{-10} = 7.123$$

يكون الصاروخ على ارتفاع  $40$  مترًا من نقطة إطلاقه بعد ثنتين (٢ ثانية) أو  $7.123$  ثوانٍ.



## حاول أن تحل

- ٤ قذفت رصاصة عموديًّا إلى أعلى بسرعة ٤٠ مترًا/ثانية. أوجد الزمن (ن ثانية) الذي تستغرقه الرصاصة كي تصل إلى ارتفاع ٨٠ مترًا علمًا أن العلاقة بين الزمن (ن) والارتفاع (ف) والسرعة (ع) هي:
- $$ف = ٥ن^٢ + ٤ن، ع = السرعة بالمتري/ث.$$

## Using the Discriminant

### ٤- استخدام المميز $\Delta$ :

من القانون العام لحل المعادلة:  $٢ب + ٣س + ج = ٠$  حيث  $٢ \neq ٠$

تكون الصورة العامة لجذري المعادلة كالتالي:

$$س = \frac{-٢ب \pm \sqrt{٢ب^٢ - ٤ج}}{٢٢} = س، س = \frac{-٢ب \pm \sqrt{٢ب^٢ - ٤ج}}{٢٢}$$

يسمى  $\Delta = ٢ب^٢ - ٤ج$  المميز، وقد يكون الناتج عددًا موجبًا أو صفرًا أو عددًا سالبًا لأنه يميِّز لنا نوع جذري المعادلة من حيث كونها: **عددتين حقيقيين مختلفين، إذا كان المميز موجبًا**  
**أو عددتين حقيقيين متساويين، إذا كان المميز يساوي صفرًا**  
**أو عددتين غير حقيقيين، إذا كان المميز سالبًا.**  
 ويتضح ذلك من الأمثلة التالية:

### مثال (٥)

أوجد نوع جذري المعادلة:  $س^٢ + ٢س - ٣ = ٠$  وتحقق من نوع الجذرين جبريًا وبيانيًا.

الحل:

$$١ = ٢، ب = ٢، ج = -٣$$

$$\Delta = ٢ب^٢ - ٤ج = ٢(٢)^٢ - ٤(-٣) = ١٦ + ١٢ = ٢٨$$

وحيث إنه عدد موجب، إذا الجذران هما عدداً حقيقيين مختلفان.

• يمكن التحقق من ذلك بحل المعادلة جبريًا:

$$س^٢ + ٢س - ٣ = ٠$$

$$س = \frac{-٢ \pm \sqrt{٢٨}}{٢}$$

$$س = \frac{-٢ \pm \sqrt{٢٨}}{٢} = \frac{-٢ \pm ٢\sqrt{٧}}{٢}$$

$$س = ١ + أو س = -٣$$

ومن الواضح أن الجذرين عدداً حقيقيين مختلفان.

### معلومة مفيدة:

عند رسم بيان

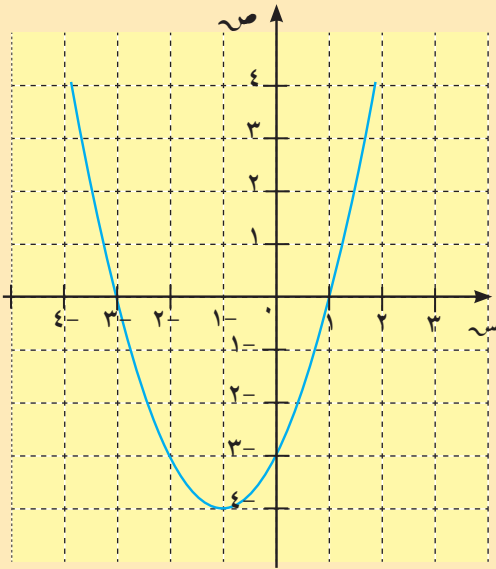
$$ص = ٢س^٢ + ٣س + ج$$

حيث  $٢ \neq ٠$ ، يكون رأس المنحنى

$$\frac{-٣}{٢٢} = عند س$$

التحقق بيانيًا:

|   |    |    |    |    |   |   |
|---|----|----|----|----|---|---|
| س | ٣- | ٢- | ١- | ٠  | ١ | ٢ |
| ص | ٠  | ٣- | ٤- | ٣- | ٠ | ٤ |



يبين الرسم البياني نقطتي تقاطع مع محور السينات.

تكتب المعادلة  $ص = ٢ + ٢س - ٣ = ٠$  على الصورة  $(س + ١) - ٤ = ٠$

∴ بيان الدالة  $ص = ٢ + ٢س - ٣$  هو انسحاب لدالة المرجع  $ص = ٢س$  وحدة واحدة جهة اليسار، ٤ وحدات إلى الأسفل.

حاول أن تحل

٥ أوجد نوع جذري المعادلة:  $٢س - ٢س + ٥ = ٢ + ٠$ ، تحقق من الحل جبريًا وبيانيًا.

مثال (٦)

أوجد نوع جذري المعادلة:  $٤س + ٤س + ١ = ٠$ . وتحقق من نوع الجذرين جبريًا وبيانيًا.

الحل:  $٤ = ٢$ ،  $٤ = ب$ ،  $٤ = ج$

للمميز:  $\Delta = ب^2 - ٤ج = ٤ - ١٦ = ١٦ - ١٦ = ٠$  وحيث إن المميز يساوي صفرًا، فالجذران حقيقيان ومتساويان وللتحقق من ذلك جبريًا:

$$س = \frac{-ب \pm \sqrt{ب^2 - ٤ج}}{٢} = \frac{٠ \pm ٤}{٤ \times ٢} = س$$

$$س = \frac{٠ + ٤}{٨} = \frac{١}{٢}$$

$$س = \frac{٠ - ٤}{٨} = -\frac{١}{٢}$$

أي أن الجذرين متساويان وكل منهما يساوي  $-\frac{١}{٢}$

التحقق بيانيًا:

|   |   |   |    |    |    |
|---|---|---|----|----|----|
| س | ١ | ٠ | ٥- | ١- | ٢- |
| ص | ٤ | ١ | ٠  | ١  | ٩  |

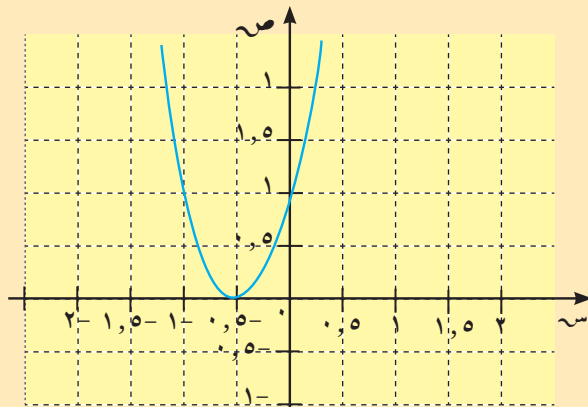
يبين الرسم البياني نقطة تقاطع واحدة مع محور السينات.

حاول أن تحل

٦ أوجد نوع جذري المعادلة:  $١٠س + ٢س + ٢٥ = ٠$ ، تحقق من الحل بيانيًا.

معلومة مفيدة:

لحل معادلة تربيعية باستخدام الحاسبة نضغط على **MODE** ، **EQN** ثم **QUAD** أو  $ax^2 + bx + c = 0$  . يظهر على الشاشة  $\begin{bmatrix} a & b & c \\ \square & \square & \square \end{bmatrix}$  نعوض بقيم  $١$ ،  $ب$ ،  $ج$  متبوعة كل مرة بالضغط على **=** فيظهر الجذران تباعًا.



### مثال (٧)

أوجد نوع جذري المعادلة:  $س^٢ + ٢س + ٥ = ٠$ ، وتحقق من الحل بيانيًا.  
الحل:

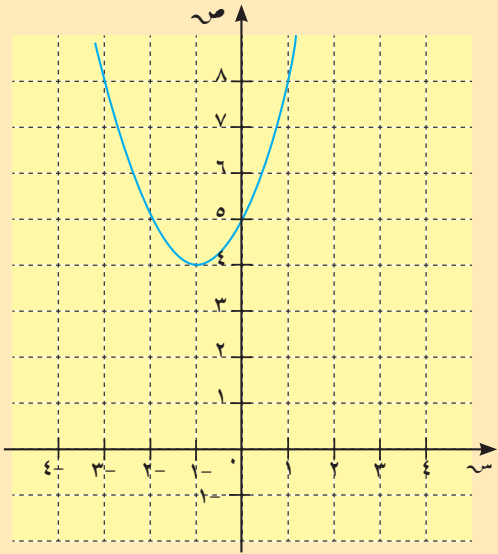
$$١ = ٢، ٢ = ب، ج = ٥$$

$$\Delta = ب^٢ - ٤ج = ٤ - ٢٠ = -١٦$$

$$= -١٦ = ٢٠ - ٤ = \text{وهذا عدد سالب}$$

إذًا الجذران تخيليان (أي غير حقيقيين) لأن  $\sqrt{-١٦}$  ليس عددًا حقيقيًا.

التحقق بيانيًا:



| س | ١ | ٠ | ١- | ٢- | ٣- |
|---|---|---|----|----|----|
| ص | ٨ | ٥ | ٤  | ٥  | ٨  |

يبين الرسم البياني أنه لا يوجد نقاط تقاطع مع محور السينات.

### حاول أن تحل

٧ أوجد نوع جذري المعادلة:  $س^٢ - ٥س + ٧ = ٠$ ، وتحقق من الحل بيانيًا.

### تعميم

| المميز                       | نوع جذري المعادلة              | التمثيل البياني للدالة              |
|------------------------------|--------------------------------|-------------------------------------|
| $ب^٢ - ٤ج < ٠$<br>(عدد موجب) | الجذران حقيقيان                | $ص = اس^٢ + ب س + ج$ حيث $ب \neq ٠$ |
| $ب^٢ - ٤ج = ٠$               | الجذران حقيقيان متساويان       |                                     |
| $ب^٢ - ٤ج > ٠$<br>(عدد سالب) | جذران غير حقيقيين<br>(تخيليان) |                                     |

اكتب أمثلة من عندك عن معادلات من الدرجة الثانية توضح الأنواع الثلاثة للمعادلات (من حيث جذرا المعادلة) المبينة في الجدول المجاور.

١ إذا كانت إشارة معامل  $س^٢$  موجبة يكون المنحنى بالشكل  $\cup$ . (مقعراً)

٢ إذا كانت إشارة معامل  $س^٢$  سالبة يكون المنحنى بالشكل  $\cap$ . (محدباً)

## 0- مجموع وناتج ضرب جذري المعادلة التربيعية:

### Sum and Product of Roots of a Quadratic Equation

#### تنبيه:

المعادلة التربيعية هي معادلة من الدرجة الثانية في متغير واحد.

$$\begin{aligned} \text{اعتبر المعادلة: } x^2 + bx + c = 0, c \neq 0 \\ \text{جذرا المعادلة هما: } x_1 = \frac{-b + \sqrt{b^2 - 4c}}{2} \text{ أو } x_2 = \frac{-b - \sqrt{b^2 - 4c}}{2} \\ \text{مجموع جذري المعادلة: } x_1 + x_2 = \frac{-b + \sqrt{b^2 - 4c}}{2} + \frac{-b - \sqrt{b^2 - 4c}}{2} = \frac{-2b}{2} = -b \\ \text{نتيج ضرب الجذرين: } x_1 \times x_2 = \left( \frac{-b + \sqrt{b^2 - 4c}}{2} \right) \times \left( \frac{-b - \sqrt{b^2 - 4c}}{2} \right) = \frac{b^2 - (b^2 - 4c)}{4} = \frac{4c}{4} = c \end{aligned}$$

إذا كان جذرا المعادلة:  $x^2 + bx + c = 0$  هما  $m, n$  فإن:  $m + n = -b$  ،  $m \times n = c$

## 1- إيجاد مجموع وناتج ضرب جذري المعادلة:

### Finding Sum and Product of Roots of a Quadratic Equation

#### مثال (٨)

بدون حل المعادلة، أوجد مجموع وناتج ضرب جذري المعادلة:  $x^2 + 2x - 3 = 0$  إذا وجد.

$$\text{الحل: } a = 1, b = 2, c = -3$$

$$\Delta = b^2 - 4ac = 4 - 4(1)(-3) = 16 > 0$$

لما كان المميز موجباً إذاً يوجد جذران حقيقيان

$$\text{مجموع الجذرين: } m + n = -\frac{b}{a} = -\frac{2}{1} = -2$$

$$\text{نتيج ضرب الجذرين: } m \times n = \frac{c}{a} = \frac{-3}{1} = -3$$

ويمكن التحقق من صحة النتائج بحل المعادلة.

#### حاول أن تحل

٨ بدون حل المعادلة، أوجد مجموع وناتج ضرب جذري المعادلة:  $x^2 + 9x - 4 = 0$  إذا وجد.



### مثال (٩)

إذا كان مجموع جذري المعادلة:  $٢س^٢ + ب س - ٥ = ٠$  يساوي ١. فأوجد قيمة ب، ثم حلّ المعادلة.  
الحل:

مجموع جذري المعادلة:  $م + ن = -\frac{ب}{٢} = -\frac{ب}{٢}$  ،  $١ = ب - ٢$   
المعادلة:  $٢س^٢ + ب س - ٥ = ٠$  تصبح:  $٢س^٢ - ٢س - ٥ = ٠$

$$س = \frac{\Delta \pm \sqrt{\Delta}}{٢٢}$$

$$\Delta = ب^٢ - ٤(٢)(-٥) = ٤٤$$

$$س = \frac{-٢ \pm \sqrt{٤٤}}{٢ \times ٢}$$

$$س = \frac{-٢ \pm \sqrt{١١}}{٢}$$

$$\text{إذاً الجذران هما: } \frac{-٢ + \sqrt{١١}}{٢} \text{ أو } \frac{-٢ - \sqrt{١١}}{٢}$$

### حاول أن تحل

٩ إذا كان ناتج ضرب جذري المعادلة:  $٢س^٢ - ٥س + ٢ = ٠$  يساوي  $\frac{٢}{٣}$ . فأوجد ب، ثم حلّ المعادلة.

### ٧- إيجاد المعادلة التربيعية إذا علم جذراها:

## Finding the Quadratic Equation Knowing its Roots

لتكن المعادلة:  $٢س^٢ + ب س + ج = ٠$  ، وليكن جذراها م ، ن

$$٢س^٢ + ب س + ج = ٠$$

$$\text{وحيث إن } م + ن = -\frac{ب}{٢} ، \frac{ج}{٢} = م ن$$

إذاً المعادلة على الصورة:  $س^٢ - (م + ن)س + م ن = ٠$

هي معادلة بمعلومية مجموع الجذرين وناتج ضربيهما.

حلّ آخر:

ليكن م ، ن جذري المعادلة من الدرجة الثانية في متغير واحد

$$\therefore \text{المعادلة تكون على الصورة: } (س - م)(س - ن) = ٠$$

$$\therefore \text{س}^٢ - (م + ن)س + م ن = ٠$$

### مثال (١٠)

أوجد المعادلة التربيعية التي جذراها ٣، ٥.

الحل:

بما أن الجذرين هما: ٣، ٥.

∴ المعادلة التربيعية على الصورة:  $s^2 - (\text{مجموع الجذرين})s + (\text{ناتج ضرب الجذرين}) = ٠$

$$\text{أي } s^2 - ٨s + ١٥ = ٠$$

أو حل آخر: المعادلة على الصورة:  $(s - ٣)(s - ٥) = ٠$

$$\text{أي } s^2 - ٨s + ١٥ = ٠$$

### حاول أن تحل

١٠ إذا كان جذرا المعادلة  $s^2 - ٥s + ٦ = ٠$  هـ ل، م فكّون معادلة تربيعية جذراها ٢ ل، ٢ م.

### حالة عامة: General Case

يوجد عدد لا نهائي من المعادلات يكون جذرا كلٍّ منها م، ن

وكلٍّ منها على الصورة:  $[s^2 - (م + ن)s + م ن] = ٠$

حيث (ك) أي عدد حقيقي  $\neq$  صفراً.

### مثال (١١)

إذا كان الجذران هما ٣، ٥ فإن كلاً من المعادلات التالية

له هذان الجذران نفسهما.

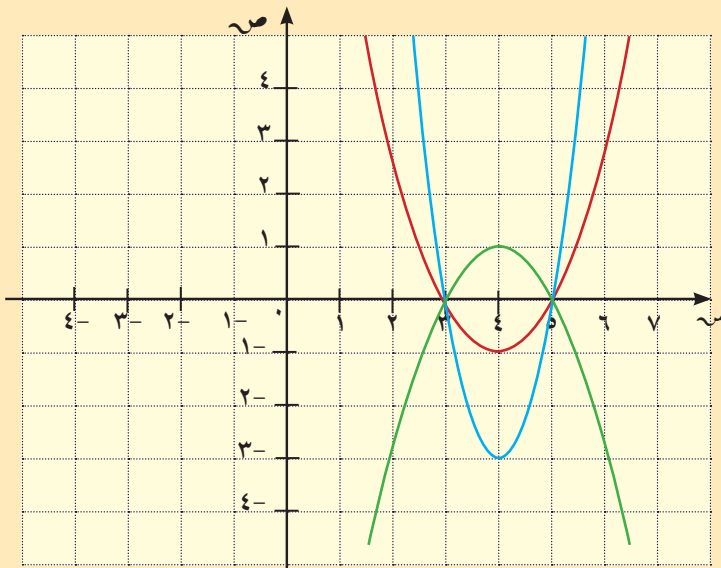
$$s^2 - ٨s + ١٥ = ٠$$

$$٣(s^2 - ٨s + ١٥) = ٠$$

و هكذا (انظر الشكل المقابل).

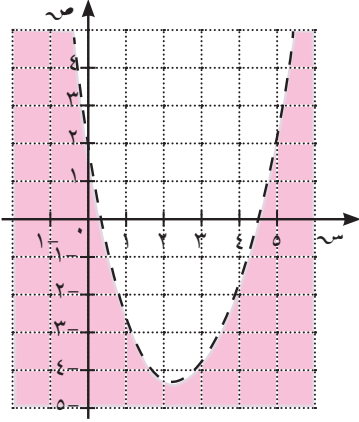
### حاول أن تحل

١١ أوجد معادلتين تربيعيتين جذرا كل منهما: -٤، -٣.



## حل متباينات من الدرجة الثانية بيانياً:

### Solving Inequalities Using Graphs



يشبه الرسم البياني لمتباينة تربيعية الرسم البياني لمتباينة خطية. يكون المنحنى متقطعاً إذا تضمنت المتباينة إحدى الإشارتين  $<$ ،  $>$ . ويكون المنحنى خطاً غير متقطع إذا تضمنت المتباينة إحدى الإشارتين  $\geq$ ،  $\leq$ .

عند حل متباينات من الدرجة الثانية مثل  $ص > س^2 - 5س + 2$ ، مثل منحنى الدالة المناظرة  $ص = س^2 - 5س + 2$  وهذا المنحنى يفصل مستوى الإحداثيات إلى نقاط تكون حلولاً للمتباينة ونقاط لا تكون حلولاً لها.

المنطقة المظللة باللون الوردى هي منطقة الحل ونرسم المنحنى متقطعاً لتوضيح أنه ليس جزءاً من الحل. كذلك يمكننا إيجاد منطقة الحل باستخدام الآلة الحاسبة البيانية.

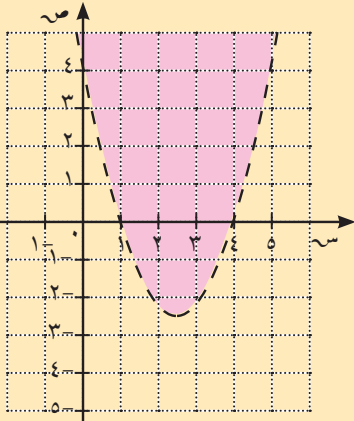
#### مثال (١٢)

أوجد بيانياً حل المتباينة:  $ص < س^2 - 5س + 4$ .

الحل:

نرسم منحنى الدالة المناظرة:  $ص = س^2 - 5س + 4$ .

|   |   |   |       |    |   |   |
|---|---|---|-------|----|---|---|
| س | ٠ | ١ | ٢,٥   | ٣  | ٤ | ٥ |
| ص | ٤ | ٠ | ٢,٢٥- | ٢- | ٠ | ٤ |



اختر أي نقطة ليست على المنحنى لنرى إذا كانت حلاً للمتباينة ولتكن نقطة الأصل  $(٠, ٠)$  عادة هي المتاحة، إذا كانت حلاً فتكون كل النقاط على هذا الجانب التي تقع فيه نقطة الأصل حلاً.

أما إذا لم تكن النقطة  $(٠, ٠)$  حلاً للمتباينة، فإن جميع النقاط التي على الجانب الآخر من المنحنى هي حلول للمتباينة.

هل  $٠ < ٤ + (٠)٥ - ٢(٠)$ ؟ عبارة خطأ

لذلك ظلل الجانب الآخر من الرسم.

#### حاول أن تحل

١٢ حل بيانياً المتباينة:  $ص < ٢س^2 + ٥س - ٣$ .

### مثال (١٣)

أوجد بيانياً حل المتباينة:  $ص \geq ٢س - ٥س - ٦$ .

الحل:  $ص \geq ٢س - ٥س - ٦$

نرسم منحنى الدالة المناظرة:  $ص = ٢س - ٥س - ٦$ .

نقطة الأصل  $(٠, ٠)$  لا تحقق المتباينة:  $٠ \geq ٠ - ٠ - ٦$  أي أن  $٠ \geq -٦$  عبارة خطأ

إذاً المنطقة التي تنتمي إليها نقطة الأصل ليست منطقة الحل.

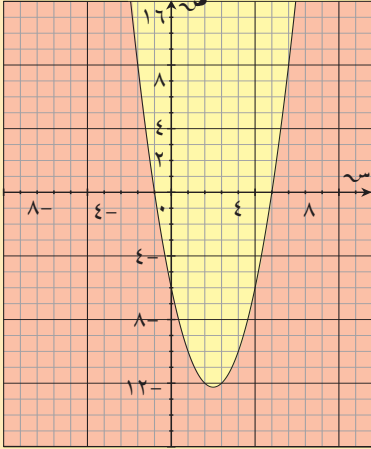
حل المتباينة هو مجموعة النقاط في المنطقة الملونة بالوردي.

كذلك إحداثيات النقاط التي تشكل الرسم البياني للدالة:

$ص = ٢س - ٥س - ٦$  هي أيضاً ضمن الحل.

### حاول أن تحل

١٣ حل بيانياً المتباينة:  $ص \leq ٢س - ٤$ .



## المرشد لحل المسائل

عرض مدير أحد المنتجات الأسعار التالية خلال الموسم.

العرض أ: يدفع الشخص ٦,٥٠٠ دنانير كل مرة يدخل المنتج.  
العرض ب: يدفع الشخص ٢٨ دينارًا ثم ٣ دنانير كل مرة يدخل المنتج.  
يحاول يوسف معرفة أي من العرضين أفضل.  
بدأ يوسف بنمذجة العرضين.

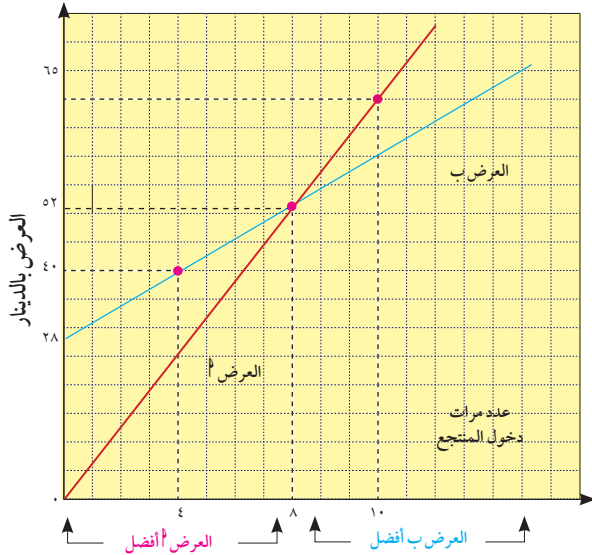
العرض أ: ص = ٦,٥٠٠ س حيث س عدد مرات دخول المنتج، ص مجموع ما سيدفعه.  
العرض ب: ص = ٢٨ + ٣س.

فكر يوسف: إذا حللت نظام المعادلتين  $\left. \begin{array}{l} \text{ص} = 6,500 \text{ س} \\ \text{ص} = 28 + 3 \text{ س} \end{array} \right\}$  أحصل على س = ٨، ص = ٥٢ أي أن العرضين يتساويان إذا دخلت ٨ مرات إلى المنتج.

لكن يوسف لم يكتف بهذه النتيجة لأنه يريد أن يعرف بشكل عام ودون تحديد عدد مرات الدخول أي العرضين أفضل. لذلك استخدم حاسوبه ومثل بيانيًا المعادلتين.

ما استنتجه يوسف:

- ١ لمن يريد الدخول أقل من ٨ مرات إلى المنتج العرض أ هو أفضل.
- ٢ لمن يريد الدخول أكثر من ٨ مرات إلى المنتج العرض ب هو أفضل.
- ٣ يتساوى العرضان بالدخول ٨ مرّات.

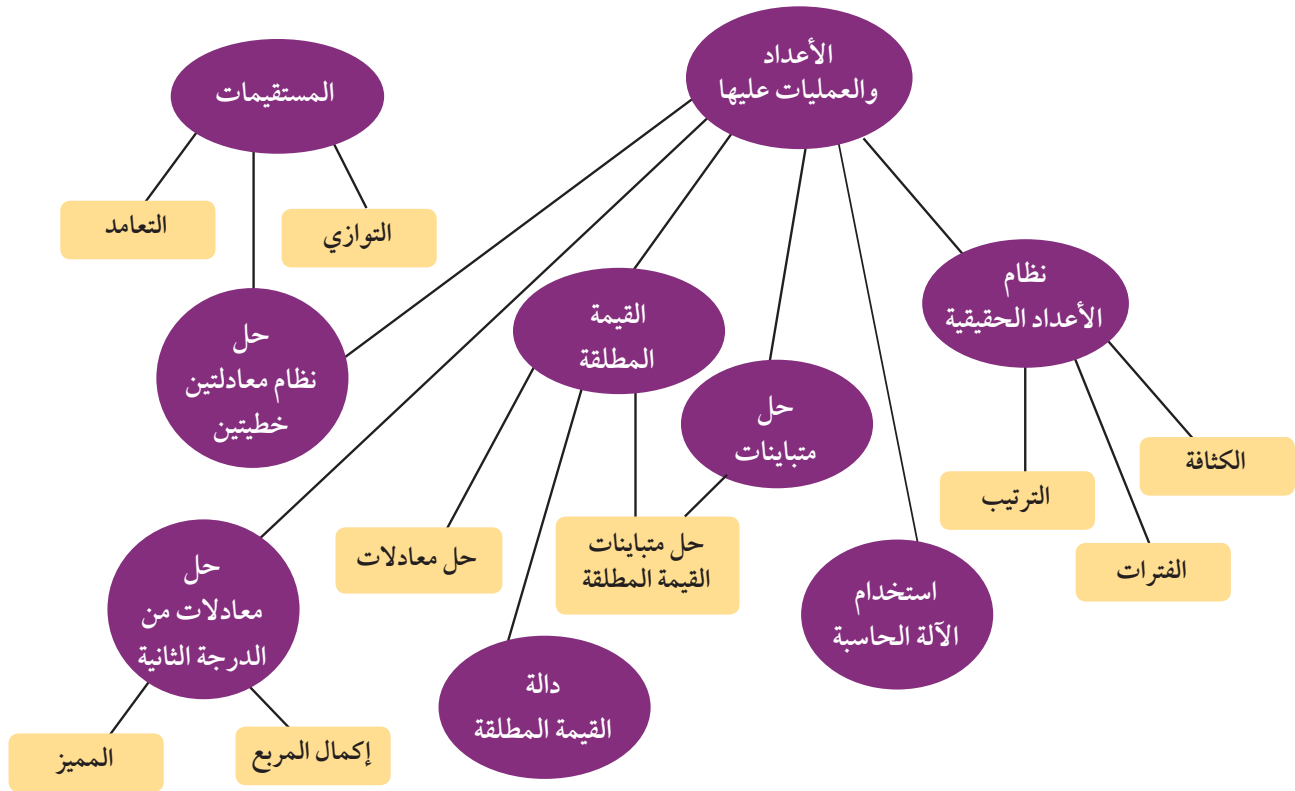


### مسألة إضافية

يعرض على أحد المسارح للجمهور ١٢ عملاً فنيًا. يختار الجمهور أحد العرضين:

- أ ١٠ دنانير لحضور كل عمل فني.
  - ب ٢٠ دينارًا ثم ٦ دنانير كل مرة يحضر عملاً فنيًا.
- وضّح أي العرضين أفضل لمن يريد حضور ٦,٤ أعمال فنية.

## مخطط تنظيمي للوحدة الأولى



### ملخص

يوجد بين أي عددين حقيقيين مختلفين عدد لانهائي من الأعداد الحقيقية. مجموعة الأعداد الحقيقية هي مجموعة مرتبة.

يمكن مقارنة أي عددين حقيقيين باستخدام المتباينات.

لأي عددين حقيقيين  $a$ ،  $b$  تعبير واحد فقط مما يلي هو صحيح:  $a < b$  أو  $a = b$  أو  $a > b$ . القيمة المطلقة لأي عدد حقيقي  $s$  هي:

$$|s| = \begin{cases} s & \text{إذا كان } s < 0 \\ -s & \text{إذا كان } s > 0 \\ s & \text{إذا كان } s = 0 \end{cases}$$

$$|a| \leq |b|, \quad |a| = |b| \text{ لأي عدد حقيقي } a, b.$$

$$|a| \times |b| = |a \times b|, \quad \left| \frac{a}{b} \right| = \frac{|a|}{|b|} \text{ حيث } b \neq 0 \text{ (ب عدنان حقيقيان).}$$

الفترات هي مجموعة جزئية من مجموعة الأعداد الحقيقية.

الفترات المحدودة:  $[a, b]$ ،  $(a, b)$ ،  $[a, b)$ ،  $(a, b]$ ،  $(a, \infty)$ ،  $(-\infty, b)$ ،  $(-\infty, \infty)$ ،  $(a, \infty)$ ،  $(-\infty, b)$ ،  $(-\infty, \infty)$ .

الرسم البياني للدالة  $y = |x + a| + b$  حيث  $a, b$  حقيقيان هو انسحاب للرسم البياني للدالة  $y = |x|$ ،  $b$  وحدة إلى جهة اليسار.

الرسم البياني للدالة  $y = |x - a| + b$  حيث  $a, b$  حقيقيان هو انسحاب للرسم البياني للدالة  $y = |x|$ ،  $b$  وحدة إلى جهة اليمين.

الرسم البياني للدالة  $y = |x + a| + b$  حيث  $a, b$  حقيقيان هو انسحاب أفقي ورأسي معاً لرسم الدالة  $y = |x|$ .

يكون مستقيمان غير رأسيين متوازيين إذا كان لهما الميل نفسه.

يكون مستقيمان متعامدين إذا كان ناتج ضرب ميليهما يساوي -1.

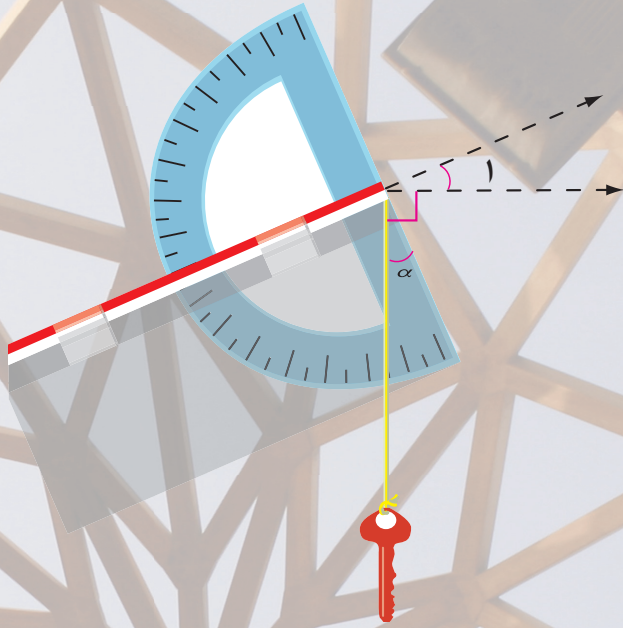
$$\Delta = b^2 - 4ac$$

$$\text{حل المعادلة } ax^2 + bx + c = 0 \text{ هو } x = \frac{-b \pm \sqrt{b^2 - 4ac}}{2a}$$

إذا كان  $m, n$  جذري المعادلة التربيعية، فإن  $m + n = -\frac{b}{a}$ ،  $m \times n = \frac{c}{a}$ .

## وحدة حساب المثلثات

### مشروع الوحدة: صنع الميغال (Clinometer) واستخدامه.



١ مقدمة المشروع: كيف لنا أن نعرف كم تبعد الشمس عنا من دون أن نمد أشرطة القياس لملايين الكيلومترات؟ كيف نعرف كتلة إلكترون عندما لا نستطيع أن نراه؟ أوجد الإنسان منذ القدم طرقاً للقياس غير المباشر عندما عجز عن القياس المباشر.

٢ الهدف: صنع آلة مشابهة للآلات التي استخدمها علماء الفلك الأقدمون والرحالة لقياس ارتفاعات لا يمكن بلوغها.

٣ اللوازم: منقلة، سلك، شريط لاصق، قطعة من الورق المقوى، مصاصة شرب.

٤ أسئلة حول التطبيق:

١ انظر من خلال مصاصة الشرب إلى الهدف الذي تريد قياسه (رأس برج مثلاً).

واطلب إلى أحد طلاب مجموعتك قراءة الزاوية بين المنقلة والخيط المتدلي عمودياً مع المفتاح.

لماذا تساوي هذه الزاوية زاوية المصاصة مع خط الأفق؟

(الزاوية ١ في الرسم).

ب استخدم آلة الميغال لقياس حساب زاوية ارتفاع بناء مدرستك مثلاً؛ وأوجد المسافة الأفقية بينك وبين البناء ثم احسب ارتفاع البناء.

ج تختار المجموعة بعض المباني أو الأشياء الأخرى الموجودة في المدرسة أو في جوارها ثم يصار إلى قياس ارتفاعات هذه الأشياء من مسافات مختلفة.

٥ التقرير: توضع كل مجموعة تقريراً مفصلاً حول كيفية صنع الميغال وكيفية استخدامه للإجابة عن الأسئلة (أ)، (ب)، (ج).

### درس الوحدة

| الزوايا وقياساتها | النسب المثلثية: الجيب وجيب التمام ومقلوباهما | ظل الزاوية ومقلوبه | زوايا الارتفاع والانخفاض | القطاع الدائري والقطعة الدائرية |
|-------------------|--|--------------------|--------------------------|---------------------------------|
| ١-٢               | ٢-٢  | ٣-٢                | ٤-٢                      | ٥-٢                             |

## أضف إلى معلوماتك

يذكر بعض المؤرخين أن الرياضي العربي نصير الدين الطوسي هو أول من فصل حساب المثلثات عن الفلك، كما يذكر المؤرخون أن طاليس (٦٠٠ قبل الميلاد) تطرق إلى حساب المثلثات، عندما تمكن من قياس ارتفاع الهرم عن طريق المقارنة بين طول عصا عمودية وطول ظلها وبين ارتفاع الهرم وطول ظله في الوقت نفسه.

ولقد كان لحساب المثلثات نصيبه من اهتمامات العرب. ويذكر أن اصطلاح «الظل» قد وصفه العالم العربي أبو الوفا البوزجاني في القرن العاشر الميلادي. وهذا الاصطلاح مأخوذ من ظلال الأجسام، التي تتكون نتيجة سير الضوء المنبعث من الشمس في خطوط مستقيمة.

كما أن للعرب إضافات عديدة في حساب المثلثات المستوي والكري أو الكروي (نسبة إلى سطح الكرة)، وعنهم أخذ الغربيون المعلومات المهمة وأضافوا أيضًا الكثير، حتى أصبح حساب المثلثات متضمنًا في الكثير من الأبحاث الرياضية، وأصبحت تطبيقاته في شتى المناحي العلمية والعملية.



## ابن أنت الآن (المعارف السابقة المكتسبة)

- تعلمت كيفية استخدام نظرية فيثاغورث لإيجاد أطوال أحد أضلاع مثلث قائم الزاوية وإيجاد علاقة بين أطوال أضلاع مثلثات قائمة الزاوية في حالات خاصة، وتطبيق نظرية فيثاغورث على مسائل حياتية.
- تعلمت كيفية إثبات تشابه مثلثات واستنتاج أطوال الأضلاع المتناسبة والزوايا المتساوية القياس.
- استخدمت تشابه المثلثات في حل مسائل حياتية.
- تعلمت تطابق المثلثات واستنتجت تطابق الأضلاع المتناظرة والزوايا المتساوية القياس.

## ماذا سوف تتعلم؟

- سوف تتعرف الزاوية الموجبة لتستنتج الزاوية الموجبة والزاوية السالبة والزاوية في الوضع القياسي.
- سوف تتعرف القياس الستيني والقياس الدائري والعلاقة بينهما.
- سوف تستخدم تشابه المثلثات القائمة لتعريف النسب المثلثية.
- سوف تستخدم النسب المثلثية لتحل مسائل حياتية تتضمن إيجاد ارتفاعات ومسافات وزوايا الارتفاع وزوايا الانخفاض.
- سوف تستخدم النسب المثلثية لإيجاد مساحة المثلث بدلالة ضلعين والزاوية المحصورة بينهما وإيجاد مساحة القطاع الدائري ومساحة القطعة الدائرية.

## المصطلحات الأساسية

- زاوية موجبة - زاوية موجبة - زاوية سالبة - زاوية في الوضع القياسي - قياس ستيني - قياس دائري - جيب الزاوية - جيب تمام الزاوية - قاطع الزاوية - قاطع تمام الزاوية - ظل الزاوية - ظل تمام الزاوية - زاوية الارتفاع - زاوية الانخفاض - القطاع الدائري - القطعة الدائرية.



## Angles and their Measurement

## سوف تتعلم

- الزاوية الموجهة
- الزاوية الموجهة الموجبة
- الزاوية الموجهة السالبة
- الزاوية في الوضع القياسي
- أنظمة قياس الزاوية
- القياس الستيني
- أجزاء الدرجة
- القياس الدائري
- طول القوس
- الزاوية النصف قطرية
- العلاقة بين القياسين الدائري والستيني

## دعنا نفكر ونتناقش

## Angle

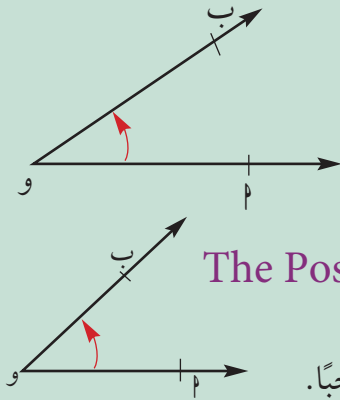
## ١- الزاوية:

تعلمنا سابقاً أن الزاوية هي اتحاد شعاعين لهما نقطة بداية واحدة تسمى «رأس الزاوية»، والشعاعان هما ضلعوا الزاوية.

## Oriented Angle

## الزاوية الموجهة

في الشكل المقابل، رأس الزاوية هو نقطة  $O$ ، وضلعوا الزاوية هما  $OA$  و  $OB$  ونرمز للزاوية بالرمز:  $\angle AOB$  وتسمى الزاوية في هذه الحالة بالزاوية الموجهة ويرمز لها أيضاً  $(OA, OB)$  ويسمى  $OA$  الضلع الأساسي أو الضلع الابتدائي، و  $OB$  الضلع النهائي لها.

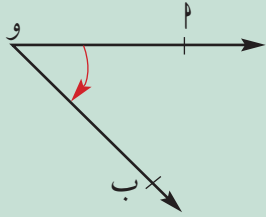


## The Positive Oriented Angle: الزاوية الموجهة الموجبة:

إذا كان الضلع الابتدائي هو  $OA$  والضلع النهائي لها هو  $OB$  كما في الشكل المقابل، فإن قياس الزاوية في هذه الحالة يكون موجباً.

## The Negative Oriented Angle: الزاوية الموجهة السالبة:

إذا كان الضلع الابتدائي هو  $OA$  والضلع النهائي هو  $OB$  كما في الشكل المقابل، فإن قياس الزاوية في هذه الحالة يكون سالباً.



تكون الزاوية الموجهة موجبة إذا كان الانتقال من الضلع الابتدائي  $OA$  إلى الضلع النهائي  $OB$  عكس اتجاه دوران عقارب الساعة، وتكون سالبة إذا كان الانتقال من  $OA$  إلى  $OB$  مع اتجاه دوران عقارب الساعة.

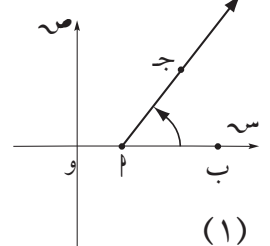
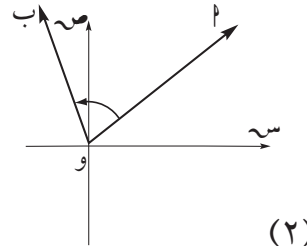
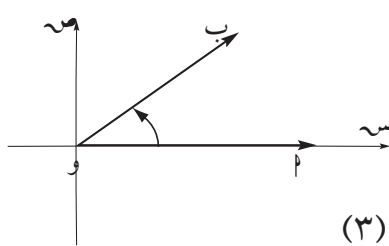
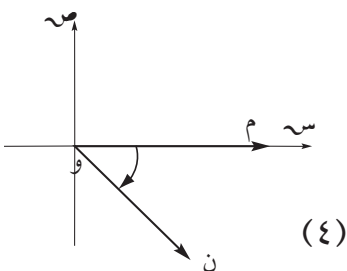
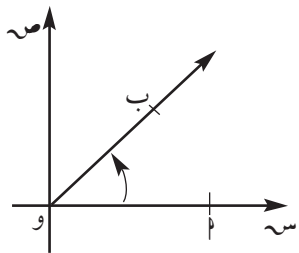
## The Angle in the Standard Position: الزاوية الموجهة في الوضع القياسي:

تكون الزاوية الموجهة في الوضع القياسي إذا كان الضلع الابتدائي لها على الجزء الموجب من محور السينات ورأسها نقطة الأصل كما في الشكل المقابل.

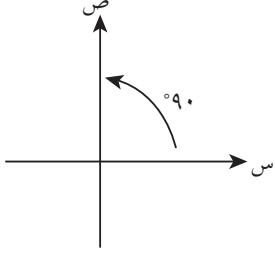
في الأشكال التالية:

أ) سمّ الضلع الابتدائي والضلع النهائي، واذكر إذا كان قياس الزاوية سالباً أو موجباً.

ب) حدّد الزوايا الموجهة التي في وضع قياسي.



## Quarter Angel



## الزاوية الربعية

هي زاوية موجهة في الوضع القياسي ينطبق ضلعها النهائي على أحد محوري الإحداثيات مثل الزوايا  $0^\circ, 90^\circ, 180^\circ, 270^\circ, 360^\circ$ .  
 باستخدام الحاسبة يمكنك إيجاد كل من الجيب، جيب التمام والظل لكل زاوية ربعية. والجدول التالي يبيّن النسب المثلثية للزوايا الخاصة والربعية.

| ظاها                 | جتاه                 | جاه                  | الزاوية هـ       |                |
|----------------------|----------------------|----------------------|------------------|----------------|
|                      |                      |                      | القياس الستيني   | القياس الدائري |
| 0                    | 1                    | 0                    | 0                | 0              |
| $\frac{1}{\sqrt{3}}$ | $\frac{\sqrt{3}}{2}$ | $\frac{1}{2}$        | $\frac{\pi}{6}$  | $30^\circ$     |
| 1                    | $\frac{\sqrt{2}}{2}$ | $\frac{\sqrt{2}}{2}$ | $\frac{\pi}{4}$  | $45^\circ$     |
| $\sqrt{3}$           | $\frac{1}{2}$        | $\frac{\sqrt{3}}{2}$ | $\frac{\pi}{3}$  | $60^\circ$     |
| غير معرّف            | 0                    | 1                    | $\frac{\pi}{2}$  | $90^\circ$     |
| 0                    | -1                   | 0                    | $\pi$            | $180^\circ$    |
| غير معرّف            | 0                    | -1                   | $\frac{3\pi}{2}$ | $270^\circ$    |
| 0                    | 1                    | 0                    | $2\pi$           | $360^\circ$    |

### مثال (1)

ارسم كلّاً من الزوايا الموجهة التالية في الوضع القياسي، ثم حدّد الزوايا الربعية منها.

ب  $-270^\circ$

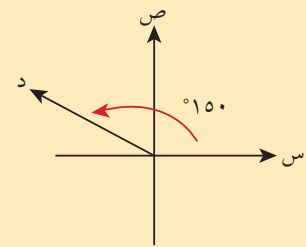
د  $\frac{3\pi}{2}$

أ  $150^\circ$

ج  $\frac{3\pi}{4}$

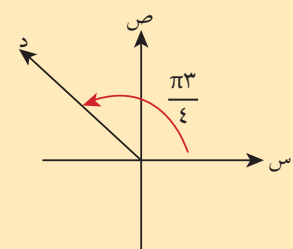
الحل:

أ



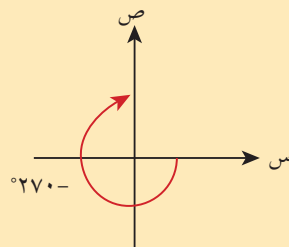
ليست زاوية ربعية

ج



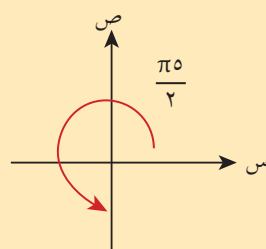
ليست زاوية ربعية

ب



زاوية ربعية

د



زاوية ربعية

حاول أن تحل

١ حدّد الزوايا الربعية من بين الزوايا التالية:

$$330^\circ, \frac{\pi}{2}, \frac{\pi}{7}, 250^\circ, \pi^3$$

ملاحظة:

الدرجة = 60 دقيقة

$$1^\circ = 60'$$

الدقيقة = 60 ثانية

$$1' = 60''$$

## Angle Measurement Systems

## ٢- أنظمة قياس الزاوية:

توجد أنظمة مختلفة لقياس الزاوية، أهمها القياس الستيني والقياس الدائري.

### The Degree Measure

### أولاً: القياس الستيني:

في هذا القياس تقسم الزاوية التي تمثل دورة كاملة إلى 360 قسمًا متساويًا، قياس كل منها يسمى درجة. وقد اتخذت هذه الدرجة وحدة لقياس الزوايا في هذا القياس ويرمز إليها بالرمز (°).

قياس الزاوية القائمة يساوي 90°. وقياس الزاوية المستقيمة يساوي 180°.

أجزاء الدرجة: الدقيقة minute وتساوي  $\frac{1}{60}$  من الدرجة ويرمز إليها بالرمز (').

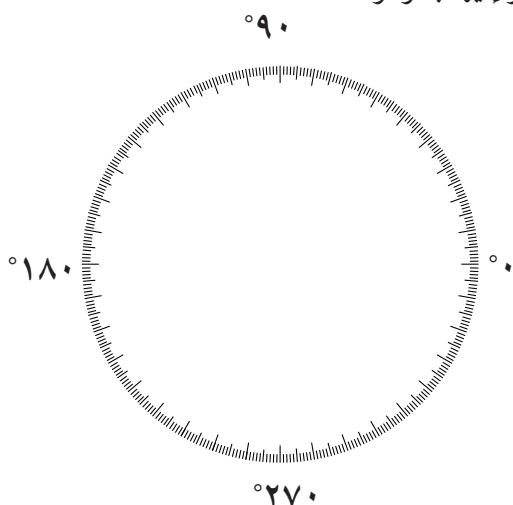
والثانية second وتساوي  $\frac{1}{3600}$  من الدرجة ويرمز إليها بالرمز (').

(")

فمثلاً سنكتب الزاوية التي قياسها 75 درجة، 45 دقيقة، 15 ثانية على الصورة

التالية:

$$75^\circ 45' 15''$$



### مثال (٢)

أوجد  $\frac{7}{8}$  الزاوية القائمة بالقياس الستيني. (بالدرجات والدقائق)

الحل:

$$\frac{7}{8} \text{ القائمة} = 90^\circ \times \frac{7}{8} = \left(78 \frac{3}{4}\right)^\circ$$

لايجاد  $\frac{3}{4}$  الدرجة بالدقائق.

$$\frac{3}{4} \times \text{درجة} = 60' \times \frac{3}{4} = 45'$$

$$\text{أي أن } \frac{7}{8} \text{ القائمة} = 78^\circ 45'$$

### حاول أن تحل

٢ اكتب كلاً مما يلي بالقياس الستيني.

ب ٦٢٥ ، ٠ الزاوية القائمة

أ  $\frac{7}{32}$  الزاوية القائمة

### مثال (٣)

استخدم الآلة الحاسبة لإيجاد  $\frac{5}{11}$  الزاوية المستقيمة بالقياس الستيني (بالدرجات والدقائق والثواني والأجزاء من مئة من الثانية).

الحل:

$$\frac{5}{11} \text{ الزاوية المستقيمة} = 180^\circ \times \frac{5}{11}$$

باستخدام الآلة الحاسبة:

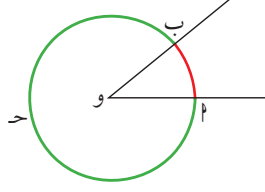
$$5 \div 11 \times 180 =$$

$$81^\circ 49' 5.45'' \text{ فيظهر على الشاشة}$$

أي ٨١ درجة و ٤٩ دقيقة و ٥ ثوانٍ و ٥ جزءاً من مئة من الثانية.

### حاول أن تحل

٣ استخدم الآلة الحاسبة لإيجاد  $\frac{3}{7}$  الزاوية المستقيمة بالقياس الستيني.



## ثانياً: القياس الدائري (الراديان): The Radian Measure

الزاوية المركزية زاوية مركزها مركز الدائرة.

ضلعاً هذه الزاوية المركزية يقطعان الدائرة في نقطتين م، ب.

طول القوس  $\widehat{مب}$  هو المسافة على الدائرة بين النقطتين م، ب.

**ملاحظة:** يتشكل من تقاطع ضلعي الزاوية المركزية مع الدائرة قوسان: القوس الأصغر  $\widehat{مب}$  (باللون الأحمر)، القوس الأكبر

( $\widehat{مب}$ ) (باللون الأخضر) ويمكن التعبير عنه بـ ( $\widehat{مب}$ ). يعتمد القياس الدائري على طول القوس في الدائرة الذي تحصره

الزاوية المركزية وعلى طول نصف قطر الدائرة.

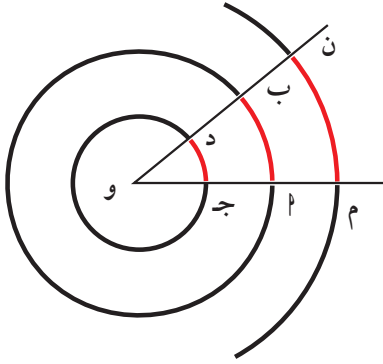
**حقيقة هندسية:** في الدوائر المتحدة المركز، النسبة بين طول قوس أي زاوية مركزية وطول نصف قطر دائرتها المناظرة تساوي

مقداراً ثابتاً يتوقف على قياس الزاوية التي تحصر هذا القوس.

$$\text{في الشكل المجاور: } \frac{\widehat{جـد}}{وجـ} = \frac{\widehat{مب}}{وم} = \frac{\widehat{من}}{وم}$$

أي أن  $\frac{\text{طول القوس من الدائرة الذي تحصره زاوية مركزية}}{\text{طول نصف قطر هذه الدائرة}} = \text{مقداراً ثابتاً}$

وهذا يعد نظاماً آخر لقياس الزاوية يسمى بالقياس الدائري للزاوية.



### ملاحظة:

- في بعض الأنظمة، تقسم الزاوية القائمة إلى ١٠٠ جزء متساوٍ، كل منها يسمى "جراد" Grad.
- كل ١ جراد يعادل  $\frac{٩}{١٠}$  من الدرجة.

### تعريف:

القياس الدائري لزاوية مركزية في دائرة =  $\frac{\text{طول القوس الذي تحصره هذه الزاوية}}{\text{طول نصف قطر هذه الدائرة}}$  ويرمز إليه بالرمز هـ.

إذا رمزنا إلى طول القوس بالرمز (ل) وإلى طول نصف القطر بالرمز نـ

$$\text{فإن هـ} = \frac{ل}{نـ} \text{ ومنها ل = هـ} \cdot \text{نـ}$$

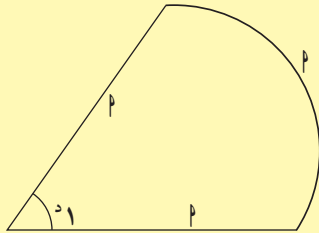
وحدة قياس الزوايا لهذا النوع من القياس تسمى الراديان ويرمز لها بالرمز (راديان).

## Radial Angle

### تعريف الزاوية النصف قطرية:

هي زاوية مركزية في دائرة تحصر قوساً طوله يساوي طول نصف قطر هذه الدائرة.

وقياس الزاوية النصف قطرية يساوي ١ راديان (راديان).



وعلى هذا فإن الزاوية التي قياسها هـ هي زاوية مركزية في دائرة تحصر قوساً من هذه الدائرة طوله يساوي خمسة أمثال طول نصف قطر هذه الدائرة.

### مثال (٤)

عَوْد زاوية مركزية في دائرة طول نصف قطرها ٤ سم. أوجد طول القوس مسافة عَد الذي تحصره هذه الزاوية إذا كان:

أ)  $\widehat{عَد} = \left(\frac{٣}{٤}\right)^\circ$       ب)  $\widehat{عَد} = (٣, ١٤)^\circ$

الحل:

أ) نفرض طول القوس = ل فيكون ل = هـ نـ

∴ ل = عَد  $\left(\frac{٣}{٤}\right)^\circ = ٣ \text{ سم}$

ب) ل = عَد =  $٣, ١٤ = ٤ \times ٣, ١٤ = ١٢, ٥٦ \text{ سم}$

### حاول أن تحل

٤ دائرة طول نصف قطرها ٦ سم. أوجد طول القوس الذي تحصره زاوية مركزية قياسها

أ)  $١, ٢^\circ$       ب)  $(١, ٥٧)^\circ$

## Degree-Radian Relation

### ٣- العلاقة بين القياسين الدائري والستيني:

إذا كان طول نصف قطر الدائرة يساوي الوحدة (تسمى الدائرة هنا دائرة الوحدة) فإن:

١ قياس الزاوية المركزية (بالقياس الدائري) يساوي طول قوسها.

٢ الزاوية المركزية التي قياسها الستيني يساوي  $٣٦٠^\circ$ ، يكون طول قوسها  $\pi$  نـ أي قياسها الدائري يساوي  $\pi$ .

#### ملاحظة:

عند عدم ذكر وحدة القياس، يعتبر الراديان هو الوحدة.

$٣٦٠^\circ$  يعادل  $\pi$  ومنها  $١٨٠^\circ$  يعادل  $\frac{\pi}{٢}$ .

$$١^\circ = \frac{١٨٠^\circ}{\pi} \approx ٥٧, ٢٩٥٧^\circ \approx ٥٧^\circ ١٧' ٤٥''$$

$$١^\circ = \frac{\pi}{١٨٠} \approx ٠, ٠١٧٥$$

قانون: إذا كان لدينا زاوية قياسها الدائري هـ وقياسها الستيني س فإن:

$$\frac{س}{١٨٠} = \frac{هـ}{\pi} \quad \text{ومنها} \quad س = هـ \times \frac{١٨٠}{\pi} \quad \text{هـ} = س \times \frac{\pi}{١٨٠}$$

### أمثلة

٥ زاوية قياسها  $٥^\circ$ ، أوجد القياس الستيني لهذه الزاوية لأقرب دقيقة.

الحل:

$$س = هـ \times \frac{١٨٠}{\pi}$$

$$\therefore س = ٥^\circ \times \frac{١٨٠}{\pi} \approx ٢٨٦, ٤٨ \approx ٢٨٦^\circ ٢٩'$$



٦ زاوية قياسها  $75^\circ$ ، أوجد القياس الدائري لها.

الحل:

$$\text{هـ}^\circ = \frac{\pi}{180} \times \text{س}^\circ = \text{هـ}^\circ = 75 \times \frac{\pi}{180} \approx 1,309^\circ$$

٧ أوجد القياس الستيني للزاوية  $\frac{\pi^3}{4}$ .

الحل:

$$\text{س}^\circ = \text{هـ}^\circ \times \frac{180}{\pi} = \text{س}^\circ = \frac{180}{\pi} \times \frac{\pi^3}{4} = 135^\circ$$

حاول أن تحل

٥ أوجد بدلالة  $\pi$  القياس الدائري للزوايا التي قياساتها:


أ  $45^\circ$       ب  $300^\circ$       ج  $225^\circ$       د  $150^\circ$

٦ أوجد القياس الستيني للزوايا التالية:

أ  $\pi \times \frac{5}{8}$       ب  $0,75^\circ$       ج  $3,35^\circ$       د  $\frac{\pi}{5}$

٧ أوجد القياس الستيني للزوايا التالية:

أ  $\frac{\pi}{2}$       ب  $\frac{\pi}{3}$       ج  $\frac{\pi}{6}$       د  $\frac{\pi}{4}$



أمثلة

٨ زاوية قياسها  $23^\circ 18' 85''$ ، أوجد القياس الدائري لهذه الزاوية

مقرباً الناتج إلى رقمين عشريين.

الحل:

$$\text{إذا كان هـ}^\circ \text{ هو القياس الدائري فإن: هـ}^\circ = \frac{\pi}{180} \times \text{س}^\circ$$

تضغط على المفاتيح بالترتيب التالي من جهة اليسار

$$\pi \div 180 \times 85,18,23 =$$

يظهر على الشاشة 1.48877359.  $\therefore$  القياس الدائري  $\approx 1,49$

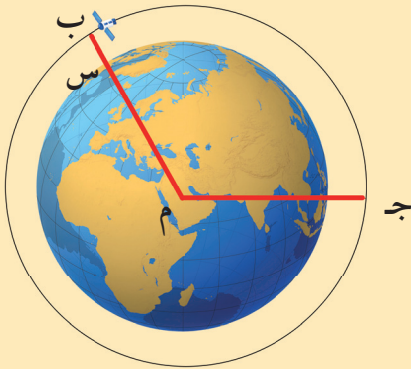
٩ مثال من الفضاء: قمر صناعي للبت التلفزيوني يدور في شكل دائري حول الأرض في زمن قدره ٣ ساعات. إذا علمت

أن طول نصف قطر الأرض حوالي ٦٤٠٠ كم، وكان ارتفاع القمر ٢٦٠٠ كم عن سطح الأرض، فأوجد المسافة التي

يقطعها القمر خلال ساعة واحدة.

الحل:

نفرض ف المسافة التي قطعها القمر في ساعة.



بعد القمر عن مركز الأرض = م ب = م س + م س

$$٦٤٠٠ = ٢٦٠٠ + ٩٠٠٠ \text{ كم}$$

الزاوية بالقياس الدائري المعادل لـ  $\frac{1}{3}$  الدورة هي  $\theta$  حيث:

$$\pi \frac{2}{3} = \frac{1}{3} \times \pi 2 = \theta$$

المسافة التي قطعها القمر:

$$\pi \frac{2}{3} \times 9000 = \theta \text{ ن.م} = \widehat{\text{ج ب الأصغر}} =$$

$$18849,5559 \approx$$

فيكون القمر قد قطع مسافة ١٩٠٠٠ كم تقريباً في زمن قدره ساعة.

### حاول أن تحل

٨ زاوية مركزية في دائرة طول نصف قطرها ن، تحصر قوساً طولها ل. أوجد طول القوس في الحالتين:

ب) س =  $120^\circ$ ، ن = ٢٤ سم

أ) هـ =  $\frac{1}{4}\pi$ ، ن = ٧ سم

### مثال (١٠) تطبيقات حياتية

١٠ ترسم الكرة الأرضية على شكل كرة مركزها و، طول نصف قطرها ٦٤٠٠ كم تقريباً. بالنسبة إلى مراقب موجود في القطب الشمالي، تدور الأرض حول نفسها بسرعة منتظمة حول المحور (شمال - جنوب) دورة كاملة كل ٢٤ ساعة.

م نقطة موجودة على دائرة الخط الاستوائي (د).

تتحرك النقطة م على الدائرة (د) بسرعة منتظمة.

أ) ما المسافة التي تقطعها النقطة م في ساعة واحدة؟

ب) لنفرض أن النقطة م قطعت مسافة ٣٠٠٠ كم بانتقالها من الوضعية م إلى الوضعية م.

ما قياس الزاوية م و م بالقياس الدائري؟ ما قياس هذه الزاوية بالقياس الستيني؟

الحل:

أ) طول دائرة الخط الاستوائي = (المحيط) =  $\pi 2 = \pi 2 \times 6400$  ن.م

تقطع النقطة م في ساعة واحدة:  $\frac{\pi 2 \times 6400}{24} \approx 1675,5$  كم

ب) هـ =  $\frac{ل}{ن} = \frac{3000}{6400} = \frac{15}{32} \approx 0,46875$

$0,46875$  يعادل  $27^\circ 51' 26''$  تقريباً

### حاول أن تحل

٩ في مثال (١٠) ما قياس الزاوية م و م بالقياس الدائري وبالقياس الستيني إذا قطعت النقطة م مسافة ٤٥٠٠ كم؟



## النسب المثلثية: الجيب وجيب التمام ومقلوباهما

### Trigonometric Ratios and their Reciprocals

#### Sine, Cosine, Secant and Cosecant

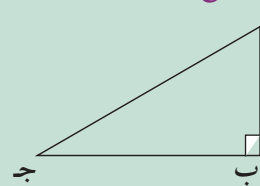
دعنا نفكر ونتناقش

سوف نتعلم

- جيب الزاوية
- جيب تمام الزاوية
- قاطع الزاوية
- قاطع تمام الزاوية
- إيجاد مقياس زاوية علم
- جيبها أو جيب تمامها

١ - المقابل والمجاور لزاوية حادة في مثلث قائم الزاوية:

#### The Opposite and Adjacent of an Acute Angle in a Right Triangle



في المثلث أ ب ج الموضح بالشكل:

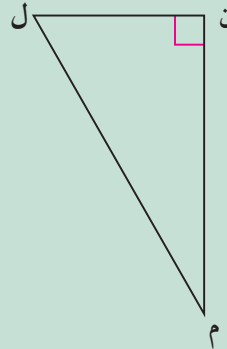
أ ب يسمى الضلع المقابل للزاوية ج، ب ج يسمى الضلع المجاور للزاوية ج، ج م يسمى الوتر. وعلى هذا الأساس أكمل ما يلي:

.... هو مقابل  $\hat{م}$

.... هو مجاور  $\hat{م}$

ملاحظة:

للاختصار سنستخدم **المقابل** للزاوية ج، **المجاور** للزاوية ج، و**الوتر** للدلالة على طول الضلع المقابل للزاوية ج، و**المجاور** للزاوية ج، و**الوتر** للدلالة على طول الوتر.



في المثلث ل ن م الموضح بالشكل المقابل:

الضلع المقابل ل  $\hat{م}$  هو ...

الضلع المجاور ل  $\hat{م}$  هو ...

ن ل هو مجاور الزاوية ...

م ن هو مجاور الزاوية ...

#### ٢- جيب الزاوية: Sine of the Angle

في المثلث قائم الزاوية: نسبة طول الضلع المقابل للزاوية الحادة إلى طول الوتر تسمى جيب الزاوية، ويرمز لها بالرمز (جا) بالإنكليزية (sin).

$$\text{جيب الزاوية} = \frac{\text{المقابل}}{\text{الوتر}}$$

أي أن

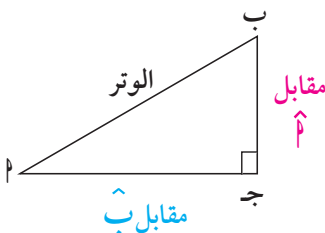
في الشكل المقابل:

جيب الزاوية  $\hat{م}$ :

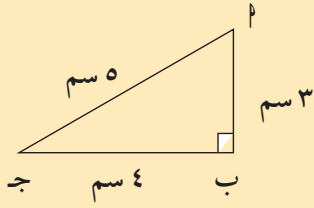
$$\text{جا م} = \frac{\text{مقابل } \hat{م}}{\text{الوتر}} = \frac{ب ج}{أ ب}$$

بالمثل جيب الزاوية ب:

$$\text{جاء} = \frac{\text{مقابل } \hat{ب}}{\text{الوتر}} = \frac{أ ج}{أ ب}$$



### مثال (١)



في الشكل المقابل:

أثبت أن المثلث  $\triangle$  ب ج قائم الزاوية في ب، ثم أوجد  $\angle$  ج، جاع.  
الحل:

نظرية فيثاغورث  $٢٥ = ٢٤ + ٢٣ = ٢ ب ج = ٢ ب$

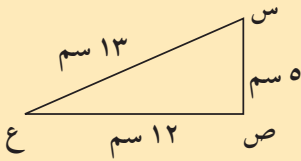
$٢٥ = ٢٥ = ٢ ب ج$

إذاً المثلث  $\triangle$  ب ج قائم الزاوية في ب.

$\frac{٤}{٥} = \frac{\text{ب ج}}{\text{الوتر}} = \frac{\text{مقابل } \hat{A}}{\text{الوتر}} = \text{ج} \hat{A}$

$\frac{٣}{٥} = \frac{\text{ب ب}}{\text{الوتر}} = \frac{\text{مقابل } \hat{G}}{\text{الوتر}} = \text{ج} \hat{G}$

### حاول أن تحل



١ أ) أثبت أن المثلث س ص ع قائم في ص.

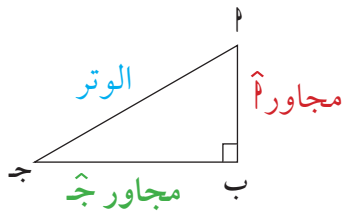
ب) أوجد  $\angle$  ج، جاع.

## Cosine of the Angle

### ٣- جيب تمام الزاوية:

في المثلث قائم الزاوية: نسبة طول الضلع المجاور للزاوية الحادة، إلى طول الوتر تسمى جيب تمام الزاوية، ويرمز لها بالرمز (جتا) وبالإنكليزية (cos).

جيب تمام الزاوية =  $\frac{\text{المجاور}}{\text{الوتر}}$

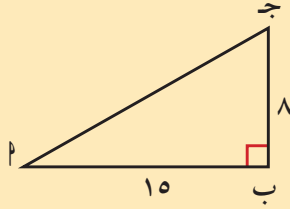


جيب تمام الزاوية ج:  $\text{جتا ج} = \frac{\text{مجاور } \hat{G}}{\text{الوتر}} = \frac{\text{ب ج}}{\text{ب ج}}$

جيب تمام الزاوية ب:  $\text{جتا ب} = \frac{\text{مجاور } \hat{P}}{\text{الوتر}} = \frac{\text{ب ب}}{\text{ب ج}}$

## مثال (٢)

$\Delta$  ب ج قائم في ب، أوجد كلاً من: جـ، جـا، جتا، جـا، جـتا. ماذا تستنتج؟



الحل: بتطبيق نظرية فيثاغورث

$$^2(\text{جـ}) = ^2(\text{ب ج}) + ^2(\text{بـ})$$

$$^2(\text{جـ}) = ^2(8) + ^2(15)$$

$$\text{جـ} = 17 \text{ سم}$$

$$\text{جـا} = \frac{\text{مقابل } \hat{A}}{\text{الوتر}} = \frac{8}{17}$$

$$\text{جتا} = \frac{\text{مجاور } \hat{A}}{\text{الوتر}} = \frac{15}{17}$$

$$\text{جـا} = \frac{\text{مقابل } \hat{C}}{\text{الوتر}} = \frac{15}{17}$$

$$\text{جتا} = \frac{\text{مجاور } \hat{C}}{\text{الوتر}} = \frac{8}{17}$$

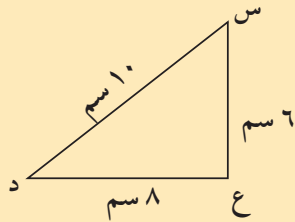
ماذا تستنتج؟

$\text{جـا} = \text{جتا} = \frac{8}{17}$ ،  $\text{جتا} = \text{جـا} = \frac{15}{17}$ ، لأن مقابل  $\hat{A}$  مجاور  $\hat{C}$ .

### هل تعلم؟

في الإنكليزية كلمة cosine مشتقة من كلمتي complement's متمم sine جيب ومنه جتا زاوية يساوي جا الزاوية المتممة.

## حاول أن تحل



٢ أ أثبت أن المثلث س ع د قائم الزاوية في ع.

ب أوجد كلاً من: جـا(س)، جتا(س)، جـا(د)، جتا(د).

ج أكمل: جـا س = ... ، جـتا س = ...

## Cosec and Sec

### ٤ - مقلوبات الجيب وجيب التمام:

مقلوب جـا هو  $\frac{1}{\text{جـا}}$  ويسمى قاطع تمام الزاوية  $\hat{A}$  ويرمز إليه بالرمز قتا  $\hat{A}$  وبالإنكليزية (Cosecant (cosec).

$$\text{قتا} = \frac{1}{\text{جـا}} : \text{جـا} \neq 0$$

$$\text{قتا} = \frac{1}{\text{جـا}} \iff \text{قتا} \times \text{جـا} = 1$$

ومقلوب جتا هو  $\frac{1}{\text{جتا}}$  ويسمى قاطع زاوية  $\hat{A}$  ويرمز إليه بالرمز قـا  $\hat{A}$  وبالإنكليزية (Secant (sec).

### هل تعلم؟

وضعت جداول النسب المثلثية منذ أكثر من ٢٠٠٠ عام لتستخدم في علم الفلك.

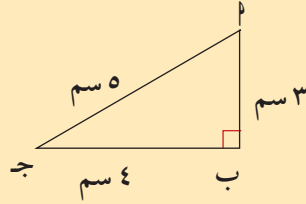
$$\text{قا} = \frac{1}{\text{جا} \hat{A}} \neq 0$$

$$\text{قا} \times \text{جتا} = 1$$

$$\text{قا} = \frac{1}{\text{جتا}}$$

### مثال (٣)

في الشكل المقابل أوجد جاج، جتاج، قاج، قتاج.  
الحل:



$$\text{جاج} = \frac{\text{المقابل}}{\text{الوتر}} = \frac{3}{5}$$

$$\text{جتاج} = \frac{\text{المجاور}}{\text{الوتر}} = \frac{4}{5}$$

$$\text{قاج} = \frac{1}{\text{جتاج}} = \frac{1}{\frac{4}{5}} = \frac{5}{4}$$

$$\text{قتاج} = \frac{1}{\text{جا}(\hat{ج})} = \frac{1}{\frac{3}{5}} = \frac{5}{3}$$

### حاول أن تحل

٣ أب ج مثلث فيه: أب = ٧ سم، ب ج = ٢٤ سم، ب ج = ٢٥ سم.  
أثبت أن  $\Delta$  أب ج قائم الزاوية، ثم أوجد جاج، جتا، قاج، قتاج، جاج، جتاج، قاج، قتاج.

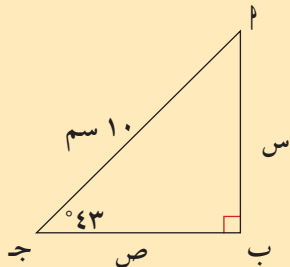
### مثال (٤) استخدام الآلة الحاسبة

في الشكل المجاور، أوجد س.  
الحل:

$$\frac{س}{10} = \text{جا}(43^\circ)$$

$$س = 10 \times \text{جا}(43^\circ)$$

تستخدم الآلة الحاسبة بالضغط على المفاتيح على الشكل التالي:



$$10 \times \sin 43 =$$

يظهر 6.819983 ويساوي تقريباً ٨, ٦.

### حاول أن تحل

٤ أوجد ص في المثال (٤).



كان نيكولاي كوبرنيك (Nicolaus Copernicus) (١٤٧٣م - ١٥٤٣م) عالمًا رياضيًا وفلكيًا، درس الطب وألّم بمعظم العلوم في عصره. يعتبر أول من صاغ نظرية مركزية الشمس وأن الأرض جرم يدور في فلكها. يعتبر كوبرنيك مؤسس الفلك الحديث. وحدة الفلك (و.ف أو AU) تمثل متوسط المسافة بين الأرض والشمس وهي تساوي تقريبًا ١٤٩ ٦٠٠ ٠٠٠ كم.

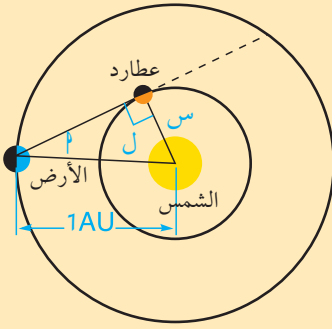
### هل تعلم؟

١ ميل  $\approx ١,٦٠٩$  كم

### مثال (٥) تطبيقات حياتية

في الشكل المقابل، إذا كان  $\hat{P} = (٣, ٢٢)^\circ$

أوجد بعد كوكب عطارد عن الشمس علمًا بأن بعد الأرض عن الشمس يساوي ١ وحدة الفلك AU.  
الحل:



بفرض أن:  $S =$  بعد كوكب عطارد عن الشمس.  
 $L =$  بعد الأرض عن الشمس

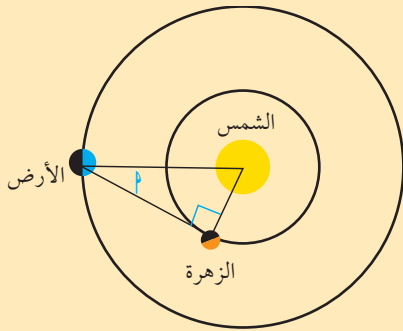
فيكون:

$$\frac{S}{L} = (٣, ٢٢)^\circ \text{ جا}$$

$\therefore$  بعد عطارد عن الشمس =  $S = L \times \text{جا} (٣, ٢٢)^\circ$ .

$$AU \ ٠,٣٨ \approx ٠,٣٨ \times ١ \approx$$

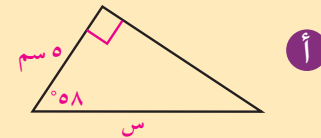
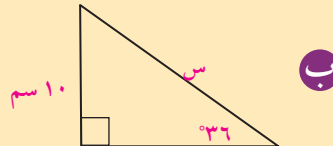
### حاول أن تحل



٤ أ كما في التطبيق السابق، أوجد بعد كوكب الزهرة عن الشمس علمًا بأن

$$\hat{P} = (١, ٤٦)^\circ$$

ب أوجد قيمة S لأقرب جزء من عشرة.



## ٥ إيجاد قياس زاوية علم جيبها أو جيب تمامها

قد تعلم جيب زاوية أو جيب تمامها وتريد معرفة قياس هذه الزاوية. تستخدم لذلك النسب العكسية ويرمز إليها بـ  $\text{جا}^{-1}$  أو  $\text{جتا}^{-1}$ .  
تبيّن العلاقة التالية الترابط بين النسب المثلثية والنسب العكسية:

$$\text{إذا كان جاد} = \text{س} \quad \text{فإن} \quad \text{جا}^{-1} \text{س} = \text{د}$$

$$\text{جتاد} = \text{س} \quad \text{فإن} \quad \text{جتا}^{-1} \text{س} = \text{د}$$

غالبًا ما تستخدم الآلة الحاسبة في إيجاد قياسات هذه الزوايا.

ننقر على **Sin** **shift** للتعبير عن  $\text{جا}^{-1}$

وننقر على **Cos** **shift** للتعبير عن  $\text{جتا}^{-1}$ .

### مثال (٦)

في الشكل المقابل، احسب  $\hat{ن}$  لأقرب درجة.

الحل:

$$\text{جتال} = \frac{\text{المجاور}}{\text{الوتر}}$$

$$\text{جتال} = \frac{٥}{٨}$$

$$\hat{ن} = \text{جتا}^{-1} \left( \frac{٥}{٨} \right)$$

باستخدام النسب المثلثية لجيب التمام

$\text{جتا}^{-1}$  تسمى النسبة العكسية لـ جتا

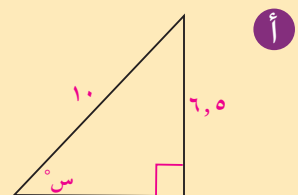
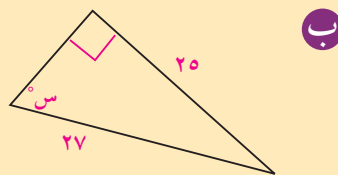
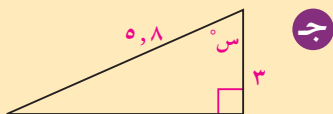
$$\text{shift} \quad \text{Cos} \quad ( \quad 5 \quad \div \quad 8 \quad ) \quad =$$

يظهر 51.317813

وبالتالي  $\hat{ن} \approx ٥١^\circ$

### حاول أن تحل

٦ أوجد قيمة س لأقرب درجة.



## ظل الزاوية ومقلوبه

## Tangent and Cotangent of an Angle

## عمل تعاوني

## سوف تتعلم

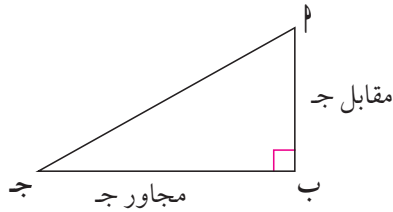
- ما هو ظل الزاوية
- إيجاد قياس الزاوية إذا علم ظلها
- مقلوب ظل الزاوية
- حل المثلث قائم الزاوية

سنعمل في مجموعات صغيرة، نختار مجموعة قياسات الزوايا (١٠°، ٢٠°، ٣٠°، ...، ٨٠°)

كل طالب في مجموعته يرسم مثلث  $\Delta$  ج قائم الزاوية في ب، ويختار إحدى الزوايا من المثلث بحيث تنتمي إلى مجموعة قياسات الزوايا. يحسب كل طالب أطوال أضلاع المثلث باستخدام المسطرة لأقرب مليمتر، ويستخدم الآلة الحاسبة في حساب النسب:

مقابل الزاوية ج  
المجاور للزاوية ج

في المثلث قائم الزاوية نسبة طول الضلع المقابل لزاوية حادة إلى طول الضلع المجاور للزاوية نفسها تسمى ظل الزاوية ونرمز إليها بالرمز ظا ج وبالإنكليزية (Tangent (tan).



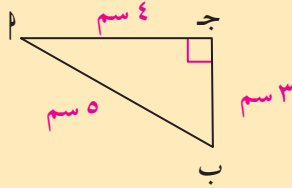
أي أن  $\text{ظل الزاوية} = \frac{\text{المقابل}}{\text{المجاور}}$

مثلاً في الشكل المقابل ظا ج =  $\frac{PB}{BJ}$

قارن بين ظا ١٠°، ظا ٢٠°، ظا ٣٠°، ظا ٤٠°، ... ماذا تستنتج؟  
من العمل التعاوني السابق، يتبين أن قيمة ظا ج تزداد كلما زاد قياس الزاوية ج بين ٠°، ٩٠°.

## مثال (١)

في الشكل المقابل أوجد ظل الزاوية  $\Delta$ ، ظل الزاوية ب.



$$\text{الحل: ظا } \Delta = \frac{\text{المقابل}}{\text{المجاور}} = \frac{ب ج}{ا ج} = \frac{٣}{٤}$$

$$\text{ظا ب} = \frac{\text{المقابل}}{\text{المجاور}} = \frac{ا ج}{ب ج} = \frac{٤}{٣}$$

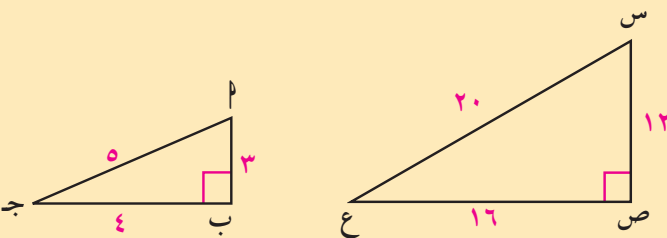
## حاول أن تحل

١ أ استعن بالمثلثين المجاورين في إيجاد:

$$\frac{ا ب}{س ص}، \frac{ا ج}{س ع}، \frac{ب ج}{ع ص}.$$

ب هل ظاس = ظا  $\Delta$ ، ظاع = ظا ج؟ ماذا تستنتج؟

ج هل هذا صحيح بالنسبة إلى النسب: جاس، جا  $\Delta$  وكذلك جتاس، جتا  $\Delta$ ؟ ماذا تستنتج؟



## مثال (٢)

### تطبيقات حياتية

أراد أحد أعضاء فريق الكشافة قياس المسافة بين قمتي جبلين، فوقف على قمة أحد الجبلين عند النقطة  $\alpha$  وحدد علامة مميزة أمامه على قمة الجبل الآخر ولتكن  $\beta$ ، ثم اتبع التالي:

- ١ وضع مؤشر البوصلة باتجاه العلامة المميزة  $\beta$  وحدد قراءة المؤشر.
- ٢ سار مسافة ٥٠ مترًا على خط مستقيم عمودي على الخط المستقيم الواصل بين القمتين.
- ٣ وضع مؤشر البوصلة مرة ثانية في اتجاه العلامة المميزة  $\beta$  وحدد قراءة المؤشر.
- ٤ باستخدام قراءتي المؤشر وجد أن:  $\angle \alpha = 86^\circ$ .

استخدم ظل الزاوية في حساب المسافة بين قمتي الجبلين عند النقطة التي بدأ منها القياس.

الحل: باستخدام ظل الزاوية

$$\frac{\alpha\beta}{50} = \tan(86^\circ)$$

$$\alpha\beta = 50 \times \tan(86^\circ)$$

تستخدم الآلة الحاسبة

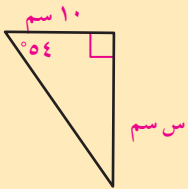
$$50 \times \tan 86 =$$

$$715.03331$$

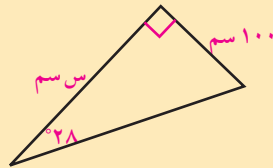
إذًا، المسافة بين قمتي الجبلين هي ٧١٥ مترًا تقريبًا.

### حاول أن تحل

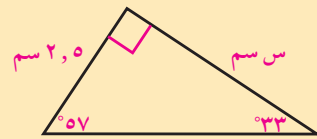
- ٢ أوجد قيمة  $\alpha$  لأقرب جزء من عشرة.



ج



ب



أ



### مثال (٣)

الهرم المقابل قاعدته مربعة الشكل. أوجد طول ارتفاعه المائل ل إذا كان قياس الزاوية  $\theta$  يساوي  $60^\circ$ .

الحل:

في  $\Delta$  ن ه ب المتطابق الضلعين  
 $\overline{ن ه} \perp \overline{أ ب}$

$\therefore ه ب = ه ب = ٧٥ م$   
 في  $\Delta$  ن ه ب القائم الزاوية ه

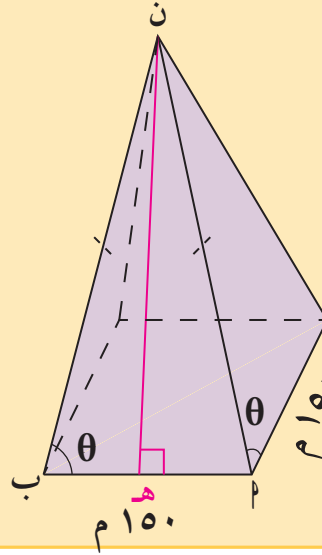
$$\tan \theta = \frac{ل}{٧٥}$$

$$\tan 60^\circ = \frac{ل}{٧٥}$$

$$ل = ٧٥ \times \tan 60^\circ \approx ١٣٠ \text{ مترًا.}$$

طول الارتفاع المائل  $\approx ١٣٠$  مترًا.

**تذكر:**  
 الارتفاع المائل:  
 هو العمود المرسوم من  
 رأس الهرم إلى أحد أضلاع  
 قاعدته.



### ١- إيجاد قياس زاوية إذا علم ظلها: Finding the Measure of an Angle Knowing its Tangent

قد تعلم ظل الزاوية وترديد معرفة قياس هذه الزاوية. تستخدم لذلك النسبة العكسية ويرمز لها بالرمز  $\tan^{-1}$  والعلاقة التالية تبين الترابط بين النسبة المثلثية والنسبة العكسية. إذا كان  $\tan \theta = س$  فإن  $\tan^{-1} س = \theta$ .

### مثال (٤)

في الشكل المقابل أوجد  $\theta$  (س) في  $\Delta$  س ص ع.

الحل:

$$\tan \theta = \frac{٦}{٨} = ٠,٧٥ \therefore \theta = \tan^{-1}(٠,٧٥)$$

حيث  $\tan^{-1}$  تعني معكوس الظل.

لإيجاد  $\theta$  (س) تستخدم الآلة الحاسبة.

$$\text{Shift TAN } 0.75 =$$

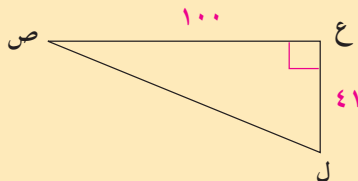
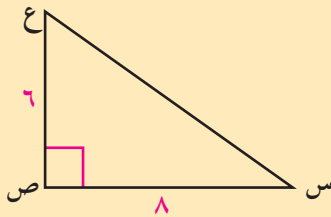
$$\text{يظهر } 36.86989765 \text{ يظهر } 36^\circ 52' 11.63''$$

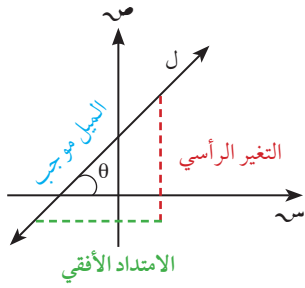
$$\theta \text{ (س)} \approx 36^\circ 52' 12''$$

### حاول أن تحل

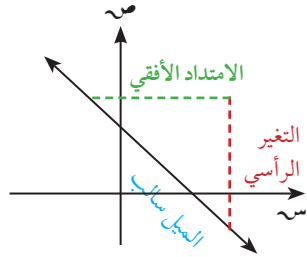
٣ أوجد  $\theta$  (س) حيث  $\tan \theta = ٠,٥$

٤ في الشكل المقابل، أوجد  $\theta$  (ل) لأقرب درجة.





إذا كان المستقيم  $l$  يصنع زاوية  $\theta$  مع الاتجاه الموجب لمحور السينات فإن  $\theta$  تسمى زاوية ميل **التغير الرأسى**  
المستقيم ويكون  $\theta = \text{ميل المستقيم} = \frac{\text{التغير الرأسى}}{\text{الامتداد الأفقي}}$



إذا كانت معادلة المستقيم:  $ص = م س + ب$  فإن ميل المستقيم  $= م$ .

### مثال (٥)

في الشكل المقابل: احسب قياس الزاوية الحادة الموجبة  $\theta$  التي يصنعها المستقيم  $ص = ٣س + ٢$  مع الاتجاه الموجب لمحور السينات.

الحل:

من الشكل  $ص(\hat{\theta}) = ص(\hat{P})$ . زاويتان متناظرتان.

$$\text{ظ}م = \frac{\text{المقابل}}{\text{المجاور}} = \frac{٣}{١} = ٣ \quad \text{ص}(\hat{P}) = \text{ظ}٣ = ٣$$

Shift

TAN

3

=

يظهر 71.565051 ، ، ، يظهر 71° 33' 54.18"

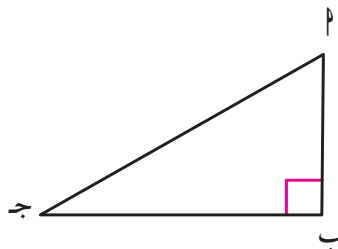
$$\text{ص}(\hat{P}) \simeq ٧١^\circ ٣٣' ٥٤''$$

حاول أن تحل

٥ احسب قياس الزاوية الحادة الموجبة التي يصنعها المستقيم  $ص = \frac{١}{٤}س + ٦$  مع الاتجاه الموجب للمحور السيني.

### ٢- مقلوب ظل الزاوية (ظتا): Cotangent (cot)

مقلوب ظل الزاوية  $= \frac{١}{\text{ظ}م}$  ويسمى ظل تمام الزاوية ويرمز إليه بالرمز **ظتا** وبالإنكليزية Cotangent (cot).



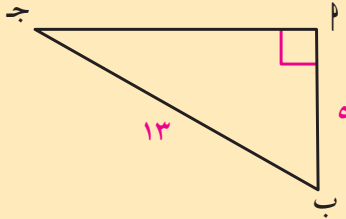
$$\frac{م}{ب} = \text{ظ}م = \frac{\text{المجاور}}{\text{المقابل}}$$

ويكون  $\text{ظ}م = \frac{١}{\text{ظ}م} : \text{ظ}م \neq ٠$

$$\therefore \text{ظ}م \times \text{ظ}م = ١$$

### مثال (٦)

في الشكل المقابل أوجد ظاج، ظتاج.



الحل:

$$\text{من نظرية فيثاغورث (م-ج)}^2 = ٥^2 - ١٣^2 = ١٤٤,$$

$$\text{م-ج} = ١٢$$

$$\text{ظاج} = \frac{\text{المقابل}}{\text{المجاور}} = \frac{٥}{١٢}$$

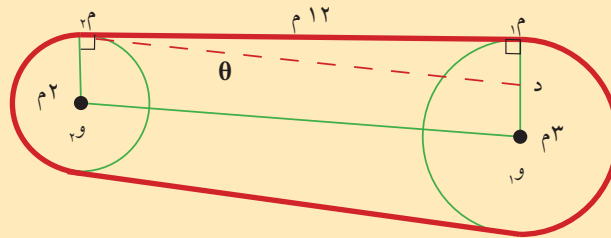
$$\text{ظتاج} = \frac{\text{المجاور}}{\text{المقابل}} = \frac{١٢}{٥}$$

### حاول أن تحل

٦ أ ب ج مثلث قائم الزاوية في ب فيه أ ب = ٧ سم، م ج = ٢٥ سم. أوجد: ظاج، ظتاج.

### مثال (٧)

يلتف حزام حول بكرتين أسطوانتي الشكل. طول نصف قطر البكرة الكبرى ٣ م وطول نصف قطر الصغرى ٢ م. نريد معرفة قياس الزاوية  $\theta$  التي يصنعها الحزام مع المستقيم المار بمركزي الدائرتين.



الحل:

$$١,٥ = ٣ - ٢$$

$$٢ = ١ - ٣ =$$

في المثلث دم<sub>١</sub>م<sub>١</sub> قائم الزاوية م<sub>١</sub>:

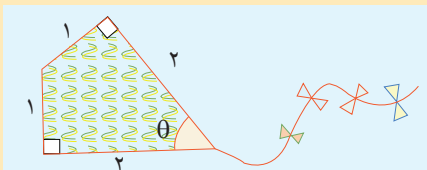
$$\theta = \frac{\text{المجاور}}{\text{المقابل}} = \frac{١}{١٢}$$

$$\theta = (\theta) = \text{ظا}^{-1} \left( \frac{١}{١٢} \right) = 4^\circ 45' 49.11''$$

قياس الزاوية  $\theta$  يساوي  $45^\circ 45' 45''$  تقريباً.

### حاول أن تحل

٧ بين الشكل المقابل طائرة ورقية. أوجد قياس الزاوية  $\theta$ .



## النسب المثلثية لبعض الزوايا الخاصة

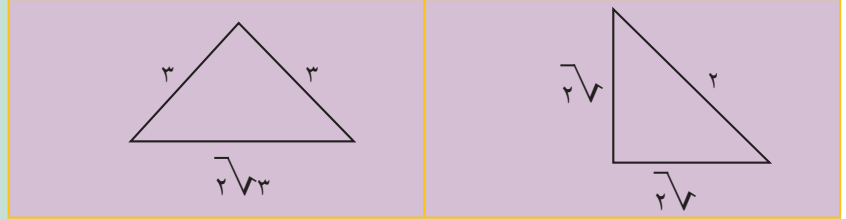
### Trigonometric Ratios for Some particular Angles

سوف نتعلم

- النسب المثلثية للزوايا  $30^\circ$ ،  $45^\circ$ ،  $60^\circ$ .
- متطابقات مثلثية
- الزاوية الربعية

دعنا نفكر ونتناقش

١ استخدم المنقلة لإيجاد قياسات زوايا كل مثلث.



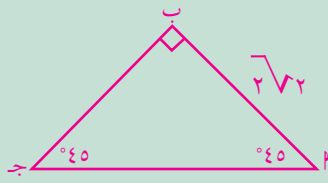
٢ قارن بين أطوال الأضلاع.

٣ استخدم نظرية فيثاغورث لإثبات ما حصلت عليه في ٢.

المثلث  $45^\circ$ ،  $45^\circ$ ،  $90^\circ$ .

في المثلث  $\Delta$  ج، قياس كل من الزاويتين الحادتين يساوي  $45^\circ$ .

المثلث  $\Delta$  ب ج قائم الزاوية ب متطابق الضلعين، ويسمى أحياناً المثلث  $45^\circ$ ،  $45^\circ$ ،  $90^\circ$ .



إذا كان طول أحد ضلعي الزاوية القائمة يساوي س، فإن طول الوتر = س  $\sqrt{2}$

$$\frac{2\sqrt{2}}{2} = \text{جناه } 45^\circ$$

$$\frac{2\sqrt{2}}{2} = \text{جتاه } 45^\circ$$

$$1 = \text{ظاه } 45^\circ$$

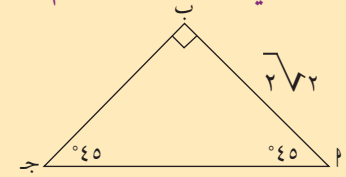
في هذا المثلث جناه  $45^\circ = \frac{\text{المقابل}}{\text{طول الوتر}} = \frac{س}{س\sqrt{2}} = \frac{1}{\sqrt{2}}$

كذلك جتاه  $45^\circ = \frac{\text{المجاور}}{\text{الوتر}} = \frac{س}{س\sqrt{2}} = \frac{1}{\sqrt{2}}$

ظاه  $45^\circ = \frac{\text{المقابل}}{\text{المجاور}} = \frac{س}{س} = 1$

مثال (١)

أ في المثلث المرسوم، أوجد طول الوتر  $\Delta$  ج.



الحل:

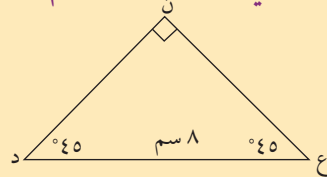
$$\text{جتاه } 45^\circ = \frac{\text{ب}}{\text{ج}}$$

$$\frac{2\sqrt{2}}{2} = \frac{2\sqrt{2}}{\text{ج}}$$

$$\text{ج} = \frac{2\sqrt{2}}{2} = \frac{2\sqrt{2}}{2} = 2$$

طول الوتر  $\Delta$  ج = ٤ سم.

ب في المثلث المرسوم، أوجد طول الضلع  $\Delta$  ع.



الحل:

$$\text{جتاه } 45^\circ = \frac{\text{ع}}{\text{د}}$$

$$\frac{2\sqrt{2}}{8} = \frac{\text{ع}}{8}$$

$$\text{ع} = \frac{2\sqrt{2}}{2} \times 8 = 8 \times \text{جتاه } 45^\circ = 8 \times \frac{2\sqrt{2}}{2} = 8\sqrt{2}$$

طول الضلع  $\Delta$  ع  $\approx 11.31$  سم.

## حاول أن تحل

- ١ أ) أوجد طول الوتر إذا كان طول أحد ضلعي الزاوية القائمة = ٥ سم.  
 ب) الحساب الذهني: إذا كان ظا ج = ١ فكيف توجد  $\hat{C}$  (ج) دون استخدام الآلة الحاسبة؟

### 30° - 60° triangle

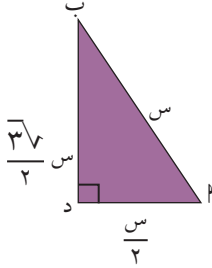
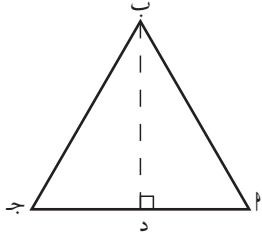
### المثلث ثلاثيني ستيني

أب ج مثلث متطابق الأضلاع.  
 ب د  $\perp$  أ ج.

لما كان المثلث أب ج متطابق الأضلاع، إذًا ب د هي منصف الزاوية أ ب ج.  
 ومنه  $\hat{C} = (\hat{A} + \hat{B}) = 60^\circ$ ،  $30^\circ = \frac{60^\circ}{2}$

يسمى هذا المثلث: مثلث ثلاثيني ستيني (30°، 60°، 90°).

إذا كان طول الضلع أ ج يساوي س فإن أ د =  $\frac{س}{2}$   
 وباستخدام نظرية فيثاغورث في المثلث أب د نحصل على ب د =  $\frac{3\sqrt{3}}{2}$ .  
 كذلك ب د هي المنصف العمودي للقطعة أ ج.



$$\frac{3\sqrt{3}}{2} = \text{جا } 60^\circ$$

$$\frac{1}{2} = \text{جتا } 60^\circ$$

$$3\sqrt{3} = \text{ظا } 60^\circ$$

$$\frac{3\sqrt{3}}{2} = \frac{\frac{3\sqrt{3}}{2}}{\frac{س}{2}} = \frac{\text{ب د}}{\text{أ ب}} = \text{جا } 60^\circ = \hat{A}$$

$$\frac{1}{2} = \frac{\frac{س}{2}}{\frac{س}{2}} = \frac{\text{أ د}}{\text{أ ب}} = \text{جتا } 60^\circ = \hat{A}$$

$$3\sqrt{3} = \frac{\frac{3\sqrt{3}}{2}}{\frac{س}{2}} = \frac{\text{ب د}}{\text{أ د}} = \text{ظا } 60^\circ = \hat{A}$$

$$\frac{1}{2} = \frac{\frac{س}{2}}{\frac{س}{2}} = \frac{\text{أ د}}{\text{أ ب}} = \text{جتا } 30^\circ = \hat{B}$$

$$\frac{3\sqrt{3}}{2} = \frac{\frac{3\sqrt{3}}{2}}{\frac{س}{2}} = \frac{\text{ب د}}{\text{أ ب}} = \text{جتا } 30^\circ = \hat{B}$$

$$\frac{3\sqrt{3}}{3} = \frac{1}{\frac{3\sqrt{3}}{2}} = \frac{\frac{س}{2}}{\frac{3\sqrt{3}}{2}} = \text{ظا } 30^\circ = \hat{B}$$

لاحظ أن جا 60° = جتا 30°

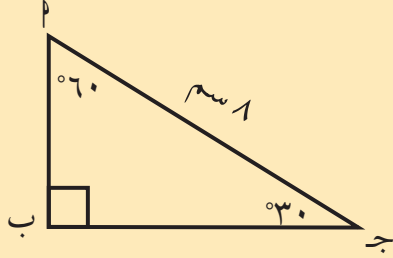
جتا 60° = جا 30°

$$\frac{1}{2} = \text{جا } 30^\circ$$

$$\frac{3\sqrt{3}}{2} = \text{جتا } 30^\circ$$

$$\frac{3\sqrt{3}}{3} = \text{ظا } 30^\circ$$

### مثال (٢)



أب ج مثلث ثلاثيني ستيني. طول الوتر = ٨ سم.  
أوجد طول كل من الضلعين  $\overline{AB}$ ،  $\overline{BC}$ .

الحل:

$$\frac{\overline{AB}}{\overline{AC}} = \cos 60^\circ = \frac{1}{2}$$

$$\frac{\overline{AB}}{8} = \frac{1}{2}$$

$$\overline{AB} = 4$$

$$\frac{\overline{BC}}{\overline{AC}} = \sin 60^\circ = \frac{\sqrt{3}}{2}$$

$$\frac{\overline{BC}}{8} = \frac{\sqrt{3}}{2}$$

$$\overline{BC} = 4\sqrt{3}$$

طول الضلع  $\overline{AB} = 4$  سم وطول الضلع  $\overline{BC} = 4\sqrt{3} \approx 6,9$  سم.

### حاول أن تحل

٢ في مثلث ثلاثيني ستيني إذا كان طول الضلع الأصغر =  $6\sqrt{2}$  سم، فأوجد طول الضلعين الباقيين.



### مثال (٣) تطبيق لوحة إرشادية لمدرسة

تشير إحدى لوحات السير على وجود مدرسة. اللوحة على شكل مثلث متطابق الأضلاع طول ضلعه ٦٠ سم. أوجد مساحة هذه اللوحة.

الحل:

$$\text{طول العمود النازل من رأس مثلث متطابق الأضلاع إلى القاعدة} = \text{طول الضلع} \times \frac{\sqrt{3}}{2} \text{ (أي ارتفاع المثلث)}$$

$$= 60 \times \frac{\sqrt{3}}{2} \approx 52 \text{ سم.}$$

$$\text{مساحة الإشارة} = \frac{\text{طول القاعدة} \times \text{الارتفاع}}{2} = \frac{60 \times 52}{2} = 1560 \text{ سم}^2.$$

مساحة الإشارة تساوي حوالي ١٥٦٠ سم<sup>٢</sup>.

### حاول أن تحل

٣ معيّن يتكوّن من مثلثين متطابقين الأضلاع. أوجد مساحة المعين إذا كان طول ضلع المثلث = ٨ سم.

## مثال (٤) تطبيقات حياتية

برج بيزا معلم أثري مشهور في إيطاليا. كان ارتفاع البرج ٥٥ مترًا قبل ميله نحو الجنوب. (أد في الرسم).

شاهد مراقبان موجودان في النقطتين ب، ج قمة البرج بزوايتين قياسهما  $45^\circ$ ،  $30^\circ$  على الترتيب.

أ) عبّر عن طول كل من هـ ب، هـ ج بدلالة طول أـ هـ.

ب) أوجد أـ هـ علمًا أن المسافة بين النقطتين ب، ج تساوي ٤٠ مترًا.

ج) نتيجة للأشغال المهمة على البرج بين العامين ١٩٩٣ - ٢٠٠١ تقلص البعد بين النقطتين هـ، د من ٤، ٥ مترًا إلى ٤ أمتار. ما قياس (أـ هـ) التي يصنعها البرج مع الأرض قبل الأشغال؟ وبعد الأشغال؟ قرب إجابتك إلى أقرب جزء من عشرة.

الحل:

أ) في المثلث أـ هـ ب:  $\cos 45^\circ = \frac{أـ هـ}{هـ ب} = 1$  ومنه  $هـ ب = أـ هـ$

في المثلث أـ هـ ج:  $\cos 30^\circ = \frac{أـ هـ}{هـ ج} = \frac{1}{\sqrt{3}}$  ومنه  $هـ ج = \sqrt{3} أـ هـ$

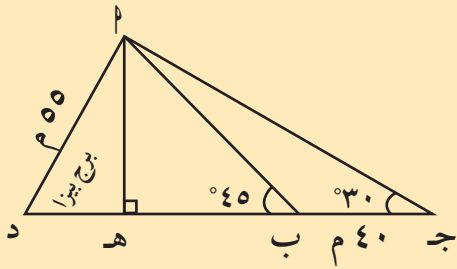
ب)  $هـ ج = هـ ب + ب ج$

$$\sqrt{3} أـ هـ = أـ هـ + 40 \text{ أي } 40 = أـ هـ (1 - \sqrt{3})$$

$$أـ هـ = \frac{40}{1 - \sqrt{3}} \approx 54,64$$

ج) قبل الأشغال:  $\cos 45^\circ = \frac{أـ هـ}{هـ ب} = \frac{5,4}{55}$ ،  $\cos 30^\circ = \frac{أـ هـ}{هـ ج} = \frac{5,4}{55}$ ،  $\cos 30^\circ = \frac{أـ هـ}{هـ ج} = \frac{5,4}{55}$ ،  $\cos 30^\circ = \frac{أـ هـ}{هـ ج} = \frac{5,4}{55}$

بعد الأشغال:  $\cos 45^\circ = \frac{أـ هـ}{هـ ب} = \frac{4}{55}$ ،  $\cos 30^\circ = \frac{أـ هـ}{هـ ج} = \frac{4}{55}$ ،  $\cos 30^\circ = \frac{أـ هـ}{هـ ج} = \frac{4}{55}$



## حل المثلث قائم الزاوية

### Solving Right Triangle

#### عمل تعاوني

#### سوف تتعلم

- إيجاد قياسات زوايا مثلث قائم.
- إيجاد أطوال أضلاع مثلث قائم.

استخدم برنامج رسم هندسي على الحاسوب.

ارسم شعاعين  $\overrightarrow{AS}$  ،  $\overrightarrow{AV}$  يشكلان زاوية حادة  $\hat{A}$  ص.

من نقطة د على  $\overrightarrow{AS}$  ارسم شعاعاً متعامداً مع  $\overrightarrow{AS}$  يقطع  $\overrightarrow{AV}$  في ج.

بتحريك النقطة د تتحرك تبعاً لها النقطة ج، يكبر المثلث  $\triangle ADJ$  أو يصغر. وبتحريك النقطة

ص يكبر أو يصغر قياس الزاوية  $\hat{A}$ .

١ - أوجد قياس الزاوية  $\hat{A}$ .

٢ - أوجد أطوال أضلاع المثلث  $\triangle ADJ$ .

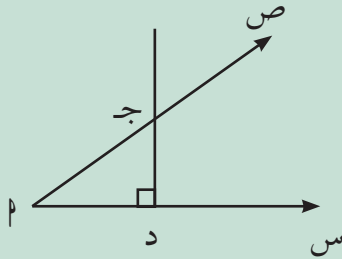
احسب النسبة  $\frac{DJ}{AJ} = \left( \frac{\text{الضلع المقابل للزاوية } \hat{A}}{\text{الوتر}} \right)$

حرك  $\overrightarrow{AS}$  بحيث يتغير قياس الزاوية  $\hat{A}$ .

ما الذي تلاحظه حول النسبة  $\frac{DJ}{AJ}$  عندما يتغير قياس الزاوية  $\hat{A}$ .

من أي قيمة تقترب هذه النسبة عندما يقترب قياس  $\hat{A}$  من  $90^\circ$ ؟ ومن  $0^\circ$ ؟

٣ - اصنع جدولاً يبين قيم الزاوية  $\hat{A}$  والنسبة  $\left( \frac{\text{الضلع المقابل للزاوية } \hat{A}}{\text{الوتر}} \right)$  يتضمن القياسات  $10^\circ, 20^\circ, 30^\circ, \dots, 80^\circ$  للزاوية  $\hat{A}$ .



#### ٣ - حل المثلث قائم الزاوية

نعلم أن للمثلث ستة عناصر هي أضلاعه الثلاثة وزواياه الثلاثة. حلّ المثلث يعني إيجاد أطوال أضلاعه الثلاثة وقياسات زواياه الثلاثة. سيقصر عملنا في هذا البند على المثلث قائم الزاوية.

في الشكل المقابل المثلث  $\triangle ABC$  ج قائم الزاوية في ب.

الأضلاع:  $\overline{AB}$ ،  $\overline{AJ}$ ،  $\overline{BC}$

الزوايا:  $\hat{A}$ ،  $\hat{B}$ ،  $\hat{C}$

غالباً ما تعطى ثلاثة عناصر في المثلث أحدها على الأقل طول أحد الأضلاع ويتعين علينا إيجاد الباقي.

#### مثال (١)

حلّ المثلث  $\triangle ABC$  القائم في  $\hat{B}$  إذا علم أن:  $AB = 4$  سم،  $BC = 3$  سم

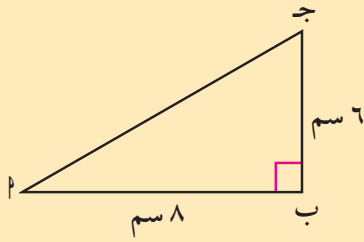
الحل:

بتطبيق نظرية فيثاغورث

$$AC^2 = AB^2 + BC^2$$

$$AC = 5 \text{ سم}$$





ظا =  $\frac{\text{المقابل}}{\text{المجاور}} = \frac{6}{8} = \frac{3}{4} = 0,75$   
 استخدم حاسبة الجيب لإيجاد  $\hat{ا}$ .

$$\text{Shift TAN } 0.75 = 36.869897$$

$$\hat{ا} \approx 37^\circ = 90^\circ - 53^\circ = \hat{ج}$$

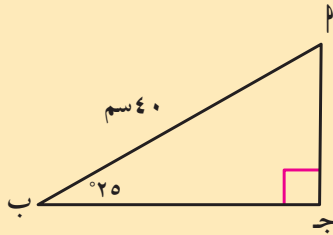
$$\hat{ا} \approx 37^\circ$$

حاول أن تحل

١ حل المثلث ا ب ج القائم الزاوية في ج حيث: ب ج = ١٥ سم، ا ج = ١٢ سم

مثال (٢)

حلّ المثلث ا ب ج القائم في ج (إذا علم أن: ا ب = ٤٠ سم،  $\hat{ب} = 25^\circ$ )  
 الحل:



$$\hat{ا} = 90^\circ - 25^\circ = 65^\circ$$

$$\text{جتا } (\hat{ب}) = \frac{\text{ب ج}}{\text{ا ب}}, \text{ جتا } (25^\circ) = \frac{\text{ب ج}}{40}$$

$$\text{ب ج} = 40 \times \text{جتا } (25^\circ) \approx 36,25 \text{ سم}$$

$$\text{جاب } = \frac{\text{ا ج}}{\text{ا ب}}, \text{ جا } (25^\circ) = \frac{\text{ا ج}}{40}$$

$$\text{ا ج} = 40 \times \text{جا } (25^\circ) \approx 17 \text{ سم}$$

حاول أن تحل

٢ حل المثلث ا ب ج القائم في ج حيث: ا ج = ٢٠ سم،  $\hat{ب} = 75^\circ$

مثال (٣)

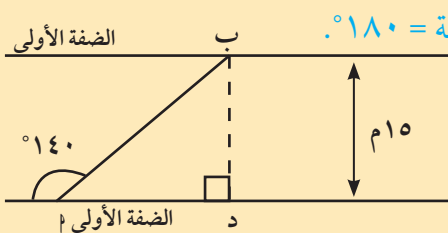


حاول أحد السباحين عبور النهر انطلاقًا من النقطة ا الموضحة بالشكل المرسوم جرفه التيار ووصل إلى النقطة ب.

ما المسافة التي قطعها السباح؟

الحل: ليكن ب د البعد العمودي بين الضفتين

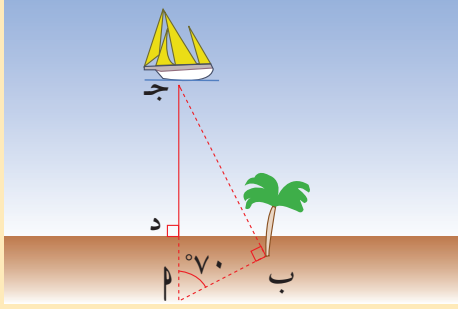
في المثلث ا ب د،  $\hat{د} = 180^\circ - 140^\circ = 40^\circ$  قياس الزاوية المستقيمة  $= 180^\circ$ .



بالتعويض

$$\text{جا } (40^\circ) = \frac{\text{ب د}}{\text{ا ب}}$$

$$\text{جا } (ا) = \frac{\text{ب د}}{\text{ا ب}}$$



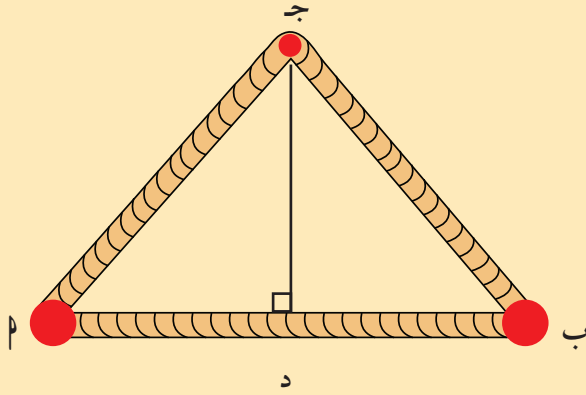
أب =  $\frac{15}{\sin 40^\circ} \approx 23,3$  أي أن السباح قطع حوالي ٢٣,٣ مترًا.

### حاول أن تحل

٣ ما البعد بين الزورق (النقطة ج) والشاطئ إذا كان  
 د = ١٠٠ متر، أب = ١٥٠ متر.

### مثال (٤)

جبل طوله ١٠ أمتار مثبت في مسمارين عند النقطتين  $\Gamma$ ، ب. جبل آخر طوله ١١ مترًا مثبت في نفس النقطتين، شد من وسطه (النقطة ج) إلى أعلى.



ب أوجد د

أ أوجد  $\hat{د}$

الحل:

$$د = \frac{أب}{\sin \hat{د}} = 5 \text{ أمتار.}$$

$$د = \frac{١١}{\sin \hat{د}} = 5,5 \text{ أمتار.}$$

$$\cos \hat{د} = \frac{٥}{٥,٥} \approx 0,91$$

$$\therefore \hat{د} \approx \cos^{-1}(0,91)$$

$$\hat{د} \approx 24^\circ 29' 41''$$

باستخدام الحاسبة

ب باستخدام نظرية فيثاغورث  $(ج د)^2 = (د)^2 + (م د)^2$

$$أي (ج د)^2 = (د)^2 + (م د)^2$$

$$(ج د)^2 = 25 - 25,5 = 5,25$$

$$\therefore ج د \approx \sqrt{5,25} = 2,3$$

طول القطعة ج د يساوي حوالي ٢,٣ متر.

### حاول أن تحل

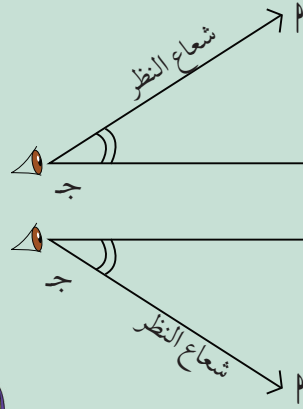
٤ أوجد  $\hat{م}$  إذا كان طول الجبل من  $\Gamma$  إلى ب والمار بالنقطة ج يساوي ١٢ مترًا.

## زوايا الارتفاع والانخفاض

## Angles of Elevation and Depression

## سوف تتعلم

- زوايا الارتفاع وزوايا الانخفاض
- استخدام زوايا الارتفاع والانخفاض في حل مسائل حياتية



## دعنا نفكر ونتناقش

- ١- إذا رصد شخص (ج) نقطة م أعلى من مستوى نظره الأفقي ج ب فإن الزاوية التي يحددها ج م ، ج ب تسمى **زاوية ارتفاع م** عن المستوى الأفقي لنظر الشخص ج.
- ٢- وإذا رصد الشخص ج نقطة د أدنى من مستوى نظره الأفقي ج ب فإن الزاوية التي يحددها ج د ، ج ب تسمى **زاوية انخفاض د** عن المستوى الأفقي لنظر الشخص ج.

## ملاحظة:

إذا كان م شخصًا موجودًا على سطح الأرض، وكان ب شخصًا موجودًا في منطاد مرتفع عن سطح الأرض، ونظر كل منهما إلى الآخر فإن:

$\hat{\theta}_1$  هي زاوية ارتفاع ب عن المستوى الأفقي لنظر (م).

$\hat{\theta}_2$  هي زاوية انخفاض (م) عن المستوى الأفقي لنظر (ب).

ونلاحظ في هذه الحالة أن:

زاوية الارتفاع  $(\hat{\theta}_1) =$  زاوية الانخفاض  $(\hat{\theta}_2)$ .

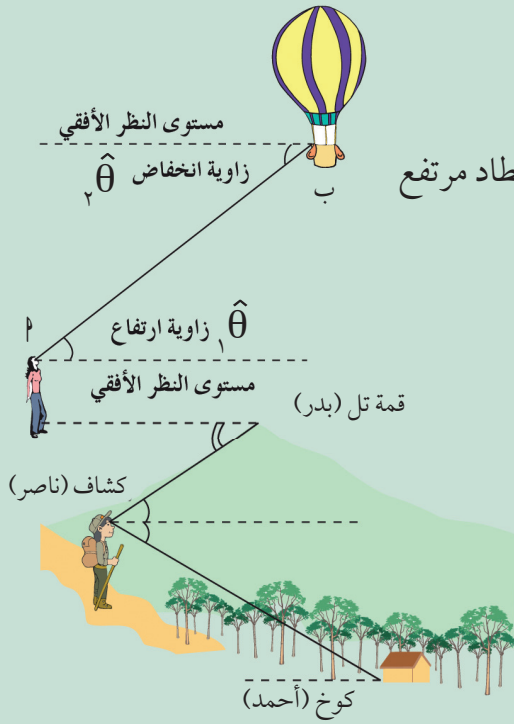
٣- يقف بدر عند قمة التل ويقف ناصر عند الكشاف ويقف أحمد عند الكوخ.

صف كل زاوية في الشكل عندما ينظر:

(أ) بدر إلى ناصر

(ب) ناصر إلى أحمد

(ج) ناصر إلى بدر



## مثال (١)

لقياس طول إحدى المسلات قام مرشد سياحي برصد قمة المسلة فوجد أن قياس زاوية الارتفاع  $48^\circ$ . إذا كان المرشد يبعد عن قاعدة المسلة مسافة ١٨ م فاحسب ارتفاع المسلة.

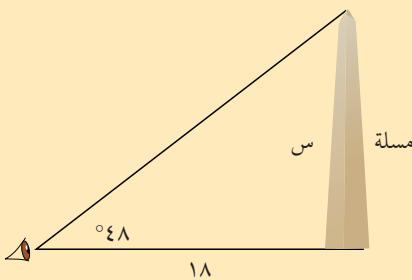
الحل:

$$\frac{\text{س}}{18} = \tan(48^\circ)$$

$$\text{س} = 18 \times \tan(48^\circ) \approx 20$$

ارتفاع المسلة: ٢٠ م تقريباً

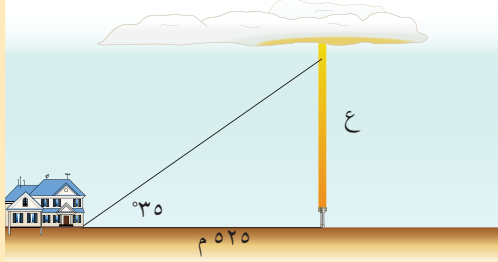
## حاول أن تحل



١ إذا كنت تسكن بالقرب من مطار الكويت الدولي وشاهدت طائرة وقمت بتقدير زاوية الارتفاع فكانت  $32^\circ$  تقريباً. وإذا كان ارتفاع الطائرة عن سطح الأرض عندئذ ١٠٠٠ م فاحسب المسافة بينك وبين الطائرة.

### مثال (٢)

علم الأرصاد الجوية: لمعرفة ارتفاع طبقة من الغيوم عن سطح الأرض يستخدم علماء الفلك قياس زاوية الارتفاع في اللحظة التي يصل فيها البرق إلى الأرض. (يمكن نمذجة المسألة كما في الصورة).  
أوجد قيمة تقريبية لارتفاع طبقة الغيوم عن سطح الأرض.

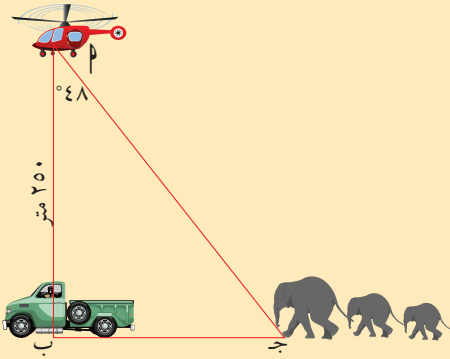


الحل:

$$\frac{ع}{٥٢٥} = \text{ظا } (٣٥)^\circ$$
$$ع = ٥٢٥ \times \text{ظا } (٣٥)^\circ$$
$$ع \approx ٣٦٧,٦ \text{ متراً}$$

### مثال (٣)

تحلق مروحية فوق محمية طبيعية على ارتفاع ٢٥٠ متراً وتواكبها على الأرض سيارة حرس المحمية. شاهد ربان المروحية قطعاً من الفيلة بزاوية انخفاض قياسها  $٤٨^\circ$ . ما المسافة بين سيارة الحرس والقطيع إذا كانت السيارة مباشرة تحت المروحية؟  
الحل:



لتكن أ موقع المروحية، ب موقع السيارة، ج موقع القطيع.

$$\frac{\text{المجاور}}{\text{المقابل}} = \text{جا } \theta$$

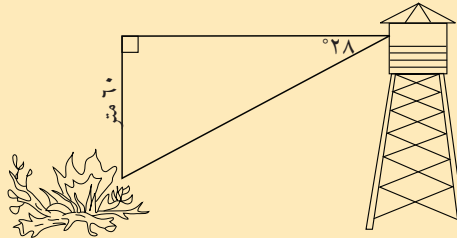
$$\frac{٢٥٠}{ب} = \text{جا } ٤٨^\circ$$

$$ب \approx \frac{٢٥٠}{\text{جا } ٤٨^\circ} = ٢٢٥$$

يبعد قطيع الفيلة حوالي ٢٢٥ متراً عن سيارة الحرس.

### حاول أن تحل

٣ يقف مراقب فوق برج ارتفاعه ٦٠ متراً. شاهد حريقاً بزاوية انخفاض قياسها  $٢٨^\circ$ . ما المسافة بين قاعدة برج المراقبة وموقع الحريق؟



### مثال (٤)

شاهد رجل إطفاء وهو يقف على سطح الأرض ألسنة النيران تنبعث من إحدى النوافذ القريبة من سطح البناء. وجد أن قياس زاوية الارتفاع من مستوى نظره إلى القاعدة السفلية للنافذة (ب) حيث تندلع النيران هي  $28^\circ$ ، وزاوية الارتفاع من مستوى نظره إلى سطح البناء (ب) قياسها  $42^\circ$ . علمًا أن رجل إطفاء يقف على مسافة ٢٥ مترًا من قاعدة البناء. ما المسافة بين قاعدة النافذة (حيث ألسنة النيران) و سطح البناء؟

الحل:

بفرض أن  $١ع$  هي البعد بين القاعدة السفلية للنافذة (ب) ومستوى النظر الأفقي.

$$\text{ظا } 28^\circ = \frac{١ع}{٢٥} \quad ; \quad ٢٥ = \text{ظا } 28^\circ \cdot ١ع$$

بفرض أن  $٢ع$  هي البعد بين سطح البناء والمستوى الأفقي للنظر.

$$\text{ظا } 42^\circ = \frac{٢ع}{٢٥} \quad ; \quad ٢٥ = \text{ظا } 42^\circ \cdot ٢ع$$

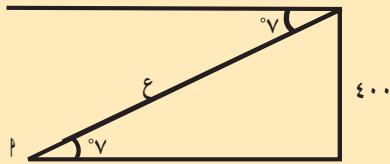
$$١ع - ٢ع = ٢٥ = (\text{ظا } 42^\circ - \text{ظا } 28^\circ) \cdot ٢٥$$

∴ المسافة المطلوبة  $\approx ٩,٢٢$  أمتار

### حاول أن تحل

٤ زوّد منطاد بهوائي تلفزيون لنقل مباراة كرة القدم، حيث تراقب آلة التصوير الملعب بزاوية انخفاض  $7^\circ$ . يبلغ ارتفاع المنطاد عن سطح الأرض ٤٠٠ مترًا.

(المنطاد (آلة التصوير)



ما طول خط الضوء المرسل من آلة التصوير إلى الملعب؟

# القطاع الدائري والقطعة الدائرية


## Circular Sector and Circular Segment

### تعريف:

القطاع الدائري هو جزء من سطح الدائرة محدود بنصفي قطرين وقوس.

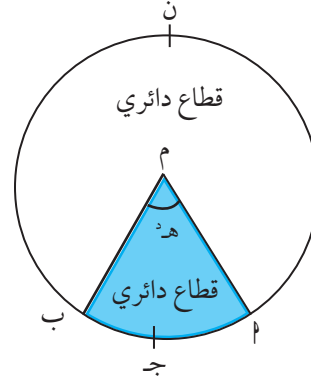
### سوف تتعلم

- القطاع الدائري
- إيجاد مساحة القطاع الدائري
- القطعة الدائرية
- إيجاد مساحة القطعة الدائرية



تمثل قطعة الشطيرة قطاعًا دائريًا في الشكل المرسوم:

نصفا القطرين  $م$ ،  $م$  ب يقسمان الدائرة إلى قطاعين دائريين. القطاع الأصغر  $م$   $ج$  ب زاويته المركزية  $هـ$ ، والقطاع الأكبر  $م$   $ب$  زاويته المركزية  $هـ$  -  $\pi$ .



### معلومة رياضية:

قياس القوس = قياس الزاوية المركزية التي تحصر القوس بين ضلعيها.

## Area of Circular Sector

### ١ - مساحة القطاع الدائري:

لإيجاد مساحة القطاع الدائري نستخدم التناسب:

نسبة مساحة القطاع الدائري إلى مساحة الدائرة هي نسبة طول القوس إلى طول الدائرة. (محيط الدائرة)

### تذكر:

مساحة الدائرة =  $\pi r^2$

طول القوس  $ل = r \times \theta$

$$\frac{\text{مساحة القطاع الدائري}}{\text{مساحة الدائرة}} = \frac{\text{طول القوس}}{\text{طول الدائرة}}$$

$$\frac{\text{مساحة القطاع الدائري}}{\pi r^2} = \frac{ل}{\pi r}$$

$$\text{مساحة القطاع الدائري} = \frac{ل}{r} \times \frac{\pi r^2}{\pi} = \frac{1}{2} ل r$$

$$\text{مساحة القطاع الدائري} = \frac{1}{2} ل r$$

### مثال (١)

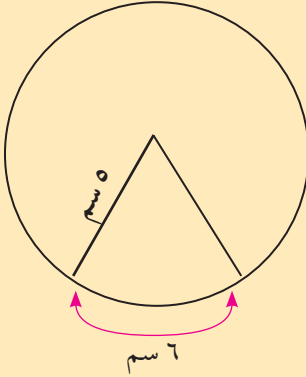
أوجد مساحة القطاع الأصغر في الشكل المقابل:

الحل:

$$\text{أ} \quad \text{مساحة القطاع} = \frac{1}{4} \text{ ل} = \frac{1}{4} \times 6 \times 5 = 15 \text{ سم}^2$$

$$= 15 \text{ سم}^2$$

مساحة القطاع الدائري تساوي ١٥ سم<sup>٢</sup>



### حاول أن تحل

١ أ أوجد مساحة القطاع الدائري الذي طول نصف قطره ١٠ سم وطول قوسه ٤ سم.

تعرّف في بداية الوحدة الثانية أن طول القوس ل يساوي قياس الزاوية المركزية بالراديان مضروباً في طول نصف القطر:  
 $ل = هـ \times ن$

إذا عوّضنا عن ل بـ  $هـ \times ن$  نحصل على:  
 مساحة القطاع الدائري  $= \frac{1}{4} \times هـ \times ن \times ن \times ن = \frac{1}{4} \times هـ \times ن^2$

### مثال (٢)

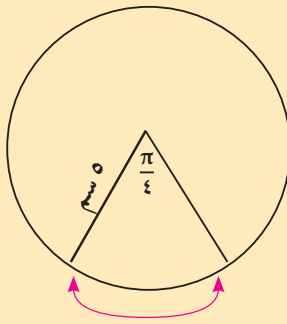
أوجد مساحة القطاع الدائري الأصغر في الشكل المقابل:

الحل:

$$\text{مساحة القطاع} = \frac{1}{4} \times هـ \times ن^2 = \frac{1}{4} \times 5 \times \frac{\pi}{4} = 9,8 \text{ سم}^2$$

$$= 9,8 \text{ سم}^2$$

مساحة القطاع الدائري تساوي حوالي ٩,٨ سم<sup>٢</sup>



### ٢- القطعة الدائرية: Circular Segment

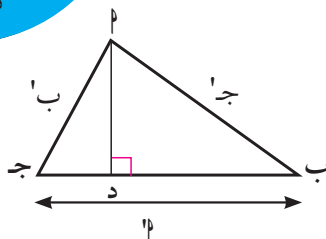
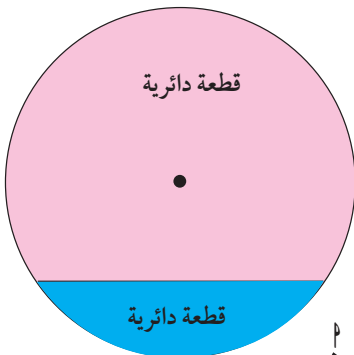
القطعة الدائرية هي جزء من سطح الدائرة محدود بقوس فيها ووتر.

### ٣- مساحة المثلث: Area of a Triangle

$$\text{مساحة المثلث } \text{أب ج} = \frac{1}{2} \times \text{ب ج} \times \text{أد}$$

$$\text{لكن } \text{جأب} = \frac{\text{أد}}{\text{أب}} \quad \text{إذا} \quad \text{أد} = \text{أب} \times \text{جأب}$$

$$\text{مساحة المثلث } \text{أب ج} = \frac{1}{2} \times \text{ب ج} \times \text{أب} \times \text{جأب}$$

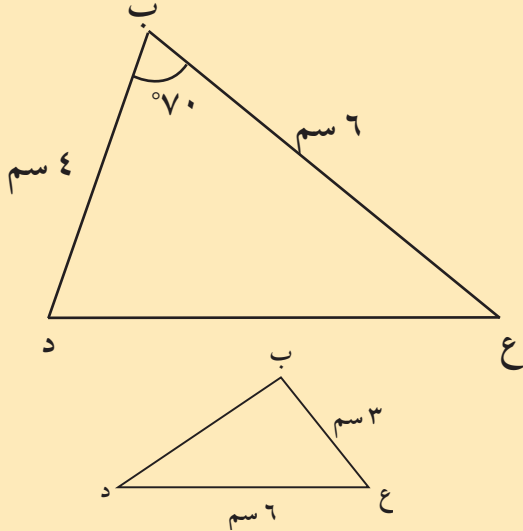


$$\begin{aligned} \text{مساحة المثلث } \Delta \text{ ب ج د} &= \frac{1}{2} \times \text{ب ج} \times \text{ب د} \times \sin \angle \text{ب} \\ &= \frac{1}{2} \times \text{ب ج} \times \text{ب د} \times \sin \angle \text{ب} \\ &= \frac{1}{2} \times \text{ب ج} \times \text{ب د} \times \sin \angle \text{ب} \end{aligned}$$

أي أن مساحة المثلث =  $\frac{1}{2}$  حاصل ضرب طولَي أي ضلعين  $\times$  جيب الزاوية المحددة بها

$$\begin{aligned} \text{وباختصار نكتب مساحة المثلث } \Delta \text{ ب ج د} &= \frac{1}{2} \times \text{ب ج} \times \text{ب د} \times \sin \angle \text{ب} \\ &= \frac{1}{2} \times \text{ب ج} \times \text{ب د} \times \sin \angle \text{ب} \\ &= \frac{1}{2} \times \text{ب ج} \times \text{ب د} \times \sin \angle \text{ب} \end{aligned}$$

### مثال (٣)



ب ع د حيث ب ع = 6 سم، ب د = 4 سم،  $\angle \text{ب} = 70^\circ$   
أوجد مساحة هذا المثلث.

الحل:

$$\begin{aligned} \text{مساحة المثلث ب ع د} &= \frac{1}{2} \times \text{ب ع} \times \text{ب د} \times \sin \angle \text{ب} \\ &= \frac{1}{2} \times 6 \times 4 \times \sin 70^\circ \\ &= 11,276 \approx 11,276 \text{ سم}^2 \end{aligned}$$

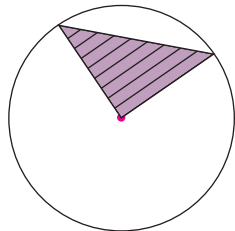
مساحة المثلث ب ع د هي حوالي 11,276 سم<sup>2</sup>.

### حاول أن تحل

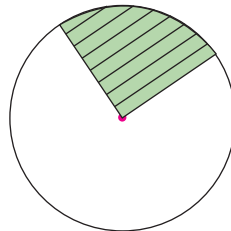
٢ في المثلث المقابل إذا كانت مساحته = 7 سم<sup>2</sup>. فأوجد  $\angle \text{ع}$ .

### ٤- مساحة القطعة الدائرية: Area of a Circular Segment

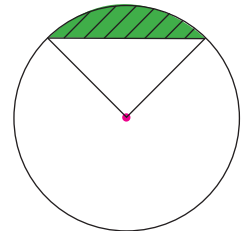
مساحة القطعة الدائرية تساوي مساحة القطاع الدائري مطروحاً منه مساحة المثلث.



مساحة المثلث



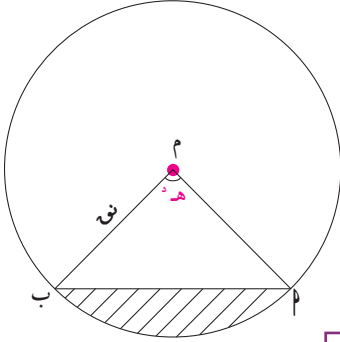
مساحة القطاع الدائري



مساحة القطعة الدائرية

$$\text{مساحة القطعة الدائرية} = \text{مساحة القطاع الدائري} - \text{مساحة المثلث}$$





إيجاد مساحة القطعة الدائرية:

$$\text{مساحة القطاع الأصغر} = \frac{1}{4} \text{هـ}^2 \times \text{نـ}^2$$

$$\text{مساحة المثلث م أ ب} = \frac{1}{4} \text{م}^2 \times \text{م ب} \times \text{ج ا (هـ}^2)$$

$$= \frac{1}{4} \text{نـ}^2 \times \text{ج ا (هـ}^2)$$

$$\text{مساحة القطعة الدائرية} = \text{مساحة القطاع الأصغر} - \text{مساحة المثلث م أ ب}$$

$$= \frac{1}{4} \text{هـ}^2 \times \text{نـ}^2 - \frac{1}{4} \text{نـ}^2 \times \text{ج ا (هـ}^2)$$

$$\text{مساحة القطعة الدائرية} = \frac{1}{4} \text{نـ}^2 (\text{هـ}^2 - \text{ج ا هـ}^2)$$

**تذكر:**

هـ هو قياس الزاوية بالراديان.  
انتبه لوضع الآلة الحاسبة.

#### مثال (٤)

احسب مساحة قطعة دائرية زاويتها المركزية  $60^\circ$  وطول نصف قطر دائرتها ١٠ سم.

الحل:

$$\text{مساحة القطعة الدائرية} = \frac{1}{4} \text{نـ}^2 [\text{هـ}^2 - \text{ج ا هـ}^2]$$

نحول  $60^\circ$  إلى القياس الدائري

$$\text{هـ}^2 = 60 \times \frac{\pi}{180} \approx 1,0472$$

نوجد ج ا ( $60^\circ$ ) بالآلة الحاسبة

$$\text{ج ا } (60^\circ) \approx 0,866$$


(لاحظ أن ج ا  $0,866 \approx 1,0472$  أيضًا)

$$\text{مساحة القطعة الدائرية} = \frac{1}{4} \text{نـ}^2 [\text{هـ}^2 - \text{ج ا هـ}^2]$$

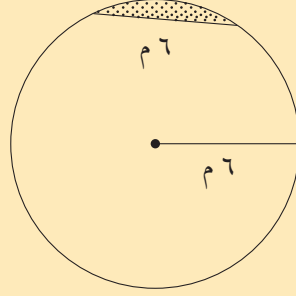
$$\approx \frac{1}{4} \times 100 \times [1,0472 - 0,866]$$

$$\approx 9,06 \text{ سم}^2$$

### حاول أن تحل



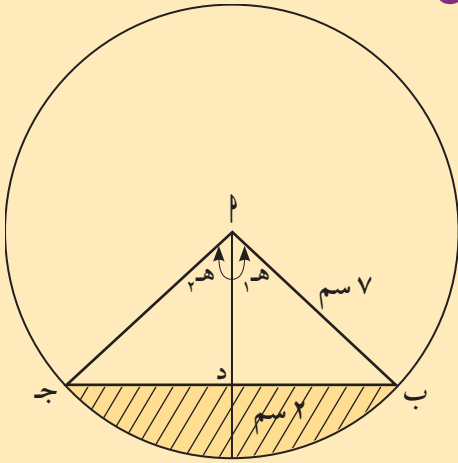
٣ أ حوض زهور دائري طول نصف قطره ٦ م (انظر الشكل المقابل)، وفي هذا الحوض وتر طوله ٦ م. احسب مساحة القطعة الدائرية الصغرى.



ب أوجد مساحة قطعة دائرية طول نصف قطر دائرتها ١٠ سم وقياس زاويتها المركزية  $70^\circ$ .

### مثال (٥)

يبين الشكل المقابل مقطعاً في أنبوب أسطوانى الشكل، ومياهًا متجمعة في القاع. إذا كان أقصى عمق الماء هو ٢ سم وطول نصف قطر الأنبوب ٧ سم، فأوجد مساحة الجزء المظلل بالأصفر.



الحل: اد = ٥ سم

$$هـ = جتا^{-1}\left(\frac{٥}{٧}\right) \approx ٠,٧٧٥ = هـ١$$

$$هـ = هـ١ + هـ٢ \approx ١,٥٥$$

$$\text{مساحة القطاع الأصغر} = \frac{١}{٢} \times هـ١ \times هـ٢$$

$$= \frac{١}{٢} \times ١,٥٥ \times ٢٧ \approx ٣٧,٩٧٥ \text{ سم}^٢$$

$$\text{مساحة المثلث اب ج} = \frac{١}{٢} \times اب \times جد = \frac{١}{٢} \times ١٤ \times ٤٩ \approx ٣٤٣,٧ \text{ سم}^٢$$

$$\text{مساحة الجزء المظلل} = ٣٤٣,٧ - ٣٧,٩٧٥ \approx ٣٠٥,٧٢٥ \text{ سم}^٢$$

## مثال (٦)

الشكل المقابل يوضح مقطعاً لطبق بترى وضع فيه قالب معدني للأجبان له شكل مضلع ثماني وذلك للتحقق من خلوه من البكتيريا. إذا كانت زوايا المضلع متساوية القياس وطول نصف قطر الدائرة ١,٥ سم، فأوجد المساحة بين طبق بترى وقالب الأجبان.



الحل:

نفرض أن  $هـ$  زاوية مركزية تقابل وترًا طول ١ سم،

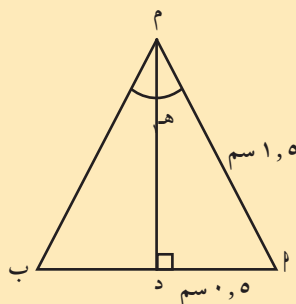
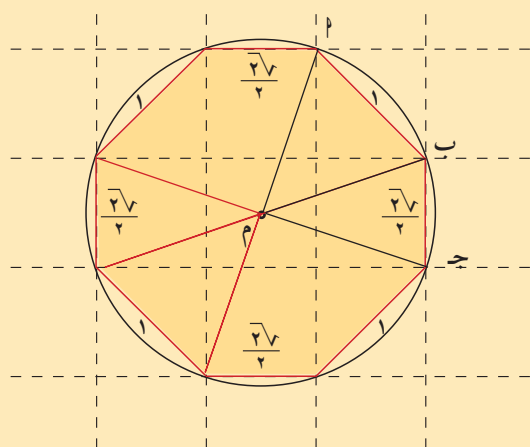
$هـ$  زاوية مركزية تقابل وترًا طوله  $\frac{2\sqrt{3}}{3}$

في  $\Delta م ب د$  المتطابق الضلعين  $م د \perp ا ب$

$$\text{جا } \frac{هـ}{١,٥} = \frac{١}{١,٥}$$

$$\text{ن} = \left(\frac{١}{١,٥}\right) \text{جا}^{-١} = \frac{٠,٥}{١,٥}$$

$$\text{ن} (هـ) = ٢ \times \text{جا}^{-١} \frac{٠,٥}{١,٥} \approx ٠,٦٧٩$$



مساحة القطعة الدائرية المرتبطة بالوتر طوله ١ =  $\frac{1}{4} \text{ن} (هـ) - \text{جا} (٠,٦٧٩) \approx ٠,٠٥٧٥$  سم<sup>٢</sup> (١)

وبالمثل في المثلث ج م ب:

$$\text{ن} (هـ) = ٢ \times \text{جا}^{-١} \frac{2\sqrt{3}}{١,٥ \times ٤} \approx ٠,٤٧٥٩$$

مساحة القطعة الدائرية المرتبطة بالوتر طوله  $\frac{2\sqrt{3}}{3}$  =

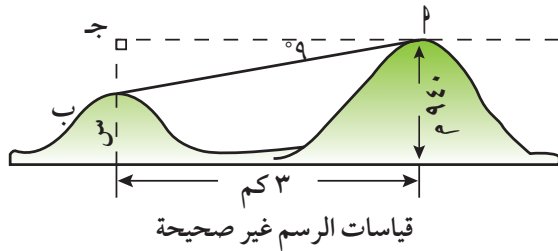
$\frac{1}{4} \text{ن} (هـ) - \text{جا} (٠,٤٧٥٩) \approx ٠,٠١٩١٩$  سم<sup>٢</sup> (٢)

من (١)، (٢) المساحة بين طبق بترى والقالب المعدني

$$\approx ٤ \times (٠,٠١٩٩ + ٠,٠٥٧٥) \approx ٠,٣٠٩٦ \text{ سم}^٢$$

## المرشد لحل المسائل

خلال بحثه على أحد المواقع الإنترنت وجد سلطان المسألة التالية:  
يبعد تلان عن بعضهما ٣ كم. يبلغ ارتفاع القمة «أ» ٩٤٠ مترًا وقياس زاوية الانخفاض من القمة «أ» إلى القمة «ب» ٩°. أوجد ارتفاع القمة «ب».



كيف فكر سلطان لإيجاد ارتفاع القمة ب.

بداية، سوف أرسم مخططاً للمسألة.

البعد بين التلين = ٣ كم.

قياس زاوية الانخفاض = ٩°.

ارتفاع القمة «أ» = ٩٤٠ مترًا.

عليّ إيجاد ارتفاع القمة «ب». ليكون س هذا الارتفاع.

لإيجاد قيمة س، سوف أستخدم النسب المثلثية في المثلث أ ب ج. طول أحد ضلعي القائمة البعد بين القمتين وقياس إحدى زواياه الحادة ٩°. سوف أستخدم ظل هذه الزاوية أو مقلوبه إذا استطعت إيجاد طول أحد أضلاع الزاوية القائمة. إذا تمكنت في الرسم أجد أن:

$$أ ج = ٣ كم = ٣٠٠٠ متر.$$

∴ كانت الزاوية هي زاوية انخفاض، فارتفاع القمة: «ب» سوف يكون أصغر من ارتفاع القمة «أ».

$$\text{ظا } ٩^\circ = \frac{\text{المقابل}}{\text{المجاور}} = \frac{ب ج}{٣٠٠٠}$$

سأكتب معادلة

$$ب ج = ٣٠٠٠ \times \text{ظا } ٩^\circ$$

سأحل المعادلة

$$ب ج = ٤٧٥ \text{ متر تقريباً}$$

سأستخدم آلة حاسبة وأقرب

$$س = ٩٤٠ - ٤٧٥ = ٤٦٥$$

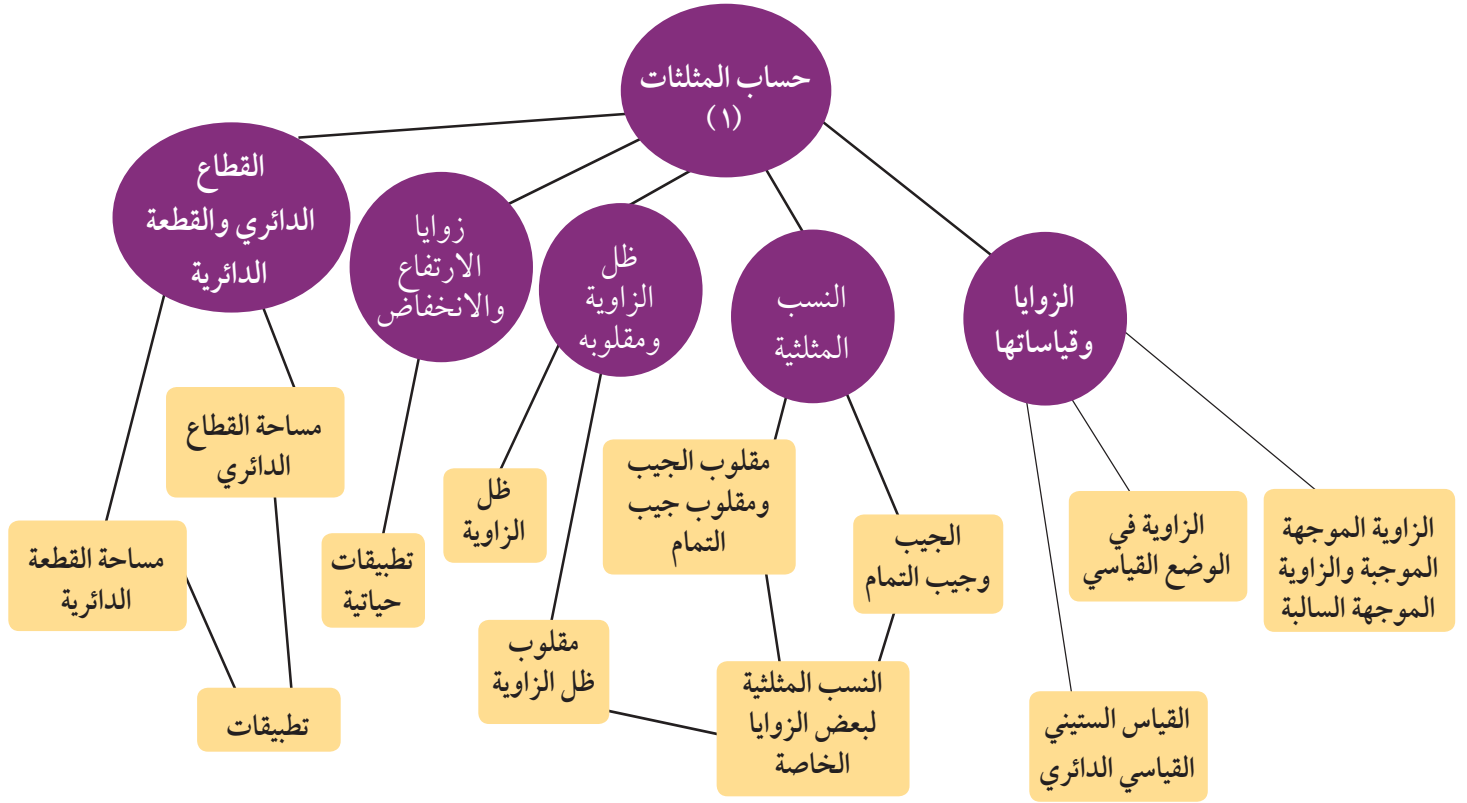
يبقى عليّ طرح هذه القيمة من ارتفاع القمة «أ»

لذا يكون ارتفاع القمة (ب) ٤٦٥ مترًا.

### مسألة إضافية

في صف الطيران المظلي، وقف الطلاب على تل ارتفاعه ٤٧٠ مترًا يراقبون رفيقاً لهم يهبط بالمظلة. عندما وصل إلى الأرض كانت زاوية الانخفاض ٧٢°. ما بعد هذا المظلي عن قاعدة التل؟

## مخطط تنظيمي للوحدة الثانية



### ملخص

- تكون الزاوية الموجبة موجبة إذا كان الاتجاه من الضلع الابتدائي إلى الضلع النهائي عكس دوران عقارب الساعة.
- تكون الزاوية الموجبة سالبة إذا كان الاتجاه من الضلع الابتدائي إلى الضلع النهائي مع دوران عقارب الساعة.
- تكون الزاوية الموجبة في الوضع القياسي إذا كان ضلعها الابتدائي على الجزء الموجب من محور السينات ورأسها في نقطة الأصل لمحاور الإحداثيات.
- تقاس الزاوية بالدرجات أو بالراديان.
- الزاوية نصف القطرية هي زاوية مركزية في دائرة تحصر قوساً طوله يساوي طول نصف قطر هذه الدائرة وقياسها يساوي ١ راديان.
- العلاقة:  $\frac{\text{هـ}}{\pi} = \frac{\text{س}}{180}$  تربط بين القياس الستيني والقياس الدائري لزاوية.
- في المثلث قائم الزاوية جيب الزاوية هو نسبة الضلع المقابل إلى الوتر ويرمز إليه بـ جا أو sin.
- جيب التمام للزاوية هو نسبة الضلع المجاور إلى الوتر ويرمز إليه بـ جتا أو cos.
- قاطع الزاوية هو مقلوب جيب تمام الزاوية  $\frac{1}{\text{جتا}} = \text{حيت جتا} \neq 0$ .
- قاطع تمام الزاوية هو مقلوب جيب الزاوية  $\frac{1}{\text{جتا}} = \text{حيت جتا} \neq 0$ .
- ظل الزاوية هو نسبة الضلع المقابل إلى الضلع المجاور ويرمز إليه ظا أو tan.
- ظل تمام الزاوية هو نسبة طول الضلع المجاور إلى طول الضلع المقابل ويرمز إليه ظتا أو cotan.

$$\text{جا } 45^\circ = \text{جتا } 45^\circ = \frac{\sqrt{2}}{2} ; \text{ ظا } 45^\circ = 1$$

$$\text{جا } 30^\circ = \frac{1}{2} \quad \text{جتا } 30^\circ = \frac{\sqrt{3}}{2} \quad \text{ظا } 30^\circ = \frac{\sqrt{3}}{3}$$

$$\text{جا } 60^\circ = \frac{\sqrt{3}}{2} \quad \text{جتا } 60^\circ = \frac{1}{2} \quad \text{ظا } 60^\circ = \sqrt{3}$$

- زاوية الارتفاع: إذا كانت نقطة ما أعلى من مستوى النظر الأفقي.

- زاوية الانخفاض: إذا كانت نقطة ما أدنى من مستوى النظر الأفقي.

- القطاع الدائري هو جزء من الدائرة محدود بنصفي قطرين وقوس على الدائرة.

- مساحة القطاع الدائري تساوي  $\frac{1}{3}$  هـ<sup>٢</sup> ن هـ<sup>٢</sup> حيث هـ<sup>٢</sup> قياس الزاوية المركزية للقطاع الدائري بالراديان، ن هـ هو نصف قطر الدائرة.

- القطعة الدائرية هي جزء من الدائرة محدودة بوتر وقوس على الدائرة.

- مساحة القطعة الدائرية تساوي  $\frac{1}{3}$  ن هـ<sup>٢</sup> (هـ<sup>٢</sup> - ج هـ<sup>٢</sup>).

## الهندسة المستوية Plane Geometry

### أضف إلى معلوماتك

خلال السنوات العشرين الأخيرة، تزايدت كثيراً أهمية هندسة الكسريات fractal geometry كطريقة لوصف بعض ظواهر الحياة اليومية. استخدمت بعض الكسريات لوصف التكوينات الطبيعية مثل سلاسل الجبال والغيوم. في العام ١٩٠٤، وضع السويدي فون كوش منحني استخدم لنمذجة السواحل.

المرحلة ٠



المرحلة ١




المرحلة ٢



المرحلة ٣



المرحلة ٤



### مشروع الوحدة: هندسة الكسريات CTALS

١ مقدمة المشروع: كثير من الأشكال تحتوي على أنماط تتكرر بمقاييس مختلفة مثل زهرة القرنبيط، حيث تهتم هندسة الكسريات بهذه الأشكال. ويعتبر عالم الرياضيات فون كوش (Von Kosh) من أهم الباحثين في هذا المجال.

٢ الهدف: دراسة الأشكال ذاتية التماثل التي تتغير.

٣ اللوازم: أوراق رسم بياني؛ حاسبة علمية أو حاسوب.

٤ أسئلة حول التطبيق:

أ) ابحث عن الخصائص الثلاث المهمة للكسريات.

ب) ابحث عن العالم الرياضي فون كوش واعرض لبعض أعماله في مجال الكسريات وخاصة «رقعة كوش» Koch snowflake

ج) طول القطعة المقابلة وحدة واحدة وتشكل المرحلة صفر من «منحنى كوش».

نفذ المراحل من ١ إلى ٤. في كل مرحلة، قسّم القطعة إلى ٣ قطع متطابقة واستبدل قطعة الوسط بقطعتين لهما القياس نفسه.

د) ارسم مثلثاً متطابق الأضلاع. عيّن نقطة المنتصف لكل ضلع. صل بين النقاط الثلاث. كرّر ذلك عدة مرات.

هـ) التقرير: ضع تقريراً تبيّن فيه كيف نفذت المشروع وتجب عن الأسئلة.

### دروس الوحدة

| طرائق البرهان الهندسي | التشابه | تشابه المثلثات | التشابه في المثلثات قائمة الزاوية | التناسبات والمثلثات المتشابهة | العلاقة بين محيطي شكلين متشابهين ومساحتهما |
|-----------------------|---------|----------------|-----------------------------------|-------------------------------|--|
| ١-٣                   | ٢-٣     | ٣-٣            | ٤-٣                               | ٥-٣                           | ٦-٣  |

## أين أنت الآن (المعارف السابقة المكتسبة)

- تعلمت نظرية فيثاغورث وتطبيقاتها في المثلثات قائمة الزاوية.
- تعرفت على منصف الزاوية والمنصف العمودي للقطعة المستقيمة والقطعة المتوسطة في المثلث والعمود المرسوم من الرأس إلى الضلع المقابل في المثلث.
- تعلمت الحلول للمعادلات من الدرجة الأولى في متغيرين.
- تعلمت الحلول للمعادلات من الدرجة الثانية في متغير.
- تعرفت حلول المتباينات.
- تعرفت النسبة والتناسب.

## ماذا سوف تتعلم؟

- طرائق البرهان الهندسي: المنطق الاستقرائي - المنطق الاستنتاجي.
- التشابه: مفهوم التشابه بين الأشكال الهندسية المستوية وإيجاد مقاييس رسم معين باستخدام التشابه وإيجاد النسبة الذهبية.
- حالات تشابه المثلثات والتطبيق في مواقف حياتية.
- تطبيق التشابه على المثلث قائم الزاوية والخصائص الناتجة من العمود المرسوم من رأس القائمة إلى الوتر المقابل.
- نظرية طاليس.
- خصائص منصف الزاوية الداخلي في المثلث.
- إدراك العلاقة بين محيطي شكلين متشابهين ومساحتهما.

## المصطلحات الأساسية

- نمط - قانون الاستطلاع - التشابه - مستطيل ذهبي - نظرية طاليس - عمود في المثلث - مساحة - المنطق الاستقرائي - قانون التعليل الاستدلالي - مقياس رسم - نسبة ذهبية - منصف زاوية - محيط.



## طرائق البرهان الهندسي Geometry Proof Methods

### سوف تتعلم

- إيجاد نمط
- استخدام التبرير الاستقرائي للتوقع
- قانون الاستطلاع
- قانون التعليل الاستدلالي

### Inductive Reasoning

### أولاً - التبرير الاستقرائي

#### دعنا نفكر ونتناقش

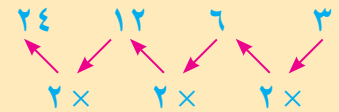
الأنماط هي إحدى الظواهر الملفتة في الطبيعة: الفصول الأربعة، الليل والنهار، أوراق الشجر... إن التبرير الاستقرائي هو استخلاص معلومات يرتكز على الأنماط التي نلاحظها. إذا لاحظت نمطاً في متسلسلة، فيمكنك استخدام التبرير الاستقرائي لمعرفة الحدود التي تلي هذه المتسلسلة.

#### مثال (١)

أوجد نمطاً. استخدم هذا النمط لإيجاد الحدود الثلاثة التالية:

أ ٣، ٦، ١٢، ٢٤، ...

الحل:



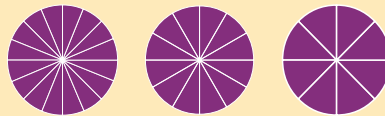
كل حد من هذا النمط يساوي الحد الذي يسبقه مضروباً بالعدد ٢. لذا نستنتج الحدود الثلاثة التالية:

$$١٩٢ = ٢ \times ٩٦، ٩٦ = ٢ \times ٤٨، ٤٨ = ٢ \times ٢٤$$



الحل:

كل دائرة رسم فيها قطر واحد إضافي عن الدائرة التي سبقتها، ويقسمها إلى قطاعات دائرية متساوية المساحة لذا تكون الحدود الثلاثة التالية:



#### هل تعلم؟

الوتر في الدائرة هو قطعة مستقيمة تربط بين نقطتين على الدائرة.

#### حاول أن تحل

١ اكتب الحدود الثلاثة التي تأتي في كل نمط.

أ ١، ٢، ٤، ٧، ١١، ١٦، ٢٢، ...

ب الجمعة، السبت، الأحد، ...



## مثال (٢)

أوجد ناتج جمع أول ٣٠ عددًا فرديًا.

الحل: ابدأ أولاً بإيجاد ناتج جمع بعض أوائل الأعداد الفردية:

$$\begin{array}{l} 1 = 1 = 1 \\ 2 = 4 = 3 + 1 \\ 3 = 9 = 5 + 3 + 1 \\ 4 = 16 = 7 + 5 + 3 + 1 \end{array}$$

المربعات الكاملة تشكل نمطًا

وباستخدام التبرير الاستقرائي، يمكن استنتاج ناتج جمع أول ٣٠ عددًا فرديًا على أنه ٣٠ أو ٩٠٠.

## حاول أن تحل

أوجد الناتج:

$$\begin{array}{l} \text{أ} \quad 1 + 2 + 1 \\ \text{ب} \quad 1 + 2 + 3 + 2 + 1 \\ \text{ج} \quad 1 + 2 + 3 + 4 + 3 + 2 + 1 \\ \text{د} \quad 1 + 2 + 3 + 4 + 5 + 4 + 3 + 2 + 1 \\ \text{هـ} \quad 1 + 2 + 3 + \dots + 99 + 100 + 99 \dots + 3 + 2 + 1 \end{array}$$

في بعض الأحيان، لا يكون التخمين دائمًا صحيحًا. يمكن إثبات أن تخمينًا ما خطأ باستخدام مثال مضاد.

يكون المثال المضاد لتخمين معين طريقة لإثبات أن هذا التخمين هو خطأ. يكفي إيجاد مثال مضاد واحد لإثبات أن تخمينًا ما خطأ. فالقول أن الأعداد الأولية هي أعداد فردية صحيح لعدد لا متناهٍ من الأعداد. العدد ٢ هو أولي وزوجي (ليس عددًا فرديًا) وهذا كافٍ لإثبات خطأ التخمين.

## مثال (٣)

أوجد مثالًا مضادًا لكل تخمين.

أ) مربع أي عدد هو أكبر من العدد الأساسي.

الحل: العدد  $\frac{1}{4}$  هو مثال مضاد لما ورد حيث إن  $\left(\frac{1}{4}\right)^2 = \frac{1}{16} < \frac{1}{4}$

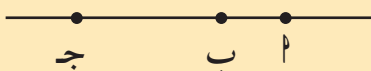
لذا يكون التخمين غير صحيح.

ب) يمكن ربط ثلاث نقاط ببعضها فنحصل على مثلث.

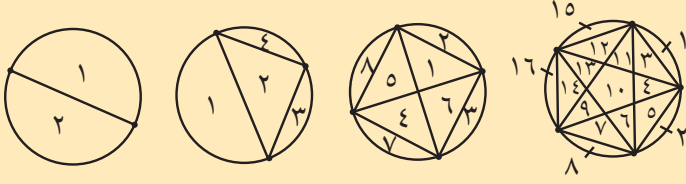
الحل: ثلاث نقاط على خط مستقيم ترتبط مع بعضها ولكنها لا تشكل مثلثًا.

### معلومة رياضية:

لكل عدد طبيعي  $n < 1$   
إذا كان  $0 < s > 1$  فإن  $s^n > s$   
إذا كان  $s = 1$  فإن  $s^n = s$   
إذا كان  $s < 1$  فإن  $s^n < s$



جـ عندما تصل نقاطاً على دائرة ببعضها بكل القطع الممكنة تشكل مناطق غير متداخلة داخل الدائرة كما هو مبين.



| عدد المناطق | عدد النقط |
|-------------|-----------|
| ٢           | ٢         |
| ٤           | ٣         |
| ٨           | ٤         |
| ١٦          | ٥         |

يبين الجدول المقابل عدد النقط وعدد المناطق.

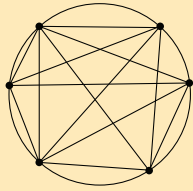
ارتكازاً على قيم هذا الجدول قد تضع التخمين التالي:

«عدد مناطق كل مرحلة هو مثلاً عدد مناطق المرحلة السابقة».

الحل:

في المخطط المقابل ٦ نقاط على دائرة. يبين هذا المخطط أن عدد المناطق ٣١

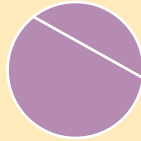
وليس ٣٢. ولذا التخمين غير صحيح.



٣ أوتار متقاطعة  
ما عدد القطاعات  
الدائرية؟



وتران متقاطعان  
٤ قطاعات  
(صح)



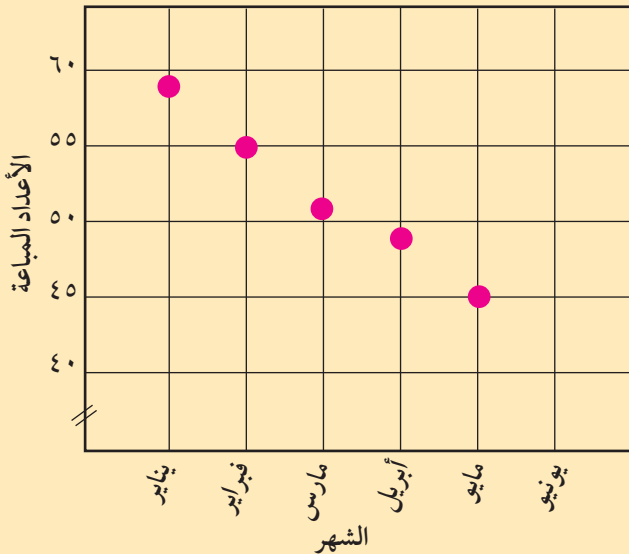
وتر واحد  
قطاعات  
(صح)

حاول أن تحل

٣ وضع سامي التخمين التالي:

إذا قطعت دائرة بعدد من الأوتار المتقاطعة داخلها، فإن عدد القطاعات الدائرية يساوي مثلي عدد الأوتار. ارسم عدداً من الأوتار المتقاطعة داخل الدائرة لتثبت خطأ هذا التخمين.

لوحات التزلج المباعة



مثال (٤) استخدام التبرير الاستقرائي لتوقع المبيعات

لاحظ صاحب محل لبيع لوحات التزلج أن خلال خمسة أشهر متتالية كان مبيع لوحات التزلج تناقصياً. يبين التمثيل البياني هذا التناقص خلال الأشهر الخمسة. استخدم التبرير الاستقرائي لتضع تخميناً عن عدد لوحات التزلج التي يمكن بيعها في شهر يونيو.

الحل:

يبين التمثيل البياني أن مبيع لوحات التزلج يتناقص بمعدل ٣ لوحات تقريباً شهرياً، وباستخدام التبرير الاستقرائي يمكن تخمين أن المحل سوف يبيع في شهر يونيو ٤٢ لوحة تزلج تقريباً.

## حاول أن تحل

٤ ضع تخمينًا عما يلي:

أ عدد لوحات التزلج التي يمكن بيعها في يوليو.

ب تفكير نقدي: هل يمكن أن يساعدك التمثيل البياني بشكل موثوق على توقع عدد لوحات التزلج التي يمكن بيعها في شهر ديسمبر؟

## Deductive Reasoning

### ثانياً: التبرير الاستنتاجي

#### دعنا نفكر ونتناقش

تعلمت التبرير الاستقرائي المرتكز على ملاحظة ما حدث ووضع تخمين حول ما سيحدث. سوف تتعلم الآن التبرير الاستنتاجي. التبرير الاستنتاجي (أو المنطق الاستنتاجي) هو عملية تبرير منطقي لمعطيات معينة للوصول إلى استنتاج. إذا كان المعطى صحيحاً فما ينتج عن التبرير الاستنتاجي هو استنتاج صحيح. عندما تنوي القيام بأي عمل وتريد الوصول إلى نتائج مضمونة، فإنك بحاجة إلى معطيات واضحة ومحددة. فالطبيب يشخص حالة المريض مستنداً إلى فحوصات مخبرية والنجار يستخدم التبرير الاستنتاجي ليحدد نوعية الأدوات التي سوف يحتاج إليها في عمل معين...

#### مثال (٥)

يعرف العامل الفني في تصليح السيارات أن بطارية السيارة إن كانت ميتة (لا تعطي كهرباء)، فإن السيارة لن يدور محركها. بدأ الفني عمله بالكشف على بطارية السيارة ووجدها ميتة. ما الاستنتاج الذي يضعه؟  
الحل:

يستطيع العامل الفني استنتاج أن السيارة لن تسير لأن المحرك لن تصله الكهرباء.

## حاول أن تحل

٥ على افتراض أن العامل الفني بدأ الكشف على السيارة ووجد أن السيارة لن تتحرك. هل يستنتج أن بطارية السيارة غير صالحة للعمل؟ اشرح إجابتك.

في المثال (٤) استخدم العامل الفني التبرير الاستنتاجي والذي يسمى «قانون الفرز».

### Law Of Detachment

#### خاصية «قانون الفرز»

إذا كان الشرط صحيحاً ومعطياته أيضاً صحيحة، فتكون نتيجته صحيحة.  
أي أن: إذا ب ← د هي عبارة صحيحة مع ب صحيحة، فإن د تكون صحيحة.

### مثال (٦)



مع المعطيات الصحيحة التالية، ماذا يمكنك أن تستنتج؟  
المعطيات: إذا كانت م منتصف قطعة مستقيمة لذا فإنها تقسم هذه القطعة  
المستقيمة إلى قطعتين متطابقتين. م منتصف القطعة المستقيمة أ ب.

الحل:

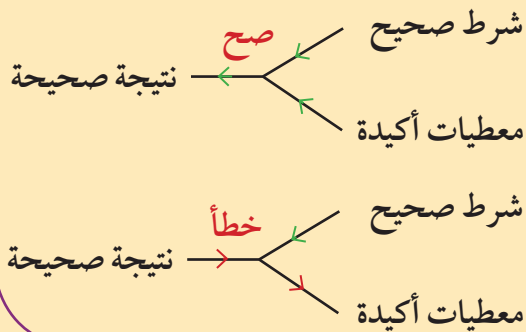
لقد قدمت شرطاً ومعطيات صحيحة وبالتالي من قانون الفرز يمكن استنتاج أن م تقسم أ ب إلى قطعتين متطابقتين ونكتب:  
 $\overline{AM} \cong \overline{MB}$ .

### حاول أن تحل

٦ منصور هو لاعب ارتكاز في فريق كرة السلة. يجب أن لا يخوض لاعب الارتكاز مباراتين كاملتين في يومين متتاليين.  
لعب منصور طيلة وقت مباراة يوم الاثنين. ماذا يمكنك أن تستنتج؟

### مثال (٧)

#### قانون الفرز



هل المعطيات التالية توضح قانون الفرز؟

المعطيات: إذا تساقط الثلوج تكون الحرارة أقل من أو تساوي صفر درجة مئوية.  
إذا كانت درجة الحرارة الآن -٧° مئوية.

هل أستنتج أن الثلوج تساقط الآن؟

الحل:

لقد عرضت معطيات تتضمن شرطاً صحيحاً ونتيجة صحيحة.

ولكن لا يمكن تطبيق قانون الاستطلاع واستنتاج أن المعطيات صحيحة.

لا تستطيع الوصول إلى أي نتيجة حول تساقط الثلوج من المعطيات.

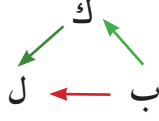
### حاول أن تحل

٧ إذا أمكن، استخدم قانون الفرز لتصل إلى نتيجة، إذا كان من غير الممكن استخدام القانون، اشرح لماذا؟

معطيات: إذا كانت الطريق مغطاة بالجليد فإن قيادة السيارة تشكل خطراً.

هل صحيح أن قيادة السيارة تشكل خطراً؟

يوجد قانون آخر من التبرير الاستنتاجي هو قانون «القياس المنطقي». يسمح لك هذا القانون بوضع نتيجة من بيانين شرطين صحيحين عندما تكون نتيجة البيان الأول هي معطى البيان الثاني.



## Law Of Sillogism

## خاصية «القياس المنطقي»

إذا ب ← ك، ك ← ل هي بيانات صحيحة إذا ب ← ل هي بيانات صحيحة.

### مثال (٨) الجبر

استخدم قانون «القياس المنطقي» لتحصل على نتيجة من المعطيات التالية:

إذا كان عدد ما أولياً، إذا فليس له عوامل متكررة. إذا لم يكن لعدد ما عوامل متكررة، إذا فهو ليس مربعاً كاملاً.

الحل:

لدينا شرطان صحيحان حيث إن نتيجة الأول هي معطيات للآخر أي يمكن كتابة ما يلي باستخدام قانون «القياس المنطقي».

إذا كان عدد ما أولياً، إذا فهو ليس مربعاً كاملاً.

### حاول أن تحل

- ٨ إذا أمكن أو وجد نتيجة مستخدماً قانون «القياس المنطقي»، وإذا لم يكن بالإمكان استخدام هذا القانون، اشرح لماذا؟
- أ إذا كان رقم أحاد عدد صفراً إذا يمكن قسمته على ١٠. ب إذا كان رقم أحاد عدد ٦، إذا يمكن قسمته على ٢.
- إذا كان عدد يقسم على ١٠، إذا يمكن قسمته على ٥. إذا كان عدد رقم أحاده ٤، إذا يمكن قسمته على ٢.

يمكن استخدام قانون الفرز وقانون التبرير الاستنتاجي معاً للحصول على نتائج.

### مثال (٩)

استخدم قانون الاستطلاع وقانون المنطق الاستدلالي للحصول على نتائج من المعطيات الصحيحة التالية:

إذا كان طول أحد الأنهر أكبر من ٦٣٤٠ كم، إذا يكون أطول من نهر الأمازون.

إذا كان طول أحد الأنهر أكبر من طول نهر الأمازون، إذا هو أطول نهر في العالم.

طول نهر النيل ٦٦٤٨ كم.

الحل: يمكن استخدام البيانين الأول والثاني وقانون «التبرير الاستنتاجي» لاستنتاج ما يلي:

إذا كان طول أحد الأنهر أكبر من ٦٣٤٠ كم، إذا هو أطول نهر في العالم.

ولما كان طول نهر النيل ٦٦٤٨ كم وباستخدام «قانون الفرز» يمكن الاستنتاج أن نهر النيل هو أطول نهر في العالم.

### حاول أن تحل

- ٩ استخدم قانون الفرز وقانون التبرير الاستنتاجي للحصول على نتائج من المعطيات التالية:
- «فولكا» هو نهر في أوروبا. إذا كان طول نهر ما أقل من ٣٧٠٠ كم، إذا فهو ليس واحداً من أطول عشرة أنهر في العالم.
- إذا كان نهرًا ما في أوروبا، إذا فإن طوله أقل من ٣٧٠٠ كم.

## المضلع المتشابه

### Similar Polygons

#### سوف تتعلم

- تحديد مفهوم التشابه بين الأشكال الهندسية المستوية
- تشابه مثلثين
- مقياس رسم معين

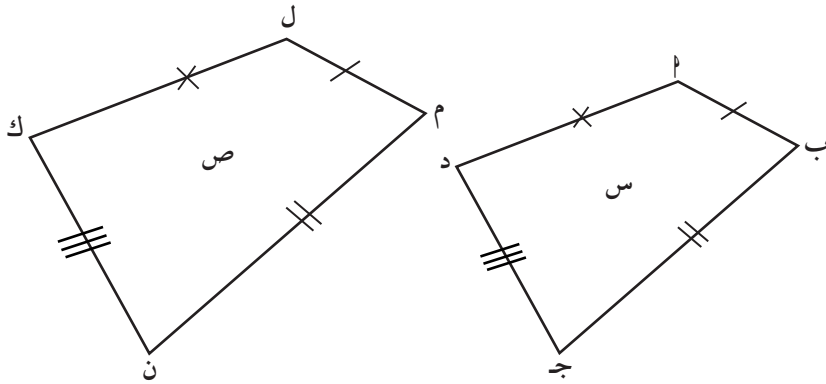
#### دعنا نفكر ونتناقش

درسنا في ما سبق مفهوم تطابق المثلثات. بالنسبة إلى المضلعات، يكون المضلعان متطابقين إذا كانت:

- أطوال أضلاعهما المتناظرة متساوية.
- قياسات زواياهما المتناظرة متساوية.

في الشكل المرسوم:

المضلعان أ ب ج د، ل م ن ك متطابقان.



#### Similarity

#### ١ - التشابه

يقال لشكلين هندسيين إنهما متشابهان إذا كان لهما الشكل العام نفسه وكان أحدهما تكبيراً أو تصغيراً للآخر أو مطابقاً له.

**فكر معي:** في ما يلي أجب بنعم أو لا. وإذا كانت الإجابة (لا) أعط مثلاً مضاداً.



هل:

- كل مربعين متشابهان؟
- كل مثلثين متطابقين الأضلاع متشابهان؟
- كل مثلثين متطابقين الضلعين متشابهان؟
- كل دائرتين متشابهتان؟
- كل المثلثات قائمة الزاوية متشابهة؟

#### تعميم (١)

يقال لمضلعين (لهما العدد نفسه من الأضلاع) إنهما متشابهان إذا تحقق الشرطان التاليان معاً:

- قياسات زواياهما المتناظرة متساوية.
- أطوال أضلاعهما المتناظرة متناسبة.

والعكس صحيح.

وتسمى النسبة بين طولي أي ضلعين متناظرين **نسبة التشابه**.

## تدريب (١)

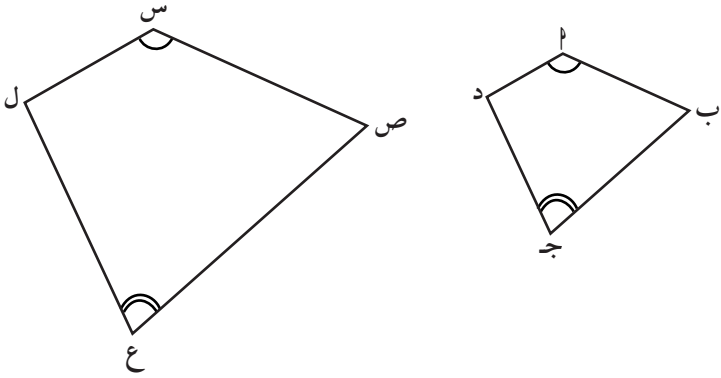
أكمل:

إذا كان المضلعان  $\triangle ABC$ ،  $\triangle DEF$  متشابهين فإن:

١  $\angle A = \angle D$ ،  $\angle B = \angle E$ ، ...

$\angle C = \angle F$ ، ...

٢  $\frac{AB}{DE} = \frac{BC}{EF} = \frac{CA}{FD}$ ، ...



## تدريب (٢)

أجب عن الأسئلة التالية (أعط مثلاً مضاداً إذا كانت الإجابة لا):

٣ هل جميع المضلعات المنتظمة والتي لها العدد نفسه من الأضلاع متشابهة؟

٤ إذا نظرت إلى صورتك (الفوتوغرافية) هل النسبة بين طول ذراعك إلى طول جسمك في الصورة تساوي النسبة بينهما في الحقيقة؟

٥ هل النسبة بين طولي أي ضلعين متجاورين في مستطيل تساوي النسبة بين طولي ضلعين متجاورين في مستطيل آخر؟

## تعميم (٢)

المضلعان المتطابقان يكونان متشابهين.

تذكر:

الرمز  $\cong$  يعني تطابق



فمثلاً:

إذا كان المضلع  $أب ج د \cong$  المضلع  $م ن ك ل$  فإن:

$$١ \quad \angle(أ) = \angle(م),$$

$$\angle(ب) = \angle(ن), \dots\dots$$

$$٢ \quad \frac{أب}{م ن} = \frac{ب ج}{ن ك} = \frac{ج د}{ك ل} = \frac{د ل}{ل م} = ١$$

إذا المضلع  $أب ج د \sim$  المضلع  $م ن ك ل$

ومنه إذا كان:


$$\Delta أ ب ج \cong \Delta م ن ك$$

فإن المثلثين  $أ ب ج$ ،  $م ن ك$  يكونان متشابهين.

إذا كان المضلع  $أ$  يشابه المضلع  $ب$  وكان المضلع  $ب$  يشابه المضلع  $ج$ ، فإن المضلع  $أ$  يشابه المضلع  $ج$ .

إذا كان:  $أ \sim ب$ ،  $ب \sim ج$

فإن  $أ \sim ج$



**ملاحظة مهمة:** إن نسبة التشابه تقارن بين قياسين بالوحدات نفسها، فمثلاً أطوال أضلاع المثلثين في المثال (١) هي بالسنتيمتر.

### مثال (١)

في الشكل المقابل: إذا كان  $أب$  جد  $د$   $\sim$   $س$   $ص$   $ع$   $ل$ ، أوجد قيمة  $ن$ .  
الحل:

المضلع  $أب$  جد  $د$   $\sim$   $س$   $ص$   $ع$   $ل$ .

$$\text{إذاً: } \frac{أب}{س} = \frac{بج}{ع} = \frac{دج}{ل} = \frac{أد}{ل}$$

$$\text{ومنه: } \frac{أب}{س} = \frac{٦}{٥} = \frac{دج}{ل} = \frac{٥}{٢}$$

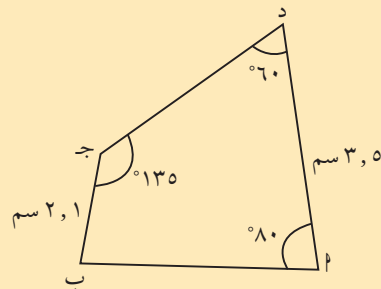
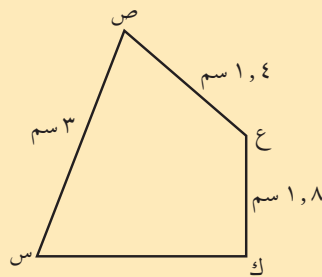
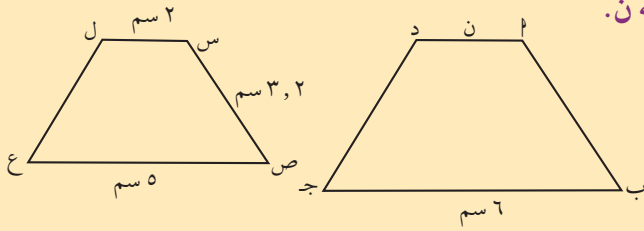
$$\frac{٦}{٥} = \frac{ن}{٢}$$

$$ن = ٢,٤ \text{ سم}$$

### حاول أن تحل

١ في الشكل المقابل، المضلعان  $أب$  جد،  
 $س$   $ص$   $ع$   $ل$  متشابهان.

أوجد قياسات الزوايا المجهولة وأطوال الأضلاع المجهولة في كلا الضلعين.



يستخدم التناسب في تطبيقات حياتية، ومن أهمها مقياس الرسم الذي يستخدم في عمل الخرائط والرسوم الهندسية بمقاييس مصغرة للأشكال الحقيقية، وذلك بنسبة ثابتة بين الأبعاد في الشكل والأبعاد في الحقيقة.

$$\text{مقياس الرسم} = \frac{\text{الطول في الرسم}}{\text{الطول الحقيقي}}$$

وإذا كانت نسبة التشابه تقارن بين أبعاد لها الوحدة نفسها، فإن مقياس الرسم يمكن أن يكون بوحدات مختلفة، فمثلاً يمكن أن يكون ١ سم لكل ١٠٠ م أو ١ سم لكل كيلومتر وهكذا دواليك.

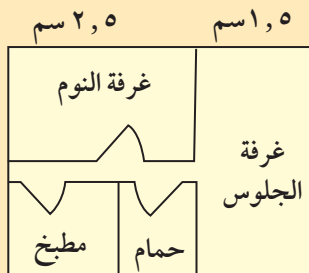
### مثال (٢)

ما الأبعاد الحقيقية لغرفة النوم المبينة في الرسم الهندسي لإحدى الشقق السكنية؟  
الحل:

استخدم المسطرة لقياس الأبعاد في الشكل المرسوم، ويفرض أن:

طول غرفة النوم في الرسم = ٢,٥ سم، عرض الغرفة في الرسم = ١,٥ سم.

$$\text{لإيجاد الطول الحقيقي لغرفة النوم: } \frac{\text{الطول في الرسم}}{\text{الطول الحقيقي}} = \frac{١}{٢٠٠}$$



مقياس الرسم ١ سم : ٢ م

باستخدام الضرب التقاطعي  
طول غرفة النوم ٥ م.

$$\frac{1}{200} = \frac{2,5}{س}$$

$$س = 200 \times 2,5 = 500 \text{ سم} = 5 \text{ م}$$

ولإيجاد عرض الغرفة الحقيقي:

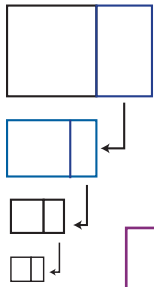
$$\frac{1}{200} = \frac{1,5}{ص}$$

$$ص = 200 \times 1,5 = 300 \text{ سم} = 3 \text{ م}$$

عرض الغرفة ٣ أمتار.

حاول أن تحل

٢ احسب أبعاد كل من غرفة الجلوس والشقة كلها بحسب القياسات المبينة في الشكل السابق.



معلومة رياضية:

النسبة الذهبية:  
 $\frac{1 + \sqrt{5}}{2}$  إلى ١.

### المستطيل الذهبي

هو مستطيل يمكن قسمته إلى مربع ومستطيل مشابه للمستطيل الأول. يبين الشكل المقابل نمطاً من المستطيلات الذهبية. ينسخ كل مستطيل ذهبي ويقسم من جديد. كل مستطيل ذهبي هو مشابه للمستطيل الأول. في كل مستطيل ذهبي، نسبة طول الضلع الكبير إلى طول الضلع الصغير هي النسبة الذهبية وتساوي حوالي ١,٦١٨، إلى ١.

مثال (٣)

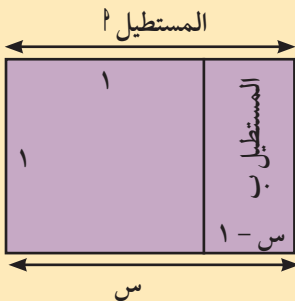
استخدم المستطيل الذهبي المقابل والتناسب لإيجاد النسبة الذهبية.

الحل:

المستطيل ٢ ~ ب.

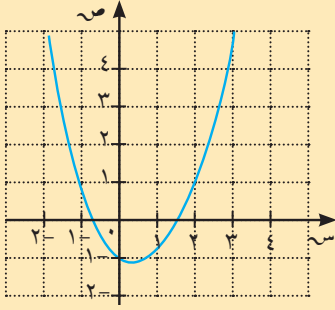
$$\frac{\text{طول الضلع الكبير في المستطيل ٢}}{\text{طول الضلع الصغير في المستطيل ٢}} = \frac{\text{طول الضلع الكبير في المستطيل ب}}{\text{طول الضلع الصغير في المستطيل ب}}$$

ليكن س = طول الضلع الكبير في المستطيل ٢،



### هل تعلم:

العدد الذهبي يساوي  
١,٦١٨



س - ١ طول الضلع الكبير في المستطيل ب.

$$\frac{1}{س-١} = \frac{س}{١}$$
$$١ = س - س^٢$$
$$س^٢ - س + ١ = ٠$$

استخدم آلة حاسبة لرسم الدالة  $ص = س^٢ - س - ١$ .

نقرأ  $س \approx ١,٦٢$ . أي أن النسبة الذهبية هي ١,٦٢ إلى ١.

### حاول أن تحل

٣ قطعة نقدية ورقية مستطيلة الشكل أبعادها ٥ سم، ١٠ سم، ٥ سم، ٦ سم. هل نسبة طولها إلى عرضها تساوي النسبة الذهبية؟

استخدم الآلة الحاسبة لمقارنة  $\sqrt[٤]{١ + \sqrt[٤]{١ + \sqrt[٤]{١ + \dots}}}$  بالعدد الذهبي.

التحدي: إذا كان العدد الذهبي  $س$  هو الجذر الموجب للمعادلة التربيعية  $س^٢ = س + ١$

$$\sqrt[٤]{١ + \sqrt[٤]{١ + \sqrt[٤]{١ + \dots}}} = س$$

استخدم الرسامون كثيرًا المستطيل الذهبي في أعمالهم.

### مثال (٤)

يخطط أحد الفنانين لرسم لوحة مستطيلة الشكل طولها ٦٠ سم. كم يجب أن يكون عرض اللوحة ليكون المستطيل ذهبيًا؟  
الحل:

ليكن  $هـ$  عرض اللوحة.

$$\frac{١,٦١٨}{١} = \frac{٦٠}{هـ}$$

$$٦٠ = هـ \cdot ١,٦١٨$$

$$هـ = \frac{٦٠}{١,٦١٨}$$

$$هـ \approx ٣٧$$

يجب أن يكون عرض اللوحة حوالي ٣٧ سم.

### حاول أن تحل

٤ إذا كان عرض أحد المستطيلات الذهبية ٣٧ سم، فكم يجب أن يكون طوله؟

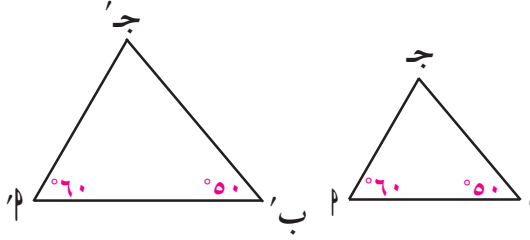
## تشابه المثلثات Similar Triangles

### سوف تتعلم

- حالات تشابه المثلثات

### عمل تعاوني

- ارسم مثلثين مختلفين بحيث يكون في كل منهما زاويتان قياساهما  $50^\circ$ ،  $60^\circ$  (كما في الشكل أدناه).
- أوجد بالقياس أطوال أضلاع كل منهما لأقرب ملليمتر.
- استخدم الآلة الحاسبة لإيجاد النسبة بين طولي كل ضلعين متناظرين.



١ ماذا تستنتج عن هذين المثلثين؟

٢ قارن بين نتائجك ونتائج المجموعات الأخرى.

٣ أكمل العبارة التالية:

إذا تطابقت زاويتان في مثلث مع زاويتين في مثلث آخر (أي يساوي قياس كل منها قياس زاوية مناظرة لها)، كان المثلثان... سبق أن تعلمت عدة طرائق تبين بها تطابق مثلثين. في هذا الدرس سوف تتعلم ثلاث طرائق تبين بها تشابه مثلثين. من العمل التعاوني السابق تم استكشاف النظرية التالية:

### نظرية (١)

يتشابه المثلثان إذا تطابقت زاويتان في أحد المثلثين مع زاويتين في المثلث الآخر.

$\Delta \text{أ ب ج} \sim \Delta \text{أ' ب' ج'}$

### مثال (١)

أثبت أن المثلثين في الشكل المقابل متشابهان. اكتب عبارة التشابه.

الحل:

المثلثان أ ب ج، ه د ج فيهما:

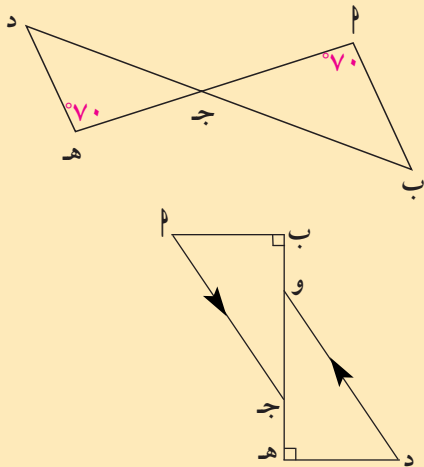
$$\angle \text{أ ج ب} = \angle \text{ه ج د}$$

$$\angle \text{ب ج أ} = \angle \text{د ج ه}$$

$$\Delta \text{أ ب ج} \sim \Delta \text{ه د ج}$$

زاويتان متقابلتان بالرأس

معطى



### حاول أن تحل

١ أثبت تشابه المثلثين أ ب ج، د ه و.

## مثال (٢)

أثبت أن المثلثين  $\triangle ب د$ ،  $\triangle ج د$  متشابهان. اكتب عبارة التشابه.

الحل:

المثلثان  $\triangle ب د$ ،  $\triangle ج د$  متشابهان فيهما:

$$\angle ب د ج = \angle ج د ب = 30^\circ$$

زاوية مشتركة

$$\angle ب د ج = 180^\circ - (\angle ج د ب + \angle ب د ج) = 180^\circ - (30^\circ + 110^\circ) = 40^\circ$$

$$\angle ج د ب = 70^\circ + 40^\circ = 110^\circ$$

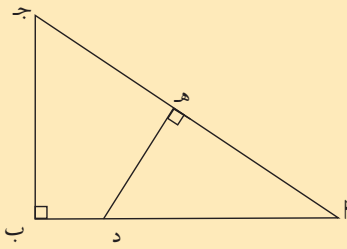
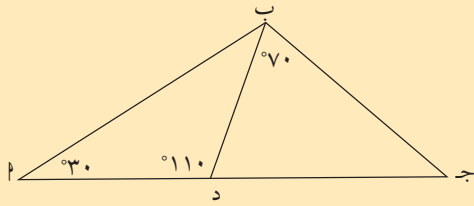
$$\angle ب د ج = \angle ج د ب$$

المثلثان متشابهان (تطابق زاويتين)

$\triangle ب د \sim \triangle ج د$

## حاول أن تحل

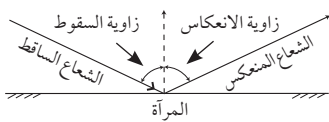
٢ أثبت تشابه المثلثين  $\triangle ب ج$ ،  $\triangle هـ د$ ، واكتب عبارة التشابه.



## Indirect Measurement

### تذكر:

قياس زاوية السقوط = قياس زاوية الانعكاس

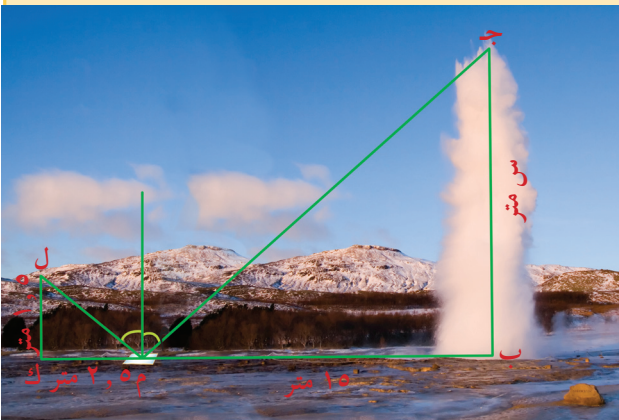


## ١ - القياس غير المباشر

في بعض الحالات، يصعب قياس مسافة أو ارتفاع معين مباشرة. في هذه الحالة، يمكنك استخدام تشابه المثلثات لإيجاد هذا القياس بطريقة غير مباشرة. إحدى الطرائق تستخدم خاصية انعكاس الضوء في المرآة المستوية. فكما تعرف في الفيزياء، إن قياس زاوية السقوط يساوي قياس زاوية الانعكاس.

## مثال (٣)

أراد سعيد أن يعرف ارتفاع المياه. وضع مرآة على مسافة ١٥ م من موقع اندفاع المياه، ثم تحرك إلى الخلف حتى استطاع أن يرى أعلى نقطة بلغتها المياه في وسط المرآة. عند هذه النقطة كان سعيد قد تحرك بعيداً عن المرآة بمسافة ٢٥ م، وكانت عيناه على ارتفاع ١,٥ م فوق الأرض. إذا كانت قدماء والمرآة وموقع اندفاع المياه على استقامة واحدة، فأوجد ارتفاع المياه.



الحل:

المثلثان م ب ج، م ك ل فيهما:

$$\angle(\hat{م}) = \angle(\hat{ك})$$

$$\angle(\hat{ب}) = \angle(\hat{ل}) = 90^\circ$$

المثلثان م ب ج، م ك ل متشابهان (تطابق زاويتين)

تناسب أطوال الأضلاع المتناظرة

$$\frac{م ب}{م ك} = \frac{ب ج}{ك ل}$$

$$\frac{١٥}{٢,٥} = \frac{س}{١,٥}$$

$$١٥ \times ١,٥ = ٢,٥ س$$

$$٩ = \frac{١٥ \times ١,٥}{٢,٥} = س$$

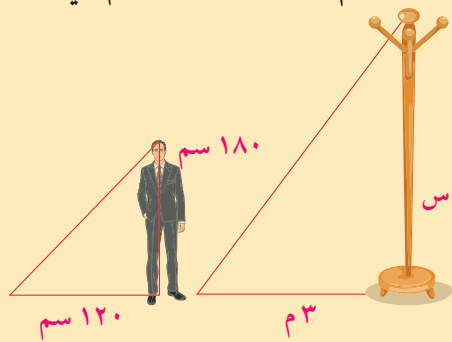
يبلغ ارتفاع المياه ٩ أمتار.

حاول أن تحل

٣ أ لإيجاد ارتفاع برج، وضع سالم مرآة مستوية على الأرض على بعد ١٢ م من قاعدة البرج. وعندما كان سالم على بعد ١,٢ م من المرآة استطاع أن يرى قمة البرج. إذا كان ارتفاع عين سالم عن الأرض ١,٨ م في هذه النقطة، فكم يكون ارتفاع البرج.

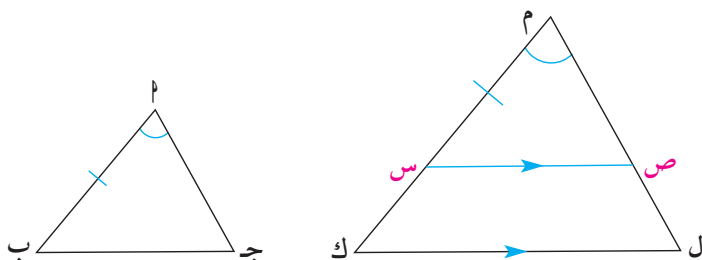
ب عمود طول ظله ٣ م في الوقت نفسه الذي يكون فيه طول ظل محمد ١٢٠ سم.

إذا كان طول ظل محمد ١٨٠ سم، فكم سيكون طول العمود.



نظرية (٢)

يتشابه المثلثان إذا تطابقت زاوية في أحدهما مع زاوية في المثلث الآخر، وتناسب طول الضلعين المحددتين لهاتين الزاويتين.



المعطيات:  $\angle(\hat{م}) = \angle(\hat{ا})$ ,  $\frac{م ب}{م ك} = \frac{ب ج}{ك ل}$ .  
المطلوب: إثبات أن:  $\Delta م ب ج \sim \Delta م ك ل$ .  
العمل: نأخذ س نقطة من م ك حيث م س = ب ج

ونرسم  $\overline{س س} // \overline{ك ل}$ .

**البرهان:** نبدأ بإثبات تطابق المثلثين

$\triangle(م س ص) = \triangle(م ك ل)$  زاويتان متناظرتان،  $\triangle(م ص س) = \triangle(م ل ك)$  زاويتان متناظرتان.

وبالتالي من نظرية (١) نستنتج أن:

$\triangle م س ص \sim \triangle م ك ل$  متشابهان.

$$\therefore \frac{م س}{م ك} = \frac{م ص}{م ل} \quad (١)$$

**تناسب أطوال الأضلاع المتناظرة.**

سنثبت الآن أن المثلثين  $\triangle م س ص$ ،  $\triangle م ك ل$  متطابقان.

**معطى**

$$\frac{م س}{م ك} = \frac{م ص}{م ل} \quad (٢)$$

بما أن  $\triangle م س ص = \triangle م ك ل$  وبمقارنة التناسيب (١)، (٢) نحصل على  $م س = م ل$ .

$\therefore$  المثلثان  $\triangle م س ص$ ،  $\triangle م ك ل$  متطابقان (ض ز ض) إذاً متشابهان.

$\triangle م س ص \sim \triangle م ك ل$ ،  $\triangle م س ص \sim \triangle م ك ل$ .

**القياس المنطقي**

#### مثال (٤)

في الشكل المرسوم، برهن أن:

أ  $\overline{م ج} // \overline{د ه}$ .

الحل:

أ  $\angle(م ج د) = \angle(ه ب د)$  متقابلتان بالرأس،  $\frac{م ج}{ب د} = \frac{م ب}{ب ه} = \frac{١}{٣}$ .

$\therefore$  المثلثان متشابهان ومنه نستنتج أن الزوايا المتناظرة متساوية القياس.

وبالتالي  $\angle(ج د) = \angle(د ه)$  وهما في وضع تبادل. إذاً  $\overline{م ج} // \overline{د ه}$ .

ب لإيجاد طول  $\overline{م ج}$  نكتب التناسب:  $\frac{١}{٣} = \frac{م ج}{د ه}$

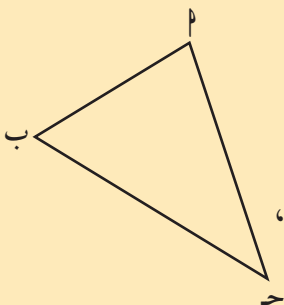
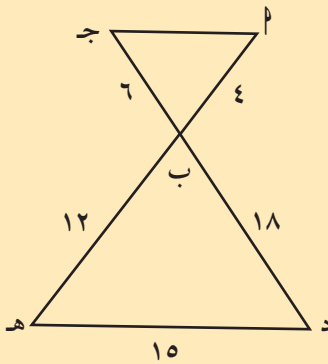
$$\frac{١}{٣} = \frac{م ج}{١٥}$$

$$٥ = \frac{١٥}{٣} = م ج$$

#### حاول أن تحل

٤ ارسم بشكل تقريبي قطعة مستقيمة  $\overline{د ه}$  في المثلث  $\triangle م ب ج$  موازية للقطعة  $\overline{ب ج}$  حيث  $\overline{د ه}$  تنتمي إلى  $\overline{م ب}$ ،

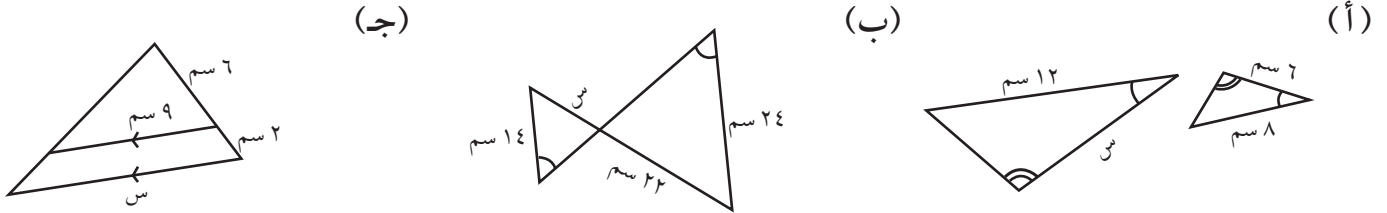
هـ تنتمي إلى  $\overline{م ج}$  على أن تكون نسبة التشابه بين المثلثين  $\triangle م ب ج$ ،  $\triangle م ب ه$  تساوي  $\frac{٢}{٣}$ .



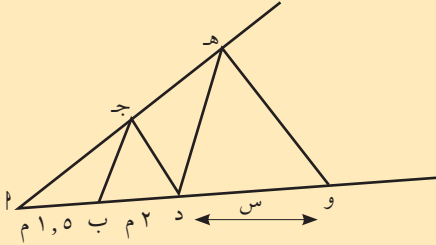


## تدريب (١)

اكتب تشابه المثلثين، ثم أوجد قيمة س في كل مما يلي:



يبيّن الرسم المقابل حلبة منحدره مدعّمة تستخدم في لعبة التزلح (سكيت بورد Skateboard). إذا كان  $\overline{ب ج} \parallel \overline{د ه}$ ،  $\overline{د ج} \parallel \overline{و ه}$ ، أوجد قيمة س.



الحل:

المثلثان  $\triangle ب ج د$ ،  $\triangle د ه و$  فيهما:

$$\angle ب ج د = \angle د ه و \quad (\text{د.أ.هـ})$$

$$\angle د ج ب = \angle و ه د \quad (\text{د.أ.هـ})$$

$$\therefore \triangle ب ج د \sim \triangle د ه و$$

$$\text{ومنه } \frac{ب ج}{د ه} = \frac{ب د}{د و}$$

$$(١) \frac{ب ج}{د ه} = \frac{١,٥}{٢ + ١,٥}$$

نثبت بالطريقة نفسها أن المثلثين  $\triangle د ج ب$ ،  $\triangle و ه د$  متشابهان.

$$\text{ومنه } \frac{ب ج}{د ه} = \frac{د ج}{و ه}$$

$$(٢) \frac{ب ج}{د ه} = \frac{٣,٥}{س + ٣,٥}$$

$$\text{من (١)، (٢) نستنتج: } \frac{٣,٥}{س + ٣,٥} = \frac{١,٥}{٢ + ١,٥}$$

$$١,٥(س + ٣,٥) = (٢ + ١,٥)٣,٥ \quad \text{الضرب التقاطعي}$$

$$٣,٥ - \frac{٣,٥ \times ٣,٥}{١,٥} = س$$

$$س = \frac{١٤}{٣} = ٤,٦$$

حاول أن تحل

٥ في مثال (٥) إذا كان طول  $\overline{ج ه}$  يساوي ٣ م، أوجد طول  $\overline{أ ج}$ .

### نظرية (٣)

يتشابه المثلثان إذا تناسبت أطوال الأضلاع المتناظرة فيهما.

المعطى:

$\Delta$  أ ب ج،  $\Delta$  م ك ل فيهما:

$$\frac{أ ب}{م ك} = \frac{أ ج}{م ل} = \frac{ب ج}{ك ل}$$

المطلوب: إثبات أن  $\Delta$  أ ب ج  $\sim$   $\Delta$  م ك ل.

العمل:

نأخذ س نقطة من  $\overline{م ك}$  حيث  $م س = أ ب$  ونرسم  $\overline{س ص} \parallel \overline{م ك}$ .

$\Delta$  م س ص،  $\Delta$  م ك ل متشابهان. لماذا؟

تناسب الأضلاع المتناظرة

$$(١) \frac{م س}{م ك} = \frac{م ص}{م ل} = \frac{س ص}{ك ل}$$

معطى

$$(٢) \frac{أ ب}{م ك} = \frac{أ ج}{م ل} = \frac{ب ج}{ك ل}$$

$$\text{بما أن } م س = أ ب \text{ إذا } \frac{م س}{م ك} = \frac{أ ب}{م ك}$$

تساوي التناسيب (١)، (٢)

$$\text{ومنه } \frac{م س}{م ك} = \frac{م ص}{م ل} = \frac{س ص}{ك ل} ، \frac{أ ج}{م ل} = \frac{ب ج}{ك ل}$$

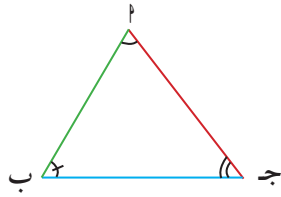
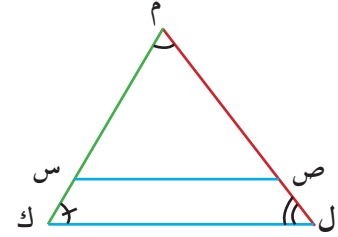
$م ص = أ ج$ ،  $س ص = ب ج$ . لماذا؟

(ض ض ض)

$\Delta$  م س ص،  $\Delta$  أ ب ج متطابقان.

$\Delta$  أ ب ج  $\sim$   $\Delta$  م ك ل.

$$\hat{م} = \hat{م} ، \hat{س} = \hat{ب} ، \hat{ك} = \hat{ل} ، \hat{ص} = \hat{ج} ، \hat{ل} = \hat{ل}$$



### مثال (٦)

في الشكل المرسوم،

أولاً: أثبت أن:

أ  $\Delta م ن ب \sim \Delta ج د ب$

ب  $\overline{ب ج} // \overline{م ن}$

ثانياً: أوجد النسبة بين محيطي المثلثين. ماذا تلاحظ؟

الحل:

$$\text{أولاً: } \frac{م ن}{ب ج} = \frac{٦,٣}{٩} = \frac{٦,٣}{٢,٧ + ٦,٣} = \frac{٦,٣}{٩}$$

$$\text{أوجد: } \frac{م ن}{ب ج} = \dots, \frac{ن ب}{ج د} = \dots \text{ ماذا تلاحظ؟}$$

استخدم نظرية (٣).  $\Delta م ن ب \sim \Delta ج د ب$  وهو المطلوب (أ).

من تشابه المثلثين:  $ن ب = م ن$  و  $ج د = ن ب$  وهما في وضع تناظر.

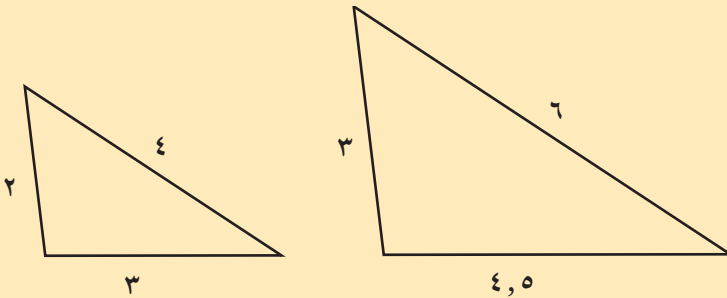
$$\therefore \overline{ب ج} // \overline{م ن}$$

$$\text{ثانياً: } \frac{\text{محيط } \Delta م ن ب}{\text{محيط } \Delta ج د ب} = \frac{٢٣,٨}{٣٤} = \frac{٦,٣}{٩}$$

نلاحظ أن النسبة بين محيطي المثلثين تساوي نسبة التشابه.

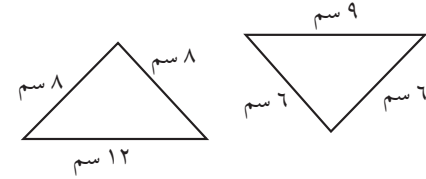
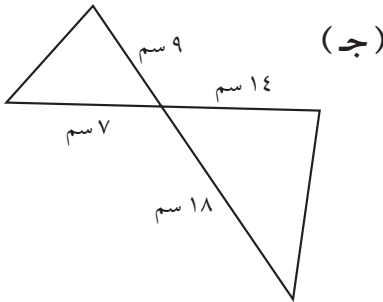
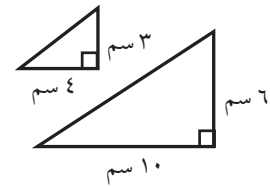
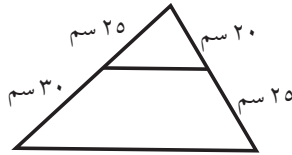
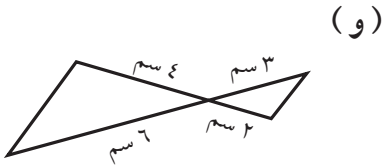
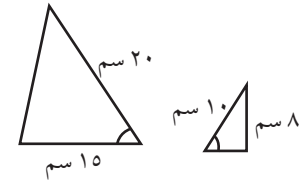
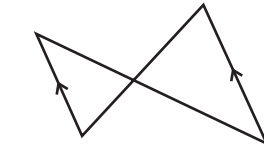
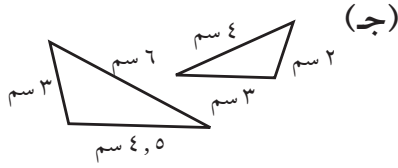
### حاول أن تحل

٦ في الشكل المقابل، أثبت أن المثلثين متشابهان.



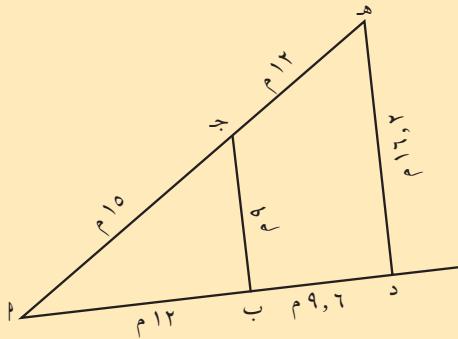
## تدريب (٢)

اذكر أي الحالات يكون فيها المثلثان متشابهين، وأيها يكونان فيها غير متشابهين. وفي حالة التشابه، اذكر النظرية التي تثبت تشابههما.



## مثال (٧) تطبيقات حياتية

يبين الشكل المقابل قسماً من المنطقة العلوية في أحد الأهرات. أراد يوسف التحقق من توازي الدعامتين ب ج ، د هـ. هل يمكنك مساعدته؟



الحل:

$\triangle ABC$  ،  $\triangle ADE$  فيهما:

$$\frac{BC}{AD} = \frac{5}{12} = \frac{9}{12+12}$$

$$\frac{BC}{AD} = \frac{15}{12+15} = \frac{5}{9}$$

$$\frac{BC}{AD} = \frac{9}{16, 2} = \frac{5}{9}$$

∴ المثلثان متشابهان (نظرية ٣)

الزاويتان  $\hat{B}$  ج ،  $\hat{D}$  هـ متناظرتان ومتساويتان في القياس إذ  $\overline{BC} \parallel \overline{DE}$ .

حاول أن تحل

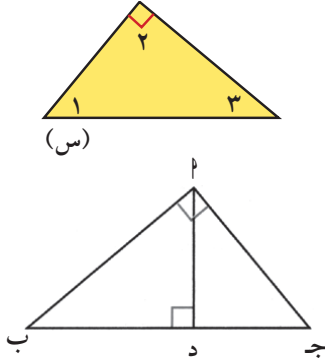
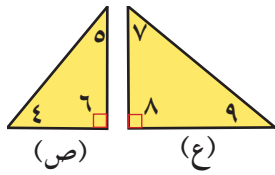
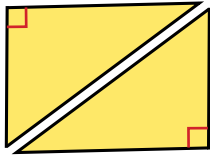
٧ في المثال أوجد قياس الزاوية  $\hat{A}$ .

## التشابه في المثلثات قائمة الزاوية

## Similarity in Right Triangles

## سوف تتعلم

- خصائص العمود المرسوم من رأس القائمة إلى الوتر في مثلث قائم الزاوية



## عمل تعاوني

اشترك مع أحد زملائك في التالي:

■ أحضر قطعة ورق مستطيلة الشكل. ارسم قطرًا للمستطيل. اقطع الورقة كما في الشكل لتحصل على مثلثين قائمي الزاوية متطابقين.

■ خذ أحد المثلثين. اقطع المثلث لتحصل على مثلثين قائمي الزاوية صغيرين كما في الشكل.

في المثلثات الثلاثة: س، ص، ع.

■ أي الزوايا لها نفس قياس  $\hat{1}$ .

■ أي الزوايا لها نفس قياس  $\hat{2}$ .

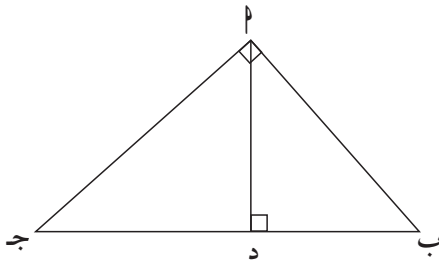
■ أي الزوايا لها نفس قياس  $\hat{3}$ .

■ معتمدًا على نتائجك، ماذا تستنتج بالنسبة إلى المثلثات الثلاثة؟

■ أكمل العبارة:  $\Delta \text{أ ب ج} \sim \Delta \text{أ ب د} \sim \Delta \text{أ د ج} \dots$

## نظرية (١)

العمود المرسوم من رأس القائمة إلى الوتر في مثلث قائم الزاوية يقسم المثلث إلى مثلثين متشابهين وكل منهما يشابه المثلث الأصلي.



المعطيات:  $\Delta \text{أ ب ج}$  مثلث قائم الزاوية  $\hat{P}$ ،  $\overline{AD} \perp \overline{BD}$  ج د.

المطلوب: ١ إثبات تشابه المثلثين  $\Delta \text{أ ب د}$ ،  $\Delta \text{أ د ج}$

٢ إثبات تشابه المثلثين  $\Delta \text{أ ب د}$ ،  $\Delta \text{أ د ج}$

البرهان:

١ المثلثان  $\Delta \text{أ ب د}$ ،  $\Delta \text{أ د ج}$  فيهما:

$$\hat{P} = (\hat{A} \hat{D} \text{ب}) = \hat{P} = (\hat{A} \hat{D} \text{ج}) = 90^\circ$$

$$\hat{B} = (\hat{B} \hat{A} \text{د}) + (\hat{A} \hat{D} \text{ب}) = 90^\circ$$

$$\hat{B} = (\hat{B} \hat{A} \text{د}) + (\hat{A} \hat{D} \text{ب}) = 90^\circ$$

$$\therefore \hat{B} = (\hat{B} \hat{A} \text{د}) = \hat{B} = (\hat{B} \hat{A} \text{ج})$$

$$\Delta \text{أ ب د} \sim \Delta \text{أ د ج}$$

زاوية متممة مشتركة

نظرية (١)

٢ المثلثان  $\Delta \text{أ ب د}$ ،  $\Delta \text{أ د ج}$  فيهما:

$$\hat{P} = (\hat{A} \hat{D} \text{د}) = \hat{P} = (\hat{A} \hat{D} \text{ب})$$

$$\hat{B} = (\hat{B} \hat{A} \text{د}) = \hat{B} = (\hat{B} \hat{A} \text{ج}) = 90^\circ$$

$$\therefore \Delta \text{أ ب د} \sim \Delta \text{أ د ج}$$

نظرية (١)

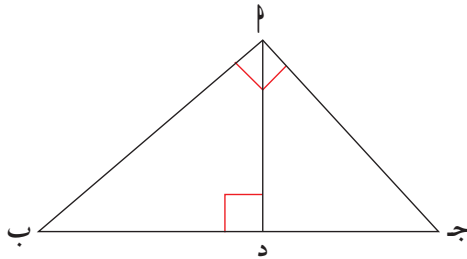
$$\Delta \text{أ ب د} \sim \Delta \text{أ د ج}، \Delta \text{أ ب د} \sim \Delta \text{أ د ج}$$

$$\therefore \Delta \text{أ ب د} \sim \Delta \text{أ د ج} \sim \Delta \text{أ ب ج}$$

القياس المنطقي

### نتيجة (١)

مربع طول العمود المرسوم من رأس القائمة إلى الوتر في مثلث قائم الزاوية يساوي ناتج ضرب طولي القطعتين المستقيمتين اللتين ينقسم إليهما الوتر بهذا العمود.



المعطيات:  $\Delta$   $PBJ$  قائم الزاوية  $P$ ،  $PD \perp BJ$ .

المطلوب: إثبات أن:  $PD^2 = BD \times DJ$ .

(نظرية ١)

البرهان:  $\Delta PBD \sim \Delta PJD$

$$\frac{PD}{BD} = \frac{PD}{JD} = \frac{PB}{PJ}$$

$$PD^2 = BD \times DJ$$

### نتيجة (٢)

إذا كان  $\Delta PBJ$  قائم الزاوية  $P$ ،  $PD \perp BJ$ :

١  $PD^2 = BD \times DJ$

٢  $PB^2 = BD \times BJ$

المعطيات:  $\Delta PBJ$  قائم الزاوية  $P$ .

$PD \perp BJ$ .

المطلوب: ١ إثبات  $PD^2 = BD \times DJ$ .

٢  $PB^2 = BD \times BJ$

البرهان:

(نظرية ١)

١  $\Delta PBD \sim \Delta PJD$

$$\frac{PD}{BD} = \frac{PD}{JD} = \frac{PB}{PJ}$$

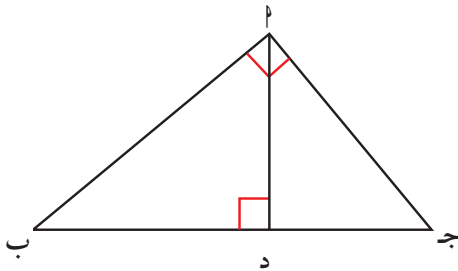
ومنها  $PD^2 = BD \times DJ$ .

(نظرية ١)

٢  $\Delta PBD \sim \Delta PBJ$

$$\frac{PD}{BD} = \frac{PB}{BJ} = \frac{PB}{PB + PJ}$$

ومنها  $PB^2 = BD \times BJ$



### مثال (١)

أوجد  $s$ ،  $v$  بحسب المعطيات في الشكل.

الحل:

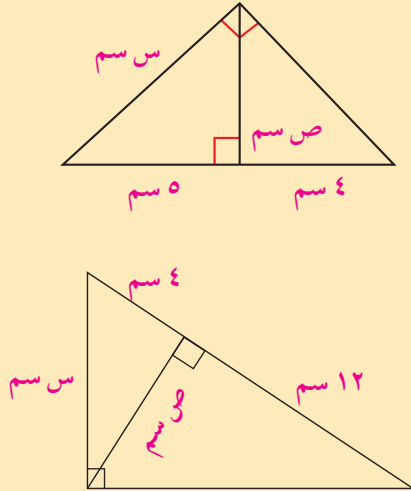
باستخدام نتائج النظرية (١):

$$s^2 = (4 + 5) \times 5 = 45$$

$$s = \sqrt{45} = 3\sqrt{5}$$

$$v^2 = 5 \times 4 = 20$$

$$v = \sqrt{20} = 2\sqrt{5}$$

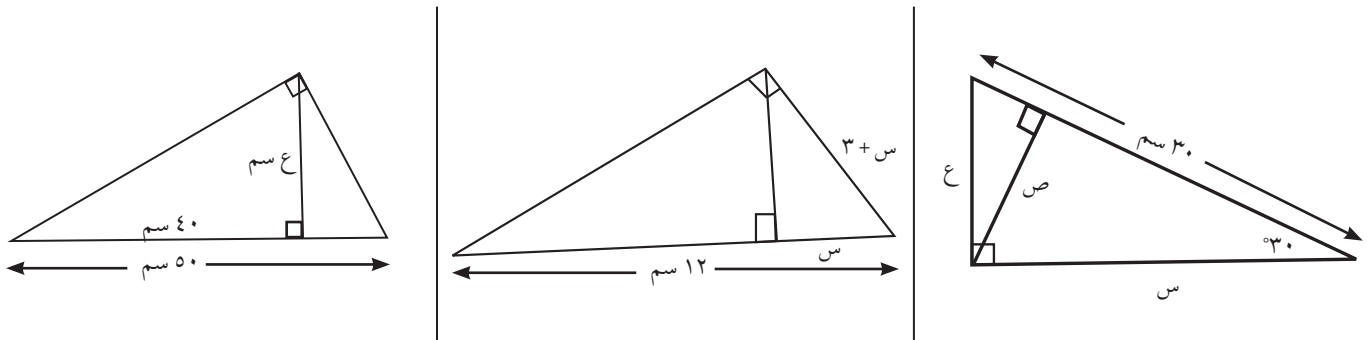


### حاول أن تحل

١ أوجد من الشكل المجاور  $s$ ،  $v$  في أبسط شكل.

### تدريب (١)

أوجد قيمة  $s$ ،  $v$ ،  $e$  في أبسط صورة من كل من الحالات التالية:



### مثال (٢) تطبيقات حياتية

يراقب فلكي كسوف الشمس. يمدج الشكل المقابل الحالة. يقف المراقب في ب.

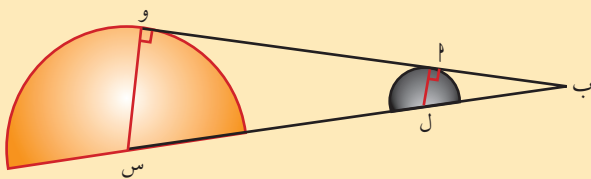
النقاط س (مركز الشمس)، ل (مركز القمر)، ب متسامية.

طول نصف قطر الشمس = ٦٩٥٠٠٠ كم.

طول نصف قطر القمر = ١٧٣٦ كم.

المسافة ب س = ١٥٠ مليون كم.

أوجد المسافة ب ل (قرّب الإجابة لأقرب كم).



الحل:

المثلثان ب ل ل، ب س و قائمي الزاوية ل، و. ب زاوية مشتركة.

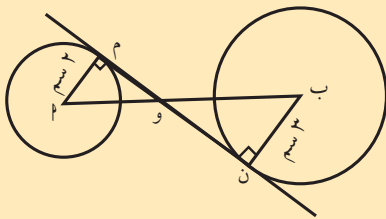
المثلثان ب ل ل، ب س و متشابهان (نظرية ١)

$$\frac{ب ل}{ب س} = \frac{ل ل}{س و} \text{ تناسب أطوال الأضلاع المتناظرة}$$

$$\frac{١٧٣٦}{٦٩٥٠٠٠} = \frac{ب ل}{١٥٠٠٠٠٠٠٠}$$

$$ب ل = ٣٧٤٦٧٦, ٢٥٩$$

تبلغ المسافة بين النقطة ب التي يقف فيها المراقب ومركز القمر حوالي ٣٧٤ ٦٧٦ كم.



حاول أن تحل

٢ في الشكل المقابل أوجد طول كل من القطعتين و، ب إذا كان طول أب = ٨ سم.

### مثال (٣) تطبيقات حياتية

في إحدى الحدائق العامة، التي تقيمها الدولة على الشاطئ للترفيه عن المواطنين، كان طول الممر المرصوف داخل الحديقة حتى المقصف يساوي ٣٠٠ م، وطول الممر حتى كشك المجلات ٤٠٠ م، وكان الممران يتقابلان في زاوية قائمة كما في الشكل أمام موقف السيارات. سار جاسم من موقف السيارات على مسار مستقيم عمودي على الشاطئ حتى وصل إلى الشاطئ. كم مترًا على جاسم أن يسير من مكانه على الشاطئ ليشتري شطائر من المقصف؟

الحل:  $\Delta$  ب ج قائم الزاوية في ل.

بتطبيق نظرية فيثاغورث

$$ب ج^2 = ٢(٤٠٠) + ٢(٣٠٠)$$

$$ب ج^2 = ٢٥٠٠٠٠$$

$$ب ج = ٥٠٠ م$$

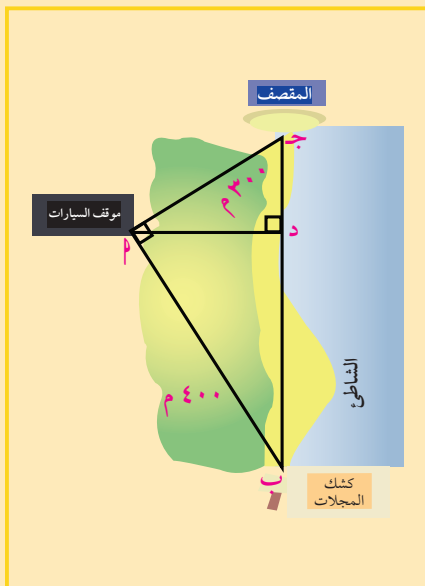
بتطبيق نتائج التشابه

$$ب ج^2 = ج د \times ج ب$$

$$٥٠٠ \times ٥٠٠ = ج د \times ٣٠٠$$

$$ج د = \frac{٣٠٠ \times ٥٠٠}{٥٠٠} = ١٨٠$$

أي أن جاسم سيسير ١٨٠ م ليصل إلى المقصف.



حاول أن تحل

٣ احسب المسافة أ د من موقف السيارات إلى الشاطئ بطريقتين مختلفتين.

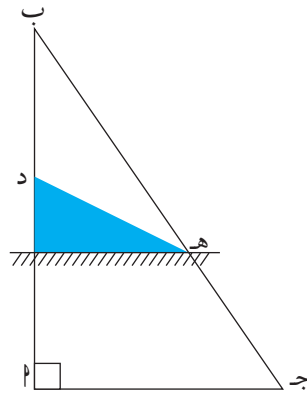


## التناسب والمثلثات المتشابهة

### Proportions and Similar Triangles

#### سوف تتعلم

- خصائص الخط الموازي لأي ضلع في المثلث
- نظرية طاليس
- خصائص منصفات الزوايا الداخلية في المثلث



استخدم الأدوات الهندسية (المسطرة والمثلث القائم) في إنشاء التالي:

- ارسم  $\Delta$  ب ج. خذ نقطة د على  $\overline{ب د}$ .
- ارسم خطاً مستقيماً يمر بنقطة د ويوازي  $\overline{ج د}$ .
- لتكن هـ هي نقطة تقاطع  $\overleftrightarrow{د هـ}$  مع  $\overline{ب ج}$ .
- أوجد بالقياس طول كل من:  $\overline{ب د}$ ،  $\overline{د هـ}$ ،  $\overline{هـ ج}$ .
- احسب النسبتين:  $\frac{ب د}{د هـ}$ ،  $\frac{ب هـ}{هـ ج}$ .
- قارن بين النسبتين:  $\frac{ب د}{د هـ}$ ،  $\frac{ب هـ}{هـ ج}$ .

قارن بين عدد من الحالات يتحرك فيها موقع  $\overleftrightarrow{د هـ}$  محافظاً على توازيه مع  $\overline{ج د}$ .

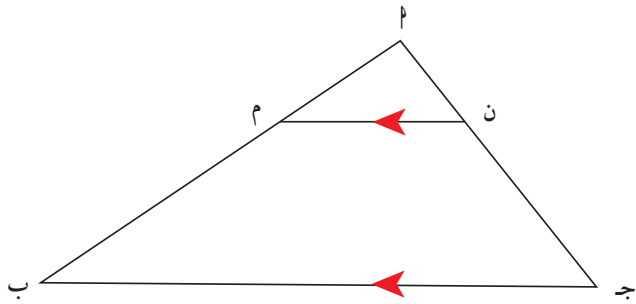
#### دعنا نفكر ونتناقش

أعط أمثلة عديدة توضح خواص التناسب التالية:

| أمثلة عددية | خواص التناسب                               |
|-------------|--|
|             | إذا كان $\frac{ب}{د} = \frac{ج}{د}$ . فإن: |
|             | ١ $ب د = ج د$                              |
|             | ٢ $\frac{ب}{ج} = \frac{د}{د}$              |
|             | ٣ $\frac{ب}{د} = \frac{ج}{د}$              |
|             | ٤ $\frac{ب+ج}{ب} = \frac{ب+د}{ب}$          |
|             | ٥ $\frac{ب}{ب} = \frac{ج+د}{ب+د}$          |

#### نظرية (١)

إذا وازى مستقيم أحد أضلاع مثلث وقطع ضلعيه الآخرين، فإنه يقسم هذين الضلعين إلى أجزاء أطولها متناسبة.



المعطيات:  $\overline{AB} \parallel \overline{MN}$ ، مثلث،  $\overline{MN} \parallel \overline{BJ}$ .

المطلوب: إثبات أن  $\frac{PM}{PN} = \frac{AM}{BN}$ .

البرهان:

$\overline{MN} \parallel \overline{BJ}$

$\Delta ABM \sim \Delta ANM$  (لماذا؟)

$$\frac{AB}{AN} = \frac{AM}{MN}$$

$$\frac{AB + AM}{AM} = \frac{AN + MN}{MN}$$

$$\frac{AB}{AM} + 1 = \frac{AN}{MN} + 1$$

$$\frac{AB}{AM} = \frac{AN}{MN}$$

$$\text{إذاً } \frac{AN}{BN} = \frac{AM}{BM}$$

### معلومة رياضية:

إذا كان  $\overline{MN} \parallel \overline{AB}$   
فإن  $\frac{AM}{MB} = \frac{AN}{NB}$   
والعكس صحيح.

### مثال (١)

استخدم نظرية المستقيم الموازي السابقة لإيجاد قيمة س.

الحل:

بما أن المستقيمين متوازيين وباستخدام نظرية طاليس نكتب التناسب:

الأجزاء المتناسبة

$$\frac{س}{١٠} = \frac{٥}{١٠}$$

باستخدام الضرب التقاطعي

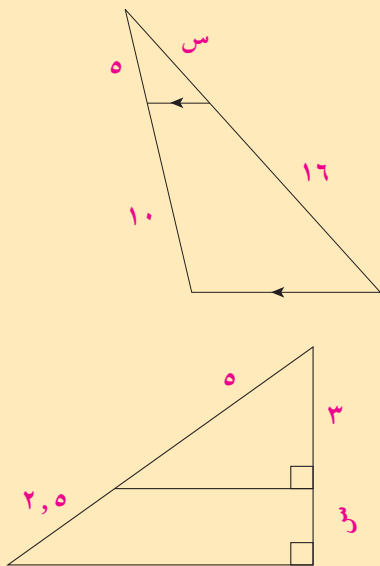
$$١٠س = ٥٠$$

بالقسمة على ١٠

$$س = ٥$$

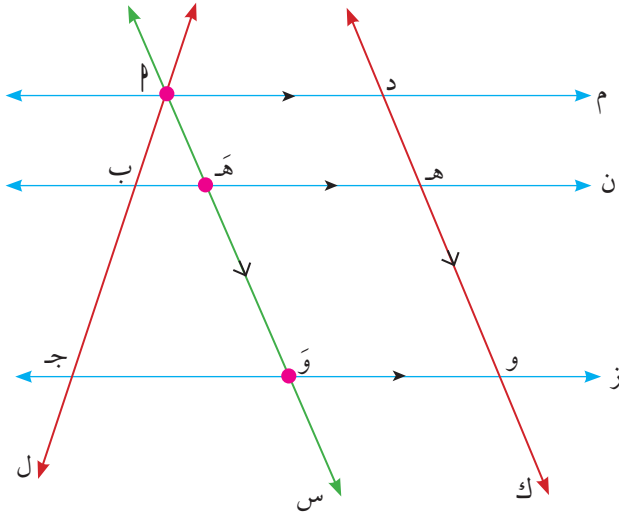
### حاول أن تحل

١ استخدم نظرية المستقيم الموازي السابقة لإيجاد قيمة س.



## نظرية (٢)

إذا قطع مستقيمان غير متوازيين ثلاثة مستقيمات متوازية أو أكثر فإن أطوال القطع المستقيمة الناتجة متناسبة.



المعطيات: لدينا المستقيمات م، ن، ز حيث م // ن // ز.

المستقيم ل يقطع م، ن، ز بالنقاط ا، ب، ج على الترتيب.

المستقيم ك يقطع م، ن، ز بالنقاط د، هـ، و على الترتيب.

$$\frac{د هـ}{هـ و} = \frac{ا ب}{ب ج}$$

البرهان:

نأخذ من النقطة ا خطاً مستقيماً س موازياً للمستقيم ك حيث يقطع ن بالنقطة هـ ويقطع ز بالنقطة و.

ويكون لدينا: ا هـ د متوازي أضلاع لذا: ا هـ = د هـ

ثم هـ و و هـ متوازي أضلاع لذا: هـ و = و هـ

من ناحية ثانية:

$$\frac{ا ب}{ب ج} = \frac{ا هـ}{هـ و}$$

$$\frac{د هـ}{هـ و} = \frac{ا ب}{ب ج} \text{ ومنه نستنتج:}$$

## نظرية (١)

## بالتعويض

## تجنب الخطأ

## مثال (٢)

في الشكل المقابل: د مركز الدائرة، طول نصف قطر الدائرة = ٤ سم.

ا ب = ١٠ سم، ا د = ٨ سم، ب ج = ٥ سم، و، ف نقطتان على الدائرة.

قال فهد: النقاط ا، د، ب متسامتة كذلك النقاط ا، و، ج وبالترتيب نفسه.

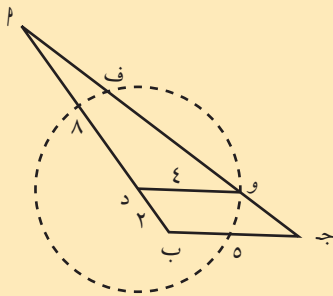
$$\frac{٤}{٥} = \frac{٨}{١٠} = \frac{٨}{٢+٨} = \frac{ا د}{ا ب} \text{ بما أن } \frac{٤}{٥} = \frac{٨}{١٠} = \frac{٨}{٢+٨} = \frac{ا د}{ا ب}$$

إذا و د // ج ب

إجابة سلطان: في هذه الحالة، ف د، ج ب متوازيان أيضاً.

أ اشرح علام ارتكز سلطان في إجابته.

ب أين الخطأ في الحل الذي أعطاه فهد؟



الحل:

أ كيف فكر سلطان: بما أن  $\frac{د ف}{ج ب} = \frac{٤}{٥}$ ، واستنادًا على ما اقترح فهد،  $د ف // ج ب$

ب يجب أن يكون  $و د // ج ب$  (نظرية طاليس). توازي المستقيمت يعطي قطعًا أطوالها متناسبة وليس العكس.

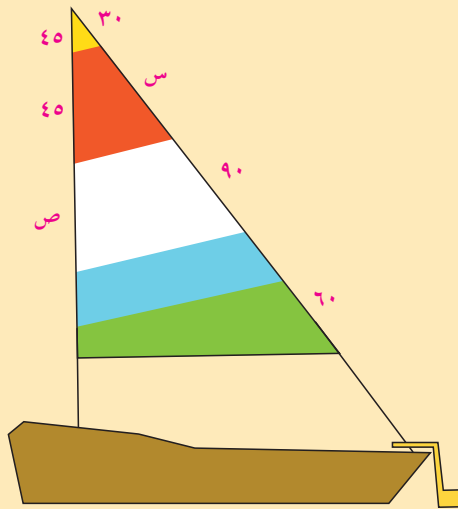
حاول أن تحل

٢ إذا كان أيضًا  $و د // ج ب$ ، و  $ج ب = ٣$  سم فأوجد طول  $د ف$ .

### تطبيقات حياتية

مثال (٣)

تصميم أنماط لشراع المركب: يستخدم صانعو الأشرعة الحاسوب لتكوين نمط لكل شراع يصنعونه، ثم يرسمون مخططاً له بالطباشير على الأرضية التي يقصونه عليها. بعد أن يقطعوا إطارات الشراع، يحيكونها معاً لتكوين الشراع بأكمله. الخطوط المحاكاة تكون متوازية كما في الشكل حيث الأبعاد بالستيمتر. أوجد  $س$ ،  $ص$ .



الحل:

من توازي القطع المستقيمة واستنادًا إلى نظرية طاليس، نكتب التناسب:

باستخدام نظرية طاليس

$$\frac{٤٥}{٤٥} = \frac{٣٠}{س}$$

$$٣٠ = س$$

$$\frac{٩٠}{٣٠} = \frac{ص}{٤٥}$$

$$\frac{٩٠ \times ٤٥}{٣٠} = \text{إذا } ص$$

$$= ١٣٥ \text{ سم}$$

استخدم على الحاسوب برنامج **Illustrator** في تصميم الشراع إذا كان ذلك متاحًا لك.

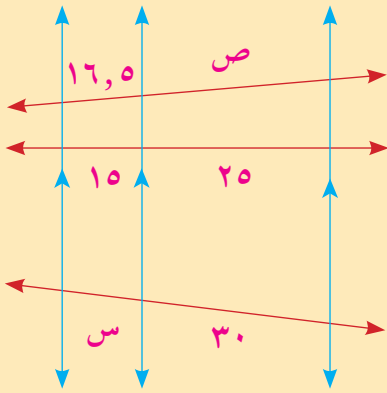
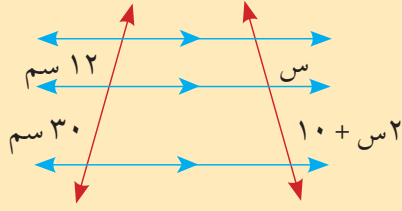
تدريب (١)

من الشكل المقابل أكمل المعادلة أدناه لإيجاد قيمة س.

$$\frac{12}{30} = \frac{س}{10 + س}$$

حاول أن تحل

٣ أوجد في الشكل المقابل س، ص في أبسط شكل.



نظرية (٣)

إذا نصّف شعاع زاوية داخلية في مثلث، فإن هذا المنصف يقسم الضلع المقابل إلى قطعتين يتناسب طولاهما مع طول الضلعين الآخرين في المثلث.

المعطيات:  $\Delta$  ب ج فيه  $\overline{أد}$  ينصف ب  $\hat{أ}$  ج.

المطلوب: إثبات أن:  $\frac{ج د}{ب د} = \frac{أ ج}{أ ب}$

العمل: نرسم ب  $\overline{ل}$  //  $\overline{أد}$

حيث يتقاطع ج  $\hat{أ}$ ، ب  $\overline{ل}$  في نقطة هـ.

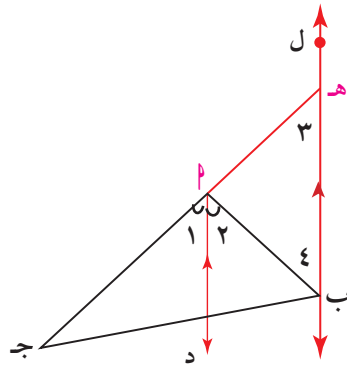
البرهان:

عملًا: ب  $\overline{ل}$  //  $\overline{أد}$

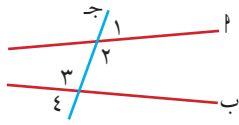
ج هـ، ج ب قاطعان لهما

باستخدام نظرية طاليس نجد أن:

$$(١) \quad \frac{ج د}{ب د} = \frac{أ ج}{أ هـ}$$

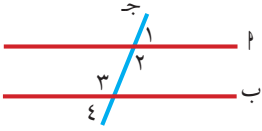


### معلومة رياضية:



(٢)، (٣): زاويتان متبادلتان داخلياً

(١)، (٤): زاويتان متبادلتان خارجياً



(٢) = (٣): التوازي والتبادل الداخلي

(١) = (٤): التوازي والتبادل الخارجي

$\hat{C} = \hat{D}$  بالتصنيف.

$\hat{A} = \hat{B}$  من التوازي والتناظر.

إذا  $\hat{C} = \hat{D}$

$\hat{C} = \hat{D}$  من التوازي والتبادل الداخلي.

إذا  $\hat{C} = \hat{D}$

∴ المثلث  $\triangle ABC$  متطابق الضلعين ومنه  $AB = AC$ .

وبالتعويض في (١) ينتج أن:  $\frac{AB}{AC} = \frac{BC}{BC}$ .

### مثال (٤)

أوجد  $BC$  في الشكل المبين حيث  $D$  ينصف  $AC$ .

الحل:

في المثلث  $\triangle ABC$

$D$  منتصف  $AC$

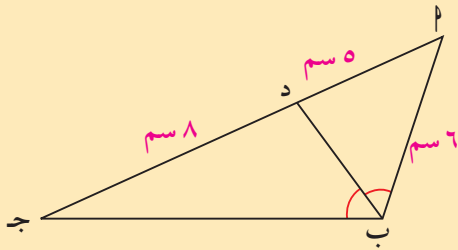
$$\therefore \frac{BC}{AD} = \frac{CD}{DB}$$

$$\frac{8}{5} = \frac{BC}{2}$$

$$BC = \frac{2 \times 8}{5}$$

$$BC = \frac{2 \times 8}{5} = 6,4 \text{ سم}$$

نظرية منصف الزاوية



### حاول أن تحل

٤ ارسم مثلثاً  $\triangle ABC$  بحيث أن  $AB = 6$  سم،  $AC = 8$  سم،  $D$  منتصف  $BC$ . ثم ارسم  $AD$  منتصف  $BC$ .

أوجد  $BC$ ،  $D$ .

## العلاقة بين محيطي شكلين متشابهين وبين مساحتهما

### Relation Between Perimeters and Areas of Two Similar Figures

#### سوف تتعلم

- العلاقة بين محيطات الأشكال المتشابهة ونسبة التشابه
- العلاقة بين مساحات الأشكال المتشابهة ونسبة التشابه

#### عمل تعاوني

اعمل مع زميل لك لبحث العلاقة بين محيطي شكلين متشابهين وبين مساحتهما.

#### خطوات العمل:

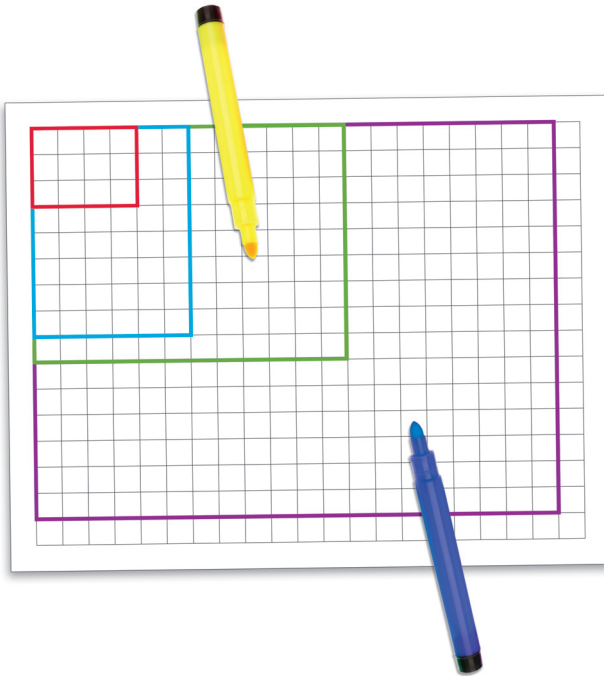
- ١ على ورقة المربعات حدّد مستطيلاً أبعاده ٣ وحدات، ٤ وحدات.
- ٢ حدّد ثلاثة مستطيلات مشابهة للمستطيل الأصلي.
- ٣ استخدم الرسم في ملء الجدول (١).
- ٤ استعن بالمعلومات التي حصلت عليها في الجدول (١) لتكمل الجدول (٢).
- ٥ ماذا تعني النسب التي حصلت عليها مقارنة بنسبة التشابه؟
- ٦ قارن بين النتائج التي حصلت عليها والنتائج التي حصل عليها زملاؤك في الفصل.

جدول (٢)

| المستطيل    | النسبة بين العرضين | النسبة بين الطولين | النسبة بين المحيطين | النسبة بين المساحتين | نسبة التشابه |
|-------------|--------------------|--------------------|---------------------|----------------------|--------------|
|             | ١:٢                | ١:٢                |                     |                      | ٢            |
| I: الأصلي   |                    |                    |                     |                      |              |
| II: الأصلي  |                    |                    |                     |                      |              |
| III: الأصلي |                    |                    |                     |                      |              |

جدول (١)

| المستطيل | العرض | الطول | المحيط | المساحة |
|----------|-------|-------|--------|---------|
| الأصلي   |       |       |        |         |
| I        |       |       |        |         |
| II       |       |       |        |         |
| III      |       |       |        |         |



#### معلومة مفيدة:

في المستطيل البعد الأقصر يسمى العرض، والبعد الأطول يسمى الطول.

يلاحظ أن:

النسبة بين المحيطين = نسبة التشابه  
النسبة بين المساحتين = مربع نسبة التشابه  
نسبة التشابه بين محيطي دائرتين تساوي النسبة بين طولي نصفَي قطري الدائرتين.

## نظرية (١)

(نظرية العلاقة بين محيطات أو مساحات الأشكال المتشابهة)

إذا كانت نسبة التشابه لأي شكلين متشابهين هي  $\frac{p}{b}$  فإن:

١ النسبة بين محيطي الشكلين =  $\frac{p}{b}$

= نسبة التشابه.

٢ النسبة بين مساحتي الشكلين =  $\frac{p^2}{b^2}$

= مربع نسبة التشابه.

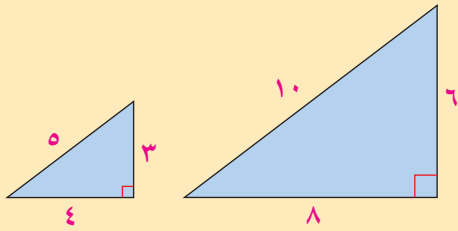
نسبة التشابه بين أي دائرتين هي النسبة بين طولي نصفي قطريهما.  
النسبة بين محيطي دائرتين تساوي النسبة التشابه بين الدائرتين.  
النسبة بين مساحتي دائرتين تساوي مربع نسبة التشابه بين الدائرتين.

## مثال (١)

أوجد نسبة التشابه بين محيطي ثم بين مساحتي:

أ المثلثين المتشابهين.

ب شبهي المنحرف المتشابهين.



الحل:

أ نسبة التشابه = النسبة بين طولي أي ضلعين متناظرين:  $\frac{1}{2} = \frac{3}{6}$

النسبة بين محيطي المثلثين:  $\frac{1}{2} = \frac{12}{24}$

النسبة بين مساحتي المثلثين:  $\frac{1}{4} = \frac{6}{24} = \frac{4 \times 3 \times \frac{1}{2}}{24}$

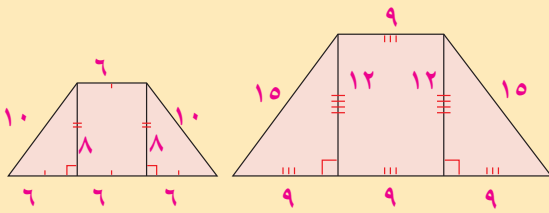
ب نسبة التشابه:  $\frac{2}{3} = \frac{6}{9}$

النسبة بين محيطي شبهي المنحرف:

$$\frac{2}{3} = \frac{4}{6} = \frac{44}{66} = \frac{20 + 18 + 6}{9 + 27 + 30}$$

النسبة بين مساحتي شبهي المنحرف:

$$\frac{4}{9} = \frac{8}{18} = \frac{12 \times 8}{18 \times 12}$$





### حاول أن تحل

١ لدينا مثلثان متشابهان بنسبة  $\frac{2}{3}$ . إذا كان محيط المثلث الأكبر ٤٥ سم، فما محيط المثلث الأصغر؟

### مثال (٢)

مضلعان متشابهان أحدهما أطوال أضلاعه ٣ سم، ٥ سم، ٦ سم، ٨ سم، ١٠ سم والآخر محيطه ٤٨ سم، أوجد أطوال أضلاع المضلع الثاني.

الحل:

محيط المضلع الأول =  $3 + 5 + 6 + 8 + 10 = 32$  سم.

النسبة بين محيطي الضلعين =  $\frac{2}{3} = \frac{32}{48}$ .

لتكن أ، ب، ج، د، هـ على التوالي أطوال أضلاع المضلع الثاني المناظرة للأطوال ٣، ٥، ٦، ٨، ١٠ في المضلع الأول.

النسبة بين ضلعين متناظرين = النسبة بين محيطي المضلعين.

$$\frac{2}{3} = \frac{أ}{3} \quad \therefore أ = 2 \text{ سم} \quad \frac{2}{3} = \frac{ب}{5} \quad \therefore ب = \frac{10}{3} \approx 3,3 \text{ سم}$$

$$\frac{2}{3} = \frac{ج}{6} \quad \therefore ج = 4 \text{ سم} \quad \frac{2}{3} = \frac{د}{8} \quad \therefore د = \frac{16}{3} \approx 5,3 \text{ سم}$$

$$\frac{2}{3} = \frac{هـ}{10} \quad \therefore هـ = \frac{20}{3} \approx 6,7 \text{ سم}$$

### حاول أن تحل

٢ ينقص محيط المضلع الثاني ٨ سم عن محيط المضلع الأول. أوجد أطوال أضلاع المضلع الثاني.

### مثال (٣)

ليكن لدينا دائرتان م، ن: الأولى طول نصف قطرها  $r_1$ ، والثانية طول نصف قطرها  $r_2$ .

أوجد النسبة بين محيطي الدائرتين والنسبة بين مساحتهما.

الحل:

نسبة التشابه:  $\frac{r_1}{r_2}$

$$\frac{النسبة \text{ بين المحيطين}}{\frac{r_1}{r_2}} = \frac{\pi 2 r_1}{\pi 2 r_2}$$

$$\frac{النسبة \text{ بين المساحتين}}{\frac{r_1}{r_2}} = \frac{\pi (r_1)^2}{\pi (r_2)^2}$$

### حاول أن تحل

٢ دائرتان م، ن، طول نصف قطر الأولى ٥ سم وطول نصف قطر الثانية = ٨ سم. أوجد النسبة بين محيطي الدائرتين والنسبة بين مساحتهما.

### مثال (٤)

لدينا ربايعان متشابهان بنسبة  $\frac{٥}{٤}$ . إذا كانت مساحة الرباعي الأكبر ٣٠ سم<sup>٢</sup>، فما مساحة الرباعي الأصغر؟  
الحل:

النسبة بين المساحتين = مربع نسبة التشابه

$$\frac{٢٥}{١٦} = \left(\frac{٥}{٤}\right)^2 = \frac{\text{مساحة الرباعي الأكبر}}{\text{مساحة الرباعي الأصغر}}$$

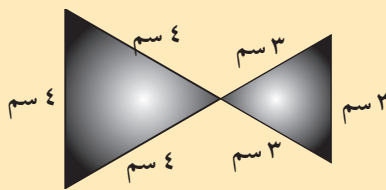
$$\frac{٢٥}{١٦} = \frac{٣٠}{\text{مساحة الرباعي الأصغر}}$$

$$\text{مساحة الرباعي الأصغر} = \frac{١٦ \times ٣٠}{٢٥} = ١٩,٢ \text{ سم}^٢.$$

### حاول أن تحل

٤ النسبة بين مساحتي مضلعين هي  $\frac{١٦}{٩}$ . ما محيط المضلع الأكبر إذا كان محيط المضلع الأصغر ٢٤ سم؟

### مثال (٥) تطبيقات حياتية



رسم يوسف ربطة عنق على شكل عقدة فراشة. لاحظ أن قسمة الربطة غير متطابقين. ما النسبة المئوية من مساحة المثلث الأكبر التي عليه قطعها ليصبح القسمان متطابقين؟

الحل:

$$\text{الفرق بين مساحتي المثلثين} = ٦,٩٢٨ - ٣,٨٩٧ = ٣,٠٣١$$

$$\text{نكتب التناسب: } \frac{٣,٠٣١}{١٠٠} = \frac{\text{س}}{٦,٩٢٨}$$

$$\text{س} = \frac{١٠٠ \times ٣,٠٣١}{٦,٩٢٨} \approx ٤٣,٧٥$$

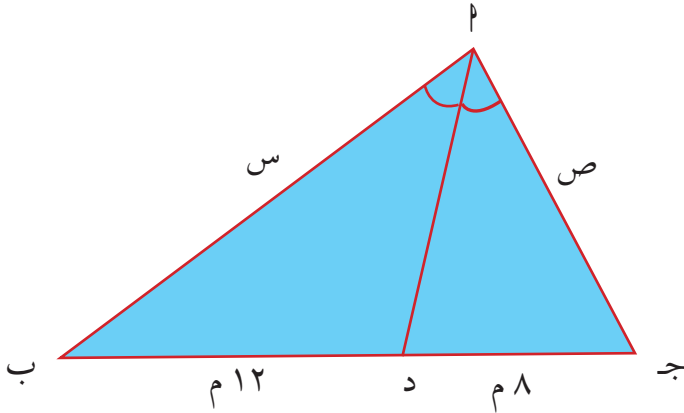
يجب أن يقطع حوالي ٤٣,٧٥٪ من مساحة المثلث الأكبر.

### حاول أن تحل

٥ هل تبقى النسبة المئوية دون تغيير إذا كان طول ضلع المثلث الأصغر ٤ سم، وطول ضلع المثلث الأكبر ٥ سم؟

## المرشد لحل المسائل

١ محيط المثلث المقابل يساوي ٥٠ مترًا.  $\overline{AD}$  منصف داخلي للزاوية  $\angle A$ . أوجد قيم  $s$ ،  $v$ .



ما الذي أعرفه؟ يجب عرض المعطيات  
محيط المثلث  $\Delta ABC$  يساوي ٥٠ مترًا، أي أن:

$$AB + AC + BC = 50 \text{ م.}$$

$$\text{ثم } BD = 12 \text{ م، } DC = 8 \text{ م أي أن:}$$

$$BC = 12 + 8 = 20$$

$\overline{AD}$  منصف داخلي للزاوية  $\angle A$

ما الذي أريد معرفته؟

قيمة  $s$ ، قيمة  $v$ .

كيف سأحل المسألة؟

$$\left. \begin{array}{l} s + v + 20 = 50 \text{ أي: } s + v = 30 \\ \frac{s}{8} = \frac{v}{12} \text{ أي: } \frac{s}{2} = \frac{v}{3} \end{array} \right\} \text{ استخدم المعطيات، اكتب:}$$

$$\left. \begin{array}{l} s + v = 30 \\ \frac{3s}{2} = v \end{array} \right\}$$

أجد حل نظام المعادلتين باستخدام طريقة التعويض أحصل على:  $\frac{3s}{2} + v = 30$  ومنه  $v = 12$  وبالتالي  $s = 18$

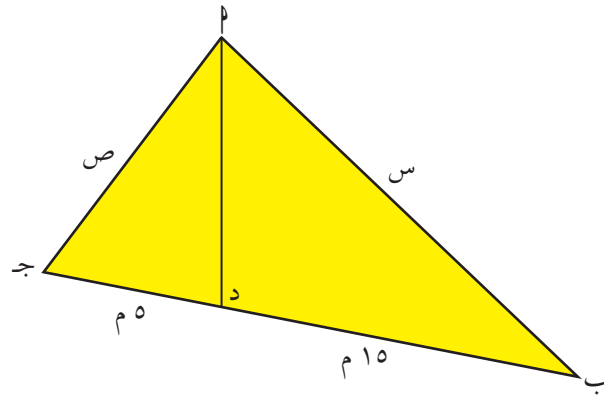
أي أن  $v = 12$  م،  $s = 18$  م.

سوف أتأكد من صحة الحل:

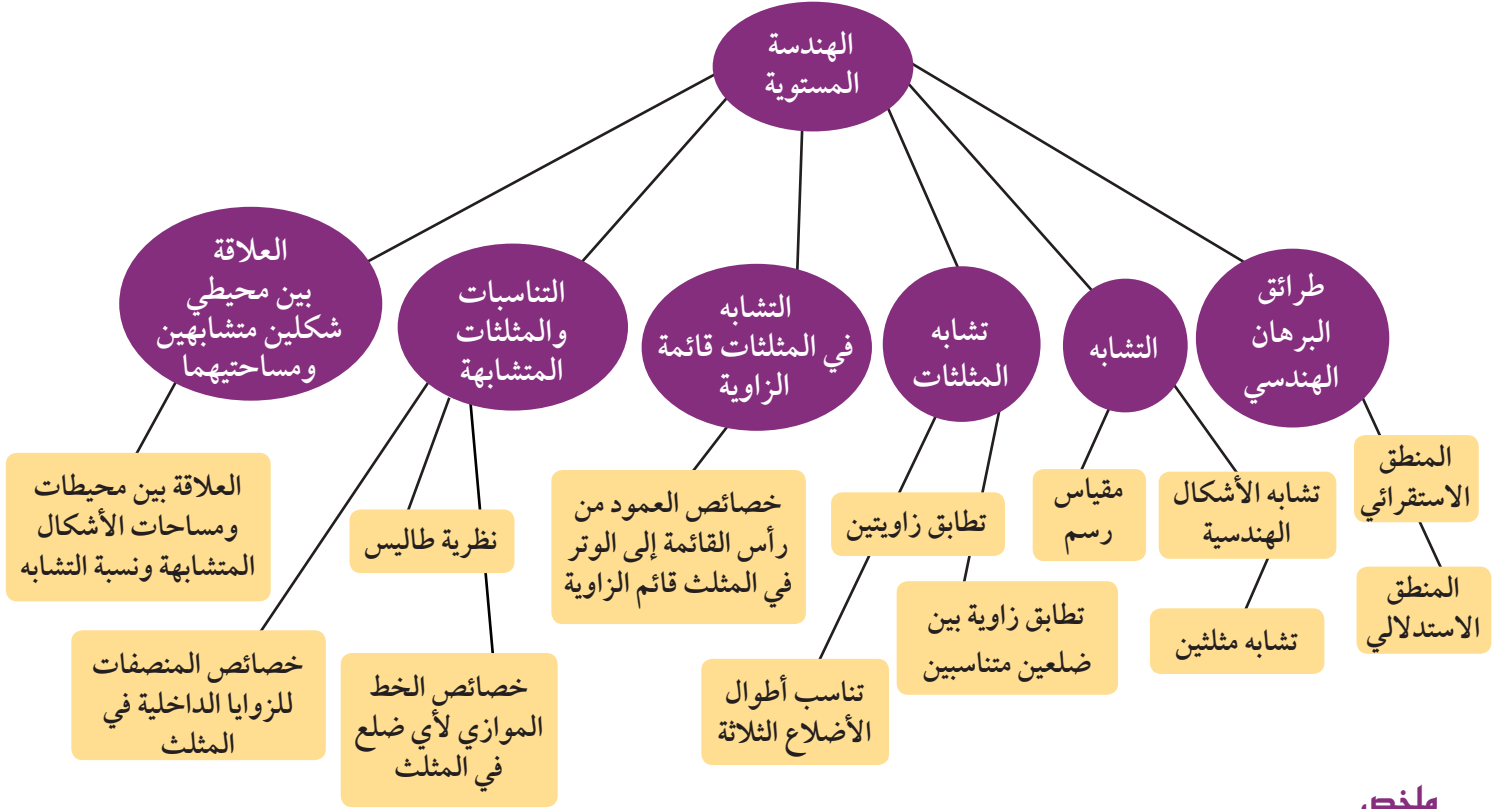
$$s + v + BC = 18 + 12 + 20 = 50 \text{ محيط المثلث يساوي } 50 \text{ م.}$$

**مسألة إضافية**

محيط المثلث المقابل يساوي ٧٥ مترًا مسافة  $\overline{AD}$  منصف داخلي للزاوية  $\angle A$ . أوجد قيم  $s$ ،  $v$ .



## مخطط تنظيمي للوحدة الثالثة



### ملخص

- يعتمد المنطق الاستقرائي على توقع نتائج صحيحة من معطيات وأنماط محددة.
- يعتمد المنطق الاستدلالي على إيجاد نتائج صحيحة من معطيات صحيحة.
- يكون شكلان متشابهين عندما يكون لهما الشكل نفسه وأحدهما أكبر أو أصغر من الآخر أو متطابقاً معه.
- يوجد في شكلين متشابهين أزواج من الزوايا متساوية القياس وأزواج من الأضلاع متناسبة الأطوال.
- يستخدم التناسب في الأشكال المتشابهة للتطبيق على مقياس الرسم.
- عند تطابق زاويتين في مثلث مع زاويتين في مثلث آخر يكون المثلثان متشابهين.
- عند تطابق زاوية في مثلث مع زاوية في مثلث آخر وتناسب طولي الضلعين المحددتين لهاتين الزاويتين، يكون المثلثان متشابهين.
- عند تناسب أطوال الأضلاع الثلاثة في مثلثين، يكون المثلثان متشابهين.
- يقسم العمود المرسوم من رأس القائمة إلى الوتر، المثلث قائم الزاوية إلى مثلثين متشابهين وكل منهما مشابه للمثلث الأصلي.
- عندما يوازي مستقيم أحد أضلاع مثلث ويقطع ضلعيه الآخرين، فإنه يقسم هذين الضلعين إلى أجزاء متناسبة.
- تنص نظرية طاليس على أنه إذا قطع مستقيمان ثلاثة مستقيمات متوازية مع بعضها بعضاً، فإن الأجزاء المقطوعة من المستقيمين تكون متناسبة.
- يقسم المنصف للزاوية الداخلية في المثلث الضلع المقابل لها إلى جزئين متناسبين مع الضلعين الآخرين.
- إذا كانت نسبة التشابه بين شكلين متشابهين هي  $\frac{أ}{ب}$  فإن:

$$(1) \text{ النسبة بين محيطي الشكلين} = \frac{أ}{ب}$$

$$(2) \text{ النسبة بين مساحتي الشكلين} = \left(\frac{أ}{ب}\right)^2$$

# الوحدة الرابعة

## الجبر Algebra

### مشروع الوحدة: تحويل التروس Shifting Gears في الدراجات الهوائية الرياضية.

#### ١ مقدمة المشروع:

يستخدم الرياضيون في سباقات الدراجات الهوائية دراجات لها تروس متغيرة. يمكن للتروس والروافع أن تسهل العمل، لكن تبقى هناك مفاضلة للجودة. فالتروس العالية في الدراجة تسمح بالسير مسافة أكبر مع كل دورة من الدواسات ولكن بمجهود أكبر.

#### ٢ الهدف:

كيف تختار التروس الملائمة خلال ركوب الدراجة: أماكن مسطحة، صعود الجبال، سباقات السرعة، أو المسافات الطويلة. سوف تستخدم ما تعلمه في الوحدة حول التغير والتناسب في عملك.

#### ٣ اللوازم:

أوراق، أوراق رسم بياني، آلة حاسبة.

#### ٤ أسئلة حول التطبيق:

أ ضع جدولاً يبين المسافات التي تقطعها على دراجتك مستخدماً تروسات مختلفة، ولمدة زمنية ثابتة وعلى الطريق نفسها.

ب أعد التجربة واختر طريقاً غير مسطحة (صعوداً ثم نزولاً).

ج اسأل أحد المحال التجارية عن خصائص الدراجات التي يستخدمها الرياضيون في السباقات وقارنها بخصائص الدراجة التي قدتها.

د التقرير: ضع تقريراً مفصلاً تبين فيه كيف استفدت من النسب والتناسب في تنفيذ المشروع.



| التغير العكسي | التغير الطردي | النسبة والتناسب |
|---------------|---------------|-----------------|
| ٣-٤           | ٢-٤           | ١-٤             |

#### دروس الوحدة

|   |   |                  |                |       |
|---|---|------------------|----------------|-------|
| x | 0 | $\frac{2\pi}{3}$ | 0              | $\pi$ |
| y | + | -                | $-\frac{3}{4}$ | 0     |

$$y = \frac{3x^2 + 2x(x^3 - 2)}{4x^2}$$

# الوحدة الرابعة

## أين أنت الآن (المعارف السابقة المكتسبة)

- تعلمت تمثيل العلاقات بيانياً باستخدام المتغيرات.
- استكشفت أنماط الدوال.
- تعرفت طرائق حل معادلات ومتباينات من الدرجة الأولى بمتغير واحد أو بمتغيرين.

## أضف إلى معلوماتك

الجبر كلمة عربية استخدمها محمد بن

موسى الخوارزمي (القرن التاسع الميلادي

في عصر الخليفة العباسي المأمون) في كتابه

الذي ألفه وكان عنوانه «الجبر والمقابلة»

والذي وضع فيه طرقاً أصيلة لحل المعادلات،

وبذلك يعتبر الخوارزمي مؤسس علم الجبر

بعد أن كان الجبر جزءاً من الحساب. وقد

ترجم الكتاب إلى اللغات الأوروبية بعنوان

«الجبر» ومنها أخذ العلم «الجبر» (algebra)

هذا الاسم.

ويقول ابن الياصمين (أحد الرياضيين

الشعراء):

على ثلاثة يدور الجبر  $x^2 + 3x + 8 = 0$

المال والأعداد ثم الجذر  $6x^4 - 35x^3 + 62x^2 + 33x - 20 = 0$

فالمال كل عدد مربع وجذره واحد تلك الأضلع

والعدد المطلق ما لم ينسب  $6(x^2 + \frac{1}{x}) - 35(\frac{x^2}{x} + \frac{1}{x}) + 62 = 0$

للمال أو للجذر، فافهم تصب  $x^2 + \frac{1}{x^2} = (x + \frac{1}{x})^2 - 2 = 23$

النسبة - مقياس الرسم - التناسب - التناسب المتسلسل (الهندسي) - التغير الطردي - التغير العكسي.

$$y = \frac{ax^2 + bx + c}{a^2x + b} = Y = \frac{x}{2} + \frac{4}{x}$$

$$\frac{24a^5bc^2 + x^4}{36a^2bc^3 \cdot x^3} = 0 \quad / \quad \frac{Mc \sum_4^{12}}{Ma^2 \cdot \frac{25 \cdot A5}{\{52 \cdot 6x^2\}}}$$

$$\frac{5^2m^2 - 3a^3 \cdot m}{2a^2b^3m^3 - 5a^2bm} = 0$$

$$1 + \frac{b}{a-b} = 1 + \frac{b}{a-b} = \frac{a-b+b}{a-b} = 0$$

$$a^2 + 1 = \frac{(a+1)^2 + (a-1)^2 - a^2 - 1}{a^2 - 1} = 32$$

$$\frac{2}{AB} = \frac{1}{AC} + \frac{1}{AD} = \frac{AC+AD}{AC \cdot AD} = \frac{1}{AB} = \frac{Am}{AC \cdot AD}$$

## ماذا سوف تتعلم؟

- النسبة والتناسب واستخدامهما في حل مسائل حياتية.
- خواص التناسب المتسلسل.
- التغير الطردي.
- التغير العكسي.

## المصطلحات الأساسية

النسبة - مقياس الرسم - التناسب - التناسب المتسلسل (الهندسي) - التغير الطردي - التغير العكسي.

## Ratio and Proportion

## دعنا نفكر ونتناقش

## سوف تتعلم

- خواص التناسب
- تمارين وتطبيقات هندسية
- خواص التناسب المتسلسل

تعلم أن النسبة هي مقارنة بين كميتين من النوع نفسه يمكن تمثيلها بكسر. فمثلاً: النسبة بين العدد ٣ (الحد الأول)، والعدد ٤ (الحد الثاني) هي  $\frac{٣}{٤}$  ويمكن التعبير عن هذه النسبة بالصورة ٣:٤ وتُقرأ ٣ إلى ٤.

## مثال (١)

## تذكر:

$$١ \text{ كم} = ١٠٠٠٠٠٠ \text{ سم}$$

إذا كانت المسافة بين الكويت العاصمة والرياض هي ٥٥٠ كم، وكانت هذه المسافة ممثلةً في إحدى الخرائط بقطعة مستقيمة طولها ١١ سم. أوجد مقياس الرسم، ثم أوجد النسبة بين الطول على الخريطة والمسافة الحقيقية.

الحل:

$$\text{مقياس الرسم} = \frac{\text{المسافة على الخريطة}}{\text{المسافة الحقيقية}}$$

$$\frac{١١ \text{ سم}}{٥٥٠٠٠٠٠٠ \text{ سم}} = \frac{١١ \text{ سم}}{٥٥٠ \text{ كم}}$$

حيث إن الكميتين من النوع نفسه يمكن كتابتها كنسبة بالصورة:

$$٥٥٠٠٠٠٠٠ : ١١ = \frac{١١}{٥٥٠٠٠٠٠٠}$$

## حاول أن تحل

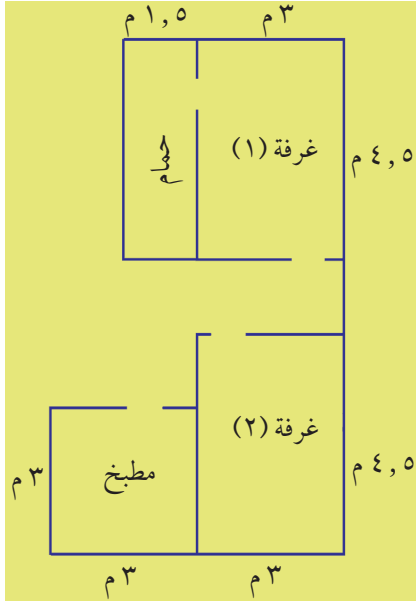
- ١ استخدم المقياس على الخريطة لإيجاد المسافة الحقيقية بين الدمام والكويت العاصمة.



## عمل تعاوني

١ رسم مهندس معماري مخططاً لإحدى الشقق كما بالشكل التالي. اشترك مع أحد زملائك في الآتي:

أ أوجد بالقياس الأطوال من الرسم، ثم أكمل الجدول التالي:



| الطول الحقيقي بالسم | الطول الحقيقي بالمتر | الطول في الرسم بالسم |          |
|---------------------|----------------------|----------------------|----------|
|                     |                      |                      | غرفة (١) |
|                     |                      |                      | غرفة (٢) |
|                     |                      |                      | المطبخ   |
|                     |                      |                      | الحمام   |

ب أوجد مقياس الرسم  سم:  م

ج أوجد النسبة بحيث يكون البسط والمقام بالوحدات نفسها، واختصر النسبة لأبسط صورة.

### التناسب:

هو تساوي نسبتين أو أكثر.

$$\text{فمثلاً: } \frac{3}{4} = \frac{12}{16} = \frac{15}{20} = \dots$$

ويمكن كتابة ذلك كالتالي:  $4:3 = 16:12 = 20:15 = \dots$

وتقرأ ٣ إلى ٤ هي نفسها ١٢ إلى ١٦ هي نفسها ١٥ إلى ٢٠ ...

### خاصية التساوي:

ليكن  $a, b, c, d$ ،  $c \neq 0$ ،  $d \neq 0$ ،  $a \neq 0$ ،  $b \neq 0$ .

$$\text{إذا كان } \frac{a}{b} = \frac{c}{d} \text{ فإن } \frac{a}{c} = \frac{b}{d} \text{ ، } \frac{a}{d} = \frac{b}{c} \text{ ، } \frac{a}{b} \times \frac{d}{d} = \frac{c}{d} \times \frac{d}{d}$$

فمثلاً:

نعلم أن  $\frac{3}{4} = \frac{15}{20}$  بضرب الطرفين في ٢ نجد أن:

$$2 \times \frac{3}{4} = 2 \times \frac{15}{20}$$

$$\frac{3}{2} = \frac{15}{10} \text{ أي أن } \frac{3}{2} = \frac{15}{10}$$

### تذكر:

$\mathbb{C}^*$  هي مجموعة الأعداد الحقيقية غير الصفرية

$$\mathbb{C}^* = \mathbb{C} - \{0\}$$

الرمز  $\ni$  يقرأ ينتمي



### مثال (٢)

إذا كان  $\frac{5}{9} = \frac{أ}{٦}$  فأوجد قيمة أ.

$$\text{الحل: } \frac{أ}{9} = \frac{5}{6}$$

$$\frac{أ}{9} \times ١٨ = \frac{5}{6} \times ١٨$$

$$١٢ = ١٥$$

$$\frac{١٥}{١٢} = أ$$

$$أ = ٧,٥$$

بضرب الطرفين في ١٨ (م.م للعددين ٦، ٩)

بالتبسيط

بقسمة الطرفين على ٦

### حاول أن تحل

٢ إذا كان  $\frac{٤}{6} = \frac{ص}{9}$  فأوجد قيمة ص.

### خاصية الضرب التقاطعي

إذا كان  $\frac{أ}{ب} = \frac{ج}{د}$  فإن  $أد = ب ج$

$$\frac{أ}{ب} = \frac{ج}{د}$$

فمثلاً:  $\frac{3}{4} = \frac{١٢}{١٦}$  من ذلك نجد أن:

$$٣ \times ١٦ = ٤ \times ١٢$$

$$٤٨ = ٤٨ \text{ عبارة صحيحة}$$

### مثال (٣)

أوجد قيمة ص في التناسب:  $\frac{3}{4} = \frac{ص}{2,5}$

الحل:

$$2,5 \times 3 = 4 \times ص$$

$$7,5 = 4 \times ص$$

$$\frac{7,5}{4} = ص$$

$$ص = 1,875$$

ضرب تقاطعي

بقسمة الطرفين على ٤

### حاول أن تحل

٣ أوجد قيمة ب في التناسب:  $\frac{8}{20} = \frac{2}{ب}$

### تعريف:

إذا كان  $\frac{ا}{ب} = \frac{ج}{د}$  فإنه يقال أن ا، ب، ج، د أعداد متناسبة.

وإذا كانت ا، ب، ج، د متناسبة فإن  $\frac{ا}{ب} = \frac{ج}{د}$

ويسمى ا، د طرفي التناسب، كما يسمى ج، ب وسطي التناسب. ولأن في هذه الحالة ا د = ب ج خاصية الضرب التقاطعي فإن: حاصل ضرب الطرفين = حاصل ضرب الوسطين.

### مثال (٤)

أثبت أن ٤، ١، ٥، ٨، ٣ أعداد متناسبة.

الحل:

تكون الأعداد ٤، ١، ٥، ٨، ٣ أعدادًا متناسبة عندما  $\frac{8}{3} = \frac{4}{1,5}$

باستخدام الضرب التقاطعي

$$8 \times 1,5 = 3 \times 4$$

$$12 = 12$$

∴ الأعداد متناسبة

عبارة صحيحة

### حاول أن تحل

٤ أثبت أن ٤، ٣، ٧، ٠٤، ٢، ٢، ٤ أعداد متناسبة.

## مثال (٥)

### تطبيقات حياتية

#### تذكر:

$$\frac{\text{قيمة التغير}}{\text{القيمة الأصلية}} \times 100 = \text{النسبة المئوية للتغير}$$

عندما تتزايد القيمة فإنها تدعى النسبة المئوية للزيادة،  
وعندما تتناقص القيمة فإنها تدعى النسبة المئوية للتناقص.

الزراعة: في عام ٢٠١١، أنتجت إحدى مزارع الوفرة في دولة الكويت ٢٦٥٠ طنًا من الطماطم. وفي عام ٢٠١٢، أنتجت المزرعة نفسها ٢٧٨٢,٥ طنًا من الطماطم. احسب النسبة المئوية للزيادة في إنتاج هذه المزرعة.

الحل:

الزيادة في الإنتاج تساوي: ٢٧٨٢,٥ - ٢٦٥٠ = ١٣٢,٥ طنًا

لتكن س النسبة المئوية للزيادة:

$$س = \frac{\text{قيمة التغير}}{\text{القيمة الأصلية}} \times 100$$

$$س = \frac{132,5}{2650} \times 100$$

$$س = 5$$

إذا النسبة المئوية للزيادة هي ٥، أي أن الزيادة تساوي ٥٪ من الإنتاج عن العام السابق.

### حاول أن تحل

٥ في العام ٢٠١١، كان إنتاج المزرعة نفسها ٥٥٠٠ طنًا من البطاطا أما في العام ٢٠١٢ فكان الإنتاج ٦٣٥٠ طنًا.

احسب النسبة المئوية لزيادة منتج البطاطا بين عامي ٢٠١١، ٢٠١٢ إلى أقرب جزء من مئة.



## مثال (٦) تطبيقات حياتية

عند القيام بأنشطة رياضية فإن الشخص يفقد سرعات حرارية تتناسب تقريباً مع وزنه. والجدول المجاور يبين ذلك لشخص وزنه ٦٥ كجم، عند قيامه بالنشاطات المذكورة لمدة ٦٠ دقيقة. قام هذا الشخص بأحد هذه الأنشطة لمدة ٨٠ دقيقة. اكتب تناسباً تستطيع بواسطته أن تحسب عدد السرعات الحرارية التي يفقدها (بالتقريب).

| السرعات المحروقة | النشاط لمدة ٦٠ دقيقة |
|------------------|----------------------|
| ٣٠٠              | المشي بسرعة ٤-٥ كم/س |
| ٥٠٠              | السباحة أو التزلج    |
| ٤٠٠              | لعبة كرة قدم         |

الحلّ: عند المشي ٦٠ دقيقة يحرق ٣٠٠ سرعة حرارية عند المشي ٨٠ دقيقة يحرق س سرعة حرارية

$$\text{أي أن } \frac{٨٠}{٦٠} = \frac{س}{٣٠٠}$$

$$\text{باستخدام الضرب التقاطعي} \quad ٨٠ \times ٣٠٠ = ٦٠ \times س$$

$$\frac{٨٠ \times ٣٠٠}{٦٠} = س$$

$$س = ٤٠٠ \text{ سرعة حرارية تقريباً}$$

وبالمثل السباحة:  $\frac{٨٠}{٦٠} = \frac{س}{٥٠٠}$  ، س = ٦٦٧ سرعة حرارية تقريباً.

وبالمثل كرة القدم:  $\frac{٨٠}{٦٠} = \frac{س}{٤٠٠}$  ، س = ٥٣٣ سرعة حرارية تقريباً.

## حاول أن تحل

٦ إذا مارست رياضة كرة السلة لمدة ٢٠ دقيقة، تفقد ٣٠٠ سرعة. اكتب تناسباً تستطيع بواسطته أن تحسب عدد السرعات الحرارية التي تفقدها إذا مارست هذه الرياضة لمدة ٥٠ دقيقة.

## Geometric Proportion

## ١ - التناسب المتسلسل الهندسي

إذا كان  $\frac{ب}{ج} = \frac{د}{هـ}$  فإنه يقال إن د، ب، ج، هـ في تناسب متسلسل (أو تناسب هندسي)

وبالعكس: إذا كانت د، ب، ج، هـ في تناسب متسلسل فإن:  $\frac{ب}{ج} = \frac{د}{هـ}$

ويسمى ب الوسط المتناسب للعدد د، ج، هـ أو الوسط الهندسي لهما كما يسمى د، ج طرفي التناسب.

فمثلاً: ٢، ٤، ٨ في تناسب متسلسل لأن  $\frac{٤}{٢} = \frac{٨}{٤}$ .  
ولاحظ أن ٤، ٨، ٢ كذلك في تناسب متسلسل لأن  $\frac{٨}{٤} = \frac{٢}{٨}$ .

إذا كان  $ل$ ،  $ب$ ،  $ج$   $\exists$  ح\* في تناسب متسلسل فإن  $ج$ ،  $ب$ ،  $ل$  في تناسب متسلسل أيضًا.

### مثال (٧)

أثبت أن ٣، ٩، ٢٧ في تناسب متسلسل.

الحلّ:

$$\frac{1}{3} = \frac{9 \div 9}{9 \div 27} = \frac{9}{27}, \frac{1}{3} = \frac{3}{9}$$

$$\frac{9}{27} = \frac{3}{9} \text{ إذاً}$$

أي أن ٣، ٩، ٢٧ في تناسب متسلسل.

### حاول أن تحل

٧ اكتب ٣ أعداد في تناسب متسلسل.

### مثال (٨)

إذا كانت الأعداد ٥، س، ٢٠ في تناسب متسلسل، أوجد قيمة س.

الحل: نكتب التناسب المتسلسل:  $\frac{س}{20} = \frac{5}{س}$

الضرب التقاطعي

$$س^2 = 100$$

$$س = 10 \text{ أو } س = -10$$

التحقق:

$$\begin{array}{l} س = -10 \\ \frac{س}{20} = \frac{5}{س} \\ \frac{-10}{20} = \frac{5}{-10} \\ \checkmark 100 = 100 \end{array}$$

$$\begin{array}{l} س = 10 \\ \frac{س}{20} = \frac{5}{س} \\ \frac{10}{20} = \frac{5}{10} \\ \checkmark 100 = 100 \end{array}$$

### حاول أن تحل

٨ هل يمكن إيجاد قيمة س بحيث يكون -٩، س، ٤ في تناسب متسلسل؟ فسر.

### خواص التناسب المتسلسل

#### خاصية (١)

ليكن  $ا، ب، ج \in ح^*$

إذا كان  $\frac{ب}{ج} = \frac{ا}{ب}$  (أي أن  $ا، ب، ج$  في تناسب متسلسل)

فإن  $ب^2 = ا \cdot ج$  وذلك من خاصية الضرب التقاطعي

فمثلاً: في حالة ٣، ٩، ٢٧ نجد أن:

$$٣(٩) = ٢٧ \times ٣ \quad (\text{كل من الطرفين يساوي } ٨١)$$

### خواص التناسب المتسلسل

#### خاصية (٢)

ليكن  $ا، ب، ج، د \in ح^*$

إذا كان:

$\frac{ب}{ج} = \frac{ا}{ب} = \frac{د}{ج} = م$  (أي أن  $ا، ب، ج، د$  في تناسب متسلسل)

فإن:

$$ج \times د = م^2, \quad ب \times د = م^2, \quad ا \times د = م^2$$

فمثلاً: في حالة  $\frac{١٦}{٨} = \frac{٤}{٢} = \frac{٤}{٢} = ٢$  نجد أن:

$$٢ \times ٢ = ٤, \quad ٢(٢) \times ٢ = ٨, \quad ٢(٢) \times ٢ = ٨$$

#### مثال (٩)

إذا كانت الأعداد ٦، س، ٥٤، ١٦٢ في تناسب متسلسل، أوجد قيمة س.

الحل:

$$\text{نكتب التناسب: } \frac{٥٤}{١٦٢} = \frac{٦}{س}$$

الضرب التقاطعي

$$١٦٢ \times ٦ = ٥٤ \times س$$

$$١٨ = \frac{١٦٢ \times ٦}{٥٤} = س$$

$$\text{قيمة س} = ١٨$$

#### حاول أن تحل

٩ إذا كانت الأعداد ٤، س - ٢، س - ٣، ٣ في تناسب متسلسل، أوجد قيمة س.

### مثال (١٠)

إذا كان أ، ب، ج، د في تناسب متسلسل، أثبت أن

$$\frac{أ}{ب} = \frac{أ+ب+ج}{ب+ج+د}$$

الحل:

: أ، ب، ج، د في تناسب متسلسل

$$\therefore \frac{أ}{ب} = \frac{ب}{ج} = \frac{ج}{د} = م$$

تناسب متسلسل

إذا: ج = د × م، ب = د × م<sup>٢</sup>، أ = د × م<sup>٣</sup>

$$\frac{أ}{ب} = م = \frac{د(١+م+م^٢)}{د(١+م+م^٢)} = \frac{د(١+م+م^٢)}{د(١+م+م^٢)} = \frac{أ+ب+ج}{ب+ج+د}$$

حل آخر: من التناسب السابق أ = ب × م، ب = ج × م، ج = د × م

$$\frac{أ}{ب} = م = \frac{م(ب+ج+د)}{ب+ج+د} = \frac{ب+ج+د}{ب+ج+د} = \frac{أ+ب+ج}{ب+ج+د}$$

### حاول أن تحل

١٠ إذا كان أ، ب، ج في تناسب متسلسل

$$\text{فأثبت أن: } \frac{أ-٢ب}{ب-٢ج} = \frac{أ+٣ب}{ب+٣ج} \text{ (بشرط المقام } \neq ٠ \text{)}$$

### معلومة مفيدة:

ليكن أ، ب، ج، د  $\exists$  ح\*

١ إذا كان أ، ب، ج، د أعدادًا متناسبة، فإن  $\frac{أ}{ب} = \frac{ج}{د}$

٢ إذا كانت أ، ب، ج، د في تناسب متسلسل،

$$\text{فإن } \frac{أ}{ب} = \frac{ب}{ج} = \frac{ج}{د} = م$$

### مثال (١١)

تشارك سالم ومنصور بتنفيذ أعمال الدهان. إن نسبة الوقت الذي أمضياه في العمل هي ٧:٤. قبضاً معاً ٨٨ ديناراً. كيف سيتوزع هذا المبلغ بينهما إذا عمل سالم وقتاً أطول من منصور؟

الحل:

لتكن س حصة سالم، م حصة منصور من المبلغ.

كتابة التناسب

$$\frac{7}{4} = \frac{س}{م}$$

$$1 + \frac{7}{4} = 1 + \frac{س}{م}$$

$$\frac{4+7}{4} = \frac{م+س}{م}$$

$$\frac{11}{4} = \frac{٨٨}{م}$$

$$٣٢ = \frac{٨٨ \times 4}{11} = م$$

$$س = ٥٦ = ٣٢ - ٨٨$$

ينال سالم ٥٦ ديناراً، وينال منصور ٣٢ ديناراً.

حاول أن تحل

١١ في مثال ١١، كيف سيتوزع المبلغ بين سالم ومنصور إذا كانت نسبة الوقت ٥:٣ وإذا عمل منصور أكثر من سالم؟





## التغير الطردي

### Direct Variation

#### سوف تتعلم

- التغير
- التغير الطردي
- دالة التغير الطردي
- ثابت التغير الطردي
- معدل التغير الطردي

#### دعنا نفكر ونتناقش

#### ١ - التغير

التغير هو ظاهرة طبيعية في الحياة نلمسها ونشاهدها في العديد من المواقف والأشياء. فمثلاً:

- درجات الحرارة تتغير بالارتفاع والانخفاض في اليوم الواحد وفي الفصول المختلفة.
- وزن الطفل يتغير ويزداد مع نموه.
- الزمن يتغير مع توالي الليل والنهار والأشهر والسنين.
- الأسعار تتغير.
- حجم الغاز يتغير بتغير درجة حرارته.
- المسافة التي يقطعها جسم متحرك تتغير بمرور الزمن.

#### ٢ - تدريب

- ١ أذكر بعض الأشياء التي تتغير في حياتك.
- ٢ عدّد بعض الأشياء التي تتغير بسبب تغير أشياء أخرى.
- ٣ هل تتغير مساحة المربع بتغير طول ضلعه؟
- ٤ عدّد بعض الظواهر التي لا تتغير - أي الظواهر الثابتة.
- ٥ أذكر أمثلة لبعض الثوابت التي مرّت عليك في الرياضيات.

#### ٣ - التغير الطردي

##### مثال توضيحي: الصورة المتحركة في السينما

عندما تشاهد فيلمًا سينمائيًا عاديًا، فإن ٢٤ صورة فردية تسطع سريعًا على الشاشة كل ثانية. في ما يلي ثلاث طرائق لبيان العلاقة بين عدد الصور (أو الإطارات التي تعرض) وعدد الثواني:

##### الطريقة الثالثة

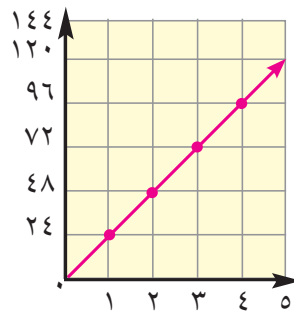
العلاقة بين عدد الصور (ص) وعدد الثواني (س) هي:

$$ص = ٢٤ س$$



##### الطريقة الثانية

الشكل المرسوم



##### الطريقة الأولى

الجدول

| ص         | س           |
|-----------|-------------|
| عدد الصور | عدد الثواني |
| ٢٤        | ١           |
| ٤٨        | ٢           |
| ٧٢        | ٣           |
| ٩٦        | ٤           |
| ١٢٠       | ٥           |

### معلومة مفيدة:

لتكن  $P(س_1, ص_1)$ ،  $B(س_2, ص_2)$  فإن ميل  $\overleftrightarrow{AB} = \frac{ص_2 - ص_1}{س_2 - س_1}$ ،  $س_1 \neq س_2$  وعندما يمر المستقيم بنقطة الأصل يصبح ميل المستقيم  $= \frac{ص}{س}$ ،  $س \neq 0$ .

من الطرائق الثلاث السابقة أجب عن التالي:

(أ) ما معدل التغير في البيانات المبينة في الجدول؟

(ب) ما ميل المستقيم في الشكل البياني؟

(ج) ما معامل  $س$  في العلاقة بين  $ص$ ،  $س$ ؟

ما العلاقة التي تلاحظها بين: معدل التغير، ميل المستقيم، معامل  $س$ ؟

- نلاحظ في هذا المثال أن عدد الصور يتغير مع عدد الثواني التي تظهر فيها. كلما زاد عدد الثواني زاد عدد الصور التي تعرض بالنسبة نفسها) وفي هذه الحالة نقول إن العلاقة تمثل تغيراً طردياً.

### التغير الطردي

هو دالة خطية يمكن أن تكتب بالصورة:  $ص = ك س$  حيث  $ك \neq 0$  ويسمى  $ك$  ثابت التغير أو ثابت التناسب أو معدل التغير. ويمكن التعبير عن العلاقة  $ص = ك س$  على الصورة  $ص = \alpha س$ .

### ملاحظات

- 1 الشكل البياني لمعادلة التغير الطردي  $ص = ك س$  هو خط مستقيم يمر بنقطة الأصل (انظر الشكل، في المثال التوضيحي).
- 2 يمكن كتابة المعادلة الخطية  $ص = ك س$  بالصورة:  $ك = \frac{ص}{س}$  حيث  $س \neq 0$ .
- 3 ثابت التغير  $ك =$  معدل التغير في البيانات التي تصف التغير.
- 4 الثابت  $ك =$  ميل الخط المستقيم الذي يمثل المعادلة بيانياً.
- 5 في حالة التغير الطردي فإن: ثابت التغير = معدل التغير = ميل المستقيم الممثل لمعادلة التغير.
- 6 التغير قد يكون بالزيادة أو بالنقصان.
- 7 إذا كانت  $ص = \alpha س$  فمعنى ذلك أن  $\frac{ص_2}{س_2} = \frac{ص_1}{س_1} = \frac{ص_2 - ص_1}{س_2 - س_1} = \frac{التغير في ص}{التغير في س}$

### تعميم:

إذا كانت  $ص$  تتغير طردياً مع  $س$  أي  $ص = \alpha س$  فإن:  $ص = ك س$  حيث  $ك$  ثابت لا يساوي الصفر والعكس صحيح.

### مثال (١)

إذا كانت ص  $\alpha$  س وكانت ص = ٣٠ عندما س = ١٠، فأوجد قيمة ص عندما س = ٤٠، ثم مثل العلاقة بين س، ص بيانياً.

الحل: ∴ ص  $\alpha$  س

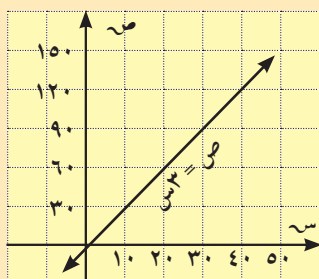
∴ ص = ك س

∴ ٣٠ = ك × ١٠

ك = ٣

∴ ص = ٣ س

عندما س = ٤٠ تكون ص = ٣ × ٤٠ = ١٢٠



|     |    |   |        |
|-----|----|---|--------|
| ٤٠  | ١٠ | ٠ | س      |
| ١٢٠ | ٣٠ | ٠ | ص = ٣س |

### حاول أن تحل

١ إذا كانت ص  $\alpha$  س وكانت ص = -٢٠ عندما س = ١٠، أوجد قيمة ص عندما س = ١٥ ثم مثل العلاقة بين س، ص بيانياً.

### موقف يمثل تغيراً طردياً (ثابت التغير سالب)

### مثال (٢)

في إحدى المناطق القطبية تنخفض درجة الحرارة بانتظام خلال الليل بمعدل ٣° في الساعة. اكتب معادلة تغيّر طردي تمثل هذا الانخفاض إذا كانت درجة الحرارة ٠° بعد غروب الشمس.

∴ درجة الحرارة تنخفض بانتظام

∴ معدل التغير = -٣

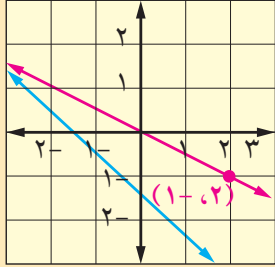
الحل: المعادلة هي ص = -٣س حيث ص درجة الحرارة، س عدد الساعات.

### حاول أن تحل

٢ لإعادة طلاء المنزل، عمل ٤ رجال لمدة ٣ أيام. هل المدة اللازمة لطلاء المنزل تتغيّر طردياً مع عدد الرجال العاملين؟

### مثال (٣)

في الشكل المقابل، أي من المستقيمين يمثل تغيرًا طرديًا؟ أوجد ثابت التغير في حالة التغير الطردي.  
الحل:



المستقيم الذي يمر بنقطة الأصل يمثل تغيرًا طرديًا بين س، ص وهو يمر بالنقطة (٢، ١).

$$\text{ثابت التغير يساوي } \frac{ص}{س} = \frac{١}{٢} = \frac{١}{٢}$$

المستقيم الثاني لا يمر بنقطة الأصل فهو لا يمثل تغيرًا طرديًا.

### حاول أن تحل

٣ هل المستقيم الذي يمر بالنقاط: ٢ (٣، -٢)، ٤ (٦، -٤) يمثل تغيرًا طرديًا بين س، ص. اشرح إجابتك

### مثال (٤)

أي من المعادلتين التاليتين تمثل تغيرًا طرديًا؟ أوجد ثابت التغير في حالة التغير الطردي.

$$\text{(أ) } ٥س + ٢ص = ٠ \quad \text{(ب) } ٥س + ٢ص = ٩$$

الحل:

$$\text{(أ) } ٥س + ٢ص = ٠ \quad \text{(ب) } ٥س + ٢ص = ٩$$

$$٢ص = -٥س$$

$$٢ص = -٥س + ٩$$

$$ص = -\frac{٥}{٢}س$$

$$ص = -\frac{٥}{٢}س + \frac{٩}{٢}$$

وهي على الصورة ص = ك س

وهذه ليست على الصورة

ص = ك س

هذه المعادلة تمثل تغيرًا طرديًا،

$$\text{حيث ثابت التغير } = -\frac{٥}{٢}$$

إذا هذه المعادلة لا تمثل تغيرًا طرديًا.

### حاول أن تحل

٤ أي من المعادلات التالية تمثل تغيرًا طرديًا؟ أوجد ثابت التغير في حالة التغير الطردي.

$$\text{(أ) } ٧ص = ٢س$$

$$\text{(ب) } ٨ = ٣س + ٤ص$$

$$\text{(ج) } ٥ - ٧س = ٠$$

## مثال (٥) تطبيقات حياتية

الطقس: الزمن الذي تستغرقه لسماع الرعد يتغير طردياً مع المسافة بينك وبين موقع البرق. فإذا كنت على مسافة ٣ كم من موقع البرق فإنك سوف تسمع الرعد بعد ١٠ ثوانٍ من رؤية البرق.

(أ) اكتب المعادلة التي تربط العلاقة بين المسافة والزمن.

(ب) أوجد المسافة بينك وبين موقع البرق إذا سمعت الرعد بعد ١٨ ثانية من رؤية البرق.

الحل:

(أ) لتكن  $s$  المسافة بالكيلومترات بينك وبين موقع البرق،

وليكن  $t$  الزمن بالثواني الذي يمر بين رؤية البرق وسماع الرعد.

بما أن الزمن يتغير طردياً مع المسافة

∴ معادلة التغير الطردي:

$$s = kt$$

$$\text{وحيث إن } s = 3, t = 10$$

$$3 = k \times 10$$

$$k = \frac{3}{10}$$

= ثابت التغير

∴ المعادلة هي:

$s = \frac{3}{10}t$  هي العلاقة المطلوبة

حيث  $s$  تقاس بالكيلومترات،  $t$  بالثواني.

$$(ب) s = \frac{3}{10}t$$

$$18 = \frac{3}{10}t$$

$$s = \frac{3 \times 18}{10} = 5,4$$

المسافة بيني وبين موقع البرق = ٥,٤ كيلومتر.



### مثال (٦)

البيولوجيا: تتغير كمية الدم في جسم الإنسان طرديًا مع وزنه. تبلغ كمية الدم في جسم رجل يزن ٧٥ كجم نحو ٥ لترات.  
(أ) أوجد ثابت التغيّر.

$$\text{ثابت التغيّر} = \frac{\text{كمية الدم}}{\text{الوزن}} = \frac{٥}{٧٥} = \frac{١}{١٥}$$

(ب) اكتب معادلة تربط العلاقة بين كمية الدم والوزن.

معادلة التغيّر الطردي

$$\text{كمية الدم} = \text{ثابت التغيّر} \times \text{الوزن}$$

$$\text{كمية الدم} = \frac{١}{١٥} \times \text{الوزن}$$

### حاول أن تحل

٥ السؤال المفتوح: قدر كمية الدم في جسمك.

### مثال (٧)

بيّن ما إذا كانت ص تتغيّر طرديًا مع س في كل من بيانات الجدولين أ، ب. اكتب معادلة التغيّر في حالة التغيّر الطرديّ.

|    |       |      |   |
|----|-------|------|---|
| ٤  | ١     | ٣-   | س |
| ٣- | ٠,٧٥- | ٢,٢٥ | ص |

(ب)

|   |   |    |   |
|---|---|----|---|
| ٦ | ٤ | ٢  | س |
| ٣ | ١ | ١- | ص |

(أ)

الحل:

|       |       |       |                             |   |
|-------|-------|-------|-----------------------------|---|
| ٤     | ١     | ٣-    | س                           | ب |
| ٣-    | ٠,٧٥- | ٢,٢٥  | ص                           |   |
| ٠,٧٥- | ٠,٧٥- | ٠,٧٥- | $\frac{\text{ص}}{\text{س}}$ |   |

|     |      |      |                             |   |
|-----|------|------|-----------------------------|---|
| ٦   | ٤    | ٢    | س                           | أ |
| ٣   | ١    | ١-   | ص                           |   |
| ٠,٥ | ٠,٢٥ | ٠,٥- | $\frac{\text{ص}}{\text{س}}$ |   |

• الجدول (ب) يمثل تغيّرًا طرديًا حيث ثابت التغيّر يساوي ٠,٧٥-. معادلة التغيّر هي ص = ٠,٧٥- س.

• الجدول (أ) لا يمثل تغيّرًا طرديًا لأن  $\frac{\text{ص}}{\text{س}}$  ليست ثابتة لكل البيانات.

تفكير ناقد: هل كل معادلة خط مستقيم تعبر عن تغيّر طرديّ؟ فسر إجابتك.

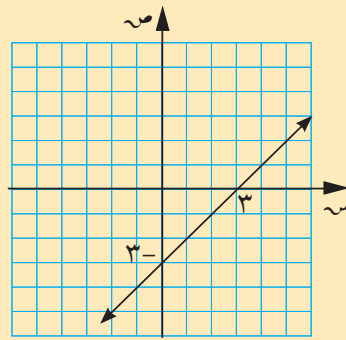
الحل:

لا: ليست كل معادلة خط مستقيم تعبر عن تغيّر طرديّ.

معادلة التغيّر الطرديّ تكون بالصورة  $ص = ك س$ ، أي تمر بنقطة الأصل.

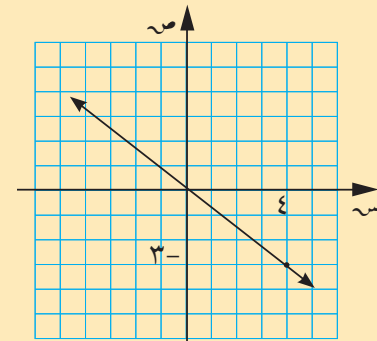
مثلاً: البيانات في الشكل (أ) تمثّل بالمعادلة  $ص = ٧٥ - ٠ س$ ، وهي معادلة تغيّر طرديّ، لأنها بالصورة  $ص = ك س$  بينما

البيانات في الشكل (ب) تمثّل بالمعادلة  $ص = ٣ - س$  وهي ليست بالصورة  $ص = ك س$ .



(ب)

معادلة خط مستقيم لا تمثّل تغيّرًا طرديًا



(أ)

معادلة خط مستقيم تمثّل تغيّرًا طرديًا

حاول أن تحل

٦ هل تتغيّر ص طرديًا مع س في الجدول:

|   |   |    |   |    |
|---|---|----|---|----|
| س | ١ | ١- | ٢ | ٣- |
| ص | ٣ | ١- | ٥ | ٥- |

### التعبير عن التغيّر الطردي

في التغيّر الطرديّ تكون النسبة  $\frac{ص}{س}$  ثابتة لكل زوج مرتّب حيث  $س \neq ٠$  في جميع الحالات. وبالتالي يمكن التعبير عن التغيّر

الطرديّ باستخدام التناسب.

فيكون:  $\frac{ص}{س} = \frac{٢}{١} = \frac{١}{٣} \dots$  لجميع الأزواج المرتبة  $(س_١, ص_١)$ ،  $(س_٢, ص_٢)$ .

حيث  $س_١ \neq ٠$ ،  $س_٢ \neq ٠$

وكل من هذه النسب تساوي ثابت التغيّر ك. (معدل التغيّر).

## مثال (٨) تطبيقات حياتية

الفيزياء: القوة التي تستخدمها لرفع جسم تتغير طردياً مع وزن الجسم. فأنت تحتاج إلى استخدام قوة قدرها ٠,٢٧٥ كجم/واط لتتمكن إحدى المعدات من رفع جسم وزنه ١٢ كجم. أوجد مقدار القوة اللازم استخدامه في هذه الآلة لرفع جسم وزنه ٤٥ كجم/واط.

الحل:

لنرمز إلى القوة بالرمز  $U$ ، وإلى وزن الجسم بالرمز  $W$ .

$U \propto W$  و

$$\frac{U_1}{W_1} = \frac{U_2}{W_2} \therefore$$

$$\frac{0,275}{12} = \frac{U}{45}$$

$$0,275 \times 45 = 12 \times U$$

$$U = \frac{0,275 \times 45}{12} = 1,03125 \text{ كجم/واط}$$

أي أنك تحتاج إلى كيلوجرام تقريباً لرفع ٤٥ كجم/واط.

حاول أن تحل

٧ أ) اكتب معادلة التغير الطردي للمثال السابق، واستخدمها لإيجاد الوزن الذي يمكن أن ترفعه باستخدام قوة قدرها ٣,٤ كجم/واط في الرافعة نفسها.



## التغير العكسي Inverse Variation

### سوف نتعلم

- التغير العكسي
- ثابت التغير العكسي
- دالة التغير العكسي
- مقارنة بين التغير الطردي والتغير العكسي

### عمل تعاوني

■ يرغب فريق من الشباب في استصلاح قطعة أرض لجعلها صالحة للزراعة، ويتطلب هذا العمل ١٦٠ يوم عمل. ويمكن لفريق مكون من ٢٠ شابًا أن يكملوا هذا العمل في ٨ أيام؛ فإذا استمر العمل بالمعدل نفسه:

١ كم يومًا يتطلب العمل إذا كان عدد أعضاء الفريق مكونًا من ٤٠ شخصًا؟

٢ أكمل الجدول التالي:

| عدد أعضاء الفريق (س) | عدد أيام العمل (ص) | س ص  |
|----------------------|--------------------|------|
| ٢                    | ٨٠                 | ١٦٠  |
| ٥                    | ٣٢                 | ١٦٠  |
| ٨                    | ....               | .... |
| ....                 | ١٦                 | .... |
| ٢٠                   | ٨                  | ١٦٠  |
| ٤٠                   | ....               | .... |



### هل تعلم؟

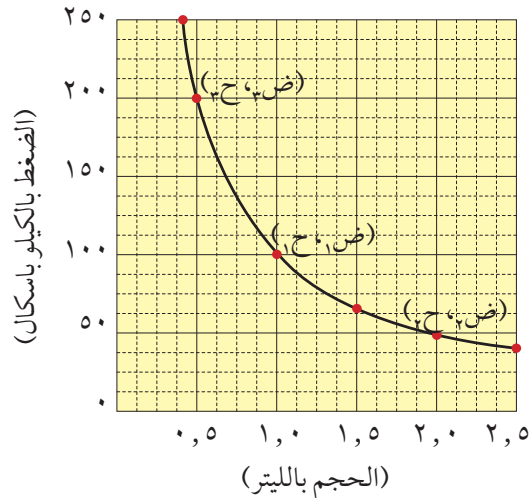
روبرت بويل (١٦٢٧-١٦٩١) عالم إيرلندي. درس العلاقة بين حجم الغاز وضغطه. اشتهر بقانونه: حجم الغاز × ضغط الغاز = مقدار ثابت.

يسمى القانون أيضًا قانون بويل ماريوت.

٣ يمثل الجدول العلاقة بين س، ص في هذا النوع من التغير.

٤ صف ما يحدث لعدد أيام العمل (ص) عندما يزداد عدد أعضاء الفريق (س).

٥ ماذا تلاحظ على حاصل الضرب س ص في هذا النوع من التغير؟



### قانون بويل

إن حاصل ضرب حجم الغاز وضغطه في وعاء يساوي مقدارًا ثابتًا.

$$ح \times ض = مقدار ثابت$$

في كل نقطة في الشكل المقابل حاصل الضرب ثابت.

## ١ - التغير العكسي

إذا تغيرت كمية س مع تغير كمية أخرى ص بحيث كان حاصل ضرب الكميتين ثابتاً، فإن هذا التغير يسمى تغيراً عكسياً. ويسمى حاصل الضرب س ص ثابت التغير، ويرمز إلى ذلك:

$$س ص = ك \text{ أو } ص = \frac{ك}{س}, ك \neq 0$$

ويمكن التعبير عن التغير العكسي بالصورة  $ص = \frac{1}{س} a$

ففي العمل التعاوني السابق نجد أن:

$$س ص = ١٦٠$$

$$\text{أي } ص = \frac{١٦٠}{س}$$

حيث ثابت التغير هنا هو ١٦٠.

### مثال (١)

أ) أكمل الجدول التالي الذي يعبر عن التغير العكسي  $س ص = ١٠٠$

|   |     |     |     |     |     |     |     |     |   |
|---|-----|-----|-----|-----|-----|-----|-----|-----|---|
| س | ١٠٠ | ٥٠  | ٢٠  | ١٠  | ٥   | ٤   | ٢   | ١   | س |
| ص | ... | ... | ... | ... | ... | ... | ... | ١٠٠ | ص |

الحل:

|   |     |    |    |    |    |    |    |     |   |
|---|-----|----|----|----|----|----|----|-----|---|
| س | ١٠٠ | ٥٠ | ٢٠ | ١٠ | ٥  | ٤  | ٢  | ١   | س |
| ص | ١   | ٢  | ٥  | ١٠ | ٢٠ | ٢٥ | ٥٠ | ١٠٠ | ص |

ب) كيف تتغير قيم ص مع زيادة قيم س في هذا الجدول؟

الحل: نلاحظ أن كلما تزايدت قيمة س، تتناقص قيمة ص.

تدريب ١

أ) اذكر ثابت التغير ك في التغيرات العكسية الممثلة بالأشكال البيانية.

الحل: ثابت التغير ١٢، ٦، ٢.

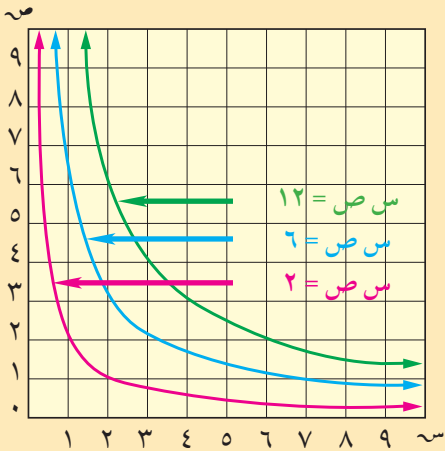
ب) اذكر ثلاث نقاط تقع على كل من الأشكال البيانية المبينة.

الحل:

أ) (١٢، ١)، ب) (٦، ٢)، ج) (٤، ٣)

د) (٦، ١)، هـ) (٣، ٢)، و) (٢، ٣)

ح) (٢، ١)، ط) (١، ٢)، ي) (٤، ٥)



## مثال (٢)

منطقة مستطيل مساحتها ٢٤ سم<sup>٢</sup>، وطولها س سم، وعرضها ص سم. إذا كان كل من س، ص أعدادًا كلية، فأوجد القيم الممكنة لـ س، ص ثم حدد نوع التغير الذي يمثل هذه العلاقة.

الحل:

|   |    |    |   |   |
|---|----|----|---|---|
| س | ٢٤ | ١٢ | ٨ | ٦ |
| ص | ١  | ٢  | ٣ | ٤ |

مساحة المستطيل = س ص = ٢٤

أي س ص = ثابت ونعبر عن ذلك رياضياً:

س × ص = ك  
 أي أن ص =  $\frac{ك}{س}$  ،  
 ∴ التغير عكسي.  
 ك ثابت  
 ص ∝  $\frac{١}{س}$

## حاول أن تحل

|   |    |    |    |    |    |    |
|---|----|----|----|----|----|----|
| س | ٢  | ٣  | ٤  | ٥  | ٦  | ١٠ |
| ص | ٣٠ | ٢٠ | ١٥ | ١٢ | ١٠ | ٦  |

١ بالنظر إلى الجدول أعلاه، هل س × ص يعبر عن تغيير عكسي؟ اشرح إجابتك.

٢ كوّن جدولاً من س، ص على أن يكون س ص يعبر عن تغيير عكسي.

**ملاحظة:** استخدام التناسب في التعبير عن التغير العكسي.  
 إذا كان (س<sub>١</sub>، ص<sub>١</sub>)، (س<sub>٢</sub>، ص<sub>٢</sub>) زوجين مرتبين في تغير عكسي.

$$ص_١ ∝ \frac{١}{س_١} ، \left( ص_٢ = \frac{ك}{س_٢} \right) \text{ فإن}$$

$$س_١ ص_١ = س_٢ ص_٢ = ك$$

$$\text{ومن ذلك نستنتج أن } \frac{ص_١}{س_١} = \frac{ص_٢}{س_٢}$$

في مثال العمل التعاوني السابق نجد أن:

$$٢ \times ٨٠ = ٥ \times ٣٢$$

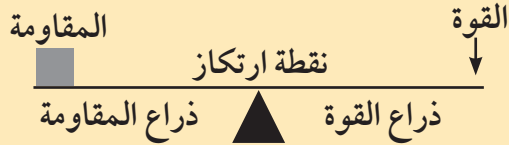
$$\text{ومن ذلك نرى أن: } \frac{٣٢}{٨٠} = \frac{٢}{٥} ، \frac{٣٢}{٢} = \frac{٨٠}{٥} ، \frac{٨٠}{٣٢} = \frac{٥}{٢} ، \dots$$

### مثال (٣)

### تطبيقات حياتية

#### معلومة فيزيائية: قانون الرافعة

ناتج ضرب القوة في المسافة العمودية بين نقطة تأثير القوة ونقطة الارتكاز (ذراع القوة) يساوي حاصل ضرب المقاومة في ذراع المقاومة.



الفيزياء: الوزن الذي تحتاج إليه لإحداث توازن في أرجوحة على شكل رافعة يتغير عكسيًا مع المسافة بين الوزن ونقطة الارتكاز. جاسم وزنه ٥١ كجم ويجلس على بعد ٢,٥ م من نقطة الارتكاز. أين يجلس وائل الذي وزنه ٧٥ كجم/ واط ليحدث التوازن؟

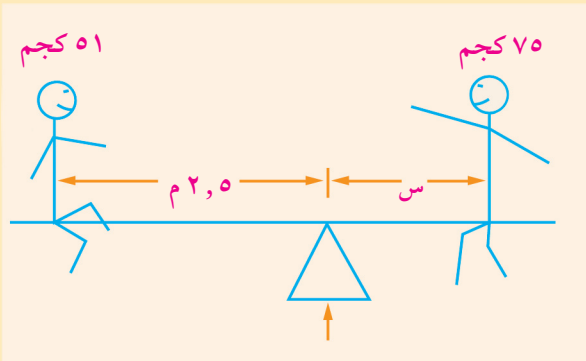
الحل:

من توازن الرافعة: الوزن<sub>١</sub> × المسافة<sub>١</sub> = الوزن<sub>٢</sub> × المسافة<sub>٢</sub>

$$٥١ \times ٢,٥ = ٧٥ \times س$$

$$س = \frac{٢,٥ \times ٥١}{٧٥} = ١,٧$$

أي أن وائل يجلس على مسافة ١,٧ م بعيدًا عن نقطة الارتكاز.



### حاول أن تحل

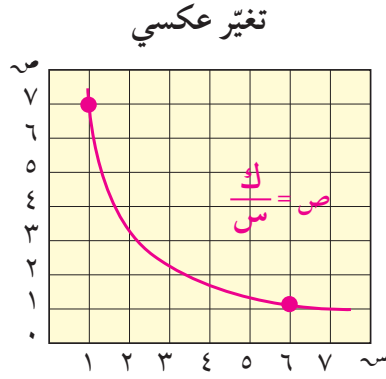
٣ أ في تغير عكسي ص  $\alpha \frac{1}{س}$  إذا كانت ص = ٢, ٠, عندما س = ٧٥. أوجد س عندما ص = ٣.

ب ما وزن جسم يوضع على مسافة ٣ م من نقطة ارتكاز رافعة، ليحدث توازنًا مع جسم وزنه ٤٠ كجم على بعد ٦ م من نقطة الارتكاز؟

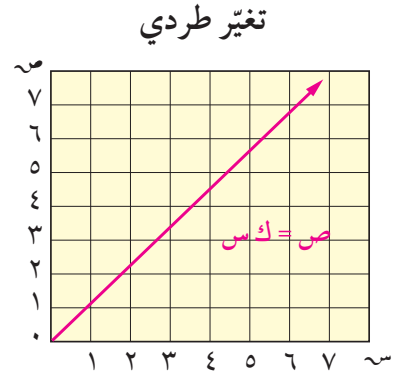
ج رحلة تستغرق ٣ ساعات عندما تسير السيارة بسرعة ٧٥ كم/ ساعة. كم تستغرق الرحلة إذا سارت السيارة بسرعة ٩٠ كم/ ساعة.

## ٢ - مقارنة بين التغير الطردبي والعكسي

يوضح الشكلان البيانيان التاليان الفرق بين التغير الطردبي والتغير العكسي.



$$\begin{aligned} \text{ص} &\propto \frac{1}{\text{س}} \\ \text{ص} &= \frac{\text{ك}}{\text{س}} \\ \text{ك} &= \text{س} \times \text{ص} \\ &= \text{ثابت التغير} \end{aligned}$$



$$\begin{aligned} \text{ص} &\propto \text{س} \\ \text{ص} &= \text{ك} \times \text{س} \\ \text{ك} &= \frac{\text{ص}}{\text{س}} \\ &= \text{ثابت التغير} \end{aligned}$$

### مثال (٤)

أي من بيانات الجدولين (أ)، (ب) يمثل تغيرًا طردبيًا؟ وأيها يمثل تغيرًا عكسيًا؟ اكتب المعادلة التي تمثل التغير في الحالتين:

ب

|   |   |    |    |
|---|---|----|----|
| س | ٢ | ٤  | ١٠ |
| ص | ٥ | ١٠ | ٢٥ |

أ

|   |    |    |    |
|---|----|----|----|
| س | ٥  | ١٠ | ٢٥ |
| ص | ٢٠ | ١٠ | ٤  |

الحل:

أ نلاحظ أن  $\frac{\text{ص}}{\text{س}}$  ليست ثابتة.

نبحث س ص نجد أن

$$\text{س} \times \text{ص} = 20 \times 5 = 100 = 10 \times 10$$

$$= 4 \times 25 = 100 = \text{ثابت}$$

إذا التغير هنا تغير عكسي معادلته  $\text{س} \times \text{ص} = 100$

ب نبحث عن النسب  $\frac{\text{ص}}{\text{س}}$  في جميع الحالات نجد أن:

$$\frac{\text{ص}}{\text{س}} = \frac{20}{5} = \frac{10}{10} = \frac{4}{2} = 2$$

وهي نسبة ثابتة = ٢, ٥

إذا التغير هنا طردبي معادلته  $\text{ص} = 2, 5 \times \text{س}$

## حاول أن تحل

- ٤ بيّن نوع التغيّر المناسب للموقف في كل من الحالات التالية، ثم اكتب رقم المعادلة التي تمثله:
- ١ المبلغ الذي يأخذه كل شخص عند توزيع مبلغ ١٠٠ دينار على عدة أشخاص بالتساوي.
  - ٢ تكلفة شراء عدد من الأقلام علمًا أن ثمن القلم ٢٠ فلسًا.
  - ٣ أنت تمشي ٥ كم كل يوم. سرعتك في المشي والزمن يتغيّران من يوم إلى يوم.
  - ٤ عدد من الأشخاص يشترون هدايا تذكارية سعر الواحدة ٥ دنانير.
- أ ص = ٥ س  
ب س ص = ٥  
ج ص =  $\frac{١٠٠}{س}$   
د ص = ٢٠ س

## مثال (٥) تطبيقات حياتية

موسيقى: لإحداث طبقات مختلفة في السلم الموسيقي تستخدم القيثارة العلاقة:  
«تردد اهتزازات الوتر (ف) يتغيّر عكسيًا مع طول الوتر (ل)».  
أوجد أطوال الوتر للسلم الموسيقي المبين بالجدول. (لأقرب مليمتر)



| الطبقة                | ج   | د   | و   | هـ  | ح   | پ   | ب   | ج    |
|-----------------------|-----|-----|-----|-----|-----|-----|-----|------|
| التردد (الدورة/ث)     | ٥٢٣ | ٥٦٧ | ٦٥٩ | ٦٩٨ | ٧٨٤ | ٨٨٠ | ٩٨٨ | ١٠٤٦ |
| طول الوتر (بالمليمتر) | ٤٢٠ |     |     |     |     |     |     |      |

الحل:

| الطبقة                | ج   | د   | و   | هـ  | ح   | پ   | ب   | ج    |
|-----------------------|-----|-----|-----|-----|-----|-----|-----|------|
| التردد (الدورة/ث)     | ٥٢٣ | ٥٦٧ | ٦٥٩ | ٦٩٨ | ٧٨٤ | ٨٨٠ | ٩٨٨ | ١٠٤٦ |
| طول الوتر (بالمليمتر) | ٤٢٠ | ٣٨٧ | ٣٣٣ | ٣١٥ | ٢٨٠ | ٢٥٠ | ٢٢٢ | ٢١٠  |

## حاول أن تحل

- ٥ هندسة: خصصت قطعة أرض لبناء مجمعين سكنيين لهما المساحة نفسها، كل منهما على شكل مستطيل:  
أبعاد القطعة الأولى ٤٢ م × ٣٥ م، فإذا كان طول القطعة الثانية ٥ م، فاحسب عرضها.

## المرشد لحل المسائل

يباع الحجر المصنوع من الإسمنت المعد سلفاً ويوزع في شاحنات تتسع كل منها لـ ٨,٥ م<sup>٣</sup>.  
أبعاد حجر الأسمنت المعتمدة هي ١٥ سم، ١٨ سم، ٢٠ سم.  
يريد جاسم تغطية رقعة مساحتها ٢٨٠ متراً مربعاً ويريد معرفة عدد الشاحنات اللازم للعملية.  
كيف فكر جاسم

- أ) كلما زاد عمق الرقعة المغطاة بالأسمنت قلت مساحتها. استنتج أن تغيّر عمق الرقعة مع تغيّر المساحة هو عكسي.  
ب) قام بوضع جدول يبيّن الأمتار المكعبة من الأسمنت اللازمة وفق كل عمق.  
إذا كان العمق ١٥ سم: ح =  $١٥ \times ٢٨٠ = ٤٢٠٠$  م<sup>٣</sup>.  
يتغيّر عدد الشاحنات طردياً مع حجم الأسمنت:  $٤٢ \div ٨,٥ \approx ٨$  شاحنات.

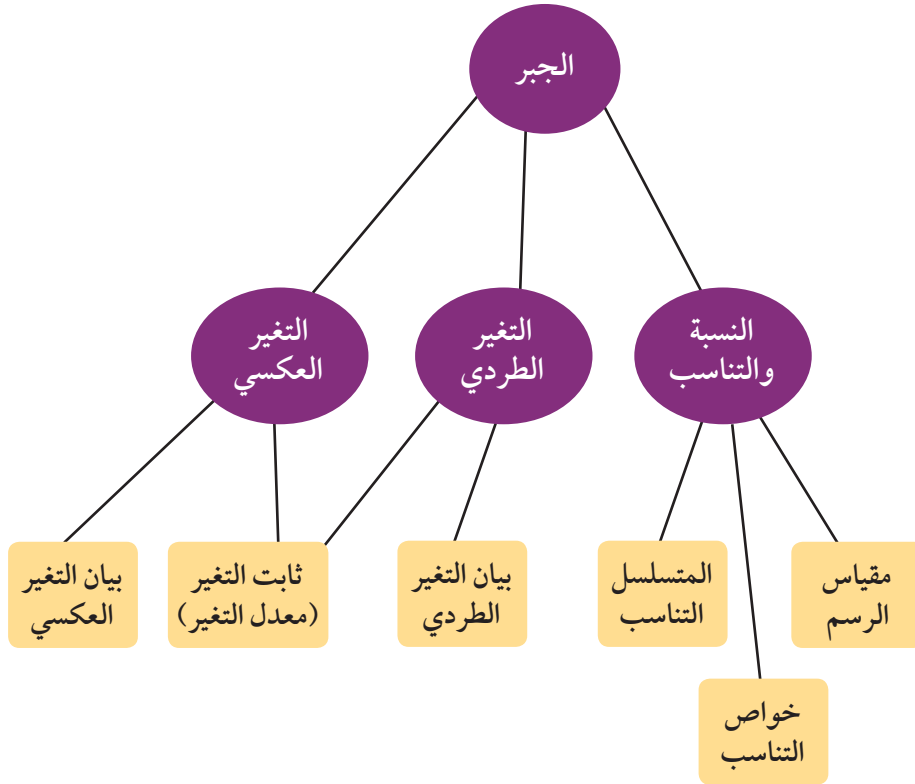
| العمق بالأمتار | الأمتار المكعبة | عدد الشاحنات |
|----------------|-----------------|--------------|
| ١٥,٠           | ٤٢              | ٥            |
| ١٨,٠           | ٥٠,٤            | ٦            |
| ٢٠,٠           | ٥٦              | ٧            |

استشار جاسم أحد مهندسي الإنشاءات فأفاده أن عمق ٢٠ سم غير ضروري، ولكن يجب أن لا يقل عن ١٥ سم.  
قرّر جاسم اعتماد عمق ١٨ سم.  
برأيك، هل اختيار جاسم موفق؟ وهل كمية حجر الاسمنت المتبقية كبيرة (تشكل هدراً للمال؟) فسّر.

### مسألة إضافية

- في أحد المهرجانات الرياضيّة، تقذف آلة كهربائية كراتاً إلى البعيد. تتغير المسافة التي تقطعها الكرة عكسياً مع وزنها.  
أ) يريد عبدالله قذف الكرة مسافة تزيد على ١٥٠ متراً بأقل وزن ممكن للكرة. وضع في الآلة كرة تزن ٢٠٠ جم فقذفها الآلة مسافة ١٢٠ م.  
ب) ما الوزن المناسب لكي تقطع الكرة مسافة تزيد على ١٥٠ متراً؟

## مخطط تنظيمي للوحدة الرابعة

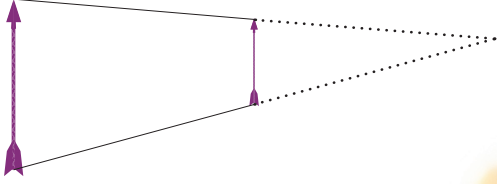


### ملخص

- النسبة هي علاقة بين عددين حقيقيين.
- مقياس الرسم هو النسبة بين الطول على الخريطة والمسافة الحقيقية.
- التناسب هو تساوي نسبتين أو أكثر.
- إذا كان  $\frac{أ}{ب} = \frac{ب}{ج}$  فإنه يقال إن أ، ب، ج في تناسب متسلسل.
- بيان التغير الطردي هو دالة خطية تكتب بالصورة:  $ص = ك س$  حيث  $ك \neq ٠$ ، ك: ثابت التغير.
- في التغير الطردي: النسبة  $\frac{ص}{س}$  ثابتة لكل زوج مرتب (س  $\neq ٠$ ).
- إذا تغيرت كمية ص مع تغير كمية أخرى س بحيث كان حاصل ضرب الكميتين ثابتاً، فإن هذا التغير يسمى تغيراً عكسياً.
- في التغير العكسي:  $س_١ \times ص_١ = س_٢ \times ص_٢$  أو  $\frac{س_١}{ص_١} = \frac{س_٢}{ص_٢}$ .
- حاصل الضرب هو ثابت التغير أي  $ص \times س = ك$  (ثابت).



## المتاليات Sequences



مشروع الوحدة: استخدام المتتابعات في الرسوم الهندسية والتصاميم.

١ مقدمة المشروع: كل حد في متتالية فيبوناتشي يدعى عدد فيبوناتشي. في

العديد من النباتات والزهور والثمار عدد البتلات هو من إعداد فيبوناتشي.

٢ الهدف: دراسة بعض أنواع النباتات والزهور والثمار وتبيان توافق عدد بتلاتها

مع أعداد فيبوناتشي

٣ اللوازم: أوراق رسم بياني، آلة حاسبة، صور: زنبق، قزحية زهور على شكل نجمة، مخروط صنوبر، عباد الشمس.

٤ أسئلة حول التطبيق:

أ ابحث عن إحدى النباتات التي يتوافق نمو ساقها مع متتالية فيبوناتشي.

ضع مخططاً وجدولاً يبينان هذا التوافق.

ب ابحث عن بعض الزنبق وعشب الحوزان والقزحية والأقحوانات. اعرض هذه الصور وبين كيف أن عدد بتلات

كل منها هو عدد فيبوناتشي.

ج ابحث عن صورة لزهرة الأرام (PASSI FLORA) واعرض صورتها منالجهتين الأمامية والخلفية

بين أن أعداد مجموعتي بتلاتها الخضراء هي أعداد فيبوناتشي. كذلك من الجهة الخلفية بين العلاقة بين الأوراق



الخضراء والبتلات ومنتالية فيبوناتشي

د اعرض صورة لزهرة إشنسا فرقية Echinacea Purpura صورة لقرص عباد الشمس Sun Flower. بين توافق

المنحنيات الحلزونية مع أعداد فيبوناتشي.

ه اجمع بعض مخاريط الصنوبر. عدّ الحلزونات في الاتجاهين في كل مخروط. ماذا تلاحظ؟ وماذا عن ثمرة الأناناس؟

٥ التقرير: ضع تقريراً مفصلاً تبين فيه كيف استفدت من المتتاليات للإجابة عن الأسئلة وأنت تنفذ المشروع.



### دروس الوحدة

| المتاليات الهندسية | المتالية الحسابية | المتاليات |
|--------------------|-------------------|-----------|
| ٣-٥                | ٢-٥               | ١-٥       |

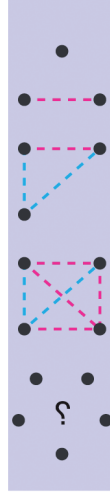


## الأنماط الرياضية المتتالية (المتابعات)

## Sequences

## سوف تتعلم

- النمط الرياضي
- المتتالية الحقيقية
- الحد النوني للمتتالية



ما أقل عدد من المكالمات الهاتفية يمكنك الحصول عليها بحيث يتحدث كل طالب من فصلك مع الآخر هاتفياً؟ (افتراض أن كل طالبين من الفصل يجري بينهما مكالمة هاتفية.) ثم أجب عن الأسئلة التالية باستخدام الشكل المجاور:

- ١ كم مكالمة يمكن أن تكون بين طالبين؟
- ٢ كم مكالمة يمكن أن تكون بين ٣ طلاب أو ٤ طلاب؟
- ٣ استخدم الشكل المجاور لتحديد عدد المكالمات الممكنة بين ٥ طلاب. ثم أكمل الجدول التالي:

| عدد الطلاب (ن)    | ١ | ٢ | ٣ | ٤ | ٥  |
|-------------------|---|---|---|---|----|
| عدد الاتصالات (م) | ٠ | ١ | ٣ | ٦ | ١٠ |

٤ النمط الرياضي: أي من الصيغ التالية تمثل النمط الموجود في الجدول السابق؟

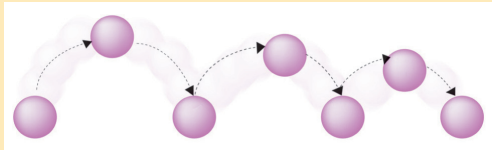
أ  $٣ - ٢ن = م$       ب  $٥ - (١ - ن) = م$       ج  $٢ = م \frac{ن(ن-١)}{٢}$

حيث ن عدد الطلاب، م عدد المكالمات

- ٥ أوجد عدد المكالمات م اللازمة لمجموعة من ٧ طلاب مستخدماً الصيغة الصحيحة.
- ٦ ما عدد المكالمات اللازم ليتحدث كل طلاب صفك مع بعضهم؟

## مثال (١)

سقطت كرة من ارتفاع ٥، ١٢ متر عن سطح الأرض وكانت ترتفع إلى ٨٠٪ من الارتفاع السابق في كل مرة نتيجة اصطدامها بالأرض. أحسب ارتفاع الكرة بعد الاصطدام الرابع.



الحل:

لارتفاع الأصلي ٥، ١٢ م.

- بعد الاصطدام الأول بالأرض يكون ارتفاع الكرة:  $٨, ٥ \times ٠, ٨ = ١٢$  أمتار.
  - بعد الاصطدام الثاني بالأرض يكون ارتفاع الكرة:  $٨, ١٠ \times ٠, ٨ = ٨$  أمتار.
  - بعد الاصطدام الثالث بالأرض يكون ارتفاع الكرة:  $٨, ٤ \times ٠, ٨ = ٦$  أمتار.
  - بعد الاصطدام الرابع بالأرض يكون ارتفاع الكرة:  $٨, ٤ \times ٠, ٨ = ٤$  أمتار.
- فيكون الارتفاع ١٢، ٥ م بعد الاصطدام الرابع للكرة بالأرض.
- لاحظ تتابع الارتفاعات (٥، ١٢، ٨، ٤، ٦، ٤، ٨، ١٠، ١٢، ٥، ...)

## حاول أن تحل

١ سقطت كرة من ارتفاع ١٠ أمتار. وكانت ترتفع إلى ٦٠٪ من الارتفاع السابق في كل مرة نتيجة اصطدامها بالأرض. احسب ارتفاع الكرة بعد الاصطدام الثالث.

**تدريب (١):** صف النمط التالي ثم أكمل بكتابة الجداول الثلاثة التالية

أ ٢، ٤، ٦، ٨، —، —، —

ب ٢٤، ٨١، ٢٧، ٩، —، —، —

مثل الأنماط الرياضية السابقة تسمى متتابعات ويمكننا إيجاد الجداول التالية باتباع قاعدة النمط. اعتبر متتالية الأعداد من (أ):

| الحد الأول     | الحد الثاني    | الحد الثالث    | الحد الرابع    | ... | الحد النوني    |
|----------------|----------------|----------------|----------------|-----|----------------|
| ح <sub>١</sub> | ح <sub>٢</sub> | ح <sub>٣</sub> | ح <sub>٤</sub> | ... | ح <sub>ن</sub> |

ويرمز إلى الحد النوني في المتتابعة بالرمز ح<sub>ن</sub> حيث ن ∈ ص<sub>+</sub> وهي تعبر عن رتبة الحد.

### تعريف:

المتتالية الحقيقية هي دالة حقيقية مجالها مجموعة الأعداد الصحيحة الموجبة جزئية مرتبة منها على الصورة {١، ٢، ٣، ٤، ...، م} حيث م ∈ ص<sub>+</sub> ومجالها المقابل مجموعة الأعداد الحقيقية ح.

**الملاحظة:** يمكن التعبير عن المتتالية بكتابة حدودها (ح<sub>١</sub>، ح<sub>٢</sub>، ح<sub>٣</sub>، ...) ويمكن الحصول على حدود المتتالية من صور عناصر مجال المتتالية.

### المتتالية المنتهية وغير المنتهية

#### مثال (٢)

لتكن الدالة ت: {١، ٢، ٣، ٤، ٥} ← ح حيث ت(ن) = ٢<sup>ن</sup> بين فيما إذا كانت هذه الدالة متتالية ثم أوجد حدودها.

الحل:

ت دالة مجالها مجموعة جزئية مرتبة من ص<sub>+</sub> وتبدأ بالعدد ١.

ت متتالية

حدود المتتالية هي: (١، ٤، ٩، ١٦، ٢٥)

### هل تعلم:

ليس من الضروري أن تكون جميع حدود المتتالية مختلفة. فمثلاً المتتابعة ٢، ٢، ٢، ... حيث ح<sub>ن</sub> = ٢ جميع حدودها متساوية وهذه تسمى متتابعة ثابتة.

### معلومة رياضية:

يستخدم الرمز (ح<sub>ن</sub>) للتعبير عن المتتابعة. بينما يعبر ح<sub>ن</sub> عن الحد النوني لهذه المتتابعة.

### ملاحظة:

في كل متتالية معرفة بالصيغة الارتدادية يجب إعطاء الحد الابتدائي (أو الحدود الابتدائية).

|    |    |   |   |   |      |
|----|----|---|---|---|------|
| ٥  | ٤  | ٣ | ٢ | ١ | ن    |
| ٢٥ | ١٦ | ٩ | ٤ | ١ | ت(ن) |

المتتالية في مثال (٢) تسمى متتالية منتهية لأنه يمكن حصر عدد حدودها.

### مثال (٣)

لتكن ت: ص + ← ح دالة معرفة بالقاعدة ت (ن) =  $\frac{1}{n}$   
بين فيما إذا كانت ت ممتالية ثم أوجد الحدود الثلاثة الأولى منها.

الحل:

ت دالة مجالها ص + ... ت متتابعة.

ت (١) = ١، ت (٢) =  $\frac{1}{2}$ ، ت (٣) =  $\frac{1}{3}$

أي أنه يمكن كتابة المتتالية على الصورة ١، ( $\frac{1}{2}$ ،  $\frac{1}{3}$ ، ...) المتتالية في مثال (٣) تسمى متتالية غير منتهية لأن مجالها ص +

### الصيغة الصريحة (الحد النوني للمتتالية) Explicit Formula

يمكنك أحياناً معرفة قيمة الحد في متتالية دون معرفة الحد الذي يسبقه. بدلاً منه يمكنك استخدام عدد الحدود لحساب قيمة الحد. الصيغة التي تعبر عن الحد النوني بدلالة ن تسمى صيغة صريحة.

### الصيغة الارتدادية (الحد العام للمتتالية) Recursive Formula

تعرف الصيغة الارتدادية حدود المتتالية بربط كل حد بالحد (أو بالحدود) الذي يسبقه مباشرة.

في مثال (١) كان النمط ارتدادياً لأن ارتفاع الكرة بعد كل اصطدام بالأرض يساوي ٨٠٪ من الارتفاع الذي يسبقه مباشرة. الصيغة الارتدادية التي تصف ارتفاع الكرة هي  $ح_n = ٠,٨ \times ح_{n-١}$  مع  $ح_١ = ١٢,٥$  حيث ن عدد طبيعي أكبر من ١.

### مثال (٤)

أ صف النمط الذي يسمح بإيجاد الحد التالي من المتتالية (٦، ١، -٤، -٩، ...)

ب أوجد الحدين الخامس والسادس (ح، ح) من هذه المتتالية.

الحل:

أ نحصل على أي حد من المتتالية بطرح ٥ من الحد الذي يسبقه مباشرة.

$$١ = ٦ - ٥، -٤ = ١ - ٥، -٩ = -٤ - ٥$$

الصيغة الارتدادية هي:  $ح_n = ح_{n-١} - ٥$  مع  $ح_١ = ٦$

$$\text{بما أن } ح_١ = ٦، ح_٢ = ٦ - ٥ = ١، ح_٣ = ١ - ٥ = -٤، ح_٤ = -٤ - ٥ = -٩، ح_٥ = -٩ - ٥ = -١٤، ح_٦ = -١٤ - ٥ = -١٩$$

### حاول أن تحل

٤ اكتب الصيغة الارتدادية (الحد العام) مما يلي ثم أوجد الحد التالي:

- أ (٢-، ١-، ٠، ١، ٢، ...) **أ**  
 ب (٤٣، ٤١، ٣٩، ٣٧، ٣٥، ...) **ب**  
 ج (٤٠، ٢٠، ١٠، ٥، ١/٥، ...) **ج**  
 د (١/٤، ١/٤، ١/٤، ١/٤، ...) **د**

### مثال (٥) الهندسة

يمثل الجدول التالي أطوال أضلاع المربعات ومحيطاتها.

| الحد           | ح <sub>١</sub> | ح <sub>٢</sub> | ح <sub>٣</sub> | ح <sub>٤</sub> | ح <sub>٥</sub> | ح <sub>٦</sub> | ح <sub>٧</sub> |
|----------------|----------------|----------------|----------------|----------------|----------------|----------------|----------------|
| طول ضلع المربع | ١              | ٢              | ٣              | ٤              | ٥              | ٦              | ...            |
| المحيط         | ٤              | ٨              | ١٢             | ١٦             | ٢٠             | ٢٤             | ...            |

- أ في كل متتالية، أوجد الحد التالي (ح<sub>٧</sub>) والحد الرابع والعشرون (ح<sub>٢٤</sub>).  
 ب اكتب صيغة صريحة لكل متتالية.

الحل:

- أ في المتتابة الخاصة بأطوال أضلاع المربع، كل حد يساوي قيمة رتبته. وبالتالي ح<sub>٧</sub> = ٧، ح<sub>٢٤</sub> = ٢٤.  
 في المتتابة الخاصة بالمحيط، كل حد يساوي أربعة أمثال قيمة رتبته. وبالتالي ح<sub>٧</sub> = ٧ × ٤ = ٢٨.  
 ح<sub>٢٤</sub> = ٢٤ × ٤ = ٩٦.  
 ب الصيغة الصريحة للمتتابة الخاصة بأطوال أضلاع المربع هي ح<sub>٧</sub> = ٧،  
 والصيغة الصريحة الخاصة بالمحيط هي: ح<sub>٧</sub> = ٤ × ٧.

### حاول أن تحل

- ٣ أ في مثال ٣ اكتب الحدود الستة الأولى للمتتالية التي تبين مساحة المربع.  
 ب اكتب الصيغة الصريحة لهذه المتتالية.

٤ اكتب الصيغة الصريحة (الحد النوني) لكل متتالية ثم أوجد ح<sub>١٢</sub>.

- أ (٤، ٧، ١٠، ١٣، ١٦، ...) **أ**  
 ب (٣، ٧، ١١، ١٥، ١٩) **ب**  
 ج (٢ ١/٢ -، ١ ١/٢ -، ٢ ١/٢ -) **ج**

### مثال (٦)

اكتب الصيغة الصريحة (الحد النوني) للمتتالية (٢، ٥، ١٠، ١٧، ٢٦، ...)  
الحل:

$$\begin{aligned} 1 + 2^1 &= 2 = \text{ح}_1 & 1 + 2^2 &= 5 = \text{ح}_2 \\ 1 + 2^3 &= 10 = \text{ح}_3 & 1 + 2^4 &= 17 = \text{ح}_4 \\ 1 + 2^5 &= 26 = \text{ح}_5 \end{aligned}$$

### حاول أن تحل

٦ اكتب الصيغة الصريحة (الحد النوني) للمتتالية (٠، ٣، ٨، ١٥، ٢٤، ...)

### مثال (٧)

صنع متتالية

- أ لإيجاد ضلع من «رقعة كوش» Kock snowflake، استبدل كل — ب . ارسم الأشكال الأربعة الأولى من النمط.  
ب اكتب عدد القطع في كل شكل من أ أعلاه على صورة متتالية.  
ج توقع الحد التالي من المتتالية. فسّر اختيارك.

الحل:

أ

ب في الشكل الأول قطعة واحدة (١)

في الشكل الثاني ٤ قطع (٤)

في الشكل الثالث ١٦ قطعة (١٦)

في الشكل الرابع ٦٤ قطعة (٦٤)

∴ المتتالية (١، ٤، ١٦، ٦٤، ...)

- ج كل حد يساوي ٤ أمثال الحد السابق. الحد التالي =  $64 \times 4 = 256$ . يوجد ٢٥٦ قطعة في الشكل التالي أي الحد الخامس من المتتالية = ٢٥٦.

### حاول أن تحل

٧ صف كل نمط وأوجد الحدود الثلاثة التالية.

ب ٢٤٣، ٨١، ٢٧، ٩، ...

أ ٢٧، ٣٤، ٤١، ٤٨، ...

## مثال (٨) متتالية فيبوناتشي Fibonacci Sequence

الصيغة الارتدادية لمتتالية فيبوناتشي هي:  $F_n = F_{n-1} + F_{n-2}$  مع  $F_1 = 1$ ،  $F_2 = 1$ .  
استخدم الصيغة لإيجاد الحدود الخمسة الأولى من المتتالية. واكتب المتتالية.

الحل:

$$F_1 = 1$$

$$F_2 = 1$$

$$F_3 = 1 + 1 = 2$$

$$F_4 = 1 + 2 = 3$$

$$F_5 = 2 + 3 = 5$$

(١، ١، ٢، ٣، ٥)

حاول أن تحل

٨ اختر عددين غير ١، ١ واكتب الحدود الخمسة الأولى لمتتالية مشابهة لمتتالية فيبوناتشي.

غالبًا ما نجد أعداد متتالية فيبوناتشي في الطبيعة.



الحد السادس



الحد الخامس



الحد الرابع



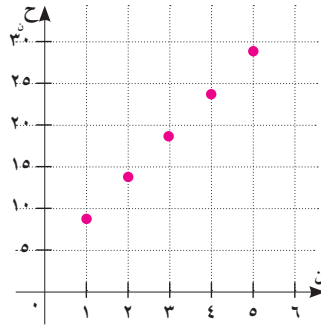
## المتالِيَّة الحسابِيَّة

### Arithmetic Sequence

#### سوف تتعلم

- المتتالية الحسابية وأساسها
- الحد النوني للمتتالية الحسابية
- الأوساط الحسابية
- مجموع (ن) من حدود المتتالية الحسابية

ح<sub>١</sub> ← ٩  
ح<sub>٢</sub> ← ١٤  
ح<sub>٣</sub> ← ١٩  
ح<sub>٤</sub> ← ٢٤  
ح<sub>٥</sub> ← ٢٩



#### عمل تعاوني

- أ) أوجد الحد السادس من المتتالية المبيّنة جهة اليسار.
  - ب) أكتب صيغة للحد السادس مستخدماً الحد الخامس.
  - ج) أكتب صيغة ارتدادية للمتتالية.
- ٢) في المتتالية (٩، ١٤، ١٩، ٢٤، ٢٩، ...). الفرق بين كل حد والحد السابق له هو مقدار ثابت.
  - ٣) كَوْن متتاليتين إحداهما بإضافة عدد ثابت والأخرى بطرح نفس عدد ثابت من كل حد من حدود المتتالية الأصلية.
    - أ) أوجد ن ع طرح كل حد من الحد الذي يليه مباشرة متتابعة حصلت عليها. ماذا تلاحظ.
    - ب) ارسم في شكل بياني واحد العلاقة بين ن، ح للمتتالية الأصلية والمتتاليات التي حصلت عليها في التدريب السابق. قارن بين الرسوم الثلاثة. ماذا تلاحظ؟

#### تعريف:

المتتالية (المتتابعة) الحسابية هي متتالية ناتج طرح كل حد من الحد الذي يليه مباشرة عددًا ثابتًا. هذا الناتج يُسمى أساس المتتالية ويرمز إليه بالرمز ك. وعلى ذلك  $ح_{ن+١} - ح_{ن} = ك$  أو  $ح_{ن+١} = ح_{ن} + ك$ .

أي إنه يمكن الحصول على أي حد من حدود المتتالية الحسابية (بعد الحد الأول) وذلك بإضافة ك إلى الحد الذي يسبقه مباشرة.

#### مثال (١)

يبين أن المتتالية (٦، ١٢، ١٨، ٢٤، ...) هي متتالية حسابية.

الحل:

$$٦ = ١٨ - ٢٤ = ١٢ - ١٨ = ٦ - ١٢$$

أي أن الفرق بين كل حد وسابقه مباشرة يساوي ٦. لاحظ أن  $د = ٦$  إذا المتتالية حسابية.

#### حاول أن تحل

١) المتتالية (٢، ٥، ٧، ١٢، ...) .

المتتالية (٤٨، ٤٥، ٤٢، ٣٩، ...) .

هل هاتان المتتاليتان حسابيتان؟ إذا كان كذلك أوجد أساس كل منهما.

## مثال (٢)

إذا كان  $ح_١ = ٥$ ،  $د = ٧$  في متتالية حسابية.

اكتب الحدود الستة الأولى من المتتالية.

الحل:

$$ح_١ = ٥$$

$$ح_٢ = ح_١ + د = ٥ + ٧ = ١٢$$

$$ح_٣ = ح_٢ + د = ١٢ + ٧ = ١٩$$

الحدود الستة الأولى هي:  $٥، ١٢، ١٩، ٢٦، ٣٣، ٤٠$

وتكون المتتالية:  $(ح_١) = (٥، ١٢، ١٩، ٢٦، ٣٣، ٤٠، \dots)$

## حاول أن تحل

٢ إذا كان  $ح_١ = ٤$ ،  $د = -٣$  في متتالية حسابية، اكتب الحدود الستة الأولى من المتتالية.

## General Term of an Arithmetic Sequence

## الحد النوني للمتتالية الحسابية

إذا كان الحد الأول في المتتالية الحسابية  $(ح_١)$  هو  $ح_١$  وأساس المتتالية يساوي  $د$ . واعتبرنا الحد النوني هو  $ح_١$ . فمن تعريف المتتالية الحسابية:

$$ح_٢ = ح_١ + د$$

$$ح_٣ = ح_٢ + د$$

$$ح_٤ = ح_٣ + د$$

## وبصفة عامة

$$ح_١ = ح_١ + (١ - ١)د$$

$$ح_٢ = ح_١ + (٢ - ١)د$$

$$ح_٣ = ح_١ + (٣ - ١)د$$

$$ح_٤ = ح_١ + (٤ - ١)د$$

$$ح_١ = ح_١ + (١ - ١)د$$

(...،  $ح_١$ )

$$\text{لاحظ أن } د = \frac{ح_١ - ح_١}{١ - ١} : ن \neq ١$$

## ملاحظة:

ن تمثل رتبة الحد  $ح_١$  فتمثل قيمة الحد، فمثلاً:  $ح_٣ = ٣٥$  تعني أن قيمة الحد السابع تساوي ٣٥.

### مثال (٣)

أوجد الحد العاشر والحد المائة من المتتالية الحسابية (٨، ٦، ٤، ...).

الحل:

$$ح_١ = ٨، د = ٦ - ٨ = -٢$$

$$ح_١٠ = ح_١ + ٩د$$

$$ح_١٠ = ٨ + ٩(-٢) = -١٠ أي أن  $ح_١٠ = -١٠$$$

$$ح_١٠٠ = ح_١ + ٩٩د \quad \text{أو} \quad ح_١٠٠ = ح_١٠ + ٩٩د$$

$$١٠٠٠ = ٨ + ٩٩(-٢) \quad \text{أو} \quad ١٠٠٠ = -١٠ + ٩٩د$$

$$١٠٠٠ = ٩٩د - ١٠$$

$$١٠١٠ = ٩٩د$$

### حاول أن تحل

٣ في المتتالية الحسابية  $ح = ٤، د = ٣$

أوجد الحد  $ح_{١٢}$ .

### مثال (٤)

أوجد رتبة الحد الذي قيمته ٩٩ من المتتالية الحسابية (٧، ٩، ١١، ...).

الحل:

$$ح_١ = ٧، د = ٢، ح_١٠ = ٩٩$$

$$ح_١٠ = ح_١ + ٩د(١ - ن)$$

$$٩٩ = ٧ + ١٨(١ - ن)$$

$$٩٢ = ١٨(١ - ن)$$

$$٤٦ = ١ - ن \quad ن = ٤٧$$

أي أن الحد من المتتالية الحسابية الذي قيمته ٩٩ هو  $ح_{٤٧}$ .

### حاول أن تحل

٤ أ في المتتالية الحسابية (٢، ٥، ٨، ١١، ...)

ب أوجد عدد حدود المتتالية الحسابية (٧، ١١، ١٥، ...، ٤٧)

أوجد رتبة الحد الذي قيمته ٧١.

### مثال (٥)

في المتتالية (ح<sub>ن</sub>) حيث ح<sub>ن</sub> = ٣ - ٧ن لكل ن ∈ ص<sub>+</sub>. أثبت أن المتتالية حسابية.  
الحل:

$$ح_١ = ٣ - ٧ \cdot ١ = ٣ - ٧ = -٤$$

$$ح_٢ = ٣ - ٧(١ + ١) = ٣ - ١٤ = -١١$$

$$ح_٣ = ٣ - ٧(١ + ٢) = ٣ - ١٤ = -١١$$

= مقدار ثابت

إذا المتتالية (ح<sub>ن</sub>) حيث ح<sub>ن</sub> = ٣ - ٧ن متتالية حسابية.

### حاول أن تحل

٥ في المتتالية (ح<sub>ن</sub>) حيث ح<sub>ن</sub> = ٥ + ٣ن = ٥ + ٣ن. حيث ن ∈ ص<sub>+</sub>.  
أثبت أن المتتالية حسابية.

### مثال (٦)

إذا كان الحد الخامس من متتالية حسابية يساوي ٩ والحد الثامن يساوي ١٥ أوجد أساس المتتالية.

#### الطريقة الأولى

$$ح_٥ = ح_١ + ٤د = ٩$$

$$ح_٨ = ح_١ + ٧د = ١٥$$

$$\therefore ح_٨ - ح_٥ = ٣د = ٦$$

$$ح_١ = ٣ - ٤د$$

$$\therefore ح_٨ = ٣ - ٤د + ٧د = ٣ + ٣د = ١٥$$

$$\text{ب طرح (١) = (٢)}$$

$$\therefore ٣د = ١٢$$

$$\therefore د = ٤$$

الحل:

$$ح_٥ = ٩ = ح_١ + ٤د = ح_١ + ٤(٤) = ح_١ + ١٦$$

بالتعويض

$$٩ = ح_١ + ١٦$$

بالطرح

$$٩ = ح_١ + ١٦$$

بالتبسيط

$$٩ = ح_١ + ١٦$$

إذا أساس المتتالية الحسابية هو ٤.

### حاول أن تحل

٦ إذا كان الحد الثاني من متتالية حسابية يساوي ٩ والحد السادس يساوي -٣. أوجد أساس المتتالية ٢. أوجد المتتالية الحسابية مكثفياً بالحدود الأربعة الأولى منها.

### مثال (٧)

بفرض أنك تشارك في سباق دراجات لدعم مشروع خيري. قبل البدء بالسباق بلغت قيمة التبرعات ١١٠٠ دينار. على كل مشارك في السباق تأمين ما لا يقل عن ٣٥ دينار. أقل مبلغ من المال يتم تأمينه إذا شارك في السباق ٧٥ شخصاً؟

الحل:

أوجد الحد ٧٥ من المتتالية ح.  $1100 = 1100$  ح،  $1135 = 1135$  ح،  $1170 = 1170$  ح، ...

استخدام الصيغة الصريحة

$$ح_n = ح_1 + (n - 1)d$$

التعويض

$$ح_{75} = 1100 + (75 - 1) \times 35$$

$$= 3725$$

باشتراك ٧٥ شخصاً يتأمن مبلغ لا يقل عن ٣٧٢٥ ديناراً.

### حاول أن تحل

٧ أ في المثال كيف تجد المبلغ الذي تم تأمينه إذا كان  $ح_1 = 1100$ ؟

ب استخدم الصيغة الصريحة لإيجاد الحد الخامس والعشرون ( $ح_{20}$ ) من المتتالية (٥، ١١، ١٧، ٢٣، ٢٩، ...).

## Arithmetic Means

### الأوساط الحسابية

إذا كونت أ، ب، ج متتالية حسابية حيث أ، ب، ج هي عناصر من ح. (أعداد حقيقية)

فإن:  $ب - أ = ج - ب$

$$٢ب = أ + ج$$

$$ب = \frac{أ + ج}{٢}$$

أي أن ب هو الوسط الحسابي للعددين أ، ج.

### بصورة عامة

إذا كانت (أ، ب، ج، د، ... ف، ص) متتالية حسابية فإن (ب، ج، د، ... ف) تسمى أوساطاً حسابية للعددين أ، ص. وتسمى عملية إيجاد الأوساط الحسابية بإدخال أوساطٍ حسابية بين العددين أ، ص.

### مثال (٨)

أدخل ٥ أوساط حسابية بين ٢٣، ٦٥ .

(٦٥، ■، ■، ■، ■، ٢٣)

الحل:

$ح_١ = ٢٣$ ، عدد الحدود:  $٧ = ٥ + ٢$ ،  $ح_٧ = ٦٥$  .

$$إذًا \quad ح_٧ = ح_١ + ٦د$$

$$٦٥ = ٢٣ + ٦د$$

$$٤٢ = ٦د$$

$$٧ = د$$

الأوساط الحسابية هي ٣٠، ٣٧، ٤٤، ٥١، ٥٨ .

### حاول أن تحل

٨ أ أدخل ثلاثة أوساط حسابية بين -٩، ٣ .

ب أدخل خمسة أوساط حسابية بين ١٣، ١ .

## مجموع ن حد الأندس من حدود متتالية حسابية Sum of n Terms of an Arithmetic Sequence

مجموع ن من حدود متتالية حسابية ( $ح_n$ ) يُعطى بالقاعدة:

$$ح_n = \frac{n}{2} (ح_١ + ح_n) \quad \text{أو} \quad ح_n = \frac{n}{2} [٢ح_١ + (ن - ١)د]$$

حيث  $ح_n$  هو الحد الذي ترتيبه ن من المتتالية الحسابية وحدها الأول  $ح_١$  .

### البرهان

ليكن د أساس المتتالية فإن:

$$ح_n = ح_١ + (ح_١ + د) + (ح_١ + ٢د) + \dots + (ح_١ + (ن - ١)د) + ح_n$$

$$ح_n = ح_n + (ح_١ - د) + (ح_١ - ٢د) + \dots + (ح_١ - (ن - ١)د) + ح_١$$

بالجمع

$$٢ح_n = (ح_١ + ح_n) + (ح_١ + ح_n) + \dots + (ح_١ + ح_n) + (ح_١ + ح_n)$$

ن حد

$$٢ح_n = ن(ح_١ + ح_n)$$

$$لكن ح_n = ح_١ + (ن - ١)د$$

$$ح_n = \frac{n}{2} (ح_١ + ح_n) \quad (١)$$

بالتعويض

$$ح_n = \frac{n}{2} (ح_١ + ح_١ + (ن - ١)د)$$

$$ح_n = \frac{n}{2} [٢ح_١ + (ن - ١)د] \quad (٢)$$

القانون (١): يعطي مجموع المتتالية الحسابية بمعلومية الحد الأول والحد الأخير.

القانون (٢): يعطي مجموع المتتالية الحسابية بمعلومية الحد الأول والأساس د.

### مثال (٩)

أوجد مجموع العشرين حدًا الأولى من المتتالية الحسابية التي حدّها الأوّل ١٠ وحدّها العشرون ٥٠٠.

الحل:

$$\begin{aligned}ح_١ &= ١٠، ح_٢٠ = ٥٠٠، ن = ٢٠ \\ج_٢٠ &= \frac{ن}{٢} (ح_١ + ح_٢٠) \\ج_٢٠ &= \frac{٢٠}{٢} (١٠ + ٥٠٠) = ٥١٠٠\end{aligned}$$

### حاول أن تحل

٩ أوجد مجموع الحدود العشرة الأولى من المتتالية الحسابية التي حدّها الأوّل ١٢ وحدّها العاشر ٢٤.

### مثال (١٠)

أوجد مجموع الستة عشر حدًا الأولى من المتتالية الحسابية التي حدّها الأوّل ١٥ وأساسها ٧.

الحل:

$$\begin{aligned}ح_١ &= ١٥، د = ٧، ن = ١٦ \\ج_١٦ &= \frac{ن}{٢} [٢ح_١ + (ن-١)د] \\ج_١٦ &= \frac{١٦}{٢} (٧ \times ١٥ + ١٥ \times ٢) \\ج_١٦ &= ٨(١٠٥ + ٣٠) \\ج_١٦ &= ١٠٨٠\end{aligned}$$

### حاول أن تحل

- ١٠ أ متتالية حسابية حدّها الأوّل ٧ وأساسها ٤.  
ب أوجد مجموع أول خمسة وعشرين حد منها.

### مثال (١١)

كم حدًا يلزم أخذه من المتتالية الحسابية (١٠، ١٥، ٢٠، ...) ابتداءً من الحد الأول ليكون المجموع ٤٥٠؟  
الحل:

$$\begin{aligned} \text{ح} &= ١٠، \text{د} = ٥، \text{ج} = ٤٥٠ \\ \text{ج} &= \frac{\text{ن}}{٢} [٢\text{ح} + (\text{ن} - ١)\text{د}] \\ ٤٥٠ &= \frac{\text{ن}}{٢} [٥(١ - \text{ن}) + ٢٠] \\ ٤٥٠ &= \frac{\text{ن}}{٢} (١٥ + ٥\text{ن}) \\ ٩٠٠ &= \text{ن} + ٥\text{ن}^2 \\ ٠ &= ١٨٠ - ٣\text{ن} + ٥\text{ن}^2 \\ ٠ &= (\text{ن} + ١٥)(\text{ن} - ١٢) \\ \text{ن} &= -١٥، \text{ن} = ١٢ \end{aligned}$$

وحيث إن  $\text{ن} = -١٥$  مرفوض لأن  $-١٥ \notin \mathbb{N}$ ،  $\therefore \text{ن} = ١٢$  أي أن عدد حدود المتتالية هو ١٢.

### حاول أن تحل

- ١١ أ) كم حدًا يلزم لهذه من المتتالية الحسابية التي حدها الأول ٥ وأساسها ٣ ابتداءً من الحد الأول ليكون المجموع ٩٤٨؟  
ب) كم حدًا يلزم لهذه من المتتالية الحسابية (٣٠، ٢٥، ٢٠، ...) ابتداءً من الحد الأول ليكون المجموع ١٠٠؟

### مثال (١٢)

أراد فهد حفر بئر في مزرعته. تبلغ كلفة حفر المتر الأول ٧ دنانير وتزيد كلفة حفر كل متر دنانيرين عن كلفة حفر المتر السابق. دفع سعيد للمتعهد ٤٣٢ دينارًا. ما عمق البئر التي حفرت؟

الحل: بما أن الزيادة ثابتة: دنانيرين إذاً المتتالية حسابية. ليكن  $\text{ج}$  المبلغ المدفوع لقاء حفر  $\text{ن}$  متر.

$$\begin{aligned} \text{ج} &= \frac{\text{ن}}{٢} [٢\text{ح} + (\text{ن} - ١)\text{د}] \\ ٤٣٢ &= \frac{\text{ن}}{٢} (٢ + ٧(\text{ن} - ١)) \\ ٤٣٢ &= \text{ن} + ٦\text{ن}^2 \\ ٠ &= ٤٣٢ - ٦\text{ن} + ٦\text{ن}^2 \\ ٠ &= (\text{ن} + ١٨)(٢٤ - \text{ن}) \\ \text{ن} &= -١٨ \text{ (مرفوض)، } \text{ن} = ٢٤ \end{aligned}$$

يبلغ عمق البئر ١٨ مترًا.

### حاول أن تحل

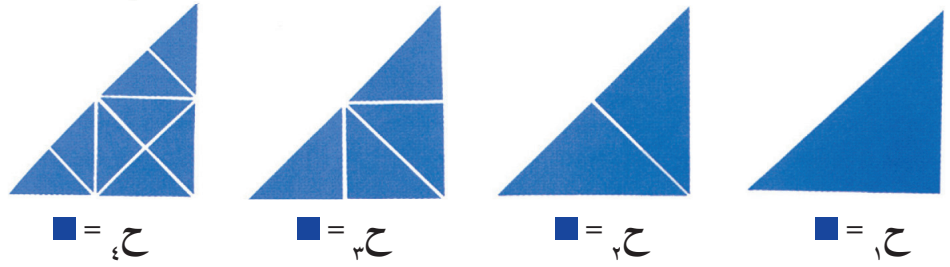
- ١٢ كم ستبلغ كلفة الحفر بالدينار إذا بلغ عمق البئر ٢٥ مترًا.



## المتتالية الهندسية Geometric Sequence

### سوف تتعلم

- المتتالية الهندسية وأساسها
- الحد النوني للمتتالية الهندسية
- الأوساط الهندسية
- مجموع (ن) الحد الأول من حدود متتالية هندسية



### عمل تعاوني

- ارسم مثلثًا قائم الزاوية ومتطابق الضلعين.
- قُصّ المثلث إلى مثلثين قائمي الزاوية، وكل منهما متطابق الضلعين.
- كرّر الشيء نفسه كما بالشكل واحسب عدد المثلثات في كل مرة.

هل الحدود الناتجة تكون متتالية حسابية؟ وإذا كانت بالنفي فلماذا؟

ماذا تلاحظ عن العلاقة بين الحدود الناتجة؟

هل يمكنك إيجاد الحد السادس ح<sub>٦</sub>؟

هل يمكنك إيجاد الحد السادس ح<sub>٦</sub> بدلالة الخامس ح<sub>٥</sub>؟

هل يمكنك إيجاد الحد النوني ح<sub>ن</sub> بدلالة الحد ح<sub>ن-١</sub>؟

**جملة مفتوحة:** في المتتالية السابقة اضرب كل من حدود المتتالية في عدد ثابت غير صفري واكتب المتتالية الجديدة الناتجة.

ما العلاقة التي تجدها بين المتتاليتين؟

لنأخذ المتتالية (١، ٢، ٤، ٨، ١٦، ...) . لاحظ النمط المتمثل في كل حد وسابقه.

### تعريف:

المتتالية الهندسية: هي متتالية ناتج قسمة أي حد فيها على الحد السابق له مباشرةً، يساوي عددًا حقيقيًا ثابتًا غير صفري، هذا العدد يسمى أساس المتتالية الهندسية ويرمز إليه بالرمز  $r$ .

فمثلًا المتتالية (٥، ١٠، ٢٠، ٤٠) متتالية هندسية.

أما (٥، ١٠، ١٥، ٢٠، ...) فليست متتالية هندسية.

### تعريف:

المتتالية (ح<sub>ن</sub>) تُسمى متتالية هندسية إذا كان  $r = \frac{ح_{ن+1}}{ح_n}$  حيث  $ح_n \neq 0$ .

لكل  $n$  من  $ح$ ،  $r$  عدد حقيقي ثابت يسمى أساس المتتالية الهندسية **common ratio**

لماذا أي حد في المتتالية الهندسية لا يمكن أن يساوي الصفر؟

### مثال (١)

أثبت أن المتتالية (ح<sub>ن</sub>) متتالية حيث ح<sub>ن</sub> = ٣<sup>ن</sup>.

أ) اكتب الحدود الخمسة الأولى من المتتالية (ح<sub>ن</sub>).

ب) أثبت أن (ح<sub>ن</sub>) متتالية هندسيّة.

الحل:

$$\begin{aligned} \text{ح}_١ &= ٣ = ٣^١ \\ \text{ح}_٢ &= ٩ = ٣^٢ \\ \text{ح}_٣ &= ٢٧ = ٣^٣ \\ \text{ح}_٤ &= ٨١ = ٣^٤ \\ \text{ح}_٥ &= ٢٤٣ = ٣^٥ \end{aligned}$$

الحدود الخمسة الأولى هي: ٣، ٩، ٢٧، ٨١، ٢٤٣.

∴ المتتالية (ح<sub>ن</sub>) = (٣، ٩، ٢٧، ٨١، ٢٤٣، ...)

$$\text{ب) } \frac{\text{ح}_٣}{\text{ح}_٢} = \frac{٢٧}{٩} = ٣ = \frac{\text{ح}_٤}{\text{ح}_٣} = \frac{٨١}{٢٧} = \frac{\text{ح}_٥}{\text{ح}_٤} = ٣ = \text{مقدار ثابت.}$$

∴ المتتالية هندسيّة.

### حاول أن تحل

١) أثبت أن المتتالية (ح<sub>ن</sub>) حيث ح<sub>ن</sub> = (٢)<sup>ن</sup>، هي هندسيّة.

## General term of an Geometrie Sequence

## الحد النوني للمتتالية الهندسيّة

إذا كانت (ح<sub>ن</sub>) متتاليّة هندسيّة أساسها  $r \neq ٠$  فإن  $\text{ح}_١ = \text{ح}_١ \times r^{١-١}$  حيث ح<sub>١</sub> الحد الأول، ح<sub>ن</sub> هو الحد النوني،  $r$  هو أساس المتتاليّة الهندسيّة.

إذا كان الحد المعروف ح<sub>ك</sub> فإن ح<sub>ن</sub> = ح<sub>ك</sub> ×  $r^{١-ك}$

$$\text{ومنه يكون } \frac{\text{ح}_١}{\text{ح}_ك} = \frac{\text{ح}_١ \times r^{١-١}}{\text{ح}_ك \times r^{١-ك}} = r^{١-ك}$$

$$\text{أي أن } \text{ح}_١ = \text{ح}_ك \times r^{١-ك}$$

ويكون ح<sub>٢</sub> = ح<sub>١</sub> ×  $r$ ، ح<sub>٣</sub> = ح<sub>١</sub> ×  $r^٢$ ، ح<sub>٤</sub> = ح<sub>١</sub> ×  $r^٣$ ، ...

وتكون الصورة العامة للمتتاليّة الهندسيّة ح<sub>١</sub>، ح<sub>١</sub> ×  $r$ ، ح<sub>١</sub> ×  $r^٢$ ، ...، ح<sub>١</sub> ×  $r^{١-ن}$ ، ...

### مثال (٢)

اكتب الحدود الخمسة الأولى من المتتالية الهندسية التي حدها الأول ٩ وأساسها ٣.

الحل:

$$ح_١ = ٩ ، ح_٢ = ٣$$

$$ح_٢ = ح_١ \times ٣ = ٩ \times ٣ = ٢٧$$

$$ح_٣ = ح_٢ \times ٣ = ٢٧ \times ٣ = ٨١$$

$$ح_٤ = ح_٣ \times ٣ = ٨١ \times ٣ = ٢٤٣$$

$$ح_٥ = ح_٤ \times ٣ = ٢٤٣ \times ٣ = ٧٢٩$$

المتتالية هي (٩، ٢٧، ٨١، ٢٤٣، ٧٢٩، ...)

∴ الحدود الخمسة الأولى هي: (٩، ٢٧، ٨١، ٢٤٣، ٧٢٩)

### حاول أن تحل

٢ اكتب الحدود الأربعة الأولى من المتتالية الهندسية التي حدها الأول ٥ وأساسها ٣.

### مثال (٣)

متتالية هندسية حدها الأول ٤ وحدها السادس ١٢٨. اكتب الحدود الأربعة الأولى من المتتالية.

الحل:

$$الحد الأول: ح_١ = ٤ ، الحد السادس: ح_٦ = ١٢٨$$

$$نعلم أن ح_٦ = ح_١ \times ر^{٦-١}$$

$$ح_٦ = ح_١ \times ر^٥$$

$$١٢٨ = ٤ \times ر^٥$$

$$٣٢ = ر^٥ ∴ ر = ٢$$

∴ الحدود الأربعة الأولى هي ٤، ٨، ١٦، ٣٢.

المتتالية هي: (٤، ٨، ١٦، ٣٢، ...)

### حاول أن تحل

٣ متتالية هندسية حدها الأول ٢٧ وحدها الخامس  $\frac{1}{٣}$ . اكتب الحدود الخمسة الأولى منها.

### مثال (٤)

متتالية هندسية حدودها موجبة، ومجموع الحدين الأول والثاني ٣٦، وحدها الثالث يساوي ٣. أوجد الحد الخامس.  
الحل:

$$\begin{aligned} & ح_١ + ح_٢ = ٣٦، ح_٣ = ٣ \\ & \text{في المتتالية الهندسية يكون } ح_٣ = ح_١ \times ر^{٣-١} \end{aligned}$$

$$\therefore ح_١ + ح_٢ = ٣٦ = ح_١ + ح_١ ر$$

$$ح_١ (١ + ر) = ٣٦ \quad (١)$$

$$ح_١ ر^٢ = ٣$$

$$\text{بالقسمة} \quad \frac{٣}{٣٦} = \frac{ح_١ ر^٢}{ح_١ (١ + ر)}$$

$$\frac{١}{١٢} = \frac{ر^٢}{١ + ر}$$

$$١ + ر = ١٢ ر^٢$$

$$٠ = ١ - ر - ١٢ ر^٢$$

$$٠ = (١ - ر٣)(١ + ر٤)$$

$$ر = -\frac{١}{٤} \text{ (مرفوض لأن الحدود موجبة)، } ر = \frac{١}{٣}$$

$$\text{بالتعويض في (١) } ح_١ \times \left( \frac{١}{٣} + ١ \right) = ٣٦$$

$$ح_١ = \frac{٣}{٤} \times ٣٦ = ٢٧$$

$$ح_٤ = ح_١ \times ر^٣$$

$$= ٢٧ \times \left( \frac{١}{٣} \right)^٣ = \frac{١}{٣}$$

$$\text{الحد الخامس} = \frac{١}{٣}$$

### الضرب التقاطعي

#### ملاحظة:

- النسبة المئوية التزايدية القيمة النهائية والقيمة الأصلية  $\times (١٠٠\% + \text{النسبة المئوية التزايدية})$ .
- النسبة المئوية التناقصية القيمة النهائية = القيمة الأصلية  $\times (١٠٠\% - \text{النسبة المئوية التناقصية})$ .

### حاول أن تحل

٤ (ح) متتالية هندسية، مجموع حديها الأول والثاني يساوي ٢، ومجموع حديها الثالث والرابع يساوي ٨.

أوجد الحد الأول والحد الخامس منها.

### مثال (٥)

### مسألة حياتية

يزداد عدد سكان مدينة بمعدل ثابت ٢٪ كل سنة. فكم يكون عدد سكان هذه المدينة في داية السنة السادسة إذا كان عددهم الحالي ٤٠٠٠٠٠٠ نسمة؟

الحل:

عدد السكان في بداية السنة الأولى: ح<sub>١</sub> = ٤٠٠٠٠٠٠ نسمة.

النسبة المئوية للتزايد = ٢٪

عدد السكان من بداية السنة الحالية = عدد السكان من السنة السابقة × (١٠٠٪ + النسبة المئوية للتزايد).

عدد السكان من بداية السنة الثانية = ح<sub>٢</sub> = ٤٠٠٠٠٠٠ × (١٠٠٪ + ٢٪)

= ٤٠٠٠٠٠٠ × (١,٠٢)

عدد السكان من بداية السنة الثالثة = ح<sub>٣</sub> = ح<sub>٢</sub> × (١,٠٢)

= ٤٠٠٠٠٠٠ × (١,٠٢)<sup>٢</sup>

... وهكذا

مما سبق يتضح أن متتالية تزايد السكان هي متتالية هندسية أساسها (١,٠٢)

الحد النوني لها هو

$$ح_٥ = ح_١ \times (١,٠٢)^{٥-١}$$

عدد السكان من بداية السنة السادسة = ح<sub>٦</sub> = ٤٠٠٠٠٠٠ × (١,٠٢)<sup>٥</sup>

$$\simeq ٤٤١٦٣٢$$

يبلغ عدد سكان المدينة من بداية السنة السادسة ٤٤١٦٣٢

### حاول أن تحل

٥ من بداية السنة السادسة حيث أصبح عدد سكان المدينة ٤٤١٦٣٢ نسمة تم إقفال أحد المصانع الكبيرة مما أدى إلى هجرة العديد من السكان بمعدل ٤٪ سنوياً بعد حوالي كم سنة يصبح عدد سكان المدينة ٤٠٠٠٠٠؟

### مثال (٦)

الخلية البكتيرية الواحدة التي تنجح في دخول جسم الإنسان يمكنها أن تتكاثر في متتالية هندسية لوقت طويل إذا لم تتم مهاجمتها بالجهاز المناعي للجسم.

فالبكتيريا تتكاثر بالانقسام الثنائي، والعديد من البكتيريا يمكنه أن يتكاثر كل ٢٠ دقيقة. ففي الساعة الواحدة يمكن للبكتيريا الواحدة أن تصبح ثمانية. دخلت بكتيرية واحدة جسم الإنسان. كم يصبح عدد البكتيريا في الجسم بعد ١٠ ساعات؟



الحل:

عدد البكتيريا بعد مرور ساعة واحدة = ح<sub>١</sub> = ٨

عدد البكتيريا بعد مرور ساعتين = ح<sub>٢</sub> = ٨ × ٨

عدد البكتيريا بعد مرور ٣ ساعات = ح<sub>٣</sub> = (٨ × ٨) × ٨ = ٨<sup>٣</sup>

... وهكذا

يشكل تكاثر البكتيريا متتالية هندسية أساسها ٨ وحدها الأول ٨ الحد النوني لها هو.

$$ح_٥ = ٨ \times ٨^4$$

عدد البكتيريا بعد مرور ١٠ ساعات = ح<sub>١٠</sub> = ٨ × ٨<sup>٩</sup>

$$= ١٠٧٣٧٤١٨٢٤$$

أي حوالي مليار و٧٤ مليون بكتيريا.

حاول أن تحل

٦ إذا كانت البكتيريا تتكاثر بالانقسام كل ١٥ دقيقة فكم تصبح بكتيريا واحدة في جسم الإنسان بعد ١٢ ساعة؟

## Geometric Means Between two Numbers

## الأوساط الهندسية بين عددين

إذا كَوَّنت  $١$ ،  $ب$ ،  $ج$  متتالية هندسية حيث  $١$ ،  $ب$ ،  $ج$  أعداد حقيقية غير صفرية حيث  $١ < ب < ج$  فإن:  $\frac{ب}{١} = \frac{ج}{ب}$  ومنه  $ج = ب^٢$

$$\therefore ج = \sqrt{١ب}$$

يسمى  $ج$  وسطاً هندسياً بين العددين  $١$ ،  $ب$ ، أي أن:  $\sqrt{١ب}$  أو  $\sqrt{ب١}$  وسطاً هندسياً بين العددين  $١$ ،  $ب$ .

مثال (٧)

أوجد وسطاً هندسياً بين العددين  $\frac{١}{٣}$ ،  $٢٧$

الحل:

$$\text{الوسط الهندسي: } \sqrt{\frac{١}{٣} \times ٢٧} = \sqrt{٩} = ٣$$

$$\text{أو الوسط الهندسي: } -\sqrt{\frac{١}{٣} \times ٢٧} = -\sqrt{٩} = -٣$$

حاول أن تحل

ج ٣، ٧٥، ١٨

ب ٢٠، ٨٠

أ ٣-، ٧٢

### بصورة عامّة

في المتتاليّة الهندسيّة (١، ب، ج، د، ... ك، ل). تسمى ب، ج، د، ... ك أوساطاً هندسيّة للعديدين الحقيقيّين ١، ل. وتسمى عملية إيجاد ب، ج، د، ... ك بعملية إدخال أوساط هندسيّة بين العددين ١، ل.

### مثال (٨)

عندما يتأرجح ولد دون تأثير قوة خارجية فإن مقاومة الهواء تؤدي إلى تناقص في طول قوس التآرجح. ويشكل التناقص في طول القوس متتالية هندسيّة. أوجد الوسط الهندسي لطولي القوسين.

الحل:

$$\sqrt{27 \times 3}, 27 = \text{الوسط الهندسي}$$

$$\sqrt{8, 96} =$$

$$3 \approx$$

### حاول أن تحل

٨ يتدرّب عماد على القفزة الثلاثية. حقق في المحاولة الأولى ٨, ٨ أمتار وفي المحاولة الثانية حقق ٢, ٩ أمتار. ما الوسط الهندسي لطولي القفرتين؟

### مثال (٩)

أدخل خمسة أوساط هندسيّة موجبة بين ٥١٢ و٨.

الحل:

$$ح_١ = ٥١٢$$

$$ح_٢ = ٨ \text{ أي أن } ح_١ = ٨$$

$$\therefore ح_٢ = ح_١ \times ر^{١-٢}$$

$$\therefore ٨ = ٥١٢ \times ر^{-١}$$

$$\frac{١}{٦٤} = \frac{٨}{٥١٢} = ر^{-١}$$

$$ر^{-١} = \left(\frac{١}{٦٤}\right)^{-١}$$

$$ر = \frac{١}{٦٤} \text{ أو } ر = -\frac{١}{٦٤} \text{ مرفوضة لأن الأوساط موجبة.}$$

الأوساط هي: ١٦, ٣٢, ٦٤, ١٢٨, ٢٥٦.

## حاول أن تحل

٩ أدخل ثمانية أوساط هندسية بين ٢، ١٠٢٤.

## Sum of n Terms of a Geometric Sequence

## مجموع ن حداً الأولى من متتالية هندسية

إذا كان (ح<sub>ن</sub>) متتالية هندسية

$$ج_n = ح_1 + ح_2 + ح_3 + \dots + ح_n$$

هو مجموع ن حداً الأولى

$$ج_n = ح_1 + ح_1 ر + ح_1 ر^2 + \dots + ح_1 ر^{n-1} \quad (1)$$

∴  $ر \neq 1$ ، بضرب طرفي (١) في ر

$$ر ج_n = ر ح_1 + ر ح_2 + ر ح_3 + \dots + ر ح_n \quad (2)$$

بطرح (١) من (٢) وبالتبسيط ينتج:

### قانون

إذا كانت (ح<sub>ن</sub>) متتالية هندسية،  $ج_n = ح_1 + ح_2 + ح_3 + \dots + ح_n$  هو مجموع ن حداً الأول فإن:

$$1 \quad ج_n = ح_1 \times \frac{1-ر^n}{1-ر} \text{ أو } ج_n = ح_1 \times \frac{1-ر^n}{1-ر} ; ر \neq 1$$

$$2 \quad \text{إذا كانت } ر = 1 \text{ فإن } ج_n = ن ج_1$$

لاحظ أنه من (١) إذا كانت  $د = 1$  فإن  $ج_n = ن ح_1$ .

### البرهان

ليكن د أساس المتتالية فإن:

$$(1) \quad ج_n = ح_1 + ح_2 + ح_3 + \dots + ح_n$$

ي ضرب طرفي المعادلة (١) في  $ر \neq 1$

$$ر ج_n = ر ح_1 + ر ح_2 + ر ح_3 + \dots + ر ح_n$$

بطرح (١) من (٢) وبالتبسيط ينتج:

$$ر ج_n - ج_n = ر ح_1 - ح_1 + ر ح_2 - ح_2 + \dots + ر ح_n - ح_n$$

$$ج_n (ر - 1) = (ر - 1) ح_1 + (ر - 1) ح_2 + \dots + (ر - 1) ح_n$$

$$ج_n = ح_1 + ح_2 + \dots + ح_n ; ر \neq 1$$

أما إذا كانت  $ر = 1$  فإن حدود المتتالية متساوية ويساوي مجموع الحدود قيمة الحد الأول مضروباً بعدد الحدود أي

$$ج_n = ن ح_1$$



### مثال (١٠)

أوجد مجموع العشرة حدود الأولى من المتتالية الهندسية (٢، ٤، ٨، ...) .  
الحل:

$$ح_١ = ٢ = ر \quad ح_٢ = \frac{٤}{٢} = ر \quad ح_٣ = \frac{٨}{٤} = ر \quad ح_٤ = \frac{١٦}{٨} = ر \quad ح_٥ = \frac{٣٢}{١٦} = ر \quad ح_٦ = \frac{٦٤}{٣٢} = ر \quad ح_٧ = \frac{١٢٨}{٦٤} = ر \quad ح_٨ = \frac{٢٥٦}{١٢٨} = ر \quad ح_٩ = \frac{٥١٢}{٢٥٦} = ر \quad ح_{١٠} = \frac{١٠٢٤}{٥١٢} = ر$$

$$ج_n = ح_١ \frac{١-ر^n}{١-ر}$$

$$ج_n = \frac{(١-١٠٢) \times ٢}{(١-٢)}$$

$$ج_n = ٢ \times ١٠٢٣ = ٢٠٤٦$$

### حاول أن تحل

١٠ أوجد مجموع الحدود الثمانية الأولى من المتتالية الهندسية ٣، ٩، ٢٧، ...

### مثال (١١)

الحد الأول من متتالية هندسية يساوي ٨ والحد الثالث يساوي  $\frac{٨}{٩}$  . أوجد مجموع الحدود الستة الأولى .  
الحل:

∴ المتتالية هندسية

$$∴ ح_٣ = ر^٢ ح_١$$

$$\frac{٨}{٩} = ر^٢ \times ٨$$

$$ر = \frac{٨}{٩}$$

$$ر = \frac{١}{٣} \text{ أو } ر = -\frac{١}{٣}$$

$$ر = \frac{٨}{٩}$$

$$ج_٦ = \frac{٨ \left( \left( \frac{٨}{٩} \right)^6 - 1 \right)}{\frac{٨}{٩} - 1}$$

$$ج_٦ = \frac{٨ \left( \left( \frac{١}{٣} \right)^6 - 1 \right)}{\frac{١}{٣} - 1}$$

$$ج_٦ = \frac{٨ \left( \left( \frac{١}{٣} \right)^6 - 1 \right)}{\frac{١}{٣} - 1}$$

$$ج_٦ = \frac{٨ \left( \left( \frac{١}{٣} \right)^6 - 1 \right)}{\frac{٤}{٣}}$$

$$\frac{1456}{243} = 5,990 \approx$$

$$\frac{2912}{243} = 11,98 \approx$$

حاول أن تحل

١١ أوجد مجموع الحدود العشرة الأولى من المتتالية الهندسية (٤، ١، ١/٣، ...)

مثال (١٢)

فكرت عائلة محمد بأن تقوم برحلة في أول شهر سبتمبر لمدة أسبوع وكانت تكاليف الرحلة ١٣٧٥٠ دينارًا. ولكي تتوفر لدى محمد هذه التكلفة بدأ يوفر من مصاريفه ١٢٥٠ دينارًا ابتداءً من شهر مارس وعلى أن يزيد ما يوفره بمقدار ٢٠٪ كل شهر عن الشهر السابق له. هل يمكن أن يوفر محمد كل تكلفة الرحلة حتى يقوم بها في أول سبتمبر؟  
الحل:

إذا وفر محمد س دينارًا في شهر ما، فسيوفر في الشهر التالي:

$$س + \frac{20}{100} \times س = س + 0,2س = 1,2س$$

تشكل المبالغ المالية التي يوفرها محمد شهريًا متتالية هندسية أساسها ١,٢.

$$\text{يعطي القانون ج}_n = ح_1 \times \frac{1-r^n}{1-r} \text{ مجموع ما يوفره محمد حيث } ح_1 = 1250, r = 1,2 \text{ ج}_6 = \frac{1-(1,2)^6}{1-1,2} \times 1250 = 12412,4 \text{ دينارًا.}$$

باستخدام الآلة الحاسبة

لا تستطيع عائلة محمد القيام بالرحلة في أول سبتمبر.

حاول أن تحل

١٢ في المثال (١٢) هل تستطيع العائلة القيام بالرحلة إذا جعلت التوفير ٢٥٪ زيادة عن كل شهر سابق؟

## رمز المجموع

يمكن استخدام رمز المجموع  $\sum$  (سيجما) لكتابة مجموعة حدود متتالية.

$$\sum_{n=1}^{13} \frac{5}{2} n$$

الحد الأعلى أكبر قيمة لـ  $n$  → 13  
الحد الأدنى أصغر قيمة لـ  $n$  → 1  
الصيغة الصريحة للمتتالية

لكتابة:  $\sum_{n=1}^{45} 5 + \dots + 4 + 3 + 2 + 1$   
لكتابة:  $\sum_{n=1}^{10} 21 + 22 + 23 + 24 + \dots + 10$

كذلك لكتابة:  $(1 - 3 \times 2) + (1 - 4 \times 2) + (1 - 5 \times 2) + (1 - 6 \times 2) + \dots + (1 - 15 \times 2) + 1 - 2$

### مثال (١٢)

أ) أوجد قيمة  $\sum_{n=1}^{13} \frac{5}{2} n$ .

الحل:

$$\begin{aligned} \sum_{n=1}^{13} \frac{5}{2} n &= (13) \times \frac{5}{2} + \dots + (3) \times \frac{5}{2} + (2) \times \frac{5}{2} + (1) \times \frac{5}{2} \\ &= (13 + \dots + 3 + 2 + 1) \times \frac{5}{2} \\ &= \frac{14 \times 13}{2} \times \frac{5}{2} \\ &= 227,5 \end{aligned}$$

ب) استخدم رمز المجموع  $\sum$  لكتابة:  $3 + 6 + 9 + \dots + (33 \text{ حدًا})$

الحل:

$$\begin{aligned} 3 \times 3 &= 9, \quad 2 \times 3 = 6, \quad 1 \times 3 = 3 \\ \text{نكتب } \sum_{n=1}^{33} 3n & \text{ (الحد الأدنى 1 والحد الأقصى 33).} \end{aligned}$$

### حاول أن تحل

١٢ أوجد الحد الأول والحد الأخير ثم المجموع:  $\sum_{n=1}^{33} (2 - 3n)$

### معلومة رياضية:

مجموع أول 13 عدد طبيعي  
 $\frac{14 \times 13}{2} =$   
وبالعموم: مجموع أول  $n$   
عدد طبيعي  $= \frac{(1+n) \times n}{2}$

مثال (١٣)

أ أوجد قيمة  $\sum_{n=3}^9 (4-n)$

الحل:

$$(4-9 \times 6) \dots + (4-5 \times 6) + (4-4 \times 6) + (4-3 \times 6) = (4-n) \sum$$

$$4 \times 7 - (9 + \dots + 5 + 4 + 3) \times 6 =$$

$$28 - 42 \times 6 =$$

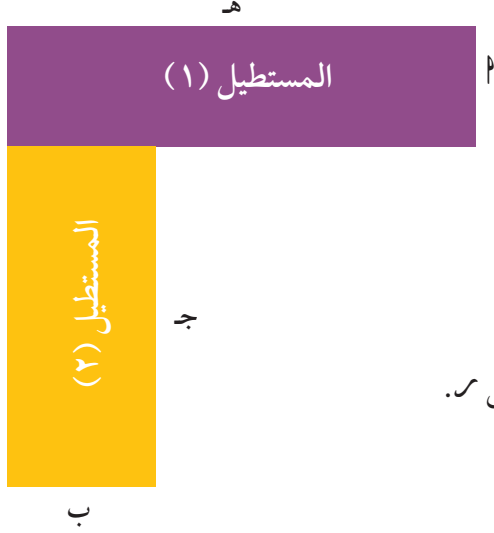
$$224$$

حاول أن تحل

١٣ أوجد قيمة:  $\sum_{n=4}^{\wedge} (5+n)$

## المرشد لحل المسائل

١ في الشكل المقابل إذا كانت الأعداد  $أ$ ،  $ب$ ،  $ج$ ،  $هـ$  هي، في هذا الترتيب، لأربعة الأولى متعاقبة من متتالية هندسية أساسها  $ر$ .



أ قارن بين مساحتي المستطيلين.

ب بفرض أن هذه الأعداد هي، في هذا الترتيب،

الأربعة حدود الأولى من متتالية حسابية أساسها  $د$

قارن بين محيطي المستطيلين.

٢ كيف فكر محمد وحل المسألة

أ في المتتالية الهندسية كل حد يساوي الحد الذي يسبقه مضروباً بالأساس  $ر$ .

$$\text{إذا } أ = ر، ج = ر = ب = ر = ٢ر، هـ = ج = ر = ٣ر$$

مساحة المستطيل = الطول  $\times$  العرض

$$\text{ومنه مساحة المستطيل (١) } = ٢ \times هـ = ٢ \times ٣ر = ٦ر$$

$$\text{مساحة المستطيل (٢) } = ب \times ج = ٢ \times ر = ٢ر$$

الاستنتاج: وهكذا استنتج محمد أن مساحتي المستطيلين متساويتين.

ب بما أن المتتالية حسابية أساسها  $د$  فإن  $ب = د + ٢$ ،  $ج = د + ٥$ ،  $هـ = د + ٣$ ،  $د = د$

$$\text{محيط المستطيل (١) } = ٢ \times (هـ + ب) = ٢ \times (٣ر + ٢ر) = ١٠ر$$

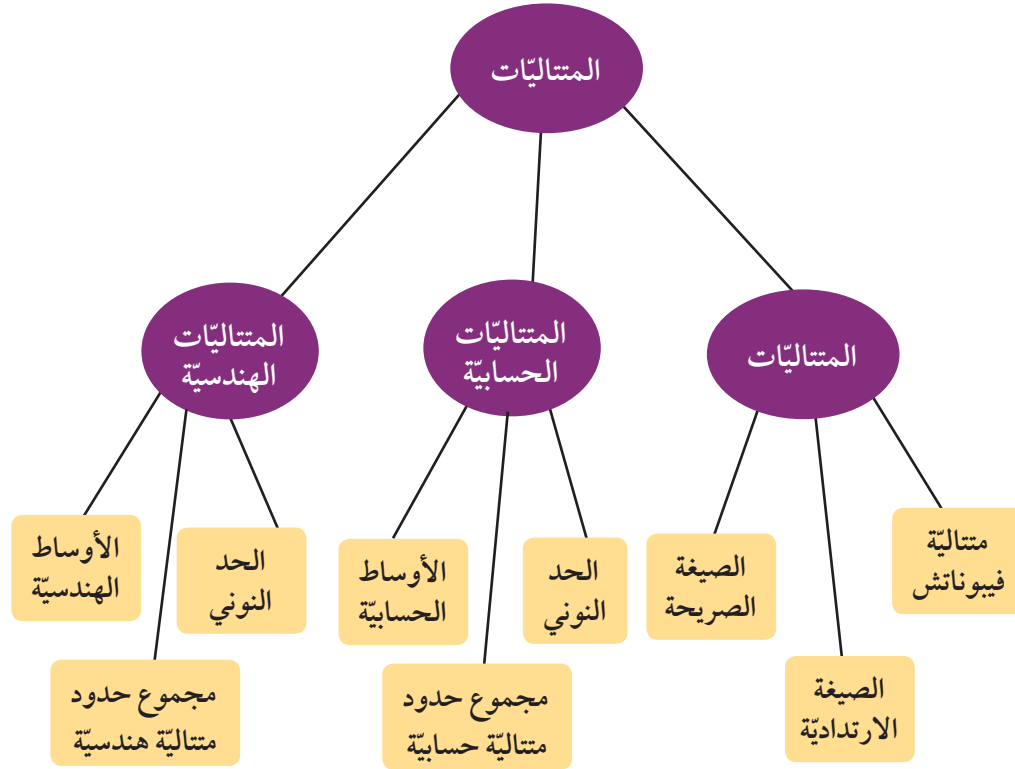
$$\text{محيط المستطيل (٢) } = ٢ \times (ب + ج) = ٢ \times (٢ر + ٥ر) = ١٤ر$$

الاستنتاج: للمستطيلين المحيط نفسه.

٣ مسألة ثانية

قارن بين مساحتي المستطيلين (١)، (٢) في الحالة (ب).

## مخطط تنظيمي للوحدة الخامسة



### ملخص

- تعرّف الصيغة الارتدادية حدود المتتالية بربط كل حد بالحد (أو بالحدود) الذي يسبقه مباشرة.
- تعبّر الصيغة الصريحة عن الحد النوني بدلالة  $n$ .
- متتالية فيبوناتش:  $F_n = F_{n-1} + F_{n-2}$  مع  $F_1 = 1$ .
- في المتتالية الحسابية يكون الفرق بين كل حد والحد السابق له عددًا ثابتًا يسمى أساس المتتالية.  $C_{n+1} = C_n + d$ .
- الحد النوني للمتتالية الحسابية:  $C_n = C_1 + (n-1)d$ .
- إذا كوّنت  $A$ ،  $B$ ،  $C$  متتالية حسابية فإن  $B = \frac{A+C}{2}$ .  $B$  هو الوسط الحسابي لـ  $A$ ،  $C$ .
- مجموع  $n$  حد الأول من حدود متتالية حسابية:  $C_n = \frac{n}{2}(C_1 + C_n)$ .
- في المتتالية الهندسية ناتج قسمة أي حد فيها على الحد السابق له مباشرة يساوي عددًا ثابتًا يسمى أساس المتتالية الهندسية  $C_{n+1} = C_n \times r$  أساس المتتالية الهندسية.
- $\sqrt[n]{A}$  أو  $\sqrt[n]{B}$  هو الوسط الهندسي للعددين الموجبين  $A$ ،  $B$ .
- مجموع  $n$  حدًا الأدنى من حدود متتالية هندسية:  $C_n = \frac{1-r^n}{1-r} \times C_1$ .
- إذا كوّنت  $A$ ،  $B$ ،  $C$  متتالية هندسية فإن  $B^2 = A \times C$ .  $B$  هو الوسط الهندسي لـ  $A$ ،  $C$ .